



CLASSMATE

EN İYİ OKUL ARKADAŞIM

SÜREÇ İZLEME VE GELİŞİM DEĞERLENDİRME

5'li Deneme

Sözel Bölüm

Ad

Soyad

Sınıf

Numara

1

• 50 SORU • 75 DAKİKA

Ekim ayı sonuna kadar olan konuları kapsamaktadır.

5

• SINIF



Optik Okuma Destekli
ve Video Çözümlü

Tüm Soruların Video Çözümü
akillioretim.com'da



1. Bu testte 20 soru vardır.
2. Cevaplarınızı kitapçık sonundaki cevap anahtarına kurşun kalemle işaretleyiniz.

1. I. Zamanı aşmak, geride bırakmak
II. Kabul edilemez olmak
III. Zaman tükenmek
"Geçmek" **sözcüğü**, **aşağıdakilerin hangisinde bu anlamlarından biriyle kullanılmamıştır?**

- A) Bütün günüm kitapları incelemekle geçti.
B) Senin paran burada geçmez, hesabı ben öderim.
C) İçindeki öfke bir süre sonra tamamen geçmişti.
D) Saat beşi geçerken iş yerinden çıktım.

2. Büyük dedesinden aileye kalan hatırı sayılır servet sayesinde yıllarca refah içinde yaşamıştı.

Bu cümledeki altı çizili deymi anlamca karşılayan bir ifade aşağıdakilerin hangisinde vardır?

- A) O küçük dükkândan kendine yetecek geliri elde ediyordu.
B) Kurduğu şirket sayesinde oldukça çok para kazanmıştı.
C) Yolun ortasında duran kocaman taşı birlikte kaldırdık.
D) Şehre yakın bir yerden geniş bir arazi satın almıştı.

3. Ayşegül öğretmen, eş anlamlı sözcüklerle bir tombala oyunu hazırlamış ve tombala kartlarında yazılı sözcüklerin eş anlamlılarını torbadan çekilecek pullara yazmıştır. Torbadan çekilen pulun üstündeki sözcüğün eş anlamlısı hangi öğrencinin kartında yazılı ise pul o sözcüğün üstüne konmuştur. Bu oyunu kazanan Özge'nin kartı aşağıda verilmiştir.

Anı		Doruk		İrmak
	Millet		Güç	
Sene		Yurt		Fayda

Buna göre aşağıdakilerin hangisinde verilen pulların tamamı Özge'nin tombala kartına konmuştur?

- A)
- B)
- C)
- D)

4. Geleceği görmek istiyorsan geçmişini öğren.
Aşağıdakilerden hangisi anlamca bu cümleye en yakındır?

- A) Tarihini bilen toplumlar, bugününü en güzel şekilde inşa edebilir.
- B) İnsan, gelecekte yiyeceği ekmeğin buğdayını bugün eker.
- C) Gelecek binası, ancak geçmiş temelinin üstüne kurulabilir.
- D) Sürekli geleceği düşünmek, bugünü kaybetmeye sebep olur.

5. I. kusursuz
II. değerlidir
III. altın
IV. kusurlu
V. taştan

Numaralanmış sözcüklerle anlamlı ve kurallı bir cümle oluşturulduğunda sıralama aşağıdakilerden hangisi olur?

- A) I - III - IV - V - II
- B) I - V - II - IV - III
- C) IV - III - I - V - II
- D) IV - III - II - I - V

6. (I) Ardahan - Kars sınırındaki Çıldır Gölü'nde sazan avı yapılıyor. (II) Ancak göldeki sazanların sayısı her geçen yıl biraz daha azalıyor. (III) Sazanların üreme alanları suların çekilmesiyle giderek daralıyor. (IV) Tekne balıkçıları, işlerin bozulmasından dert yaniyor. (V) Balıkçıların bir kısmı artık başka işlere yöneliyor.

Bu metinde numaralanmış cümlelerden hangisi kendisinden önceki yargının gerekçesidir?

- A) II
- B) III
- C) IV
- D) V

7. Bir dilin yabancı sözcüklerin istilasına uğramasından daha kötü bir şey varsa o da yabancı dillerdeki ekleri almasıdır. Eklerin getirdiği bu yabancılaşma, dilin kendi sözcüklerinin bozulmasına yol açar. Bir ek, dildeki birçok sözcüğü etkiler. Yabancılaşma, dilin öz eklerinin zamanla unutulmasına yol açar.

Bu metnin anahtar sözcükleri aşağıdakilerin hangisinde doğru verilmiştir?

- A) Dil - ek - yabancılaşma
- B) Yabancı - istila - bozulma
- C) Dil - ek - sözcük
- D) Yabancılaşma - dil - zaman

8. Turizm, bir ülkeye döviz girişini sağlayan en önemli etkinliktir. Turizmle gelen döviz, ülkenin ithalat ihtiyacında kullanılır. Bununla birlikte turizm, birçok insana iş imkânı sunarak işsizliğin azalmasına katkıda bulunur. Turizm sektöründe çalışanlar, kazançlarını başka sektörlerde harcayarak ekonomiyi canlandırır.

Bu metnin konusu aşağıdakilerden hangisidir?

- A) Ülkeye döviz getiren sektörler
- B) Turizmin diğer sektörlerle ilişkisi
- C) İşsizliği azaltmanın yolları
- D) Turizmin ülke ekonomisine katkısı



1. Bu testte 10 soru vardır.
2. Cevaplarınızı kitapçık sonundaki cevap anahtarına kurşun kalemle işaretleyiniz.

1. Yanda Şule'nin oturduğu apartmana ait bir görsele yer verilmiştir. Şule, sınıf arkadaşları ve kuzenleriyle birlikte aynı apartmanda oturmakta onlarla birlikte aynı servisi kullanarak okula gitmektedir. Okuldan geldikten sonra da yine onlarla birlikte mahallede oyun oynamaktadır.

Verilen bilgi ve görselden hareketle aşağıdaki ifadelerden hangisine ulaşamaz?

- A) Şule'nin birden fazla gruba dahil olduğuna
- B) Ömer, Seda ve Şule'nin akraba grubu içerisinde yer aldığına
- C) Şule'nin en önemli rolünün arkadaşlık olduğuna
- D) Apartmanın 3. katında Şule'nin sınıf grubundan arkadaşının oturduğuna



2. 5. Sınıf öğrencisi olan Ezgi, dâhil olduğu grupları aşağıdaki renkli tablo üzerinde göstermiştir.

Aile Grubu	Okul Grubu
Sosyal Sorumluluk Grubu	Komşuluk Grubu

Gruplarda üstlendiği rolleri aşağıdaki kâğıtlara yazan Ezgi, bu kâğıtları ilgili olduğu grubun rengine boyamıştır.

Kardeş	Oyun arkadaşı	Nöbetçi	Gönüllü
--------	---------------	---------	---------

Buna göre, Ezgi'nin maviye boyadığı kâğıt aşağıdakilerden hangisidir?

- A) Kardeş
- B) Nöbetçi
- C) Gönüllü
- D) Oyun arkadaşı



1. Bu testte 10 soru vardır.
2. Cevaplarınızı kitapçık sonundaki cevap anahtarına kurşun kalemle işaretleyiniz.

1.



Canlıların tüm fiziksel özelliklerinin depolandığı molekül altın orana dayandırılmış bir formda yaratılmıştır.



Kar kristalini oluşturan kısıklı uzunlu dallanmalarda, çeşitli uzantıların oranı hep altın oranı verir.



Ayçiçeğinin merkezinden dışarıya doğru sağdan sola ve soldan sağa doğru tane sayılarının birbirine oranı altın oranı verir.

Bu bilgileri destekleyen ayet aşağıdakilerden hangisidir?

- A) "...O, her şeyi yaratmış ve yarattığı şeyleri bir ölçüye göre takdir etmiştir." (Furkân suresi, 2. ayet)
- B) "Göğü Allah yükseltti ve mizanı (dengeyi) O koydu. Sakın dengeyi bozmayın." (Rahmân suresi, 7-8. ayet)
- C) "Bir şeyi dilediği zaman O'nun emri o şeye ancak 'Ol!' demektir." (Yâsin suresi, 82. ayet)
- D) "... Yaptıklarınızdan mutlaka sorumlu tutulacaksınız." (Nahl suresi, 93. ayet)

2.

Gökyüzüne baktığımız zaman ne kadar yıldız görebileceğimizi hiç düşündünüz mü? Tabii ki saymakla bitmez.

Uzayla uğraşan bilim adamları özel bir teknikle yarım milyar yıldız tespit etmişlerdir. Bu ne demektir?

Bunları saymak istersek tam yüz yıl boyunca gecelerimizin tamamını buna ayırmak zorunda kalırız. Gökyüzünde bu yaşananlar ne muhteşem değil mi? Bunlar görünenler. Ya görmediklerimiz



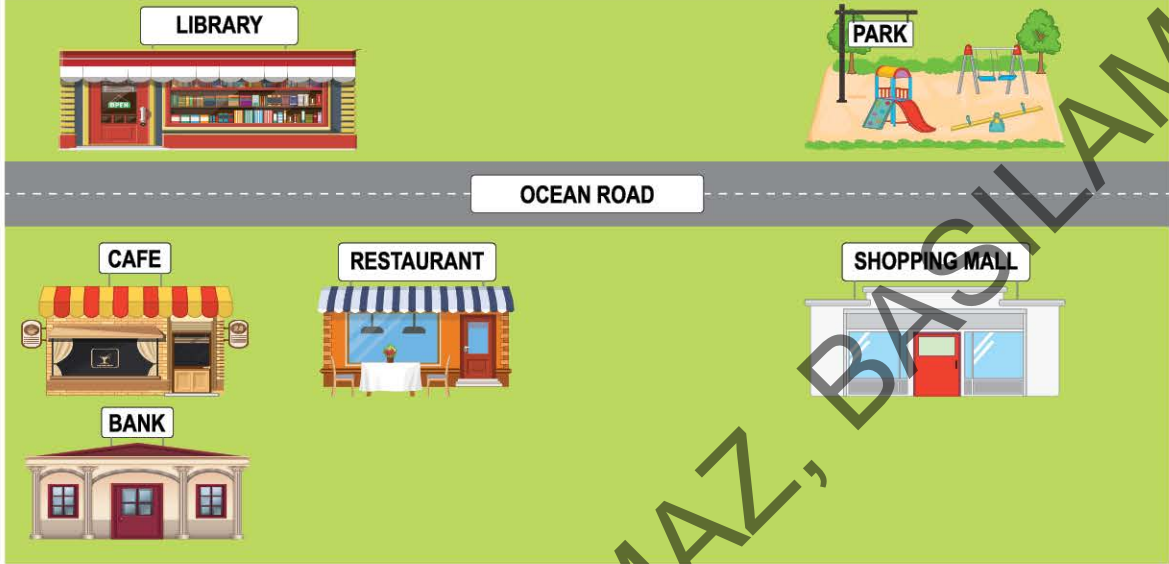
Bu metinde asıl vurgulanmak istenen aşağıdakilerden hangisidir?

- A) Gökyüzündeki tüm sistem kendi hâlinde devam etmektedir.
- B) Evrende mükemmel bir düzen ve uyum vardır.
- C) Bilim sayesinde insan, aklını doğru kullanabilmektedir.
- D) Galaksi sistemindeki en önemli görev yıldızlara aittir.



1. Bu testte 10 soru vardır.
2. Cevaplarınızı kitapçık sonundaki cevap anahtarına kurşun kalemle işaretleyiniz.

1.



Which of the following is NOT correct according to the map?

- A) The park is opposite the shopping mall.
- B) The bank is in front of the the cafe.
- C) The restaurant is behind the library.
- D) The cafe is near the restaurant.

2.

Debra's Timetable				
Monday	Tuesday	Wednesday	Thursday	Friday
Science	ICT	Music	Social studies	German
Science	ICT	English	Social studies	German
P.E.	Visual Arts	Drama	Drama	Maths

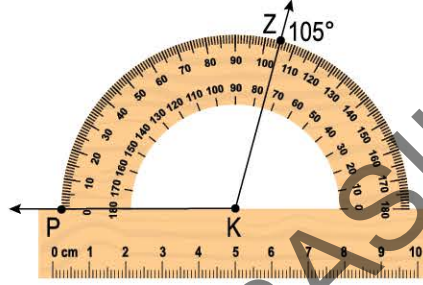
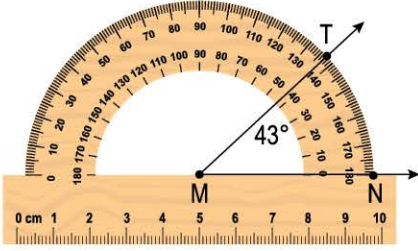
Which of the following is CORRECT according to the timetable?

- A) Debra studies communication and information technology on Friday.
- B) She does experiments on Monday.
- C) She learns only one language.
- D) She draws and paints pictures on Wednesday.



1. Bu testte 20 soru vardır.
2. Cevaplarınızı kitapçık sonundaki cevap anahtarına kurşun kalemle işaretleyiniz.

1. Teoman ve Pakize açıölçer kullanarak aşağıdaki \widehat{TMN} ve \widehat{PKZ} larının ölçülerini bulmuştur.

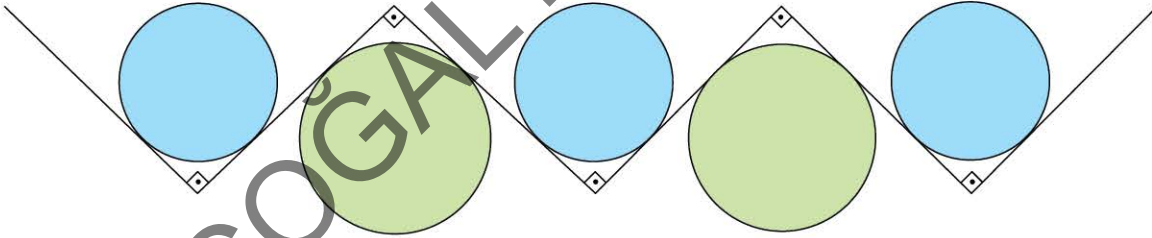


Teoman, \widehat{TMN} 'nin tümler açısını, Pakize ise \widehat{PKZ} 'nin bütünler açısını hesaplamış ve buldukları açı ölçülerini toplamıştır.





Buna göre, buldukları toplam kaç derecedir?

- A) 120 B) 121 C) 122 D) 152

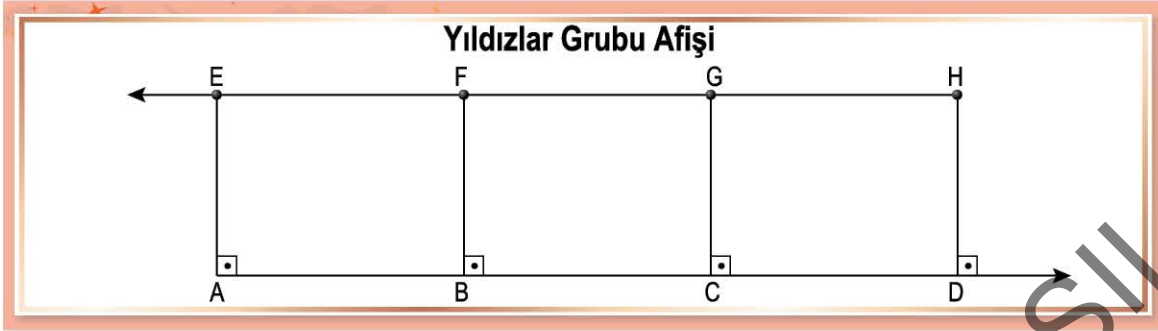
2. Gülhan, görsel sanatlar dersinde aşağıdaki tasarımı araç-gereç kullanarak çizmiştir.



Gülhan iki tane araç-gereç kullanarak çizimi tamamladığına göre aşağıdaki araç-gereçlerden hangilerini kullanmış olabilir?

				
A)		✓	✓	
B)	✓	✓		
C)			✓	✓
D)	✓			✓

3. 5/A sınıfında geometrik şekiller temasında Yıldızlar Grubu'nun afişi görülmektedir.



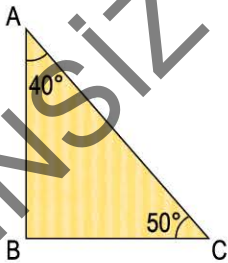
Yıldızlar Grubu sözcüsü, afişi ile ilgili aşağıdaki sunumu yapmıştır.

(I) Görselimizde dik doğru parçaları ve paralel doğru parçaları kullanmaya özen gösterdik. (II) Çizimimizde sadece gönye kullandık. (III) Doğru parçası, ışın ve doğru modellemesine yer verdik. (IV) Eş doğru parçalarını cetvel ile ölçtük.

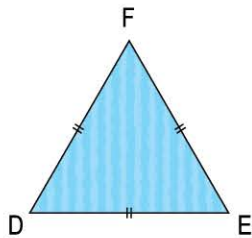
Buna göre, afiş sunumunda kaç numaralı cümlede hata yapılmıştır?

- A) I B) II C) III D) IV

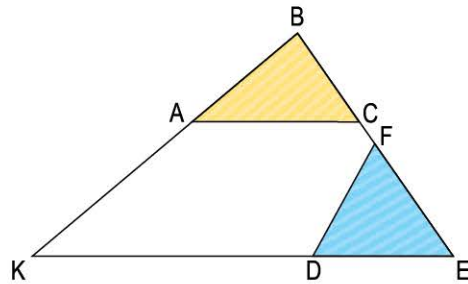
4. Beren sarı renkli kartondan oluşturduğu ABC üçgeninin, Leyla mavi renkli kartondan oluşturduğu DEF üçgeninin köşelerini BEK üçgeninin köşeleri ve kenarları ile karşılaştırarak yerleştirmişlerdir.



Beren'in üçgeni



Leyla'nın üçgeni

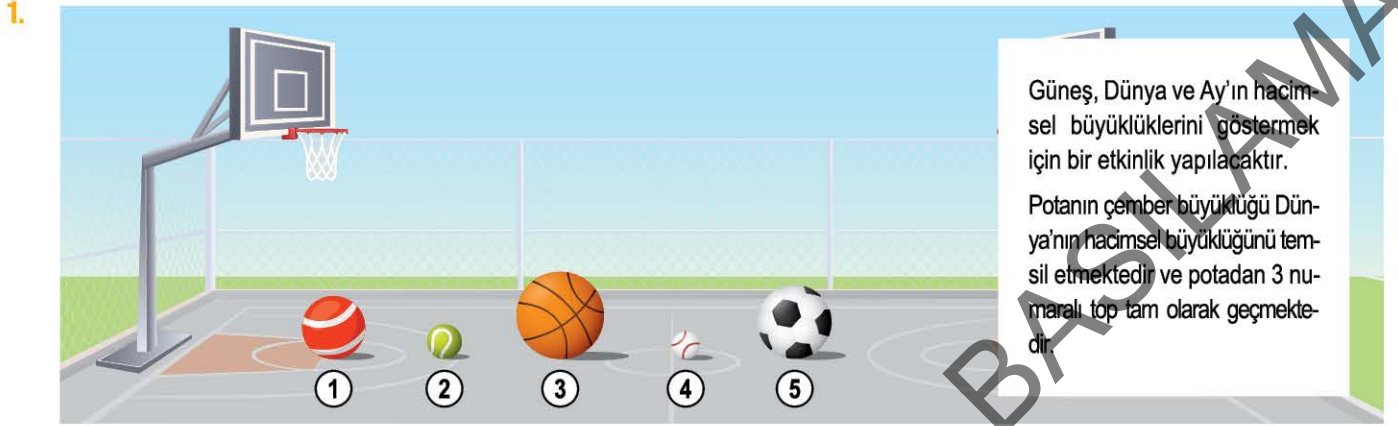


Buna göre, \widehat{BKE} 'nin ölçüsü kaç derecedir?

- A) 30 B) 40 C) 60 D) 90



1. Bu testte 20 soru vardır.
2. Cevaplarınızı kitapçık sonundaki cevap anahtarına kurşun kalemle işaretleyiniz.



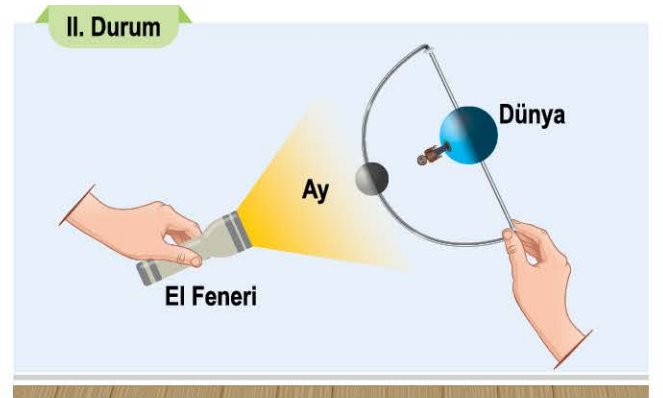
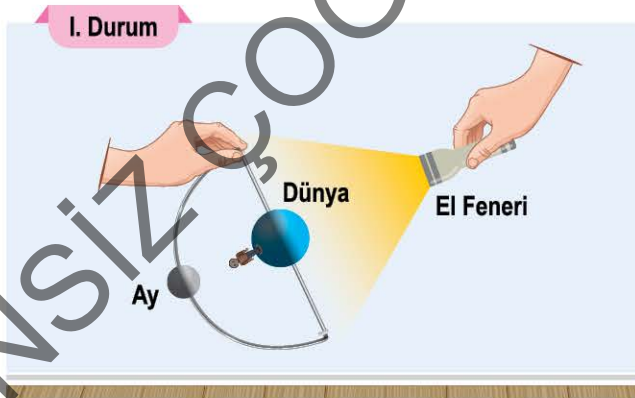
Buna göre,

- I. Potadan geçebilen 2, 4 ve 5 numaralı toplar, Ay'ı temsil edebilir.
- II. 1 numaralı top harici Güneş'i temsil edebilecek bir top yoktur.
- III. Bu etkinlik ile gök cisimlerinin hareket yönleri de gösterilmiştir.

Yorumlarından hangileri doğrudur?

- A) Yalnız I B) I ve II C) I ve III D) II ve III

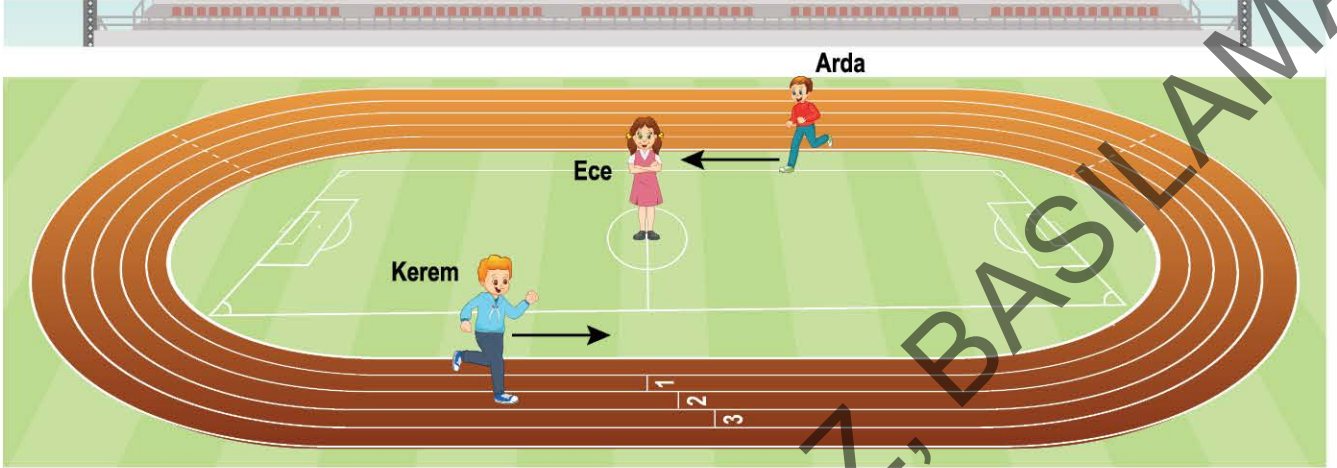
2. El feneri, Dünya, Ay ve bir çocuk figürü ile aşağıdaki modellemeler hazırlanmıştır.



Bu modelleme ile ilgili aşağıdaki yorumlardan hangisi yapılabilir?

- A) I. durumda yeni ay evresi modellenmiştir.
- B) El feneri, Güneş'i temsil edemez.
- C) II. durumda dolunay evresi modellenmiştir.
- D) Her iki durumda da Ay'ın ana evreleri modellenmiştir.

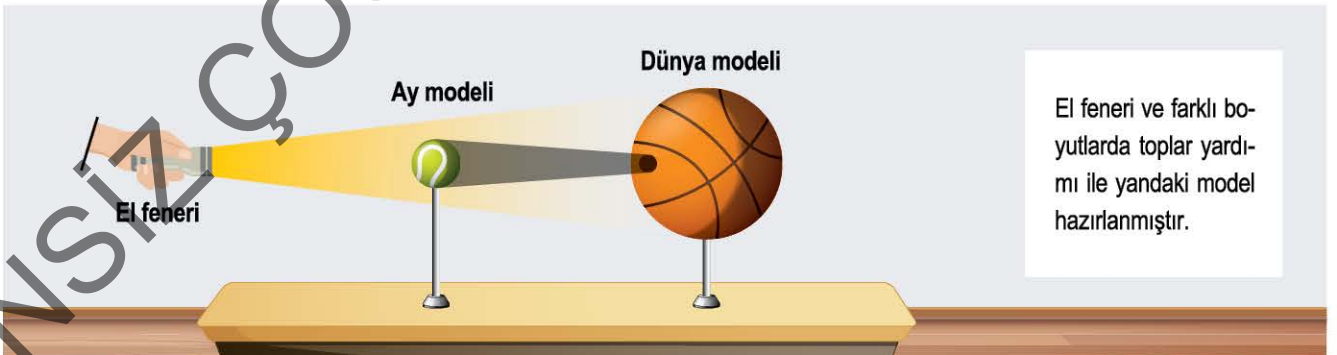
3. Sahanın ortasında Ece sabit dururken Arda sahayı belirleyen beyaz çizgiler üzerinden saat yönü tersine hareket etmektedir. Aynı zamanda Kerem ise saha çevresinde yer alan koşu çizgileri üzerinden saat yönü tersine hareket etmektedir.



Bu durumlar gök cisimlerinin hareketleri ile ilişkilendirilirse aşağıdaki yorumlardan hangisi doğru olur?

- A) Ece, Güneş'in hareketi gibi hareketsiz durması doğru bir temsildir.
 B) Arda Dünya'yı temsil ediyorsa sadece dolanma yönü yanlıştır.
 C) Kerem Ay'ı temsil ediyorsa dolanma yönü doğru iken dolanma şeklinde eksiklikler vardır.
 D) Arda, bulunduğu yerde sadece dönme hareketi yaparsa Dünya'yı doğru temsil etmiş olur.

4.



El feneri Güneş'i temsil ettiğine göre bu model ile aşağıdaki durumlardan hangisi açıklanabilir?

- A) Güneş'in hacimsel büyüklüğü, Dünya'dan daha fazladır.
 B) Güneş'in de Dünya gibi katmanları vardır.
 C) Dünya ve Ay küresel şekle sahiptir.
 D) Ay, Dünya arkasında kalırsa her zaman aydınlık olur.