

TÜMÜ  
VIDEO ÇÖZÜMLÜ  
akilliogretim.com'da

TOPLAMDA  
1598 SORU  
İÇERMEKTEDİR.



# CLASSMATE

"TÜRKİYE YÜZYILI MAARİF MODELİ'NE GÖRE HAZIRLANMIŞTIR."

SÜREÇ ODAKLI

# TÜM DERSLER

SORU BANKASI

SÜREÇ ODAKLI ÖLÇME  
BECERİ TEMELLİ SORULAR  
TÜM ÇIKTILARIN DEĞERLENDİRİLMESİ

5. SINIF



ORTA  
DÜZEY



1. Bir okulda Türkçe öğretmenliği yapan Tuba Hanım, öğrencilerine "çıkmaq" sözcüğünün TDK Türkçe Sözlük'te 54 farklı anlamının bulunduğunu söylemiş ve bu anlamları "www.sözlük.gov.tr" adresinden açarak öğrencilerinden bu anlamlardan birini seçip "çıkmaq" sözcüğünü bu anlamıyla bir cümlede kullanmalarını istemiştir. Öğrenciler kurdukları cümleyi defterlerine yazacak ve "çıkmaq" sözcüğünün anlamını yay araç içinde belirtecektir.

**Buna göre aşağıdakilerden hangisini yazan öğrenci, "çıkmaq" sözcüğünü belirttiği anlama uygun olarak kullanmamıştır?**

- A) Güneş batarken Ahmet'le birlikte evden çıktık. (İçeriden dışarıya varmak, gitmek)  
 B) Buradan üç yıl yetecek kadar yakacak çıkar. (Bir şeyden bir şey eksilmek)  
 C) İnşaat bitince eski evimizden çıkıp eşyalarımızla birlikte yeni eve geçtik. (Taşınmak, ayrılmak)  
 D) Ayakkabısını çıkarırken ayağındaki çorap da çıktı. (Sıyrılmak, ayrılmak)

2. Sözcükler kullandıkları cümleye göre farklı anlamlar kazanabilir.

**Buna göre "açmak" sözcüğü, aşağıdakilerin hangisinde yay araç içinde verilen anlamıyla kullanılmamıştır?**

- A) Kardan dolayı kapanan yolları, kara yolları ekipleri açtı. (Engeli kaldırmak)  
 B) Salonla mutfak arasına kapı açtık. (Geçit sağlamak)  
 C) Ev sahibi, hazırladığımız boyayı biraz açmamızı istedi. (Yapmak, düzenlemek)  
 D) Giydiğim kıyafet beni açmadığı için biraz huzursuzum. (Yakışmak, güzel göstermek)

3. "Dolu" sözcüğü, aşağıdaki cümlelerin hangisinde yay araç içinde belirtilen anlamıyla kullanılmamıştır?

- A) Perşembe günü doluyum. (Boş vakti olmayan, meşgul)  
 B) Kalbim onun sevgisiyle dolu. (İç boş olmayan, dolmuş)  
 C) Hafta sonu tüm uçaklar doluymuş. (Boş yeri olmayan)  
 D) Bu sene tarlalar üzüm dolu. (Bir yerde sayıca çok)

4. Aşağıdaki cümlelerin hangisinde "düşmek" sözcüğü, "kar, yağmur vb. yağmak" anlamında kullanılmamıştır?

- A) Honaz Dağı'na kar düştüğüne göre kış gelmiş artık.  
 B) Kemerini iyi sıkmayınca pantolonu düşüyordu.  
 C) Sonbaharın etkisiyle düşen yaprakları izliyorum.  
 D) Kar manzarasını yansıtan tablo buraya iyi düştü.

5. (I) Dışarıda bir gürültü kopunca babam hemen sokağa çıktı. (II) Gürültü yan komşumuzun evinin bahçesinden geliyordu. (III) Babamın peşi sıra hemen biz de koşa koşa bahçe tarafına ilerledik. (IV) Bahçeye vardığımızda bizim sesimizden irkilerek aşağıya fırlayan kedileri görünce, amcamın sıklıkla söylediği söz aklıma geldi: "Kedidir o, kedi!.."

**Bu parçada numaralanmış cümlelerin hangisinde altı çizili sözcük mecaz anlamda kullanılmamıştır?**

- A) I B) II C) III D) IV



6. Akşamki balo için bir kıyafet bulmaya çalışıyorum. **Aşağıdakilerin hangisinde "bulmak" sözcüğü bu cümledeki anlamıyla kullanılmıştır?**

- A) Tahtada yazan işlemleri tek tek yaparak bu sonucu buldum.
- B) Günlerdir aradığım montu yatağımın altında bulduğuma çok şaşırđım.
- C) Hayatımızın birçok alanında kullandığımız elektriđi nasıl buldular acaba?
- D) Mağazadan yeğenim için rengarenk bir elbise bulup hediye paketi yaptırdım.

7. Konservatuvarda okurken hocalarımın isteđi üzerine sahnede okuyacađım şarkıların hikâyelerini okumayı alışkanlık hâline getirdim.

**Aşağıdakilerden hangisi, "okumak" sözcüğünün bu metinde kazandıđı anlamlardan biri deđildir?**

- A) Bazı belirtilerle bir anlamı, gizli bir duyguyu anlamak
- B) Yazılmış bir metnin iletmek istediđi şeyleri öğrenmek
- C) Şarkı, türkü vb.ni sesli olarak söylemek
- D) Bir konuyu öğrenmek için okulda öğrenim görmek

8. I. Yeni doğan kardeşinin yüzü ay gibi parlıyordu.  
II. En sevdiđi öğretmenini üzdüğü için yanına gitmeye yüzü yoktu.  
III. Nehrin yüzündeki plastik şişeler ve çöpler kirliliđin kanıtıydı.  
IV. Apartmanın ön yüzünde mantolama çalışması yapılıyordu.

**"Yüz" sözcüğü, numaralanmış cümlelerde kaç farklı anlamda kullanılmıştır?**

- A) 1
- B) 2
- C) 3
- D) 4

9. "Büyük" sözcüğü, aşağıdakilerin hangisinde "niceliđi çok olan" anlamında kullanılmıştır?

- A) İlk aldıđımız ev, şehre yakındı ama büyük deđildi.
- B) Akşam saatlerinde binanın çevresinde büyük bir kalabalık toplanmıştı.
- C) Büyüklerimin bana güvendiđini bilmek beni daha da güçlü kılar.
- D) Yeni aldıđımız arsanın içinde büyük bir kayın ağacı vardı.

10. "Bakmak" sözcüğü, aşağıdakilerin hangisinde diđerlerinden farklı bir anlamda kullanılmıştır?

- A) Evin bütün işleri, doktor olan amcama bakıyordu.
- B) Ofisteki çođu iş ona baktığı için artık tempoyu kaldıramıyordu.
- C) Beş çocuklu bir aileye bakmak, bu devirde çok zor.
- D) Bütün temizlik işleri ona baktığı için eşinden yardım istedi.

11. **Aşağıdakilerin hangisinde "kullanmak" sözcüğünün anlamı ve kullanımı birbirine uymamaktadır?**

	Anlam	Kullanım
A)	İşletmek, deđerlendirmek	Parasını borsada kullanıyormuş.
B)	Araç veya aleti işletmek, yönetmek	İş yerinde genelde koyu kravat kullanıyordu.
C)	Kelimeyi yazmak, söylemek	Şiirlerinde ikilemeler kullanırdı.
D)	Giymek, takmak	Kullandıđı tokayı maçta kaybetmiş.



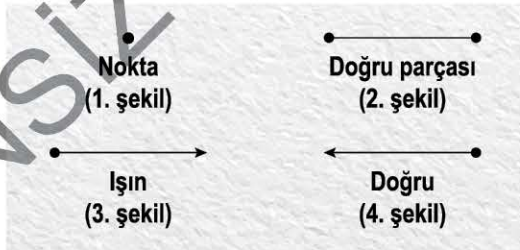
1. 5. sınıf öğrencisi Ali'nin elinde bir kalem ve bir ölçüsüz cetvel vardır.



Ali, elindeki bu araç ve gereçlerle aşağıdakilerden hangisini çizemez?

- A) Doğru parçası  
B) Işın  
C) Doğru  
D) Çember

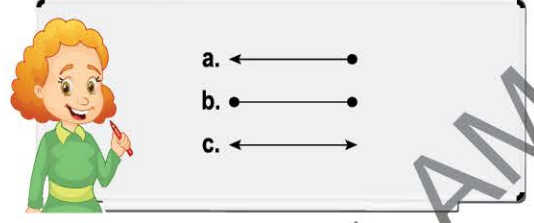
2. Ceren, arkadaşı Engin'e bazı geometrik şekilleri öğretmek istemiş ancak bir tanesinin ismini yanlış söylemiştir.



Ceren'in yanlış isimlendirdiği şekil aşağıdakilerden hangisidir?

- A) 1. şekil  
B) 2. şekil  
C) 3. şekil  
D) 4. şekil

3. Gül öğretmen, öğrencisi Rana'ya geometrik şekiller çizip bu şekilleri isimlendirmesini istemiştir.



Rana, aşağıdaki seçeneklerden hangisinde şekillerin hepsini doğru isimlendirmiştir?

- A) a. Işın  
b. Doğru  
c. Doğru parçası  
B) a. Işın  
b. Doğru parçası  
c. Doğru  
C) a. Doğru parçası  
b. Doğru  
c. Işın  
D) a. Doğru  
b. Işın  
c. Doğru parçası

4. Bir ev resminin üzerine çeşitli geometrik şekiller yerleştirilmiştir.



Bu resimde aşağıdakilerden hangisine yer verilmemiştir?

- A) Doğru  
B) Doğru parçası  
C) Işın  
D) Nokta



5. Gülsün'ün annesi Sevim Hanım matematik dersinin tekrarı için aşağıdaki tabloyu çizmiştir.

	Geometrik Şekil	Sembolik Gösterim
1		KL
2		[KL
3		KL]
4		KL

Sevim Hanım geometrik şekilleri çizdikten sonra kızından sembolik gösterim kısmını doldurmasını istemiştir.

Gülsün, hangi satırı yanlış doldurmuştur?

- A) 1      B) 2      C) 3      D) 4

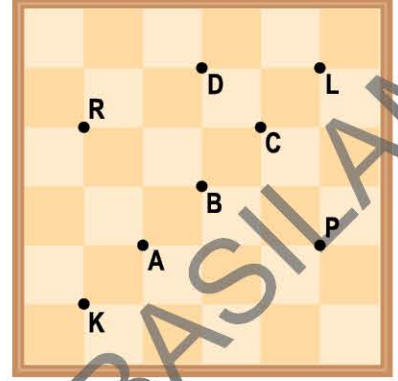
6. Aşağıda verilen sembolik gösterimler ile geometrik şekiller eşleştirilecektir.

1	[AB]		a
2	[AB		b
3	AB		c

Bu eşleştirme hangi seçenekte doğru verilmiştir?

- A) 1. c      B) 1. a      C) 1. b      D) 1. a  
2. a      2. b      2. a      2. c  
3. b      3. c      3. c      3. b

7. Pars ve kardeşi Parla, üzerine birimkareler çizilmiş bir tahtanın üzerinde bulunan taşlarla oyun oynamaktadırlar.

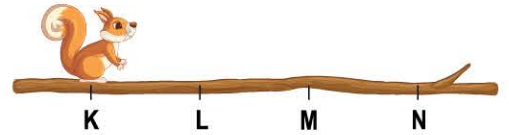


Pars taşını K'dan L'ye ittirerek, Parla da taşını P'den R'ye ittirerek birer doğru parçası oluşturuyorlar.

Bu doğru parçalarının geçtiği ortak nokta hangisidir?

- A) A      B) B      C) C      D) D

8. Bir sincap bir ağaç dalında önce K ve N noktaları arasında yürümüştür. Sonrasında L noktasına geri zıplamış ve L'den M'ye yürümüştür.



Sincabın iki kere yürüdüğü yolun sembolik gösterimi aşağıdakilerden hangisidir?

- A) LM      B) [LM      C) [LM]      D) LM]



Yukarıdaki birbiriyle bağlantılı cümlelerdeki boşlukları doğru sözcüklerle tamamlayarak ilerlediğinizde kaçınıcı çıkışa ulaşırsınız?

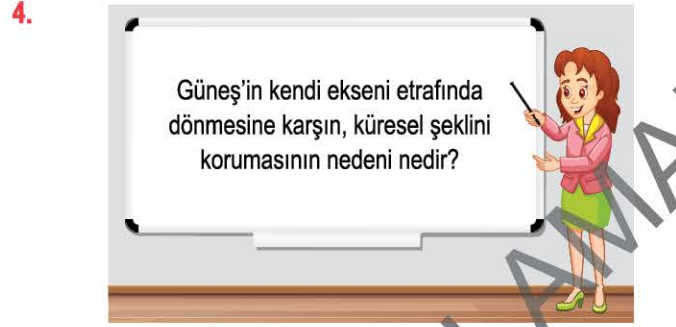
- A) I      B) II      C) III      D) IV

2. Elif: Ben Güneş'im, hangi yönde dönmeliyim?  
Güneş'in hareketini canlandıran Elif'in, kendi etrafında dönme yönü aşağıdakilerden hangisinde doğru gösterilmiştir?

- A)      B)      C)      D)

3. Hande, oyun hamuru ile Güneş modelini yapmak istiyor.  
Bunun için, Hande'nin oyun hamuruna verdiği şekil için aşağıdakilerden hangisi en uygundur?

- A)      B)      C)      D)



Öğretmenin sorusuna öğrencilerin cevabı aşağıdakilerden hangisi gibi olursa doğru olur?

- A) Gazlardan oluştuğu için katı bir cisim gibi dönmeyiz.  
B) Sıcaklığı çok yüksektir.  
C) Kütlesi, Dünya'nın kütlesinden 333.000 kat daha büyüktür.  
D) Çekirdeğindeki sıcaklık, yüzeyindeki sıcaklıktan çok fazladır.

5. Ezgi: Güneş, ışık saçan bir ..... şeklindedir.

Ezgi'nin yukarıdaki cümlesindeki boşluk aşağıdaki sözcüklerden hangisiyle tamamlanırsa doğru olur?

- A) elips      B) küre      C) kare      D) üçgen

6. Güneş'in özellikleri ile ilgili aşağıdaki ifadelerden hangisi yanlıştır?

- A) Güneş, bir yıldızdır.  
B) Dünya'daki tüm canlıların enerji kaynağıdır.  
C) Güneş'in görüntüsünde koyu renkli Güneş lekeleri görülür. Bunlar Güneş yüzeyindeki daha soğuk olan bölgelerdir.  
D) Sıcaklığı yüzeyde, çekirdeğe göre daha fazladır.

7. Derin, Ebru öğretmenin sorusuna aşağıdaki cevabı vermiştir:



Buna göre, Ebru öğretmenin sorusu aşağıdakilerden hangisi olabilir?

- A) Güneş'in şekli nasıldır?  
 B) Güneş yüzeyinde kısmen soğuk olan kısımlara ne ad verilir?  
 C) Yaptığı teleskopla Güneş'i gözlemleyen bilim insanı kimdir?  
 D) Güneş'in hareket çeşitleri nasıldır?

8. Demir, "Güneş'in Yapısı" hakkında bir sunum hazırlayacaktır.

Bu sunum için aşağıdaki ifadeleri hazırlamıştır;

- I. Güneş, küresel bir şekle sahiptir.  
 II. Güneş, kendi eksenini etrafında saat yönünde döner.  
 III. Güneş'te meydana gelen patlamalar sayesinde etrafa çok fazla enerji yayılır.

Buna göre, sunumunda verilenlerden hangilerini kullanırsa doğru olur?

- A) Yalnız I  
 B) I ve II  
 C) I ve III  
 D) II ve III

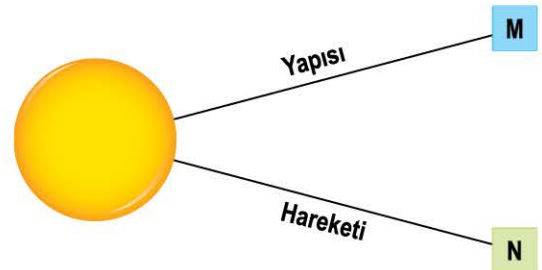
9. "Güneş, Dünya'dan yaklaşık 100 kat daha büyük olmasına rağmen Dünya'dan bakan bir gözlemci Güneş'i küçük görür."



Yukarıda verilen bilgiye göre, bu durumun sebebi aşağıdakilerden hangisi ile açıklanabilir?

- A) Güneş'in yavaş yavaş sönüyor olması  
 B) Güneş'in, Dünya gibi katmanlardan oluşması  
 C) Güneş'in yapısındaki gazların, akşamları sıkışması sonucu zaman zaman küçülmesi  
 D) Gözlemciden uzakta olan cismin, gözlemci tarafından gerçek boyutlarından küçük algılanması

10. Güneş'in özellikleri ile ilgili bir şema aşağıda verilmiştir.



Bu şemada M veya N yerine aşağıda verilenlerden hangisi getirilemez?

- A) N yerine "Dönme hareketi yapar." yazılabilir.  
 B) M yerine "Katmanlardan oluşur." yazılabilir.  
 C) N yerine "Dünya'nın etrafında dolanır." yazılabilir.  
 D) M yerine "Gazlardan oluşur." yazılabilir.



1. Selen, 5. sınıfta okuyan bir öğrencidir.  
**Buna göre, aşağıdakilerden hangisi Selen'in sorumluluklarından biridir?**

- A) Yemek yapması  
B) Ütü yapması  
C) Ailesinin geçimine katkıda bulunması  
D) Odasını temiz ve düzenli tutması

2. Aynı amacı taşıyan insanların oluşturduğu topluluğa grup denir.

**Buna göre, aşağıdakilerden hangisi gruba örnek oluşturmaz?**

- A) Aile  
B) 2/B sınıfı  
C) Futbol takımı  
D) Sokakta yürüyen insanlar

3. Aşağıda 5. sınıf öğrencisi olan Elif'in ifadelerine yer verilmiştir:

Sitemizde hergün oyun oynadığımız yedi kişilik bir arkadaş grubumuz var. Grubumuz ile gün içinde sürekli beraber hareket ediyoruz. Kimi zaman sitenin havuzunda yüzüyor, kimi zaman farklı oyunlar oynuyor, bazen de sosyal etkinliklere katılarak birlikte vakit geçiriyoruz.

**Buna göre, Elif'in içinde bulunduğu grupta;**

- I. Oyun kurallarına uymak,  
II. Arkadaşlarının kararlarına saygılı olmak,  
III. Duygu ve düşüncelerini ifade etmek

**gibi sorumluluklardan hangilerine sahip olduğu söylenebilir?**

- A) Yalnız I  
B) Yalnız II  
C) I ve II  
D) II ve III

4. 5. sınıf öğrencisi olan Büşra aşağıdaki tabloda dahil olduğu gruplar ile bu gruplardaki rollerini eşleştirmiştir.

	Dahil Olduğum Gruplar	Gruplardaki Rollerim
1	Voleybol Takımı	Oyuncu
2	Akraba	Teyze
3	Aile	Torun
4	Müzik Grubu	Gitarist

**Buna göre, Büşra'nın yaptığı eşleştirmelerden hangisi yanlıştır?**

- A) 1  
B) 2  
C) 3  
D) 4

- 5.



Evde anne ve babama karşı evlat rolündeyim. Ablama karşı kardeş rolündeyim. Okul servisinde yolcu rolündeyim. Folklor grubunda oyuncu, müzik grubunda solist rolündeyim.

**Buna göre, Arda ile ilgili olarak;**

- I. Farklı gruplarda yer aldığı,  
II. Her gruba ait rollerinin bulunduğu,  
III. Bazı gruplardaki sorumluluklarını aksattığı
- çıkartımlarından hangilerine ulaşılabilir?**

- A) I ve II  
B) I ve III  
C) II ve III  
D) I, II ve III





6. Aşağıda bireylerin toplum içerisinde üstlenebileceği rollerden bazı örnekler verilmiştir.



Verilen örneklerden hareketle rol kavramı aşağıdakilerden hangisinde doğru tanımlanmıştır?

- A) Kişinin davranışlarının sonuçlarını üstlenmesi.  
 B) Adaletin bir canlıya sağladığı kazanç.  
 C) İçinde bulunduğumuz gruba göre üstlendiğimiz veya sergilediğimiz davranışlar bütünü.  
 D) Topluluk içinde yaşayan insanların her biri.

- 8.



Ali, 5. sınıf öğrencisidir. Okulun futbol takımında kalecilik yapmaktadır. Babası işe gittiği zaman annesiyle baş başa kalmaktadır.

Buna göre, Ali'nin aşağıdaki sorumluluklardan hangisini yerine getirmesi beklenemez?

- A) Annesine yardım etme  
 B) Hafta sonları bir işte çalışma  
 C) Ödevlerini yapma  
 D) Antrenmanlara zamanında katılma

- 9.



Merhaba, ismim Leyla. İçinde bulunduğum kurumlardan biri de okuldur. Okuldaki eğitim ve öğretim imkânlarından yararlanmak, ödevlerim ile ilgili araştırma yapmak için kütüphaneyi kullanmak okuldaki haklarımdan bazılarıdır. Ayrıca okulun üyesi olmanın bana yüklediği bazı sorumluluklarım da bulunmaktadır.

Buna göre, Leyla ile ilgili;

- I. Hak ve sorumluluklarının bilincindedir.  
 II. Aynı anda farklı gruplar içerisinde rol almaktadır.  
 III. Sorumluluklarını yerine getirmekte zorlanmaktadır.

yargılarından hangilerine ulaşılabilir?

- A) Yalnız I  
 B) I ve III  
 C) II ve III  
 D) I, II ve III

7. Kübra Hanım, okuldaki dersi bittikten sonra evin bazı ihtiyaçlarını karşılamak için arkadaşlarıyla birlikte markete gidip alışveriş yaptı. Daha sonra eve gidip çocuklarına en sevdikleri yemekleri yaptı.

Buna göre, Kübra Hanım'ın üstlendiği roller arasında aşağıdakilerden hangisi yer almaz?

- A) Anne  
 B) Müşteri  
 C) Yönetici  
 D) Öğretmen



1. "Allah, gökleri görebileceğiniz direkler olmaksızın yarattı. Yeryüzüne de sizi sarsmasın diye sabit dağlar yerleştirdi ve orada her türlü canlıyı yaydı..."

(Lokman suresi, 10. ayet)

**Bu ayetten Allah hakkında aşağıdakilerden hangisine ulaşılabilir?**

- A) Birdir ve ondan başka ilah yoktur.  
B) Güçlüdür, her şeyi yeri yerinde yaratandır.  
C) Her zaman bizimle beraberdir.  
D) Hiçbir şeye muhtaç değildir.

2.

Evrenin kusursuzluğu birden fazla yaratıcıya işaret eder.	İnsan vücudunun dengeli yapısı, evrende var olan düzenin parçasıdır.
Evrendeki olaylar hiç aksamadan planlı bir şekilde devam eder.	İnsan aklı evrendeki mükemmelliği kavrayacak şekilde yaratılmıştır.

**Tablodaki hangi renkli kutuda yazan bilgide hata vardır?**

- A) Mavi  
B) Kırmızı  
C) Yeşil  
D) Sarı

3. • Göklerin ve yerin yaratılması  
• Gece ve gündüzün peşpeşe gelmesi  
• Gemilerin denizlerde yüzmesi  
• Yağmurla kupkuru toprağın canlanması

**Verilen örnekler, aşağıdakilerden hangisinin göstergesidir?**

- A) Allah'ın merhametli olduğu  
B) Evrende ilahi bir adalet olduğu  
C) Yeryüzünde insanların yaşadığı  
D) Evrenin kusursuz yaratıldığı

4. Evrendeki hiçbir varlık rastgele oluşmamıştır. Her varlık, bir program doğrultusunda var olmuştur. Yer altındaki doğal kaynaklardan yer üstündeki canlılara kadar tüm varlıklar, Allah'ın üstün güç ve sonsuz ilminin eseridir.

**Bu bilgiler doğrultusunda aşağıdakilerden hangisine ulaşılabilir?**

- A) Evrende tesadüfen yaratılan hiçbir varlık yoktur.  
B) İnsan evreni ve içindeki varlıkları korumakla görevlidir.  
C) Tüm varlıklar, Allah'ın ilim ve kudretiyle oluşmuştur.  
D) Allah'ın yaratması, bir plan ve ölçü doğrultusunda gerçekleşir.

5. Allah, evrende yarattığı her canlıya yapacağı işe uygun yapı, biçim, özellik ve yetenek vermiş; onların yaratılışını bir takım amaç ve hikmetlere dayandırmış, boş ve yersiz hiçbir şey yaratmamıştır.

**Yukarıdaki bilgilere bakılarak;**

- I. Her yaratılanın bir amaca hizmet ettiği,  
II. Canlıların yapılarının işlerine uygun olduğu,  
III. Evrendeki düzenin zamanla bozulduğu

**yargılarından hangilerine ulaşılabilir?**

- A) Yalnız I  
B) Yalnız III  
C) I ve II  
D) II ve III

6. "... Ne Güneş Ay'a yetişebilir ne de gece gündüzü geçebilir. Her biri bir yörüngede yüzerler." (Yasin suresi, 40. ayet)

**Verilen ayet aşağıdaki başlıklardan hangisiyle ilişkilendirilebilir?**

- A) Evrendeki Uyum ve Düzen  
B) Evrenin Gerçek Sahibi  
C) Allah'ın Sonsuz Gücü  
D) İnsanın Yaratılış Amacı



7. Evren, üzerinde yaşadığımız dünya ile tüm yıldız ve gezegenleri içine alan varlıklar bütünüdür. Evrende ise müthiş bir düzen vardır. İçinde yaşadığımız doğayı gözlemlediğimiz ve düşündüğümüz zaman, varlıklar arasında bir denge, düzen ve uyum olduğunu anlarız. Bütün bu gerçekler ise bizi tek bir sonuca götürür. O da bu müthiş düzenin bir düzenleyicisi olduğudur.

**Buna göre;**

- I. Dünya, yıldız ve gezegenler evreni oluşturur.
- II. Düzenin olduğu yerde bir düzenleyicinin olması kaçınılmaz bir gerçektir.
- III. Evrendeki düzeni anlamak için doğayı gözlemlemeli ve düşünmeliyiz.

**hangileri söylenebilir?**

- A) I ve II                      B) II ve III  
C) I ve III                     D) I, II ve III

8.



Kulaklarımız belli seviyenin altındaki ve üstündeki sesleri işitemez. Örneğin çok küçük hayvanların çıkardığı sesleri duyamayız. Ancak bu sesler

çok hassas aygıtlarla tespit edilebilmektedir. Eğer kulaklarımız bu sesleri algılayabilecek şekilde yaratılmış olsaydı hayat, gürültüden dolayı yaşanmaz bir hâl alırdı.

**Bu parçadan çıkarılacak en doğru sonuç aşağıdakilerden hangisidir?**

- A) Allah'ın yaratmış olduğu her şeyde ayrı bir mükemmellik vardır.  
B) Kulaklarımız yeteri derecede duymamaktadır.  
C) Teknoloji istenilen seviyede değildir.  
D) Allah'ın görmesi, duyması ve bilgisi sınırsız ve sonsuzdur.

9.



Sınıfa girdiğinizde yazı tahtasında bir şiir görseniz ne düşündünüz? Bunu biri yazmış olmalıdır, değil mi? Sofranıza gelen yemekler kendiliğinden gelmiş olabilir mi? Ya binlerce bitki ve hayvan türü, milyonlarca yıldız, uçsuz bucaksız evren! Demek ki - - - -

**Yukarıdaki metinde boş bırakılan bölümü tamamlayan en uygun cümle aşağıdakilerden hangisidir?**

- A) bütün bunları mühendisler yapmışlardır.  
B) her şeyin bir yapana olduğu gibi bu muhteşem evrenin de bir yaratana vardır.  
C) insanlar daha çok çalışarak daha güzel işler yapabilirler.  
D) her şey kendiliğinden meydana gelmiştir.

10. Salih öğretmen, öğrencilerine "Evrenin ve evrendeki düzenin sağlıklı işleyişi bizlere neyi anlatmaktadır?" diye sorar.

**Öğrencilerin vermiş olduğu cevaplardan hangisi doğrudur?**

- A) **Ali:** Birçok tanrının olduğunu gösterir.  
B) **Kerem:** Düzenin sonsuza kadar işleyeceğini gösterir.  
C) **Elif:** Düzenin kendiliğinden kurulduğunu gösterir.  
D) **Seda:** Kâinatın bir yaratıcısı olduğunu gösterir.



Choose the correct options.



1. This is Maria. She is from - - - - .

- A) Italy                      B) China  
C) Türkiye                 D) France

2.



My favourite school subject is - - - - .

- A) maths                      B) visual arts  
C) social studies            D) ICT

3.



We are German. We are from - - - - .

- A) France                      B) Iraq  
C) The USA                 D) Germany

4.



A: What is his nationality?  
B: He is from the USA. He is - - - - .

- A) Russian                    B) American  
C) Spanish                    D) Turkish

5.

Hello, I am Ali. I am from Türkiye.  
I am - - - - .

- A) Pakistani                 B) Russian  
C) Japanese                 D) Turkish

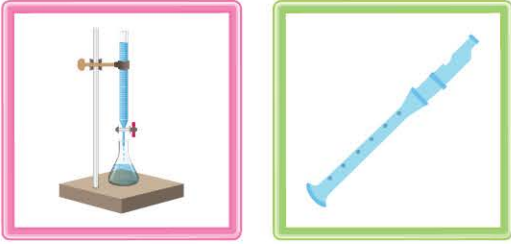
6.



I like - - - - . It is my favourite.

- A) P.E.  
B) religion and morals  
C) information technology  
D) geography

7.



Today is Tuesday. I have ---- and ----.

- A) maths - language classes
- B) science - music
- C) arts - music
- D) science - history

8.



A: What is your favourite school subject?  
B: I like ----.

- A) geography
- B) visual arts
- C) history
- D) English

9.



I like ----, but I don't like ----.

- A) Geography - Visual Arts
- B) Social studies - Religion and Morals
- C) Language classes - Maths
- D) Science - P.E.

10.



Thomas has ---- and ----.

- A) science - maths
- B) ICT - history
- C) P.E. - language classes
- D) music - visual arts

11.

A: How many ---- do you speak?  
B: Two. English and German.

- A) subjects
- B) students
- C) teachers
- D) languages

12.



Hello, I am Susan. I am 8. I study at a/an ---- school.

- A) secondary
- B) primary
- C) elective
- D) course