



CLASSMATE

KAZANIM ÖLÇEN

3'Ü SARMAL 1'İ GENEL

4 DENEME

BEÇERİ TEMELLİ SORULAR

- Kazanım Ölçen Sorular,
- Konu Sıralı Denemeler,
- Mobil Optik Uygulama,
- Soru Çözüm Videoları



Tüm Soruların Video Çözümü
akilliogretim.com'da



Okullarda uygulanacak deneme sınavlarında
Ölçme - Değerlendirme hizmeti verilmektedir.

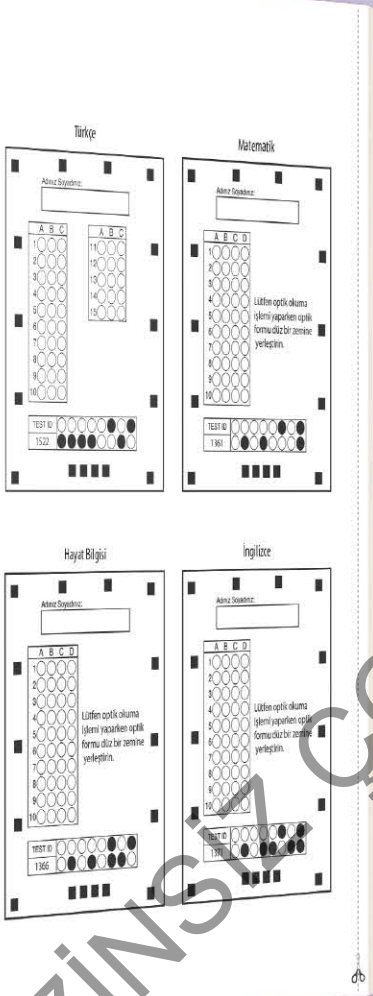
2 SINIF





Optik Okuma

Akıllı telefonuna Optik Okuma uygulamasını indir,
deneme sonucunu anında öğren!



OPTİK OKUMA NASIL ÇALIŞIR?

Uygulama açılırken güncelleme kontrolü yapacaktır, en doğru sonuçlar için uygulamanızın güncel olduğundan emin olun.



Öğrenci butonuna tıkladıktan sonra uygulama telefon kamerasız aracılığı ile optik formu taratmanızı isteyecektir.

Optik formun köşelerindeki kareleri, okuma ekranında köşelerde bulunan kırmızı kutucukların içerisine denk getirin.

Uygulama optik formunuzu tanıdığı anda değerlendirme yaparak deneme sonucunuzu getirecektir.

Okuma gerçekleştikten sonra, puanlar isimli butona tıkladığınızda hangi soruları yanlış yaptığınızı görebilirsiniz.

SORU ÇÖZÜM VİDEOLARINA NASIL ULAŞILIR?
Kare barkodları tablet veya akıllı telefonunuzla okutarak ya da kare barkodların altındaki kodu akilliogretim.com'da aratarak tüm video çözümlerine ulaşabilirsiniz.



Denemelerin konu dağılımına yandaki kare kodu okutarak veya link adresinden ulaşabilirsiniz.



<http://oky.li/DHAZO>



1



- Toplam 45 soru bulunmaktadır. Cevap süresi 90 dakikadır.
- Cevaplarınızı optikte kutucukların dışına taşırmadan kurşun kalemle işaretleyiniz.

1.



Toprağın altında küçük bir tohum yaşamış. Su ile Güneş'e "Götürün beni yeryüzüne." diye yalvarmış. Su ile Güneş aynı anda düşünmüşler, taşınmışlar yardım etmeye karar vermişler. "Haydi, uzat kollarını." demişler küçük tohuma. Tohum, sevinçle yeryüzüne çıkivermiş.

Bu metnin konusu aşağıdakilerden hangisidir?

A) Tohumun, Güneş ve sudan yardım istemesi, onların da yardım etmesi


B) Tohumun karanlıktan korkması

C) Tohumun toprak altında yaşaması

2.

1	j ile l arasındaki harf
2	d ile f arasındaki harf
3	ç ile e arasındaki harf
4	ı ile j arasındaki harf

Tabloda istenilen harfleri karşısına yazdığımızda hangi hayvanın adı ortaya çıkar?



3. Aşağıdaki cümlelerin hangisinde "mi" soru eki kuralına uygun yazılmıştır?

- A) Sen bizimle geliyor musun?
- B) Onun gibi hızlı koşar mı sın?
- C) Siz tatile gidecekmisiniz?



4.



Sembollerle gösterilen bu sözcükler sözlük sırasına göre dizildiğinde sıralama hangisi olur?

- A) ▲ ● ■ B) ▲ ■ ●
C) ■ ▲ ●

5. Aşağıdaki öğrencilerden hangisi, konuşma kurallarına uygun olmayan bir açıklama yapmıştır?

- A) Konuşurken konu dışına çıkabiliriz.
B) Konuşurken dinleyiciyle göz teması kuralmalıyız.
C) İşitilebilir bir ses tonuyla konuşmalıyız.

6.

Karıncadan örnek aldım.
Paramı kumbaraya attım.
Biriktirirsek para,
Düşmeyiz dara.


Öznur



Öznur'un şiirinin konusu aşağıdakilerden hangisidir?

- A) Tasarruf B) Kumbara
C) Para

7.



Bu görsele göre Ayşe, aşağıdakilerden hangisini söylüyor olabilir?

- A) İyi ki şemsiyemi almışım.
B) Keşke şemsiyemi alsaydım.
C) Yağmur yağarken yürümeyi çok seviyorum.



8.

	B	O	Ş
K	A		A
A	K	I	L
F		S	
A	R	I	

Bu bulmacada aşağıdaki sözcüklerden hangisinin zıt anlamı vardır?

- A) BAŞ B) DOLU
C) FİKİR

9. Ali ■ Ömer ve Ozan ba ▲ na hangi oyunu oynayacağımızı sordular ●

Bu cümlede sembollerin yerine hangi noktalama işaretleri konulmalıdır?

	■	▲	●
A)	,	-	?
B)	,	-	.
C)	,	,	!

10.

Yaşlılara yardım etmeliyiz.

Bu cümledeki altı çizili sözcüğün eş anlamı aşağıdaki cümlelerin hangisinde vardır?

- A) Gençlere örnek olmalıyız.
B) Büyüklere saygı göstermeliyiz.
C) İhtiyarları tehlikelerden korumalıyız.

11. Aşağıdaki cümlelerin hangisinde sevinç anlamı vardır?


- A) Eyvah, babam geliyor!
B) Yaşasın, oyuncaklarım geldi!
C) Yetişin, yangın var!


12. Satır sonuna sığmayan "kütüphane" sözcüğü aşağıdakilerin hangisinde yanlış bölünmüştür?


- A) küt-
üphane B) kütüpha-
ne
C) kütüp-
hane



13. Aşağıdaki cümlelerin hangisinde yazım yanlışı vardır?

A)  10 Mart, annemin doğum günüdür.

B)  Abim, cuma günü Ankara'ya gelecek.

C)  Kurban bayramı için memleketimize gideceğiz.

14. okuyacak kitap Sinan hafta sonu

Yukarıdaki sözcüklerle anlamli ve kurallı bir cümle oluşturduğumuzda renklerin sıralaması aşağıdakilerden hangisi olur?

A) 

B) 

C) 

15.

.....
Mevsime göre giyin,
Hiç üşütme kendini.
Zamanında aşı ol,
Sık sık yıka elini.

Bu şiire en uygun başlık aşağıdakilerden hangisidir?

A) Aşı

B) Temizlik

C) Sağlık

Adınız Soyadınız:


	A	B	C
1	<input type="radio"/>	<input type="radio"/>	<input type="radio"/>
2	<input type="radio"/>	<input type="radio"/>	<input type="radio"/>
3	<input type="radio"/>	<input type="radio"/>	<input type="radio"/>
4	<input type="radio"/>	<input type="radio"/>	<input type="radio"/>
5	<input type="radio"/>	<input type="radio"/>	<input type="radio"/>
6	<input type="radio"/>	<input type="radio"/>	<input type="radio"/>
7	<input type="radio"/>	<input type="radio"/>	<input type="radio"/>
8	<input type="radio"/>	<input type="radio"/>	<input type="radio"/>
9	<input type="radio"/>	<input type="radio"/>	<input type="radio"/>
10	<input type="radio"/>	<input type="radio"/>	<input type="radio"/>

	A	B	C
11	<input type="radio"/>	<input type="radio"/>	<input type="radio"/>
12	<input type="radio"/>	<input type="radio"/>	<input type="radio"/>
13	<input type="radio"/>	<input type="radio"/>	<input type="radio"/>
14	<input type="radio"/>	<input type="radio"/>	<input type="radio"/>
15	<input type="radio"/>	<input type="radio"/>	<input type="radio"/>

TEST ID	<input type="radio"/>	<input type="radio"/>	<input type="radio"/>	<input type="radio"/>	<input type="radio"/>	<input type="radio"/>	<input type="radio"/>	<input type="radio"/>	<input type="radio"/>
1522	<input type="radio"/>	<input type="radio"/>	<input type="radio"/>	<input type="radio"/>	<input type="radio"/>	<input type="radio"/>	<input type="radio"/>	<input type="radio"/>	<input type="radio"/>



1.



Yukarıdaki topların sayısını hangi öğrenci doğru söylemiştir?

- A) 40 B) 42 C) 38

2.



Bu sayılardan hangileri aynı onluğa yakındır?

- A) 52 ile 61
B) 61 ile 76
C) 45 ile 52

3.

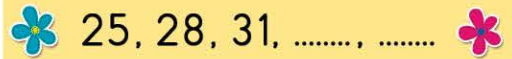


Yukarıdaki sayılar büyükten küçüğe doğru sıralanacaktır.

Buna göre, yapılan sıralamanın sembollerle gösterimi aşağıdakilerden hangisidir?

- A) ★, ●, ■
B) ■, ●, ★
C) ●, ★, ■

4.



Bu sayı örüntüsü için aşağıdakilerden hangisi söylenemez?

- A) Örüntüde sayılar dörder artıyor.
B) Örüntüde sayılar üçer artıyor.
C) Örüntüde verilmeyen sayılar sırasıyla 34 ve 37'dir.



5.



57 sayısının onlar basamağındaki rakamın basamak değeri kaçtır?

Nilgün Öğretmen'in sorduğu soruya hangi öğrenci doğru cevap vermiştir?

A)

5



B)

7



C)

50



6.

$$29 + 18$$

63

$$67 + 24$$

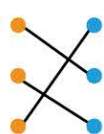
47

$$36 + 27$$

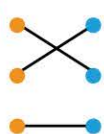
91

Yukarıdaki işlemler sonuçlarıyla eşleştirildiğinde hangi şekil ortaya çıkar?

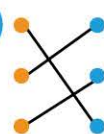
A)



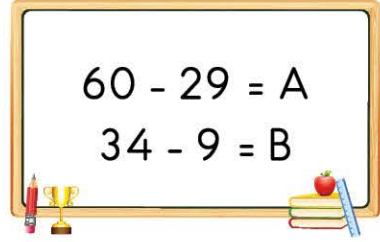
B)



C)



7.



Yukarıdaki çıkarma işlemlerine göre A - B işleminin sonucu kaçtır?

A) 4

B) 5

C) 6

8.

Onluk	Birlik
★ ★	● ● ●
★ ★	● ● ●
★ ★	● ● ●

Beril'in hazırladığı tabloda;

1 tane ★ → 1 onluğu,

1 tane ● → 1 birliği

göstermektedir.

Beril'in, tabloda gösterdiği sayı aşağıdakilerden hangisi ola-
maz?

A) 96

B) 69

C) 6 onluk 9 birlik

9.

3'ten başlayıp ileriye doğru üçer ritmik sayarken yedinci saymada 24 sayısını söyleriz.



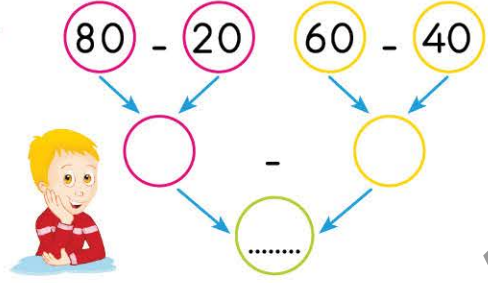
Uykusunda bile öğrendiklerini tekrar ediyor.

Alıntı

Kuzunun rüyasında söyledikleri ile ilgili olarak aşağıdaki açıklamalardan hangisi doğrudur?

- A) Hayır, yedinci saymada 21 sayısını söyleriz.
- B) Evet, yedinci saymada 24 sayısını söyleriz.
- C) Hayır, yedinci saymada 18 sayısını söyleriz.

10.



Yukarıdaki çıkarma işlemlerini zihinden yapan Oktay, noktalı yere hangi sayıyı yazmalıdır?

- A) 20
- B) 40
- C) 60

Adınız Soyadınız:

A B C

1	<input type="radio"/>	<input type="radio"/>	<input type="radio"/>
2	<input type="radio"/>	<input type="radio"/>	<input type="radio"/>
3	<input type="radio"/>	<input type="radio"/>	<input type="radio"/>
4	<input type="radio"/>	<input type="radio"/>	<input type="radio"/>
5	<input type="radio"/>	<input type="radio"/>	<input type="radio"/>
6	<input type="radio"/>	<input type="radio"/>	<input type="radio"/>
7	<input type="radio"/>	<input type="radio"/>	<input type="radio"/>
8	<input type="radio"/>	<input type="radio"/>	<input type="radio"/>
9	<input type="radio"/>	<input type="radio"/>	<input type="radio"/>
10	<input type="radio"/>	<input type="radio"/>	<input type="radio"/>

TEST ID	<input type="radio"/>	<input type="radio"/>	<input type="radio"/>	<input type="radio"/>	<input type="radio"/>	<input type="radio"/>	<input type="radio"/>	<input type="radio"/>	<input type="radio"/>
1527	<input checked="" type="radio"/>	<input checked="" type="radio"/>	<input checked="" type="radio"/>	<input checked="" type="radio"/>	<input type="radio"/>	<input checked="" type="radio"/>	<input checked="" type="radio"/>	<input checked="" type="radio"/>	<input checked="" type="radio"/>



1. 1 Kıvrıkcak saçlıyım. 2 Resim çizmekten hoşlanırım.
- 3 Ayakkabılarımı bağlayabilirim. 4 Uzun boyluyum.

Fiziksel özelliklerin yazılı olduğu kartlar hangileridir?

- A) 1 ve 2 B) 2 ve 3
C) 1 ve 4

2.



Sema, koridorda yanlışlıkla Ezgi'ye çarptı.

Sema, doğru iletişim kurmak için aşağıdakilerden hangisini yapmalıdır?

- A) Ezgi'ye kaba ve kırıcı sözler söylemelidir.
B) İstmeden çarptığını belirtip Ezgi'den özür dilemelidir.
C) Önüne çıktığı için Ezgi'ye bağırmalıdır.

3.



Bu şekle göre Şule'nin evine en yakın ve en uzak olan yapılar sırasıyla aşağıdakilerin hangisinde verilmiştir?

- A) Sağlık Ocağı - Okul
B) Kütüphane - Eczane
C) Okul - Kütüphane

4. Sınıfla ilgili konularda karar alırken aşağıdakilerden hangisini yapmamalıyız?

- A) Kararları hep birlikte almamız.
B) Karar alırken farklı görüşlere saygı duymamız.
C) Karar alırken sadece sınıf başkanına sormalıyız.



5.



Okul çantasını hazırlayan Eda'nın aşağıdakilerden hangisini yapması yanlış olur?

- A) Okul çantasını günlük ders programına göre hazırlaması
- B) Ders araç ve gereçlerinin hepsini çantasına koyması
- C) Ders araç ve gereçlerini özenle çantasına yerleştir-mesi

6. Aşağıdaki öğrencilerden hangisi bireysel farklılıklara saygı duymuştur?

A)



Belgin'le saçımızın rengi aynı olmayabilir.

B)



Zeynep, benim gibi güzel yazamıyor.

C)



Kemal'in sınavda heyecanlanması normal değil.

7.

	Bilgiler	D	Y
1	Grup çalışmasında arkadaşlarımızın düşüncelerine saygı duymalıyız.		✓
2	Üzerimize aldığımız görevi zamanında yerine getirmeliyiz.	✓	
3	Grup çalışmasında sadece grup liderinin çalışmasını beklemeliyiz.		✓

Grup çalışmasıyla ilgili yukarıdaki doğru yanlış tablosunda kaç numaralı bilgiler yanlış işaretlenmiştir?

A) 1 ve 2

B) 1 ve 3

C) 2 ve 3



8. Ayça, öğretmeni ders anlatırken
Bu ifade aşağıdakilerin hangisiyle tamamlanırsa Ayça, dinleme kurallarına uymuş olur?

- A) sözünü kesmeden dinledi
- B) sözü bitmeden soru sordu
- C) başka şeylerle ilgilendi

9.

Sınıfın boşa yanan lambalarını kapatırım.	Okul sıramın üzerini temiz tutmam.
Soğuk havalarda sınıf penceresini gereğinden fazla açarım.	Okulda ellerimi yıkarken musluğu sonuna kadar açarım.

Tabloda, okul kaynaklarının ve eşyalarının özensiz kullanıldığı belirtilen kutuları boyadığımızda tablonun yeni hâli hangisi olur?

- A)

- B)

- C)

10. Ece, okul bahçesinde arkadaşlarıyla top oynarken yanlışlıkla topu bahçeden dışarı attı.
Bu durum sonucunda arkadaşlarından hangisi Ece'ye nazik davranmıştır?

A)



Zuhal

Bundan sonra daha dikkatli olacağımı biliyorum.

B)



Eda

Bu oyunu bilmiyorsun, oyundan çıkmalısın.

C)



Fatma

Seni bir daha oyna almayacağım.

Adınız Soyadınız:

	A	B	C
1	<input type="radio"/>	<input type="radio"/>	<input type="radio"/>
2	<input type="radio"/>	<input type="radio"/>	<input type="radio"/>
3	<input type="radio"/>	<input type="radio"/>	<input type="radio"/>
4	<input type="radio"/>	<input type="radio"/>	<input type="radio"/>
5	<input type="radio"/>	<input type="radio"/>	<input type="radio"/>
6	<input type="radio"/>	<input type="radio"/>	<input type="radio"/>
7	<input type="radio"/>	<input type="radio"/>	<input type="radio"/>
8	<input type="radio"/>	<input type="radio"/>	<input type="radio"/>
9	<input type="radio"/>	<input type="radio"/>	<input type="radio"/>
10	<input type="radio"/>	<input type="radio"/>	<input type="radio"/>

TEST ID	<input type="radio"/>	<input type="radio"/>	<input type="radio"/>	<input type="radio"/>	<input type="radio"/>	<input type="radio"/>	<input type="radio"/>	<input type="radio"/>	<input type="radio"/>
1531	<input checked="" type="radio"/>	<input checked="" type="radio"/>	<input checked="" type="radio"/>	<input checked="" type="radio"/>	<input checked="" type="radio"/>	<input checked="" type="radio"/>	<input checked="" type="radio"/>	<input checked="" type="radio"/>	<input checked="" type="radio"/>



1.  What is this?
It's a / an

Sorunun yanıtı hangi seçenekte verilmiştir?

- A) balloon B) office
C) video

3.



Günün bu saatinde birbirimize ne söylemeliyiz?

- A) Good afternoon!
B) Good night!
C) Good morning!



Ali ve Selin ayrılırken birbirlerine ne söylemelidir?

- A) Hello! B) Goodbye!
C) Hi!

4.



Verilen yanıtı göre soru cümlesi ne olmalıdır?

- A) What's your name?
B) What is that?
C) How are you?



5.



Günün bu saatinde birbirimize ne söylemeliyiz?

- A) Good night!
- B) Good morning!
- C) Good afternoon!

7.



Resimdeki nesnelerin adı hangi seçenekte yoktur?

- A) Laptop
- B) Piano
- C) Train


6.



Resimdeki nesne hangi seçenekte verilmiştir?

- A) Television
- B) Radio
- C) Wagon

8.




Konuşma balonunu doğru tamamlayan seçenek hangisidir?

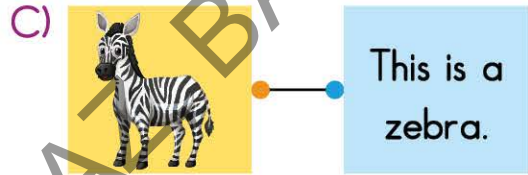
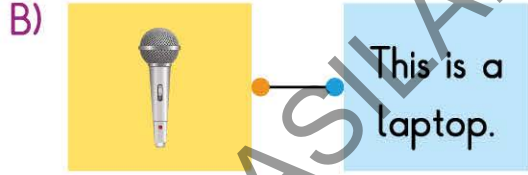
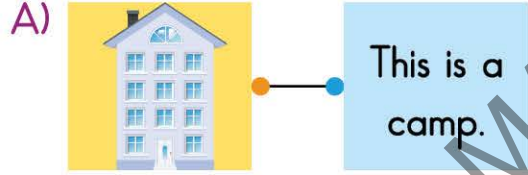
- A) this is a television.
- B) my name is Bonny.
- C) what is this?



9. "That is an ambulance."
Cümlesini hangi seçenek doğru anlatır?



10. Aşağıdaki eşleştirmelerden hangisi doğrudur?



Adınız Soyadınız:

	A	B	C
1	<input type="radio"/>	<input type="radio"/>	<input type="radio"/>
2	<input type="radio"/>	<input type="radio"/>	<input type="radio"/>
3	<input type="radio"/>	<input type="radio"/>	<input type="radio"/>
4	<input type="radio"/>	<input type="radio"/>	<input type="radio"/>
5	<input type="radio"/>	<input type="radio"/>	<input type="radio"/>
6	<input type="radio"/>	<input type="radio"/>	<input type="radio"/>
7	<input type="radio"/>	<input type="radio"/>	<input type="radio"/>
8	<input type="radio"/>	<input type="radio"/>	<input type="radio"/>
9	<input type="radio"/>	<input type="radio"/>	<input type="radio"/>
10	<input type="radio"/>	<input type="radio"/>	<input type="radio"/>

TEST ID	<input type="radio"/>	<input type="radio"/>	<input type="radio"/>	<input type="radio"/>	<input type="radio"/>	<input type="radio"/>	<input type="radio"/>	<input type="radio"/>	<input type="radio"/>
1535	<input type="radio"/>	<input type="radio"/>	<input type="radio"/>	<input type="radio"/>	<input type="radio"/>	<input type="radio"/>	<input type="radio"/>	<input type="radio"/>	<input type="radio"/>



CLASSMATE İLE

ÖĞRENMEK ÇOK KOLAY!



[facebook.com/okyanusyayinlari](https://www.facebook.com/okyanusyayinlari)

[instagram.com/okyanusyayincilik](https://www.instagram.com/okyanusyayincilik)

[youtube.com/okyanusyayincilik](https://www.youtube.com/okyanusyayincilik)