

TYT

Tümü Özel Taktikli Video Çözümlü

20

**SOSYAL BİLİMLER
DENEMESİ**

Okyanus Optik Okuma ile Sonuçlarını Anında Öğren

Mustafa Nar - Hakan Aksoy - Ali Hıdır Emre - Osman Sarı

Çek Kopar



SOSYAL BİLİMLER

TESTİ - 1

1. Bu testte Tarih (1 - 5), Coğrafya (6 - 10), Felsefe (11 - 15), Din Kültürü ve Ahlak Bilgisi (16 - 20) ile ilgili toplam 20 soru vardır.
2. Cevaplarınızı, cevap kâğıdının Sosyal Bilimler Testi için ayrılan kısmına işaretleyiniz.



0AE90D55

1. Bozkırın sert yapısı, Orta Asya'da yaşayan Türkleri konar - göçer yaşam tarzına mecbur etmiştir. Bozkır, adaların ve vahaların dışında insanlara kalıcı bir yerleşme ve dinlenme imkanı tanımamıştır. **Buna göre, Orta Asya'daki Türklerin yaşam tarzlarının aşağıdakilerden hangisine ortam hazırladığı savunulamaz?**

- A) Ekonominin temelini hayvancılığa dayalı olarak şekillenmesine
- B) Ulaşımında ve göçlerde atlardan yararlanılmasına
- C) Hareket kabiliyeti yüksek, savaşçı toplum yapısının görülmesine
- D) Savaşlarda atlı birliklerin oluşturulmasına
- E) Komşu ülkelerle dostane ilişkilerin kurulmasına

2. **Anadolu Selçuklu Devleti, XIII. yüzyılın II. yarısında Anadolu ve Türkmen Beyleri üzerindeki nüfuzunu;**
 - I. Babailer İsyanı'nın görülmesi,
 - II. İlhanlılarla Kösedeğ Savaşı'nın yapılması,
 - III. Osmanlı Devleti'nin kurulması**gelişmelerinden hangilerinin etkisiyle koruyamamıştır?**

- A) Yalnız I
- B) Yalnız II
- C) I ve II
- D) I ve III
- E) II ve III

3. **Avusturya İmparatoru Ferdinand'ın elçisi Busbecq'in, "Müslümanlar, Osmanlı hanedanı sayesinde ayakta duruyorlar. Hanedan yıkılırsa din de mahvolur. Bu sebeple hanedanın, din ve devletin selâmeti ve bekâsı evlattan daha mühimdir." sözleriyle Osmanlılarla ilgili olarak,**
 - I. siyasal güç ve otorite ile İslam dünyasının da bulunduğu,
 - II. devletin bekâ sorununun kardeşlerin hayatından daha öncelikli görüldüğü,
 - III. hanedanının iç siyaset kargaşasından "kardeş katli uygulaması" ile uzak tutulmak istendiği**yargılarından hangilerine vurgu yaptığı savunulabilir?**

- A) Yalnız I
- B) Yalnız III
- C) I ve II
- D) II ve III
- E) I, II ve III

4. **Atatürk'ün "... fertlerin hususi teşebbüslerini ve faaliyetlerini esas tutmak fakat büyük bir milletin bütün ihtiyaçlarını ve birçok şeyin yapılmadığını göz önünde tutarak memleket iktisadiyatını devletin eline almak..." ifadeleriyle aşağıdaki ilkelere hangisine vurgu yaptığı savunulabilir?**

- A) Halkçılık
- B) Devletçilik
- C) Milliyetçilik
- D) İnkılapçılık
- E) Cumhuriyetçilik

5. Erzurum Kongresi'nde alınan kararlardan bazıları şunlardır:
 - I. Millî sınırlar içinde vatan bir bütündür, bölünemez.
 - II. Kuvay-ı Milliye'yi etkin ve millî iradeyi egemen kılmak esastır.
 - III. Manda ve himaye kabul edilemez.
 - IV. Mebusan Meclisi'nin derhal toplanmasına ve hükümet işlerinin meclisin denetimi altında yürütülmesine çalışılacaktır.

Erzurum Kongresi'nde alınan bu kararlardan hangileri kayıtsız - şartsız bağımsızlığın amaçlandığını açıkça gösterir?

- A) I ve II
- B) I ve III
- C) I ve IV
- D) II ve IV
- E) III ve IV

6. Coğrafi bilgi mirasına katkıda bulunan bilim insanlarının, İlk Çağ'dan günümüze kadar coğrafya biliminin gelişmesinde büyük etkileri olmuştur.

Aşağıda verilen coğrafyacıardan hangisi ilk Çağ'da yaşamamıştır?

- A) Thales (Tales) B) Strabon
C) Herodot D) Erotesthenes
E) Evliya Çelebi

7. Karın yıl boyunca erimeden kalabildiği sınıra kalıcı kar sınırı (toktağan sınır) denir.

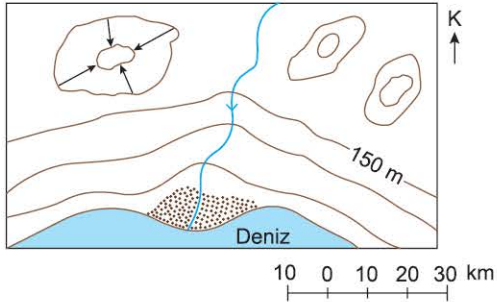
Kalıcı kar sınırının Ekvator'dan kutuplara doğru gidildikçe deniz seviyesine yaklaşmasında;

- I. okyanus akıntıları,
II. Güneş ışınlarının yere düşme açısı,
III. yükselti,
IV. karasallık

faktörlerinden hangileri etkilidir?

- A) Yalnız I B) Yalnız II C) Yalnız III
D) II ve III E) II ve IV

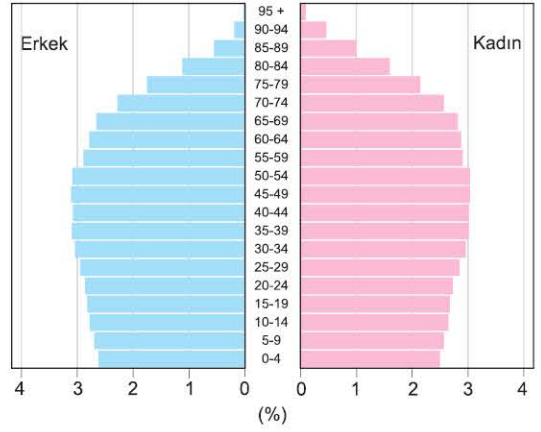
8. Aşağıda bir bölgeye ait topoğrafya haritası verilmiştir.



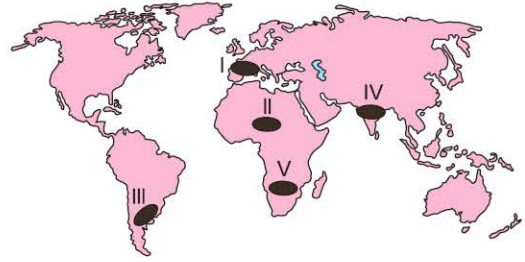
Buna göre, yukarıdaki izohips haritası ile ilgili aşağıdaki bilgilerden hangisi söylenemez?

- A) Bölgenin kuzeydoğusunda boyun yer alır.
B) İzohipsler 50 m aralıklarla çizilmiştir.
C) Bölgede çanak (kapalı çukur) bulunur.
D) Akarsuyun rejimi düzenlidir.
E) Kıyıda kıta sahanlığı geniştir.

9. Aşağıda bir ülkeye ait nüfus piramidi verilmiştir.



Buna göre, yukarıda verilen nüfus piramidi, aşağıdaki haritada numaralandırılan ülkelere ait olabilir?



- A) V B) IV C) III D) II E) I

10. • Resmi açılışı 1895 yılında gerçekleştirilen kanal, Kuzey Denizi ile Baltık Denizi'ni birbirine bağlar.
• Avrupa'da tatil için gözde mekânlardan biridir.
• Uzunluğu yaklaşık 98 km olan bu kanal Avrupa'daki en yoğun ve en çok talep edilen kanaldır.

Yukarıda bazı özellikleri verilen kanal aşağıdaki-lerden hangisidir?

- A) Korint Kanalı
B) Kiel Kanalı
C) Süveyş Kanalı
D) Gota Kanalı
E) Panama Kanalı

11. "Felsefe nedir?" sorusuna felsefenin ortaya çıktığı tarihten bu yana herkesin üzerinde uzlaşabildiği tek bir cevap verilememiştir. Bu soruya her filozof kendince bir tanım getirmekte ve bu tanım o filozofun kendi felsefi yaklaşımını ortaya koymaktadır. Örneğin Aristoteles'e göre felsefe, var olanın ilk temellerini ve ilkelerini araştıran bir bilgi dalıdır. Jaspers'a göre ise felsefe hep yolda olmaktır.

Parçada sözü edilen durum, felsefenin aşağıdaki hangi özelliğinden kaynaklanmaktadır?

- A) Kümülatif olma
B) Refleksif olma
C) Rasyonel olma
D) Tutarlı olma
E) Sübjektif olma

12. Hobbes'a göre insanların bir araya gelerek "kendi aralarında" imzaladıkları toplum sözleşmesi ile kendi sınırsız özgürlüklerine son vermeleri söz konusu olmuştur. İnsanlar kendi aralarında yaptıkları bir sözleşme ile bütün haklarını bir egemene, sözleşmede taraf olmayan bir egemene, temelli olarak devretmişlerdir. İnsanlar başlarına bütün haklarını devrettikleri bir egemeni geçirecek devleti kurmuş ve doğa durumundan uygar toplum durumuna geçmişlerdir.

Buna göre Hobbes'ın görüşleri siyaset felsefesinin aşağıdaki hangi temel sorunsalı ile ilişkilidir?

- A) Bireyin temel hakları
B) Sivil toplumun anlamı
C) Devletin ortaya çıkışı
D) Birey - devlet ilişkisi
E) Meşruiyetin ölçütü

13. Masamın üzerinde bulunan şu bardak vardır. Ancak o var olmadan önce düşünülmüş, belki onu imal eden tarafından bir kâğıt üzerine çizilmiştir. Belli bir modele göre ve belli bir kullanım amacıyla imal edilmiş olan bu bardak, bir varoluş olmadan önce bir kavram, bir fikir, başka bir deyişle bir öz olmuştur. Ama ben, insan, şu veya bu şey olmadan önce varım. Şu veya bu şey olmaya karar veren benim.

Bu parçadaki görüşler aşağıdaki felsefi yaklaşımlardan hangisiyle açıklanır?

- A) Sartre'in egzistansiyalizm anlayışı
B) Husserl'in fenomenolojizm anlayışı
C) Hegel'in diyalektik idealizm anlayışı
D) Nietzsche'nin nihilizm anlayışı
E) Bergson'un entüisyonizm anlayışı

14. Auguste Comte'un üç hâl kanunu adı verilen teorisi-ne göre insan bilgisinin geçirdiği ilk aşama teolojik aşamadır. Bu aşamada doğa olayları ilahi güçlerin müdahalesiyle açıklanmaktadır. İkinci aşama olan metafizik aşamada ise açıklamaların dayanağı ilahi varlıklar değil soyut düşüncedir. Metafizik dönemde kanıtlama hayal gücünün yerini almıştır. Pozitif aşamada hem teolojik aşamadaki hayal gücünün hem de metafizik aşamadaki kanıtlanmanın yerini gözlem almıştır. Açıklama artık doğaüstü olaylarda ya da soyut ilkelere değil yasaların bulunmasına dayanmaktadır.

Buna göre "Auguste Comte'un üç hâl yasası" sırasıyla aşağıdaki alanlardan hangisini işaret etmektedir?

- A) Sanat - Fizikötesi - Bilim
B) Din - Bilim - Felsefe
C) Mitoloji - Sanat - Felsefe
D) Fizikötesi - Ontoloji - Din
E) Din - Fizikötesi - Bilim

15. Schiller'e göre insanda iki temel dürtü var. Bunlardan biri duyumsal, biri formel dürtüdür. Duyumsal dürtü her zaman değişme için bastırıyor, formel dürtüye birlik ve sürekliliği, devamlılığı arıyor. Bu ikisinin de sınırlanmaya ihtiyacı var. Mesela duyumsal dürtü ahlak yasalarına zarar verebilir, formel dürtüdeyse duygular zarar görebilir. Schiller'e göre bu iki temel dürtü arasındaki uyum, insandaki bölünmüşlüğü, yabancılaşmanın ilacı olan üçüncü dürtü yani sanatla ortaya çıkar ve gerçekleşir.

Bu parçada aşağıdakilerden hangisi vurgulanmıştır?

- A) Sanat, evrende var olanı yansıtan bir mimesistir.
B) Sanat, kendini gerçekleştirmenin bir aracıdır.
C) Sanat, insanda var olan diğer dürtüleri ortadan kaldırır.
D) Sanat, insanı doğadan koparıp kendine yabancılaştırır.
E) Sanat, idealar dünyasının taklidi olan nesnelere takliddir.

16. "De ki: O, Allah birdir. Allah sameddir. O doğurmamış ve doğmamıştır. Onun hiçbir dengi yoktur." (İhlâs Suresi 1-4. Ayetler)

Verilen ayet;

- I. İslam tevhid dinidir.
II. Allah var olmak için hiçbir varlığa ihtiyaç duymaz.
III. Bütün varlıkların üstünde olan Allah'tır.

yargılarından hangileri ile aynı doğrultudadır?

- A) Yalnız I B) Yalnız II C) I ve III
D) II ve III E) I, II ve III

17. "Sevdiğiniz şeylerden Allah yolunda harcamadıkça iyiliğe asla erişemezsiniz. Her ne harcarsanız Allah onu bilir." (Âl-i İmrân Suresi 92. Ayet)

Verilen ayet aşağıdakilerden hangisi ile ilgilidir?

- A) İnfak B) Sıratı Müstakim C) Nübüvvet
D) Mağfiret E) İtikat

18.



Günümüzde İsrail bayrağında görülen ve geçmişte, Hz. Süleyman'ın ve Hz. Davud'un mührü "Sion Yıldızı" olarak da bilinen "Altı Köşeli Yıldız" tarihte; Barbaros Hayreddin Paşa, Candaroğulları beyliği, Karamanoğulları beyliği vs. tarafından bayrak veya sancak olarak kullanılırken, İslam sanatına ait pek çok mimari eserde de öne çıkmıştır.

Bu bilgiler Altı Köşeli Yıldız için;

- I. İslam dünyası tarafından sahiplenilmiştir.
II. Evensel bir değerdir.
III. Yalnızca İsrail'e ait bir sembol değildir.

yargılarından hangilerine kanıt olarak gösterilebilir?

- A) Yalnız I B) Yalnız II C) I ve II
D) I ve III E) I, II ve III

19. "... Artık yüzünü Mescid-i Harâm tarafına çevir; nere-de olursanız olun (namazda) yüzünüzü o yöne çevirin. ..." (Bakara Suresi 144. ayet)

Bu ayet aşağıdaki kavramlardan hangisi ile ilişkilidir?

- A) Hadis B) Kible C) Takva
D) Kader E) Hitabet

20. Tasavvufi düşünceye göre varlıkların tamamında Allah'ın "Cema" (güzellik) özelliği bulunmaktadır.

Bu inanış tasavvufi düşüncede aşağıdakilerden hangisini ortaya çıkarmıştır?

- A) Dergâhlarda bozgunculara yer verilmemesini
B) Yaratılan her şeyin yaratandan ötürü sevilmesini
C) Allah'ın kâinatta görülebildiği düşüncesini
D) Sünnete bağlılık ilkesinin önemsenmesini
E) Hz. Muhammed ahlakının temel ilke kabul edilmesini

Adınız Soyadınız:

	A	B	C	D	E		A	B	C	D	E
1	<input type="radio"/>	<input type="radio"/>	<input type="radio"/>	<input type="radio"/>	<input type="radio"/>	11	<input type="radio"/>	<input type="radio"/>	<input type="radio"/>	<input type="radio"/>	<input type="radio"/>
2	<input type="radio"/>	<input type="radio"/>	<input type="radio"/>	<input type="radio"/>	<input type="radio"/>	12	<input type="radio"/>	<input type="radio"/>	<input type="radio"/>	<input type="radio"/>	<input type="radio"/>
3	<input type="radio"/>	<input type="radio"/>	<input type="radio"/>	<input type="radio"/>	<input type="radio"/>	13	<input type="radio"/>	<input type="radio"/>	<input type="radio"/>	<input type="radio"/>	<input type="radio"/>
4	<input type="radio"/>	<input type="radio"/>	<input type="radio"/>	<input type="radio"/>	<input type="radio"/>	14	<input type="radio"/>	<input type="radio"/>	<input type="radio"/>	<input type="radio"/>	<input type="radio"/>
5	<input type="radio"/>	<input type="radio"/>	<input type="radio"/>	<input type="radio"/>	<input type="radio"/>	15	<input type="radio"/>	<input type="radio"/>	<input type="radio"/>	<input type="radio"/>	<input type="radio"/>
6	<input type="radio"/>	<input type="radio"/>	<input type="radio"/>	<input type="radio"/>	<input type="radio"/>	16	<input type="radio"/>	<input type="radio"/>	<input type="radio"/>	<input type="radio"/>	<input type="radio"/>
7	<input type="radio"/>	<input type="radio"/>	<input type="radio"/>	<input type="radio"/>	<input type="radio"/>	17	<input type="radio"/>	<input type="radio"/>	<input type="radio"/>	<input type="radio"/>	<input type="radio"/>
8	<input type="radio"/>	<input type="radio"/>	<input type="radio"/>	<input type="radio"/>	<input type="radio"/>	18	<input type="radio"/>	<input type="radio"/>	<input type="radio"/>	<input type="radio"/>	<input type="radio"/>
9	<input type="radio"/>	<input type="radio"/>	<input type="radio"/>	<input type="radio"/>	<input type="radio"/>	19	<input type="radio"/>	<input type="radio"/>	<input type="radio"/>	<input type="radio"/>	<input type="radio"/>
10	<input type="radio"/>	<input type="radio"/>	<input type="radio"/>	<input type="radio"/>	<input type="radio"/>	20	<input type="radio"/>	<input type="radio"/>	<input type="radio"/>	<input type="radio"/>	<input type="radio"/>

TEST ID:

2001

SOSYAL BİLİMLER

TESTİ - 3

1. Bu testte Tarih (1 - 5), Coğrafya (6 - 10), Felsefe (11 - 15), Din Kültürü ve Ahlak Bilgisi (16 - 20) ile ilgili toplam 20 soru vardır.
2. Cevaplarınızı, cevap kâğıdının Sosyal Bilimler Testi için ayrılan kısmına işaretleyiniz.



0C6B01A0

1. Türk devlet teşkilatında Kurultay (toy); siyasi, kültürel, hukuki ve ekonomik konularda genel kararlar alan ve devlet yönetiminin temelini oluşturan en yüksek kuruluştur. Kağan, hanedan üyeleri, hatun, aygucu ve boy beylerinden oluşan Kurultay, genellikle yılda üç kez toplanarak devlet işlerini görüşürdü. Kağan, Kurultay'ın doğal başkanıydı ve Kağan'ın olmadığı zamanlarda Aygucu (Başbakan) Kurultay'a başkanlık ederdi. Kurultay'da son söz hakkı Kağan'a aitti.
Türk devlet teşkilatında Kurultay'a ilişkin verilerler doğrultusunda aşağıdaki genellemelerden hangisine ulaşamaz?

- A) Aygucu'nun Kağanı temsil hakkının olduğu
- B) Kurultay'ın danışma organı gibi çalıştığı
- C) Demokratik yönetim anlayışıyla benzeşen uygulamaların görüldüğü
- D) Kağan'ın dışında Kurultay üyelerine söz hakkı verilmediği
- E) Yılın belli zamanlarında devlet işlerinin görüşüldüğü kurul olarak faaliyet gösterdiği

2. "Büyük Selçuklular zamanında Türk dilinin gelişimi yavaşlamıştır." ifadesine yer veren Gökçe Öğretmen, Büyük Selçuklularla ilgili aşağıdaki yargılardan hangisi ile bu tezini doğrulamış olur?

- A) Bilim dili olarak Arapça'nın devletler arası yazışma dili olarak Farsça'nın önem kazanması
- B) Gulam sistemi ile değişik toplulukların çocuklarının alınarak belli bir eğitim sonrası orduya ve yönetime kazandırılması
- C) Ülke sınırlarının Horasan'dan Marmara kıyılarına, Kafkaslardan Mısır'a kadar uzanması
- D) Anadolu'nun kapısının Türklere açılması ve Horasan'dan Anadolu'ya Oğuz göçlerinin yaşanması
- E) Yönetimde İnan kökenli vezir Nizamülmülk'ün hem Alparslan hem de Melikşah'a vezirlik yapması

3. XIX. yüzyılda Osmanlı Devleti;

- I. azınlık isyanlarının çıkması,
 - II. Mehmet Ali Paşa İsyanı'nın yaşanması,
 - III. Düyûn-u Umûmiye İdaresi'nin kurulması
- gelişmelerinin hangilerinden kaynaklı Batılı devletlerin olumsuz etkileri ile karşılaşmıştır?**

- A) Yalnız I
- B) Yalnız II
- C) I ve III
- D) II ve III
- E) I, II ve III

4. Birinci Dünya Savaşı'nda Osmanlı Devleti,

- I. Çanakkale,
- II. Kuttu'l-Amare,
- III. Suriye

savaşlarından hangilerinde başarılar elde etmiştir?

- A) Yalnız I
- B) Yalnız II
- C) I ve II
- D) I ve III
- E) II ve III

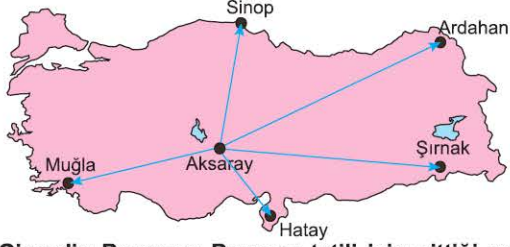
5. Lozan Antlaşması sonrası Türkiye Cumhuriyeti,

- I. Boğazlar Komisyonu'nun Montrö Boğazlar Sözleşmesi ile kaldırılarak yetkilerinin Türk Hükümeti'ne devredilmesinin sağlanması,
- II. Kabotaj Kanunu ile Türk karasularında yabancıların serbest ticaret ve dolaşım haklarına son verilmesi,
- III. Milletler Cemiyeti'ne üyelik davetinin kabul edilmesi

tutumlarından hangileriyle egemenlik haklarını güçlendirmeyi ve bağımsız devlet anlayışını yerleştirmeyi öncelikle gözetmiştir?

- A) Yalnız I
- B) Yalnız II
- C) Yalnız III
- D) I ve II
- E) I ve III

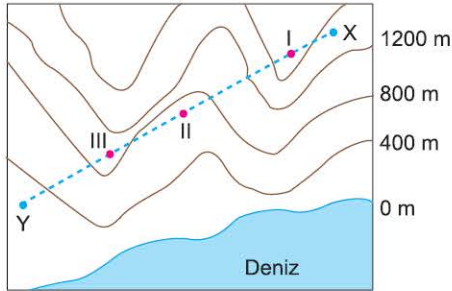
6. Haziran ayında Ramazan Bayramı tatili için Aksaray'dan tatile giden Gizem, gittiği yerin gündüz süresinin Aksaray'a göre hem daha kısa olduğunu hem de Güneş'in daha geç doğduğunu gözlemlemiştir.



Gizem'in Ramazan Bayramı tatili için gittiği yer yukarıdaki haritada verilen şehirlerden hangisidir?

- A) Şırnak B) Sinop C) Muğla
D) Hatay E) Ardahan

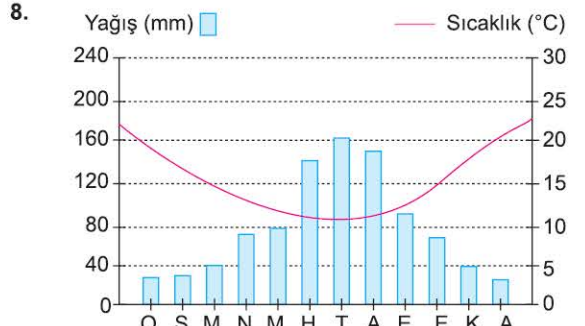
7. Kara yolu ve demir yolu ulaşımında yer şekillerinin olumsuz etkileri köprü veya tünellerle aşılabilmektedir.



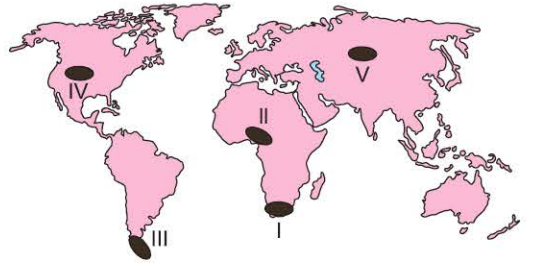
Yukarıdaki izohips haritasında verilen X ve Y noktaları arasında yol yapılması planlanmaktadır.

Buna göre, numaralandırılmış alanların hangilerinde ulaşımın sağlanması için tünel açılması gerekir?

- A) Yalnız I B) Yalnız II C) Yalnız III
D) I ve II E) I ve III



Yukarıda aylara göre sıcaklık ve yağışın dağılışını gösteren grafik verilmiştir.



Buna göre, verilen sıcaklık ve yağış grafiği haritada gösterilen yerlerden hangisine ait olduğu söylenebilir?

- A) I B) II C) III D) IV E) V

9. Bulunduğu bölgenin akarsularını anlatan bir coğrafya öğretmeni, "Bölgemizde akarsular denge profiline ulaşmıştır." bilgisini vermiştir.

Aşağıda bölgenin akarsuları hakkında verilen bilgilerden hangisi yukarıdaki yargıya kesin kanıt oluşturur?

- A) Akarsuların akımının az olması
B) Akarsu rejiminin düzenli olması
C) Akarsuların üzerinde ulaşımın yapılması
D) Taşıdıkları yüklerin azalması
E) Akarsuların boylarının uzun olması

10. Türkiye'de kırsal nüfus oranı azalırken kentsel nüfus oranının arttığı görülmektedir.

Bu durumun yaşanmasında;

- I. Tarımda makineleşmenin artması,
II. Tarım alanlarının genişlemesi,
III. Tarım gelirlerinin artması

faktörlerden hangilerinin etkili olduğu söylenemez?

- A) Yalnız I B) Yalnız II C) Yalnız III
D) I ve II E) II ve III

11. 18. yüzyılda Kant; Tanrı, ruh, evren, ölümsüzlük gibi deney alanını aşan soyut nesnelere ilişkin soruları reddederek metafiziğe ağır bir eleştiri yöneltti. Kant'a göre anlama yetisinin kavramları ancak deneyle geçerlidir. Metafizik, bize sağlam bilgiler vermediğinden olgusal değildir ve metafizik kavramlar deneylenemez. **Kant'a göre, metafizikle ilgili olarak aşağıdakilerden hangisi söylenemez?**

- A) Duyuları aşan bir yönü vardır.
- B) Bilgisi kesin olmayan bir alandır.
- C) Olgusal alanın dışında yer alır.
- D) Deneysel olarak doğrulanamaz.
- E) Bilgi değeri olan bir alandır.

12. İnsan, doğası gereği yalnız başına var olamayan ancak başka insanlarla birlikte bir toplum içinde yaşayabilen bir varlıktır. Bundan dolayı insan, yalnızca kendi eylemlerinden değil, bir toplum içinde birlikte yaşadığı diğer insanların eylemlerinden de etkilenir. Bu nedenle insan, başka insanların eylemlerinin kendisini olumlu bir biçimde etkilemesini istiyorsa kendi eylemlerinin de başka insanları olumlu bir biçimde etkilemesini sağlamalıdır.

Bu parçadaki görüşler aşağıdaki ahlak anlayışlarından hangisiyle açıklanır?

- A) Bentham'ın utilitarizm anlayışı
- B) Hobbes'un egoizm anlayışı
- C) Proudhon'un anarşizm anlayışı
- D) Nietzsche'nin nihilizm anlayışı
- E) Sartre'in egzistansiyalizm anlayışı

13. Croce'ye göre, sanatçının doğada olmayan, ideal ve mükemmel bir şeyi yaratma süreci, onun doğadan bir takım izlenimler almasıyla başlar. Sanatçı doğadan aldığı izlenimleri bir senteze tabi tutar ve belli bir ifadeye ulaştır. Ona göre ifade, sanatçının hayal gücünde ve ruhunda meydana gelen ama bir kez olup biten estetik bir yaşantıdır.

Bu parçadan aşağıdaki yargılardan hangisine ulaşılabılır?

- A) Sanat, evrende var olanı yansıtan bir mimesistir.
- B) Sanat, doğanın taklidinden başka bir şey değildir.
- C) Sanat hiçbir zaman dış çevreyi duyumsamaz.
- D) Sanat, sanatçıda bir kez meydana gelen bir yaratmadır.
- E) Sanat, idealar dünyasının taklidi olan nesnelere taklidir.

14. Varlığa nüfus edemediği fakat sadece onun etrafında dolaşıp durduğu için gerçekliğin sadece şemasını veren zekânın başaramadığını nesneye nüfuz eden sezgi başarır. Çünkü sezgi sayesinde nesnede biricik olan ve dolayısıyla kavramlaştırılmayan şey elde edilir. Sezgi bizi gerçek süre ve oluşun içine çeker. Bunun da nedeni sezginin, sembolleri tamamen bir tarafa bırakarak doğrudan temas yoluyla bilgi elde etme melekesi olmasıdır. Sezgi, bize duyuşal olmayan gerçeklikle dolaysız bir temas temin eder.

Bu parçadan aşağıdakilerden hangisi çıkarılabilir?

- A) Bütün bilgiler yalnızca olasılık değerindedir, kesin değildir.
- B) Gerçeğin bilgisi dolaysız olarak içten kavranabilir.
- C) Doğru bilgi, deney ve gözleme dayalı bilgidir.
- D) Bilginin kaynağında duyuşlar değil akıl yer alır.
- E) Doğru bilgi, önermelerin dil analizine tabi tutulmasıyla elde edilir.

15. İbn-ül Arabî ilahi olanın akıl yoluyla tam olarak bilinemeyeceğini ileri sürmüş, evrende ne varsa hepsini Tanrı'nın kendini gerçekleştirme ve ortaya koyması olarak yorumlamış, tek ve biricik olan Tanrı'nın kendini çoklukta gösterdiğini ileri sürmüştür. Böylece insanın yapması gerekenin, bu çokluğun arkasında bulunan birliğe ulaşmak olduğunu ifade etmiştir.

Buna göre aşağıdaki görüşlerden hangisi İbn-ül Arabî'nin anlayışını yansıtır?

- A) Teizm
- B) Deizm
- C) Ateizm
- D) Panteizm
- E) Panenteizm

16. Allah'ın bazı güzel isimleri vardır. Bunlara Esmâ-i Hüsnâ (en güzel isimler) denir.

Allah'ın esmâ-i hüsnâsından biri Rahman, diğeri de Rahîm'dir. Rahman; dünyada bütün canlılara şefkat gösteren, mümin-kâfir ayrımı yapmaksızın insanlara merhamet eden, anlamına gelir. Rahîm ise yaratmış olduğu bütün varlıklara karşılıksız rızık veren, yaratıklarını koruyan, bağışlayan ve onlara merhamet eden demektir.

Bu bilgiler doğrultusunda aşağıdakilerden hangisi savunulamaz?

- A) Allah'ın birden çok ismi vardır.
B) Dünyadaki bütün varlıklar Allah'ın korumasındadır.
C) Allah tüm canlıları yaşamı süresince rızıklandırır.
D) Allah'ın merhametinin sınırı yoktur.
E) Dünya ve ahiret ayrımı olmaksızın Allah tüm insanlara şefa'at eder.

17. Atatürk'ün, "Temeli çok sağlam bir dinimiz var. Malzemesi iyi fakat bina, yüzyıllardır ihmal edilmiş. Harçlar döküldükçe yeni harç yapıp binayı takviye etmek lüzumu hissedilmemiş. Aksine olarak birçok yabancı unsurlar, yorumlar, boş inançlar binayı daha fazla hırpalamış." **sözleri ile vurguladığı kavramlar arasında aşağıdakilerden hangisinin olduğu söylenemez?**

- A) Taassup B) Bid'at C) Hurafe
D) Batıl inanç E) Takva

18. Hz. Ömer Kudüs'e girdiğinde Yahudi ve Hristiyanların inançlarına da ibadethanelerine de karışmamıştır. Aksine kendisini başka din mensuplarının koruyucusu ilan etmiştir.

Hz. Ömer'in bu davranışı;

- I. Müslümanlar Allah rızası için cihat etmelidir.
II. Dinde zorlama yoktur.
III. İslam sevgi ve barış dinidir.

yargılarından hangilerine kanıt olarak gösterilebilir?

- A) Yalnız I B) Yalnız II C) I ve III
D) II ve III E) I, II ve III

19. Hz. Muhammed'in, "Sadece şu üç mescide (ibadet maksadıyla) yolculuk yapılır." **sözünde belirttiği mescidler aşağıdakilerden hangisinde doğru olarak verilmiştir?**

- A) Mescid-i Haram - Mescid-i Aksâ - Mescidi Nebi
B) Kuba Mescidi - El Aksa Cami - Mescidi Kibleteyn
C) Mescid-i Haram - Kuba Mescidi - Mescidi Nebi
D) El Aksa Cami - Mescid-i Aksâ - Ayasofya
E) Kuba Mescidi - Mescid-i Aksâ - Mescidi Kibleteyn

20. Kur'an'da insanın, yeniden diriliş olayını anlayabilmesi için çeşitli örnekler verilmektedir. Örneğin, sonbaharda sararıp dökülen yapraklar, ilkbaharda tekrar yeşerir. İnsanın diriltilmesi de buna benzetilmektedir. Yine kuru topraktan çeşit çeşit bitkilerin, ağaçların yetişmesi, doğaya canlılık gelmesi ile yeniden diriliş arasında benzerlik olduğu vurgulanmaktadır.

Bu bilgiler Kur'an'ın aşağıdaki özelliklerinden hangisi ile daha çok ilgilidir?

- A) Akla hitap eden kitap olması
B) Kalp ile tasdiki önemsemesi
C) Belirli kıssalarla dini anlatması
D) Peygamberlerin örnekliklerini belirtmesi
E) Vahiy yoluyla bildirilmesi

Adınız Soyadınız:

	A	B	C	D	E		A	B	C	D	E
1	<input type="radio"/>	<input type="radio"/>	<input type="radio"/>	<input type="radio"/>	<input type="radio"/>	11	<input type="radio"/>	<input type="radio"/>	<input type="radio"/>	<input type="radio"/>	<input type="radio"/>
2	<input type="radio"/>	<input type="radio"/>	<input type="radio"/>	<input type="radio"/>	<input type="radio"/>	12	<input type="radio"/>	<input type="radio"/>	<input type="radio"/>	<input type="radio"/>	<input type="radio"/>
3	<input type="radio"/>	<input type="radio"/>	<input type="radio"/>	<input type="radio"/>	<input type="radio"/>	13	<input type="radio"/>	<input type="radio"/>	<input type="radio"/>	<input type="radio"/>	<input type="radio"/>
4	<input type="radio"/>	<input type="radio"/>	<input type="radio"/>	<input type="radio"/>	<input type="radio"/>	14	<input type="radio"/>	<input type="radio"/>	<input type="radio"/>	<input type="radio"/>	<input type="radio"/>
5	<input type="radio"/>	<input type="radio"/>	<input type="radio"/>	<input type="radio"/>	<input type="radio"/>	15	<input type="radio"/>	<input type="radio"/>	<input type="radio"/>	<input type="radio"/>	<input type="radio"/>
6	<input type="radio"/>	<input type="radio"/>	<input type="radio"/>	<input type="radio"/>	<input type="radio"/>	16	<input type="radio"/>	<input type="radio"/>	<input type="radio"/>	<input type="radio"/>	<input type="radio"/>
7	<input type="radio"/>	<input type="radio"/>	<input type="radio"/>	<input type="radio"/>	<input type="radio"/>	17	<input type="radio"/>	<input type="radio"/>	<input type="radio"/>	<input type="radio"/>	<input type="radio"/>
8	<input type="radio"/>	<input type="radio"/>	<input type="radio"/>	<input type="radio"/>	<input type="radio"/>	18	<input type="radio"/>	<input type="radio"/>	<input type="radio"/>	<input type="radio"/>	<input type="radio"/>
9	<input type="radio"/>	<input type="radio"/>	<input type="radio"/>	<input type="radio"/>	<input type="radio"/>	19	<input type="radio"/>	<input type="radio"/>	<input type="radio"/>	<input type="radio"/>	<input type="radio"/>
10	<input type="radio"/>	<input type="radio"/>	<input type="radio"/>	<input type="radio"/>	<input type="radio"/>	20	<input type="radio"/>	<input type="radio"/>	<input type="radio"/>	<input type="radio"/>	<input type="radio"/>

TEST ID:

2003