

4

DENEEME

Ad:
Soyad:
Sınıf:
Numara:


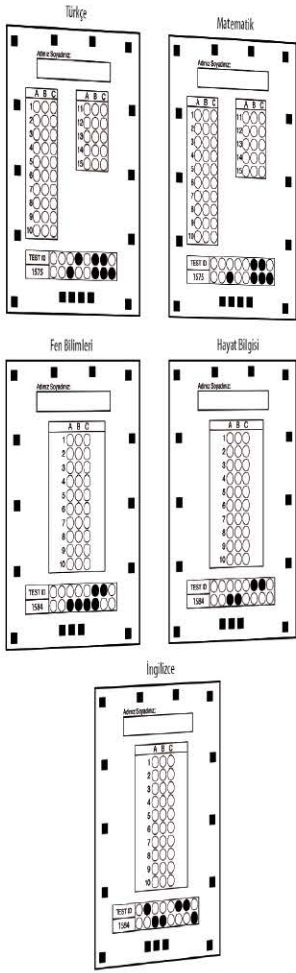
3
SINIF

OKYANUS

1

Okyanus Optik Okuma

Akıllı telefonuna Okyanus Optik Okuma uygulamasını indir,
deneme sonucunu anında öğren!



OKYANUS OPTİK OKUMA NASIL ÇALIŞIR?

Okyanus Optik Okuma uygulamasını telefonunuza Playstore veya Appstore üzerinden indirin.



Uygulama açılırken güncelleme kontrolü yapacaktır, en doğru sonuçlar için uygulamanızın güncel olduğundan emin olun.

Öğrenci butonuna tıkladıktan sonra uygulama telefon kamerasız aracılığı ile optik formu taratmanızı isteyecektir.

Optik formun köşelerindeki kareleri, okuma ekranında köşelerde bulunan kırmızı kutucukların içerisine denk getirin.

Uygulama optik formunuzu tanıdığı anda değerlendirme yaparak deneme sonucunuzu getirecektir.

Okuma gerçekleştikten sonra, puanlar isimli butona tıkladığınızda hangi soruları yanlış yaptığınızı görebilirsiniz.

DENEMELERİN KONU DAĞILIMINA YANDAKİ KAREKODU OKUTARAK VEYA LİNK ADRESİNDEN ULAŞABİLİRSİNİZ.



<http://oky.li/HIRTV>



1



- Toplam 60 soru bulunmaktadır. Cevap süresi 120 dakikadır.
- Cevaplarınızı optikte kutucukların dışına taşırmadan ve kurşun kalemle işaretleyiniz.



Gerçek dostluk için dostunuz bir şey anlatmak istediğinde onu dikkatle dinleyin, düşünceleri size uymasa bile saygı gösterin. Dostunuza karşı sorumluluklarınız olduğunu unutmayın. Sizden bir ricası olduğunda yapabileceğiniz bir şeyse asla geri çevirmeyin. Unutmayın ki gerçek bir dostu sahip olmak için önce siz iyi bir dost olmalısınız.

1 ve 2. soruyu yukarıdaki metne göre cevaplayalım.

1. Bu metnin konusu aşağıdakilerden hangisidir?
 - A) Gerçek dostluğun anlamı
 - B) Dostlarımıza karşı sorumluluklarımız
 - C) Dostlarımıza saygı

2. Aşağıdaki afişlerden hangisi yandaki metnin ana fikrini yansıtmaktadır?

A)



B)



C)





3.

Öğretmenim anlattı,
Her gün farklı yemeyi,
Tatlı, tuzlu demeden,
Her gıdadan yemeyi.

Ispanak demir yaparmış,
Havuçla beslenirmiş gözlerim,
Eğer süt içmezsem,
Kısa kalırmış kemiklerim.

Bu şiire en uygun başlık aşağıdakilerden hangisidir?

- A) ÖĞRETMEN
- B) DENGELİ BESLENME
- C) BESİNLER

4. Ferda Öğretmen, öğrencilerinin fotoğrafını çekip çektiği fotoğrafla okuma bayramı için davetiye hazırladı. Bu davetiyeyi okuma bayramına katılmaları için velilere gönderdi. Veliler, davetiyeyi görünce çok mutlu oldular. Bu metinde aşağıdaki hikâye unsurlarından hangisi yer almamaktadır?

- A) Olay
- B) Karakterler
- C) Yer

5.



Bu görsel için aşağıdakilerden hangisi söylenemez?

- A) Emre, sabah erken uyanacak.
- B) Emre, kitabını okuyup uyumuş.
- C) Emre, yatağında mışıl mışıl uyuyor.

6. Aşağıdaki öğrencilerden hangisi zıt anlamlı sözcükleri bir arada kullanmamıştır?

- A)  Derse giriş çıkış saatlerine dikkat ederim.
- B)  Doğum gününe gelip gelmemek onun kararıdır.
- C)  Sıcak soğuk demeden yıllarca tarlada çalıştı.



7. Öznur, bilmece sorarken Özge Öznur'un her dediği kelimeyi tekrar ediyor. Özlem, bilmecenin sonunu beklemeden tahminini söylüyor. Özgür, Öznur'un konuşması bitince cevabını veriyor.

Bu durumda, hangi öğrencinin davranışı doğrudur?

- A) Özge'nin B) Özlem'in
C) Özgür'ün

8.

Bazıları korkuyorlar,
Korkulacak şey mi aşı?
Sağlığını koruyor,
Sağlık da her şeyin başı.

Aşı değil, mikroptan kork,
Korunmazsan düşmanlar çok,
Seviyorsan sağlığını,
Korunmaktan başka yol yok.

Bu şiirin konusu aşağıdakilerden hangisidir?

- A) Aşının faydası
B) Aşıdan korunmanın yolları
C) Mikropların zararları

9.

1 Ama Ceren bir türlü onları göremedi.

2 Kahvaltı yapmak için masaya koştu.

3 Annesi, Ceren'e mutfak penceresinden gökyüzündeki uçurtmalara bakmasını istedi.

4 Ceren, odasından hızlıca çıktı.

Yukarıdaki numaralandırılmış cümlelerin olayların oluş sırasına göre sıralanışı hangisidir?

- A) 3 - 1 - 4 - 2
B) 2 - 3 - 1 - 4
C) 4 - 2 - 3 - 1



1.



Toplama işleminin sonucunu sayıları en yakın olduğu onluğa yuvarlayarak doğru tahmin eden Ayşe'nin tahmini ile işlem sonucu arasındaki fark aşağıdakilerden hangisidir?

- A) 1 B) 9 C) 11

2.

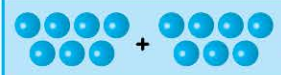



474'ten başlayarak onar ileriye doğru ritmik sayarken beşinci saymada hangi sayıyı söyleriz?

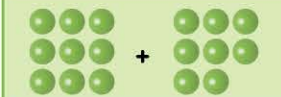
- A) 504 B) 514
C) 874

3.

Aşağıda modellenen toplama işlemlerinden hangisinin sonucu çift sayıdır?

A)  =

B)  =

C)  =

4.



18'den başlayarak dokuzar ileriye doğru ritmik sayarken beşinci saymada hangi sayıyı söylerim? (18 dahil)

- A) 45 B) 54 C) 63

5.
$$\begin{array}{r} 1 \quad 455 \\ + 274 \\ \hline \end{array}$$

$$\begin{array}{r} 2 \quad 301 \\ + 148 \\ \hline \end{array}$$

$$\begin{array}{r} 3 \quad 581 \\ + 151 \\ \hline \end{array}$$

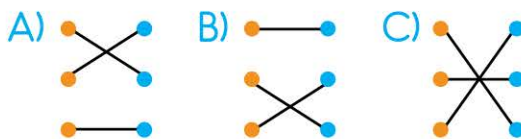
Bu toplama işlemlerinin sonuçlarıyla ilgili olarak aşağıdakilerden hangisi söylenemez?

- A) 1. işlemin sonucu 3. işlemin sonucundan küçüktür.
 B) 2. işlemin sonucu çift sayıdır.
 C) 3. işlemin sonucunu en yakın yüzlüğe yuvarladığımızda sayı 700 olur.

6.

IX	●	●	7
VII	●	●	9
XIV	●	●	14

Yukarıdaki Romen rakamlarıyla doğal sayılar eşleştirildiğinde hangi şekil ortaya çıkar?



Bu sayıları karşılaştıran Taha'nın, aşağıdaki yorumlarından hangisi yanlıştır?

- A) Yukarıda birler basamağındaki rakamı 8 olan sayı, 492'den daha büyüktür.
 B) Yukarıda onlar basamağındaki rakamı 4 olan sayı, 574'ten daha küçüktür.
 C) Yukarıda yüzler basamağındaki rakamı 6 olan sayı, 574'ten daha büyüktür.

8.

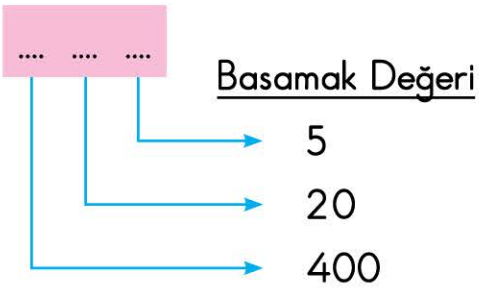


Okunuşu "Sekiz yüz on iki" olan sayının rakamlarla yazılışını bulalım.




Sevgi Öğretmen'in sorusunun cevabı aşağıdakilerden hangisidir?

- A)  802 B)  812 C)  821

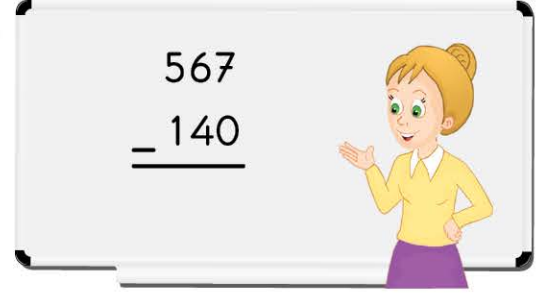
9.



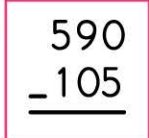
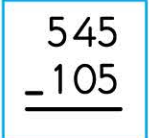
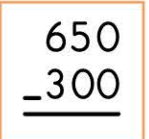
Rakamlarının basamak değerleri verilen bu sayı aşağıdakilerden hangisidir?

- A)  524 B)  452
- C)  425

10.



Ayşe Öğretmen'in tahtaya yazdığı çıkarma işleminin sonucu, aşağıdaki çıkarma işlemlerinin hangisinin sonucundan daha büyüktür?

- A) 
$$\begin{array}{r} 590 \\ - 105 \\ \hline \end{array}$$
 B) 
$$\begin{array}{r} 545 \\ - 105 \\ \hline \end{array}$$
- C) 
$$\begin{array}{r} 650 \\ - 300 \\ \hline \end{array}$$




1. • Çekirdek, Dünya'mızın en iç katmanıdır.
• En dıştaki ince ve kayalık katmana atmosfer denir.
• Manto, yer kabuğunun altında bulunur.

Dünya'mızın katmanları ile ilgili yukarıdaki ifadelerden kaç tanesi doğrudur?

- A)  1 B)  2 C)  3




2. Aşağıdaki öğrencilerden hangisi farklı bir duyu organımızın sağlığı ile ilgili bilgi vermiştir?




- A)  Çok sıcak, soğuk, acı, tuzlu ve asitli içecekler tüketmemeliyiz.
- B)  Uzun süre güneş altında kalmamaya dikkat etmeliyiz.
- C)  Düzenli olarak banyo yapmalıyız.

- 3.



Panodaki bu özellikler Dünya'mızın aşağıdaki hangi katmanına aittir?

- A)  Hava B)  Kara
- C)  Su

4.  Çiviye duvara çakmak
 İğneye iplik geçirmek
 Uçurtma uçurmak

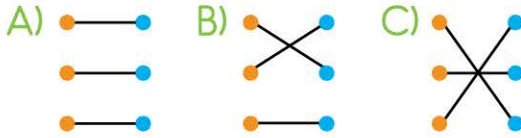
Yukarıdaki olaylardan hangisinde sadece itme hareketi uygulanır?

- A)  B)  C) 



5. Duvar saati-
nin sarkacının
hareketi • • Dönme
- İnişe geçen
uçanın
hareketi • • Yavaşlama
- Bisikletin
tekerinin
hareketi • • Sallanma

Yukarıdaki olaylarla hareket çeşitleri eşleştirildiğinde aşağıdaki şekillerden hangisi oluşur?



6. Aşağıdakilerin hangisi eskiden insanların, Dünya'mızın şekli ile ilgili inandıkları görüşlerden değildir?

- A) Düz bir tepsiye benzetilmesi
B) Fillerin hortumları üzerinde durduğunun düşünülmesi
C) Küreye benzetilmesi

7. • Dolabın çekmesini kapatmak
• Şemsiyeyi açmak
• Çiviye yerinden çıkarmak

Bu olayların gerçekleşmesi için uygulanması gereken hareketlerin türü sırasıyla aşağıdakilerin hangisinde doğru verilmiştir?

- A) Çekme - itme - itme
B) İtme - itme - çekme
C) İtme - çekme - çekme

8. Hareket hâlinde olan bir topa hareket yönünde ve daha büyük bir kuvvet uygulanıyor.

Buna göre topun hareketindeki değişme aşağıdakilerden hangisi gibi olur?

- A)
- B)
- C)



9. Aşağıdakilerden hangisi hareketli cisimlerin sebep olabileceği tehlikeli durumlardan biri değildir?



10. "Ebru, sabah kahvaltıdan önce dişlerini bir güzel fırçaladı. Kahvaltıda annesinin yaptığı mis gibi kokan tostunu yedi. Daha sonra okula gitmek için kapıya yöneldiğinde babasının ona yeni aldığı şapkayı görünce çok sevindi."

Bu paragrafta aşağıda verilen hangi duyu organımızdan bahsedilmemiştir?



Adınız Soyadınız:

	A	B	C
1	<input type="radio"/>	<input type="radio"/>	<input type="radio"/>
2	<input type="radio"/>	<input type="radio"/>	<input type="radio"/>
3	<input type="radio"/>	<input type="radio"/>	<input type="radio"/>
4	<input type="radio"/>	<input type="radio"/>	<input type="radio"/>
5	<input type="radio"/>	<input type="radio"/>	<input type="radio"/>
6	<input type="radio"/>	<input type="radio"/>	<input type="radio"/>
7	<input type="radio"/>	<input type="radio"/>	<input type="radio"/>
8	<input type="radio"/>	<input type="radio"/>	<input type="radio"/>
9	<input type="radio"/>	<input type="radio"/>	<input type="radio"/>
10	<input type="radio"/>	<input type="radio"/>	<input type="radio"/>

TEST ID	<input type="radio"/>	<input type="radio"/>	<input type="radio"/>	<input type="radio"/>	<input type="radio"/>	<input checked="" type="radio"/>	<input checked="" type="radio"/>	<input type="radio"/>	<input type="radio"/>
1584	<input type="radio"/>	<input type="radio"/>	<input checked="" type="radio"/>	<input checked="" type="radio"/>	<input type="radio"/>	<input type="radio"/>	<input type="radio"/>	<input type="radio"/>	<input type="radio"/>



1.

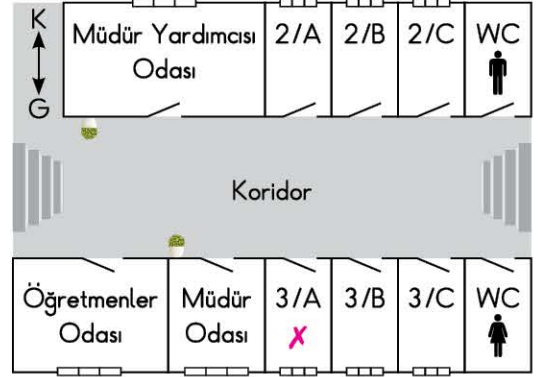


Benim adım Zeynep. Derslerimde başarılıyım. Güzel resim yapıyorum. Gitar çalmayı çok istediğim hâlde, iyi gitar çalamıyorum. Satranç oyunlarında derece alıyorum.

Bu açıklamaya göre Zeynep'ten aşağıdakilerden hangisini yapması beklenir?

- A) Satranç kursuna gitmesi
- B) Gitar kursuna gidip bol bol tekrar etmesi
- C) Gitar çalmayı bırakması

2.



Sema, sınıfının bulunduğu katın krokisini çizdi ve kendi sınıfının bulunduğu yeri işaretledi.

Sema'nın çizdiği kroki için aşağıdakilerden hangisi söylenemez?

- A) Krokide uzunluklar ölçülerek çizilmiştir.
- B) Krokide Sema'nın sınıfının nerede ve hangi yönde olduğu kolaylıkla bulunacak şekilde belirtilmiştir.
- C) Krokide bazı yerler şekil ve sembollerle gösterilmiştir.



3. Davranışlarımız, kendimizi ve arkadaşlarımızı olumlu veya olumsuz etkiler.

Buna göre, aşağıdaki davranışlarımızdan hangisinin kendimize ve arkadaşlarımıza etkisi yanlış verilmiştir?




	Davranışlar	Etkileri
A)	Bahçede koşarken arkadaşıma çarptım.	Hem ben hem de arkadaşım yaralandı.
B)	Kantinde sıraya girmedim.	Arkadaşlarım bana tepki gösterdi.
C)	Arkadaşımla karşılaştığımda ona selam vermedim.	Arkadaşım çok mutlu oldu.

4.



Boşa akan
.....
çıkığımız yerin

Emre'nin konuşmasındaki boşluklara sırasıyla aşağıdakilerin hangisi gelirse kaynakları etkili ve verimli kullanmak için öneride bulunmuş olur?

- A) lambaları kapatmalıyız / kapısını kilitlemeliyiz 
- B) musluğu kapatmalıyız / ışıklarını söndürmeliyiz 
- C) sobayı söndürmeliyiz / penceresini kapatmalıyız 

5. İyi arkadaşlık için saygı ve dayanışmanın yanında güven duygusu da gerekir.

Aşağıdaki arkadaşlık ilişkilerinin hangisinde güven duygusundan söz edilmiştir?

- A) Beril, Serkan'ın her zaman adil olacağından ve dürüst davranacağından emindi.
- B) Emre, görsel sanatlar dersinde Seda'ya, kendi boyalarından kullanabileceğini söyledi.
- C) Buğra, Aynur'un kalemını izin alarak kullandı.



6.

Düşünceler	D	Y
Spor etkinlikleri, planlı ve disiplinli olmamızı sağlar.	<input type="radio"/>	<input type="radio"/>
Yardımlaşma etkinlikleri, topluma karşı duyarlılığımızı geliştirir.	<input type="radio"/>	<input type="radio"/>
Şiir, müzik ve okuma etkinlikleri iyi iletişim kurmamızı sağlar.	<input type="radio"/>	<input type="radio"/>

Öykü, okul etkinliklerinin öğrencilere yaptığı katkılarla ilgili yukarıdaki düşünceleri doğru yanlış tablosuna hata yapmadan kodladı.

Buna göre Öykü'nün kodladığı tablo aşağıdakilerden hangisidir?

- A)

●	○
○	●
●	○

 B)

○	●
●	○
●	○

 C)

●	○
●	○
●	○

7.



Okul tuvaletlerinin daha temiz olmasını istiyoruz.

Pelin, aşağıdakilerden hangisini yaparsa bu isteğini nezaket kurallarına uymadan ifade etmiş olur?

- A) İsteğini bir kâğıda yazıp okul dilek kutusuna atarsa
 B) Okul müdürlüğüne, isteğini bildiren bir dilekçe yazarsa
 C) Bu durumu, okuldaki ilgili kişilere bildirmeden başkalarına şikâyet ederse

8. Okulda1..... üstlenme,2..... olaylara karşı duyarlı olma, arkadaşlarımıza karşı3..... olma gibi tutum ve davranışlar ediniriz. Bu paragraftaki numaralı yerlere sırasıyla aşağıdakilerin hangisindeki sözcükler gelmelidir?

	1	2	3
A)	sorumluluk	toplumsal	nazik
B)	yardım	iyi	temiz
C)	paylaşma	basit	planlı



1.



Konuşma balonunu yanlış tamamlayan seçenek aşağıdakilerden hangisidir?

- A) I am
- B) My name is
- C) I am eight years old

2.



Ali ve Ela karşılaştıklarında birbirlerine aşağıdakilerden hangisini söylerler?

- A) My name is Ela.
- B) Goodbye!
- C) Hello!

3.



"This is my album." cümlesini doğru tamamlayan seçenek aşağıdakilerden hangisidir?

- A) school
- B) family
- C) holiday



4.



This is my

Resme göre cümleyi doğru tamamlayan seçenek aşağıdakilerden hangisidir?

- A) cousin
- B) mother
- C) grandfather

5.



..... is this?

This is Şebnem.



Cümlesini doğru tamamlayan soru kelimesi aşağıdakilerden hangisidir?

- A) Who
- B) How
- C) What

6.

.....ake



.....afe



.....amp



Görsellerin adlarının baş harfi aşağıdakilerden hangisidir?

A) C

B) S

C) K