




CLASSMATE

DİN KÜLTÜRÜ VE AHLAK BİLGİSİ

SORU BANKASI

80 SINIF



Yayım Kurulu Başkanı

Sultan Özkaya

Yayım Kurulu

Nesrin Özkan - Esra Aktürk - Eylem Akdağ Bingöl

ISBN 978 - 975 - 8653 - 72 - 0

Hürriyet Mah. Mahmutbey Cad. Arıkan Dağlar İş Merkezi

No: 1 Kat: 5 Bahçelievler / İSTANBUL

Telefon: (0212) 639 08 48 Fax: (0212) 503 87 94

Yayıncı Sertifika No.: 47442

Baskı - Cilt

Uygun Basın ve Tic. Ltd. Şti.

Matbaa Sertifika No.: 12000

Bu kitap, Milli Eğitim Bakanlığı ve Talim Terbiye Kurulunca kabul edilen, Tebliğler Dergisi'nde yayımlanan **Din Kültürü ve Ahlak Bilgisi** dersinin müfredat programına uygun olarak hazırlanmıştır. Kitabın yazımında TDK Yazım Kılavuzu esas alınmıştır.

Bu eserin yayım hakkı; **DEMSAN Özel Öğretim Kurumları**

Ulaştırma ve Yayıncılık A.Ş.'ye aittir.

İzinsiz kopya edilemez, çoğaltılamaz,

kısmen de olsa yayımlanamaz.



ÖN SÖZ

Sevgili Öğrenciler!

Eğitim ve öğretim hayatı, uzun bir maratondur ve bu maraton çeşitli duraklardan geçmektedir. İşte ortaokul da bu duraklardan biridir.

Ortaokul, ilkokulda kazanılan temel bilgi ve becerilerin geliştirilip zenginleştirildiği; bu bilgilerin günlük hayatla birleştirilip pekiştirildiği bir dönemdir. Bu dönemi iyi bir şekilde tamamlayan, buradaki kazanımları tam olarak öğrenmiş bir öğrenci lise hatta üniversite öğreniminde rakiplerinden hep bir adım önde olacaktır.

Bu eğitim maratonunda sizlere yardımcı olmak amacıyla hazırladığımız soru bankamız, yeni öğretim programına uygun olarak ünitelendirilmiştir. Her ünite kendi içinde bölümlere ayrılmıştır. Her bölümün başında yer alan “**Bunları Bilelim**” başlığı altında verilen kısa bilgiler ve örneklerle konuyu hatırlamanız amaçlanmıştır.

Ardından gelen testlerde sorular “**1. Dereceden Sorular, 2. Dereceden Sorular ve 3. Dereceden Sorular**” olmak üzere kolaydan zora doğru üç farklı zorluk seviyesinde sıralanmıştır. Ünite sonlarında konuyu ne derecede öğrendiğinizi sınavabileceğiniz, ünitenin tamamını kapsayan “**Ünite Değerlendirme Soruları**” yer almaktadır.

Soru bankamız, MEB’in yayımladığı Liselere Giriş Sınavı’nda çıkabilecek örnek sorulara benzer sorular içermektedir. Bu sorular yorum gücü, farklı bakış açısı ve günlük hayatta öğrenilen bilgileri de kullanmayı gerektirmektedir.

Ayrıca, kitabımızda bulunan kare barkodları tablet veya akıllı telefonunuzla okutarak ya da kare barkodların altındaki kodu akilliogretim.com’da aratarak **tüm video çözümlerine** ulaşabilirsiniz.

*Başarı ve mutluluk
dolu yarımlara...*





İÇİNDEKİLER

KADER İNANCI

Kaza ve Kader	8 - 21
Hz. Musa ve Ayet el-Kürsi	22 - 23
Ünite Değerlendirme Soruları	24 - 35

ZEKÂT VE SADAKA

Paylaşma ve Yardımlaşma	38 - 43
Zekât İbadeti	44 - 49
Sadaka ve İnfak	50 - 55
Hz. Şuayb ve Maûn Suresi	56 - 57
Ünite Değerlendirme Soruları	58 - 65

DİN VE HAYAT

Din, Birey ve Toplum	68 - 79
Dinin Temel Gayesi	80 - 85
Hz. Yusuf ve Asr Suresi	86 - 87
Ünite Değerlendirme Soruları	88 - 91



İÇİNDEKİLER

HZ. MUHAMMED'İN ÖRNEKLİĞİ

Hz. Muhammed'in Özellikleri	94 - 115
Kureyş Suresi	116 - 117
Ünite Değerlendirme Soruları	118 - 125

KU'AN-I KERİM VE ÖZELLİKLERİ

İslam Dininin Temel Kaynakları	128 - 145
Hz. Nuh'un Hayatı	146 - 147
Ünite Değerlendirme Soruları	148 - 155

CEVAP ANAHTARI	156 - 160
-----------------------------	------------------



1. ÜNİTE

KADER İNANCI





KAZA VE KADER - 1

BUNLARI BİLELİM

★ Kainatta bulunan her şey Allah tarafından bir denge ve ölçü içerisinde yaratılmıştır. Allah'ın her şeyi bir ölçü, düzen ve uyum içerisinde programlamasına **kader** denir. **Kaza** ise Yüce Allah tarafından takdir edilen bu olayların zamanı geldiğinde gerçekleşmesidir.

Allah evrenin işleyişini bazı yasalara bağlamıştır. Bu yasalar **fiziksel**, **biyolojik** ve **toplumsal** yasalardır. İnsan iradesi ile kader arasında bir ilişki vardır. Yüce Allah, insana akıl, irade ve seçme özgürlüğü vermiştir. İnsan, aklını kullanarak seçimlerde bulunur.

Tevekkül kelime olarak Allah'a güven duymak ve dayanmaktır.

Dünya üzerinde yaşayan tüm canlıların belirli bir yaşam süresi vardır. Bu süreye **ömür** denir. Canlıların yaşam süresinin bitmesine **ecel** denir. Allah'ın canlılar için yarattığı nimetler onların yaşamını sürdürülebilmesi içindir. Bunların tamamı **rızık** olarak değerlendirilir.

ÖRNEK

"Allah her şeyi belli bir ölçüye göre yaratmıştır." **ayeti yeni vurgulamaktadır?**

Yaratma ölçüp biçmek, yoktan var etmek, bir şeyden başka bir varlık yapmak anlamına gelir. Allah'ın "yaratma" sıfatı vardır. Allah evrende yarattığı her varlığı belirli bir ölçü içinde, özenle yaratmıştır.

DİKKAT

Evrendeki ölçü ve düzeni yaratan ve yöneten Allah (c.c.) sonsuz ilmi ve kudretiyle her şeyi kuşatmıştır.

1. DERECEDEKİ SORULAR

1 Allah, evrende yarattığı her canlıya yapacağı işe uygun yapı, biçim, özellik ve yetenek vermiş; onların yaratılışını bir takım amaç ve hikmetlere dayandırmış, boş ve yersiz hiçbir şey yaratmamıştır.

Yukarıdaki bilgilere bakılarak;

- Her yaratılanın bir amaca hizmet ettiği,
- Canlıların yapılarının işlerine uygun olduğu,
- Evrendeki düzenin zamanla bozulduğu

yargılarından hangisine ya da hangilerine ulaşılabilir?

- A) Yalnız I B) Yalnız III
C) I ve II D) II ve III

2 Biyolojik yasalar, canlıların doğumu, beslenmesi ve üremesi ile ilgilidir. Bu yasalara Mürşelâat suresinde yer alan, "....." ayeti örnek gösterebilir.

Yukarıda boş bırakılan yere aşağıdaki ayetlerden hangisi getirilirse anlam bütünlüğü sağlanmış olur?

- A) "Şüphesiz biz ona doğru yolu gösterdik. İster şükredici olsun ister nankör."
B) "Her toplumun (belirli) bir eceli vardır. Eceleri geldiğinde onu ne bir an erteleyebilirler ve ne de bir an öne alabilirler."
C) "Onlara bir delil de gecedir ki biz ondan gündüzü sıyrıp çekeriz de birden karanlığa gömülürler. Güneş de akar gider yönünde..."
D) "(Ey insanlar) Biz sizi basit bir sudan yaratmadık mı? İşte o suyu, belli bir süre kadar sağlam bir yere yerleştirdik, sonra da ona ölçülü bir biçim verdik..."

KADER İNANCI



- 3** Kur'an-ı Kerim'de Maide Suresi 8. ayette; "Ey inananlar! Allah için adalette şahitlik edenlerden olun. Bir topluluğa duyduğunuz kin, sizi adaletten saptırmasın. Adil davranın, takvaya yakışan budur. Allah'tan korkun, kuşkusuz Allah yaptıklarınızdan haberdardır." buyurulmaktadır.

Yukarıda verilen ayete bakılarak aşağıdakilerden hangisi söylenemez?

- A) Allah'ın yapılan işleri bildiği
- B) Adaletle bağlı kalınmasının öğütlediği
- C) İyilik yapanların bütün günahlarının affedileceği
- D) İnsanların toplumsal yasalara uyması gerektiği

4



"(Öyle) Bir fitneden sakının ki aranızda yalnız haksızlık edenlere erişmekle kalmaz (Hepinize erişir)..."

Enfâl suresi, 25. ayet

Bu ayet dikkate alındığında ulaşılabilecek yargı aşağıdakilerden hangisidir?

- A) Müminlerin sabretmesi gerektiği
- B) İnsanların Allah'a tevekkül etmesi gerektiği
- C) İnsanların yapacakları seçimde özgür olduğu
- D) Yapılan haksızlığın sadece haksızlık yapanı değil bütün toplumu etkileyeceği

- 5** Bitkilerde üremeyi sağlayan tozlar rüzgârla bir bitkiden diğer bitkiye taşınırlar ve birbirlerini aşırırlar.

Yukarıda verilen bilgi aşağıdaki yasalardan hangisini örneklemek için kullanılır?

- A) Fiziksel yasalar
- B) Toplumsal yasalar
- C) Kimyasal yasalar
- D) Biyolojik yasalar

- 6** Evrendeki hiçbir varlık rastgele oluşmamıştır. Her varlık, bir program doğrultusunda varolmuştur. Yer altındaki doğal kaynaklardan yer üstündeki canlılara kadar tüm varlıklar, Allah'ın üstün güç ve sonsuz ilminin eseridir.

Buna göre;

- I. Evrende tesadüfen yaratılan hiçbir varlığın olmadığı,
- II. Tüm varlıkların, Allah'ın ilim ve kudretiyle oluştuğu,
- III. Allah'ın yaratmasının, bir plan ve ölçü doğrultusunda gerçekleştiği

yargılarından hangisi ya da hangileri söylenebilir?

- A) Yalnız I
- B) I ve II
- C) II ve III
- D) I, II ve III

- 7** "... Ne Güneş Ay'a yetişebilir ne de gece gündüz geçebilir. Her biri bir yörüngede yüzerler."

Yasin suresi, 40. ayet

Yukarıda verilen ayette üzerinde durulan konu ile aşağıdaki kavramlardan hangisi ilişkilendirilemez?

- A) Tesadüf
- B) Plan
- C) Denge
- D) Ölçü

- 8** Aşağıdaki ayetlerden hangisi denge, ölçü ve düzen kavramlarına örnek gösterilebilir?

- A) "Biz suyu gökten (belirlediğimiz) bir ölçüye göre indiriyor, sonrada onu yeryüzünde tutuyoruz..."
- B) "...İnananlar yalnız Allah'a inanıp güveninler."
- C) "Onların mallarında, muhtaç ve yoksullar için bir hak vardır."
- D) "Ona iki yolu (iyi ve kötüyü) gösterdik."



KAZA VE KADER - 2

1. DERECEDEN SORULAR

- 1 Günümüzde birçok trafik kazası olmaktadır. Bu kazaların en önemli sebepleri arasında insanların trafik kurallarını ihlal etmesi gelir.

Bu durum karşısında yapılması gerekenlere;

- I. Kurallara uygun araç kullanmak,
- II. Olumsuz durumlar karşısında isyan etmek,
- III. Hataların ortaya çıkardığı olumsuzlukları görmezden gelmek

davranışlardan hangisi ya da hangileri örnek gösterilebilir?

- A) Yalnız I B) Yalnız II
C) II ve III D) I, II ve III

2

"O, insanı alaktan (embriyodan) yarattı."

Fiziksel Yasalar

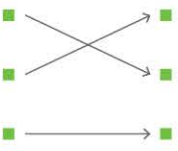
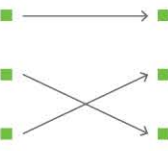

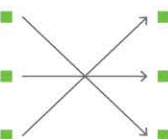
"Güneş de yörüngesinde akıp gitmektedir. Bu üstün ve bilen Allah'ın kanunudur."

Biyolojik Yasalar

"Her toplumun belirlenmiş bir eceli vardır. Ecelleri geldiğinde onu ne bir an erteleyebilir ve ne de bir an öne alabilirler."

Toplumsal Yasalar

Yukarıda verilen ayetler ile ilgili olduğu yasaların doğru eşleştirilmiş şekli hangi seçenekte verilmiştir?

- A)  B) 
- C)  D) 

- 3 **Kur'an-ı Kerim'de İsrâ suresi 15. ayette;** "Kim doğru yolu seçerse bunu ancak kendi iyiliği için seçmiş olur. Kim de doğruluktan saparsa kendi zararına sapmış olur..." **buyurulmaktadır.**

Bu ayet dikkate alındığında;

- I. İnsanların özgür iradeye sahip olduğu,
- II. Doğru yolu seçmenin insana fayda sağlayacağı,
- III. İnsanların karar alma sürecinde birbirine baskı kurması gerektiği

yargılarından hangisine ya da hangilerine ulaşamaz?

- A) Yalnız I B) Yalnız III
C) I ve II D) II ve III

- 4 Canlıların yaşam süresinin bitmesine ★ denir. **Yukarıda ★ sembolü ile gösteriklen yere aşağıdakilerden hangisi getirilirse doğru olur?**

- A) kader B) ömür
C) ecel D) rızık

5



İnsan, hayatının bir sonu olduğunu bilerek

Mehmet'in ifadesinde boş bırakılan yere aşağıdakilerden hangisi yazılırsa yanlıştır?

- A) ömrünü iyi değerlendirmelidir.
B) güzel davranışlar sergilemelidir.
C) başkalarının kusurlarını araştırmalıdır.
D) çevresine faydalı bir insan olmaya gayret etmelidir.



KADER İNANCI



6 Kaza ve kadere inanmak demek, hayır ve şer, iyi ve kötü, acı ve tatlı, canlı ve cansız, faydalı ve faydasız her ne varsa hepsinin Allah'ın bilmesi, dilemesi, kudreti, takdiri ve yaratması ile olduğuna, Allah'tan başka yaratıcı bulunmadığına inanmak demektir. Evrende meydana gelmiş ve gelecek olan her şey Allah'ın ilmi, dilemesi, takdiri ve yaratması ile olur.

Bu bilgiler aşağıdakilerden hangisini kanıtlar niteliktedir?

- A) İnsanların hür iradeye sahip olduğunu
- B) Allah'ın iyi işler yapanları ödüllendireceğini
- C) Kader inancının insanı sorumluluk almaktan kurtardığını
- D) Allah'ın ilmi ve dilemesini kader ve kaza anlayışı içinde yer aldığını

7



Zeynep

Elinden gelen gayreti göstermek



Onur

Çaba göstermeden hazır beklemek



Beril

Tüm yapılması gerekenleri yaptıktan sonra sonucu Allah'a bırakmak

Yukarıdaki öğrencilerden hangisi ya da hangileri, tevekkül anlayışına uygun davranışlara yanlış örnek vermiştir?

- A) Yalnız Onur
- B) Yalnız Zeynep
- C) Onur ve Beril
- D) Zeynep ve Beril

8 Varlıkların sonlu olması yasa gereğince her insanın da ömrü bir gün son bulacaktır.

Bu bilgiler aşağıdaki ayetlerden hangisini destekler niteliktedir?

- A) "İnsanlar yalnız Allah'a güvenip dayansınlar."
- B) "Güneş de yörüngesinde akıp gitmektedir. Bu, üstün ve bilen Allah'ın kanunudur."
- C) "Siz hayır olarak ne harcarsınız Allah onun yerine yenisini verir."
- D) "Her canlı ölümü tadacaktır. Sonunda bize döndürüleceksiniz."

9 Hz. İbrahim'e mecusinin biri misafir olmak istemişti. Hz. İbrahim ona: "Müslüman olursan misafir ederim deyince, adam bırakıp gitti. Bunun üzerine Allah, Hz. İbrahim'e: "Neden onu misafir etmek için dinini değiştirmesini şart koştu? Ey İbrahim? Bana bakmadın mı? 70 senedir beni tanımadığı halde ben ona rızıkını veriyorum. Sen onu misafir etsen, hakkında hayırlı olurdu." buyurdu. Hz. İbrahim bu ilahi emri alınca derhal mecusiyi bulup evine getirdi ve misafir etti. Mecusi: "Nasıl oldu bu iş önce misafir etmek istemedin, sonra da misafir etmek için can attın..." diye sorunca Hz. İbrahim durumu anlattı. Mecusi bu sözden etkilendi ve Müslüman olmaya karar verdi.

Yukarıdaki bilgilere göre, aşağıdaki yargılardan hangisine ulaşılabilir?

- A) İnsanlar Allah'ın verdiği rızıklara şükretmelidir.
- B) Allah, hiçbir ayırım yapmadan herkese rızık vermiştir.
- C) Allah'ın verdiği rızık için çalışmak gerekir.
- D) İnsanlar israf etmeden Allah'ın nimetlerinden faydalanmalıdır.



KAZA VE KADER - 3

1. DERECEDEKİ SORULAR

1

Akıllı sahibi olan insan, yaptıklarından sorumlu tutulmuştur.	
İslam dinine göre, insanın sorumluluğu kendi gücüyle sınırlıdır.	
İnsan sınırsız isteme gücüne sahip olduğu hâlde hepsini yapabilme gücüne sahip değildir.	
İnsan, tüm eylemlerini bilinçli bir şekilde gerçekleştirerek iyi ve doğru olanı tercih etmelidir.	

Tabloda doğru bilgilerin yanına D harfi konulacaktır. Buna göre, tabloda kaç tane D harfi olmalıdır?

- A) 1 B) 2 C) 3 D) 4

2



"...Verdiğiniz sözü yerine getirin. Çünkü verilen söz, sorumluluk gerektirir."

İsrâ suresi, 34. ayet

Yukarıda verilen ayet dikkate alındığında;

- I. İnsanların verdikleri sözde durmaları gerektiği,
- II. Sorumluluğun gereği olarak verilen sözlerin tutulması gerektiği,
- III. Sorumluluk sahibi olan bireylerin söz vermekten kaçındığı

Yargılarından hangisine ya da hangilerine ulaşılabilir?

- A) Yalnız I B) Yalnız III
C) I ve II D) I, II ve III

- 3 Her meyve ağacı aynı topraktan, aynı su ve güneş ışınlarından beslendiği halde tadı, kokusu ve rengi farklı meyveler vermektedir.

Bu bilgiler, aşağıda verilen ayetlerden hangisi ile ilişkilendirilebilir?

- A) "Biz her şeyi bir ölçüye göre yarattık."
B) "Yeryüzünde bulunan her canlı sonludur."
C) "İnananlar yalnız Allah'a dayanıp güveninler."
D) "Emrolunduğun gibi dosdoğru ol."

- 4 ▲ Halk arasında gelir dağılımının adil olması
★ Hayvanların bir kısmının yumurtlayarak çoğalması
■ Evrendeki cisimlerin birbirini bir kuvvetle çekmesi
● İhtiyaç sahiplerine yardım edilmesi
Yukarıda sembollendirilerek verilenlerden hangileri toplumsal yasalara örnek gösterilemez?

- A) ★ - ■ B) ■ - ●
C) ▲ - ★ D) ▲ - ●

- 5 Hz. Ömer tembellik yapıp oturanlara sorar:
—Siz ne yapıyorsunuz?
—Biz tevekkül edenleriz. dediler.

Hz. Ömer:

—Siz tevekkül edenler değil tembellersiniz. Bilin ki ne gökten altın yağar, ne de gümüş demiş. Onların dağılmalarını istemiştir.

Bu bilgilere göre aşağıdaki yargılardan hangisine ulaşılabilir?

- A) Olumsuz durumların sonuçlarının kadere yüklenmesi gerektiğine
B) Gerekli tedbirlerin alınması gerektiğine
C) İnsanların seçimlerini kendilerinin yaptığını
D) Tevekkül anlayışının tembellikle ilişkilendirilemeyeceğine

KADER İNANCI

- 6 Eren:** İnsan, kendi iradesiyle karar verir ve seçimini yapar.
Sümeyra: İnsan, aklı sayesinde teknoloji alanında yeni icatlar ortaya koyar.
Eren ve Sümeyra'nın ifadeleri ile ilgili aşağıdakilerden hangisi söylenebilir?

	Eren	Sümeyra
A)	Yanlıştır.	Doğrudur.
B)	Doğrudur.	Doğrudur.
C)	Doğrudur.	Yanlıştır.
D)	Yanlıştır.	Yanlıştır.

- 7** İnsan hayatında karşılaştığı olumsuzlukları

Yukarıdaki ifadede boş bırakılan yere aşağıdakilerden hangisi getirilirse doğru olur?

- A) isyan ederek görmezden gelmelidir.
B) kadere yüklememelidir.
C) başkalarını suçlayarak çözmelidir.
D) alın yazısının gereği olarak görmelidir.
- 8** Dinimiz çalışkanlığı övmekte, insanın çalışmadan ve gayret etmeden isteklerine ulaşmasının mümkün olmayacağını ifade etmektedir. **Yukarıda verilen bilgiler ile ilgili aşağıdakilerden hangisi söylenebilir?**
- A) Herkesin yaptıklarından sorumlu olacağı
B) Allah'ın insanlara verdiği rızıkların boşa harcanmaması gerektiği
C) İnsanın çalışarak ve çaba göstererek isteklerine kavuşacağı
D) Zorluklar karşısında mücadeleci olunması gerektiği

9

.....
↓
Atmosfer tabakası daha ince olsaydı, atmosferde yarıarak parçalanan meteorlar, büyük kitleler hâlinde dünyamıza düşer ve bize zarar verebilirdi.

Yukarıdaki bilgilere verilebilecek en uygun başlık aşağıdakilerden hangisidir?

- A) İnsan İradesi
B) Emek ve Rızık
C) Ömür ve Ecel
D) Evrendeki Denge ve Düzen

- 10 Kur'an-ı Kerim'de,** "Başınıza gelen herhangi musibet kendi ellerinizle işledikleriniz yüzündendir..." **buyurulmaktadır.** **Bu ayet dikkate alındığında aşağıdakilerden hangisi söylenebilir?**

- A) İnsan sahip olduğu nimetlere şükretmelidir.
B) Allah, hiçkimseye gücünü aşan bir sorumluluk yüklemeyiz.
C) İnsanın başına gelen olumsuz durumlar, insanın kendi yaptıklarından dolayı yaşanır.
D) İnsan, hiçbir zorlama olmadan kendi iradesiyle karar verebilir.

11

- Gece ve gündüzün meydana gelmesi
- Güneş ve Ay'ın hareket etmesi

Yukarıda verilen örnekler aşağıdakilerden hangisini kanıtlar niteliktedir?

- A) Evrende yaratılan en üstün varlığın insan olduğunu
B) İnsanların evrendeki dengeyi bozmaması gerektiğini
C) İnsanların yaptıklarından sorumlu tutulduğunu
D) Evrendeki varlıkların birbiriyle uyumlu olduğunu



KAZA VE KADER - 4

2. DERECEDEKİ SORULAR

- 1 Evrendeki cisimler, birbirlerini bir kuvvetle çeker ve iterler. Güneş, bu kuvvetle gezegenleri kendine doğru çeker ve onların yörünge üzerinde kalmalarını sağlar.
Yukarıda verilen bilgileri aşağıdaki ayetlerden hangisi kanıtlar niteliktedir?

- A) "Gökten bir ölçüye göre suyu indiren odur..."
B) "Geceyi ve gündüzü, Güneş'i ve Ay'ı yaratan odur. Her biri bir yörüngede hareket etmektedir."
C) "Onlar, ayakta dururken, otururken, yanları üzerine yatarken Allah'ı anarlar, göklerin ve yerin yaratılışı hakkında derin derin düşünürler."
D) "...Göğü Allah yükseltti ve mizanı(dengeyi) o koydu, sakın dengeyi bozmayın."

2



"Onlar yeryüzünde gezip kendilerinden öncekilerin sonunun nasıl olduğuna bakmazlar mı?..."

Fâtır suresi, 44. ayet

Yukarıda verilen ayet dikkate alındığında;

- I. İnsanların daha önceki toplumların başına gelenler hakkında düşünmesi gerektiği,
II. Allah'ın hoşnutluğunu kazanmak için ibadetleri aksatmadan yapmak gerektiği,
III. İnsanların, geçmişte yaşayan insanlardan ibret alması gerektiği

yargılarından hangisine ya da hangilerine ulaşılabilir?

- A) Yalnız I
B) Yalnız II
C) I ve III
D) I, II ve III

- 3 zamanı geldiğinde olayların Allah'ın belirlediği doğrultuda gerçekleşmesidir.
Yukarıda boş bırakılan yere aşağıdakilerden hangisi yazılırsa doğru olur?

- A) Kaza
B) Kader
C) İrade
D) Tevekkül

4



"Onlara bir delil de geçedir ki biz ondan gündüzü sıyrıp çekeriz de birden karanlığa gömülürler. Güneş de (bir delildir onlara), akar gider yörüngesinde, işte bu çok güçlü ve her şeyi bilen Allah'ın yaratmasıdır..."

Yasin suresi, 37-40. ayetler

Bu ayetlerden yararlanarak;

- I. Allah'ın üstün kudret sahibi olduğu,
II. Fiziksel yasalarla ilgili delillerin bulunduğu,
III. Her şeyin Allah'ın bilgisi dahilinde olduğu
yargılarından hangisi ya da hangileri söylenebilir?

- A) Yalnız I
B) Yalnız II
C) II ve III
D) I, II ve III

- 5 "Evrenin kendine ait bir düzeni ve yasaları vardır. Hayatın her alanı yasalarla yönetilir. Hiçbir şey çevreye veya şansa bağlı değildir."

Jack Ensign Addington

Yukarıda verilen ifadeler ile ilgili;

- I. Evrendeki yasaların yalnızca insan yaşamına dair olduğu,
II. Evren ile içindeki varlıkların belli bir ölçü ve dengede olduğu,
III. Evrendeki hiçbir şeyin tesadüfi olmadığı
yargılarından hangisi ya da hangileri söylenebilir?

- A) Yalnız I
B) I ve III
C) II ve III
D) I, II ve III

KADER İNANCI

- 6
- Hangi şehirde yaşayacağı
 - Hangi anne ve babaya sahip olacağı
 - Hangi gün doğacağı
 - Hangi okula gideceği

Yukarıda verilenlerden kaç tanesi, bireyin seçime dayalı davranışlarına örnek gösterilebilir?

- A) 1 B) 2 C) 3 D) 4

7



"Allah'ın izni olmadan hiçbir kişi ölmez. (ölüm) Belirli bir süreye göre yazılmıştır..."

Âl-i İmrân suresi, 145. ayet

Yukarıdaki ayette aşağıdakilerden hangisinin vurgulandığı söylenebilir?

- A) Allah'ın her şeyi bir ölçüye göre yarattığı
B) İnsanın yaptıklarından sorumlu tutulacağı
C) Hayatın ve ölümün Allah'ın elinde olduğu
D) İyi davranışta bulunanların insanlar tarafından sevileceği

- 8
- İnsanlar tarafından genel olarak pek sevilmese de kertenkeleler, topraktaki kurtlar ve böceklerle beslendiğinden tarımsal faaliyetler için oldukça faydalıdır.

Yukarıda verilen bu durum aşağıdakilerden hangisiyle doğrudan ilgilidir?

- A) Her canlı doğaya zarar verir.
B) Yalnızca insanoğlu doğal dengeyi korur.
C) Hiçbir varlık boş yere yaratılmamıştır.
D) Varlıkların birbiriyle ilişkisi yoktur.

9

- ▲ "Dinde zorlama yoktur."
■ "Biz her şeyi bir ölçüye (bir düzene, plan göre yarattık."
● "Allah'ın izni olmadan hiçbir kişi ölmez..."
★ "Ölümsüz ve daima diri olan Allah'a güvenip dayan..."

Yukarıda sembollendirilerek verilen ayetlerden hangisi, insanın kendi iradesi ile karar vermesine örnek gösterilebilir?

- A) ▲ B) ■ C) ● D) ★

10



Serkan

Her canlının sahip olduğu yaşam süresidir.



Nergis

Dünya hayatının sona erip yeni bir hayatın başlamasıdır.



Asude

Allah'ın her şeyi belli bir ölçüye göre programlamasıdır.



Ömer

İnsanların verdiği kararlardan doğan sonuçları kabul etmesidir.

Yukarıdaki öğrencilerden hangisi, sorumluluk kavramı ile ilgili bilgi vermiştir?

- A) Serkan B) Nergis
C) Asude D) Ömer



00C704F9

KAZA VE KADER - 5

2. DERECEDEKİ SORULAR

1



"Kimse kendi elinin emeğinden daha hayırlı bir rızık yememiştir."

Hz. Muhammed

Yukarıda verilen hadis-i şerifte aşağıdakilerden hangisine vurgu yapıldığı söylenebilir?

- A) İmanın şartları
- B) İyilik yapmanın önemi
- C) Çalışmanın gerekliliği
- D) Hoşgörülü olmanın önemi

2

Allah'ın, insanlara gönderdiği peygamberler kendi geçimlerini çalışarak sağlamışlardır.

Aşağıda verilen peygamberlerden hangisinin geçimini ticaret yaparak sağladığı söylenebilir?

- A) Hz. Muhammed
- B) Hz. Adem
- C) Hz. İsa
- D) Hz. Musa

3

İslam dini, insanın çalışarak kendi geçimini sağlamasını istemiştir.

Bu bilgiye aşağıdaki hadislerden hangisi örnek gösterilebilir?

- A) "Merhamet etmeyene Allah merhamet etmez."
- B) "İlim tahsil etmek her Müslüman erkek ve kadına farzdır."
- C) "Danışan asla pişman olmaz."
- D) "Sizden herhangi birinizin sırtına bir bağ odun yüklenip satması, dilenmesinden hayırlıdır."

4

- Ay, dünyamızın şimdiki bulunduğu yerden 50 bin km ötede olsaydı, yeryüzünde med-cezir olayları sonucunda bütün kıtalar günde iki defa su altında kalırdı.
- Dünya'nın çevresini saran atmosfer tabakası biraz daha ince olsaydı, atmosferde yanıp parçalanan binlerce meteor, dünyamıza ulaşabilir ve her şeyi yok ederdi.

Yukarıdaki örnekler aşağıdakilerden hangisini kanıtlar niteliktedir?

- A) Doğal dengeye en fazla zarar veren insandır.
- B) İnsanlar yaşamlarını tek başına devam ettiremezler.
- C) Evrendeki düzen, bir zincirin halkaları gibidir.
- D) Canlıların zenginliği, yaşamı tek düze olmaktan çıkarır.

5



"Onlar, ayakta dururken, otururken, yanları üzerine yatarken (her vakit) Allah'ı anarlar, göklerin ve yerin yaratılışı hakkında derin derin düşünürler (ve şöyle derler) Rabbimiz! Sen bunu boşuna yaratmadın. Sen yücesin. Bizi cehennem azabından koru!"

Al-i İmrân suresi, 191. ayet

Bu ayette Allah'ın insanlardan;

- I. Evreni incelemesi,
 - II. Evrendeki uyum ve denge üzerine düşünmesi,
 - III. İhtiyaç sahiplerine yardım etmesi
- durumlarından hangisini ya da hangilerini istediği söylenebilir?**

- A) Yalnız I
- B) I ve II
- C) II ve III
- D) I, II ve III