

ESİT AĞIRLIK



# 5'li GENEL DENEME

Bünyamin AYDINGÖZ

Osman SARI

Mehmet TÜKENMİŞ

Mesut ERDEMİR

İsmet BILICI

Hürşit KORKMAZ

Fatih ERBİLLİ

MEB'in Öğretim  
Programına Uygun



Tüm Soruların  
Video Çözümü  
[akilliogretim.com](http://akilliogretim.com)'da

## TÜRK DİLİ VE EDEBİYATI TESTİ

1. Bu testte, Türk Dili ve Edebiyatı ile ilgili 30 soru vardır.
2. Cevaplarınızı, cevap kâğıdının Türk Dili ve Edebiyatı Testi için ayrılan kısmına işaretleyiniz.



OAF7064B

1. Şiir gerçeğliğin yok edilmesiyle başlar. Gerçeğliği yok edemeyen şiiri, gerçeğlik öyle ya da böyle yok eder. Sıra dışı akımların sanat ve şiir söz konusu olduğunda sazı eline alıp konuştuğu zamanları her zaman önemsemişimdir. Ne var ki gerçeğliği yok edemeyen bir akım sıra dışı da olsa bir havai fişek gösterisi gibi, birkaç dakikalık tantanadan sonra geriye kalan kocaman bir hiçtir çoğunlukla.

**Bu parçadaki altı çizili sözle anlatılmak istenen aşağıdakilerden hangisidir?**

- A) Anlatımının okuyucuyu çabucak etkilemesi
- B) Gösterişli olmasına rağmen etkisinin az olması
- C) Süslü bir anlatımdan yararlanılması
- D) Okurun duygu dünyasını harekete geçirmesi
- E) Popüler konularla okurun dikkatinin çekilmesi

2. Sanatçı, bu derlemesinde öyküyü hangi ilhamla yazdığını; öykünün ne zaman, nerede aklına düştüğünü okuruyla paylaşıyor. Bu eser, sanatçının yazma sanatı hakkında bilgi veriyor bize. Birçok altı çizilecek itiraf, gözlem ve tavsiye yer alıyor giriş bölümlerinde: "Bazen bir hikâye bütün olarak gelir bitmiş hâlde. Ama çoğu zaman bana iki kısım olarak gelir: Önce fincan, sonra kulpu."

**Bu parçadaki altı çizili sözle sanatçının öyküleriyle ilgili anlatılmak istenen aşağıdakilerden hangisidir?**

- A) Tüm kurgunun ilham yoluyla oluştuğu
- B) Yazılmadan önce tamamen tasarlandığı
- C) Zihinde parça parça oluştuğu
- D) Tamamlanmasının zaman aldığı
- E) Sonunun ne olacağını planlanmadığı

3. Son zamanlarda okuduğum çarpıcı yapıtlara bir yenisi daha eklendi. Dünyanın anaforlarından uzak yaptığım bu sakin okumaların ruhuma sunduğu iyilik bir tarafa, her seferinde bir okur olarak en çok durağanlığın o gizli gücüyle karşılaştığıma seviniyorum. Ve bir kez daha bir metnin okurunu çekip çevirmek için taklalar atmasına hiç gerek olmadığına, en sıradan hâllerin bile bir kitabın içinde kendiliğinden gayet görkemli anlara dönüşebildiğine ikna oluyorum.

**Bu parçada anlatılan romanların sahip olduğu nitelikler aşağıdakilerin hangisinde verilmiştir?**

- A) Doğallık - etkileycilik
- B) Etkileycilik - özgünlük
- C) Akıcılık - yalınlık
- D) Özlülük - doğallık
- E) Akıcılık - özgünlük

17.

	Cümle	Kullanım Amacı
I.	Sıcak, aydınlık, sevimli bir bahar sabahına uyanmıştık.	Eş görevli kelime ve kelime gruplarının arasında kullanılır.
II.	Göçen kuşların tekrar döneceğini umduk, yıllarca onları bekledik.	Sıralı cümleleri birbirinden ayırmak için kullanılır.
III.	Belma Hanım, her zaman böyle sessiz hareket ediyordu, birden odanın kapısında belirdi.	Uzun cümlelerde yüklemden uzak düşmüş olan özneyi belirtmek için kullanılır.
IV.	Dünyanın işleri boğunca beni Çağırırım Mevla, Mevla, Mevla seni	Anlama güç katmak için tekrarlanan sözlerin arasında kullanılır.
V.	Aslında sigara içmekle vücuduna hiç de iyi etmiyorsun, dedi.	Tırnak içine alınmayan alıntı cümlelerin sonunda kullanılır.

**Yukarıda numaralanmış cümlelerin hangisinde bulunan virgölün (,) kullanım amacı, yanlış açıklanmıştır?**

- A) I      B) II      C) III      D) IV      E) V

**18. Aşağıdaki cümlelerin hangisinde büyük harflerin kullanımıyla ilgili bir yanlışlık yapılmıştır?**

- A) Tatlıların vazgeçilmez süsü olan Hindistan cevizini kullanmayı ben de severim.  
 B) Ekonomistler bu yıl Türk Lirası'nın yüksek oranda değer kazanmasını bekliyor.  
 C) 29 Mayıs 1453 Salı günü, tüm yurttan İstanbul'un Fethi olarak kutlanmaktadır.  
 D) Millî Edebiyat Dönemi'nde yazarlar daha çok realizm akımından etkilenmiştir.  
 E) Önemli yayınlarımızdan olan Türk Dili dergisi, yayın hayatını sürdürmektedir.

**19 ve 20. soruları aşağıdaki metne göre cevaplayınız.**

Furuğ'un Türkiye'de çok tanınan, çok sevilen hatta aşkla sevilen bir şair olması hem çok güzel hem de inanılmaz! Onun şiirinin, çevrilirken az kayıp veren bir şiir olduğunu ve dokusundaki içtenliğin asla kaybolmadığını düşünüyorum. Sanırım bu da insanların onunla kurduğu bağın doğrudanlığının zedelenmesine olanak sunuyor. Furuğ'un inandığı gibi yaşayan bir sanatçı olması, her yerde her koşulda kendisini olduğu gibi sunması, korkusuzluğu, sözcüklerin insanlar arasında sahici bağlar inşa edeceğine ve insanlığı değiştireceğine dair inancı, onun evrensel olmasını sağlayan temel öğelerdir bana göre. Furuğ'un ruhunun kumaşı isyanla ve samimiyetle örülmüştür. Bu samimiyet herkesin hissedebileceği kadar belirgindir.

**19. Bu parçadaki altı çizili sözle anlatılmak istenen aşağıdakilerden hangisidir?**

- A) Anlamının her okur tarafından anlaşılabilirdiği  
 B) Anlatılmak isteneni iyi düzeyde yansıttığı  
 C) Duygusal bir anlatıma sahip olduğu  
 D) Düzyazıya çevrilince şiirselliğini koruyabildiği  
 E) Orijinal dilindeki niteliklerini koruyabildiği

**20. Bu parçaya göre aşağıdakilerden hangisi Furuğ'un evrensel olmasını sağlayan öğelerden biri değildir?**

- A) Düşünceleriyle hayatının örtüşmesi  
 B) Doğallığından ödün vermemesi  
 C) Dili insanları birleştirici rolüyle kullanması  
 D) Yaptığı işte cesur olması  
 E) Karmaşık bir iç dünyaya sahip olması

## SOSYAL BİLİMLER TESTİ

1. Bu testte 40 soru (1-15) Tarih, (16-25) Coğrafya, (26-33) Felsefe, (34-40) Din Kültürü ve Ahlak Bilgisi vardır.
2. Cevaplarınızı, cevap kâğıdının Sosyal Bilimler Testi için ayrılan kısmına işaretleyiniz.



0A440105

1. Osmanlı Devleti XVII. yüzyılda imzaladığı aşağıdaki antlaşmalardan hangisi ile XVI. yüzyılda Avusturya karşısında elde ettiği siyasi üstünlüğü kaybetmiştir?

A) Amasya  
B) İstanbul  
C) Bucaş  
D) Bahçesaray  
E) Zitvatorok

3. 1579 yılında İspanya'dan bağımsızlığını kazandıktan sonra deniz aşırı ülkelere açılarak sömürge yarışında yer alan ve zamanla önemli bir koloni gücü hâline gelen devlet aşağıdakilerden hangisidir?

A) Portekiz  
B) ABD  
C) Danimarka  
D) Hollanda  
E) Venedik

2. Girit Seferi (1645 - 1669) sırasında Venedik; Girit'i kuşatan Osmanlı donanmasını kalyonlar vasıtası ile bir süre için engellemeyi, hatta Çanakkale Boğazı'nı ablukaya alarak Osmanlı ordusunun Çanakkale Boğazı üzerinden Girit'e asker ve malzeme naklini önlemeyi başarmıştır.

**Bu bilgiler doğrultusunda Osmanlı Devleti ile ilgili;**

- I. deniz gücünün yetersiz olduğu,
- II. saygınlığını zedeleyici gelişmelerin yaşandığı,
- III. XVI. yüzyılda Girit'i fethettiği

**yargılarından hangilerine ulaşılabilir?**

A) Yalnız I  
B) Yalnız II  
C) Yalnız III  
D) I ve II  
E) I, II ve III

4. Osmanlı Devleti XVIII. yüzyılda aşağıdaki antlaşmalardan hangisiyle toprak kazanmıştır?

A) Pasarofça Antlaşması  
B) Prut Antlaşması  
C) Küçük Kaynarca Antlaşması  
D) Yaş Antlaşması  
E) Zıstovi Antlaşması

9. Osmanlı Devleti ile Rusya arasında yapılan Prut Savaşı (1711) ile ilgili olarak aşağıdakilerden hangisi doğru değildir?

- A) Savaşın yaşanmasında Rusya'ya yenilen İsveç Kralı'nın Osmanlı topraklarına sığınması etkili olmuştur.
- B) Osmanlı, 1700 İstanbul Antlaşması ile kaybettiği toprakları geri almayı amaçlamıştır.
- C) Rus Çarı, Osmanlı Devleti'ni yenemeyeceğini anlayarak barış istemiştir.
- D) Savaş sonrasında, Osmanlı Devleti Azak Kalesi'ni geri almıştır.
- E) Rusya'nın Doğu Avrupa'daki etkinliğinin sona ermesine neden olmuştur.

10. Osmanlı Devleti ile Fransa arasında imzalanan 1740 Kapitülasyon Antlaşması;

- I. Fransa'ya verilen kapitülasyonların sürekli hâle gelmesi,
- II. Kudüs'teki Katoliklere ait kutsal yerlerin yönetiminin Fransızlara verilmesi,
- III. Fransız tüccarlara Osmanlı ülkesinde serbest ticaret hakkının tanınması

**özelliklerinden hangilerine sahiptir?**

- A) Yalnız I
- B) Yalnız II
- C) Yalnız III
- D) I ve II
- E) I, II ve III

11. Osmanlı Devleti XVIII. yüzyılda XVII. yüzyıla oranla daha az toprak kaybetmiştir.

**Bu sonucun oluşmasında aşağıdakilerden hangisinin etkili olduğu savunulamaz?**

- A) Veraset Savaşları ile Avrupa'nın büyük bir karışıklık yaşaması
- B) Avrupalı devletler arasındaki sömürge rekabetinin etkisi
- C) ABD'nin bağımsızlık sürecinin Avrupa'da da rekabete neden olması
- D) Osmanlı Devleti'nin yapılan ıslahatlar ile XVI. yüzyıldaki gücüne tekrar ulaşması
- E) Fransız İhtilali ile Avrupa'nın büyük bir savaşa sürüklenmesi

12. 1618 - 1648 yılları arasında yaşanan ve tarihe Otuz Yıl Savaşları olarak geçen savaşlar sürecinde aşağıdaki devletlerden hangisi sömürgelerini büyük oranda kaybetmiştir?

- A) Rusya
- B) Fransa
- C) İspanya
- D) İngiltere
- E) Avusturya

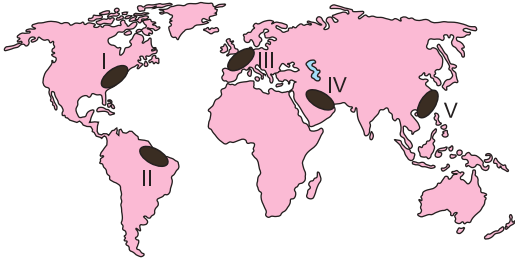
17. Ülkeler, nüfus artış hızı ile ekonomik kalkınma arasında denge oluşturabilmek için bazı nüfus politikaları uygulamaktadır.

- I. Evlenme yaşının yükseltilmesi
- II. Çocukların masraflarının devlet tarafından karşılanması
- III. Doğum yapan kadınlara ücretli ve uzun süreli izin verilmesi
- IV. Çocuğu olmayanlara 65 yaşından sonra maaş bağlanması

Yukarıdaki uygulamaları nüfus artış hızını artıran ve azaltan şeklinde ayırmak gerekirse aşağıdaki-lerden hangisi doğru olur?

	Artıran	Azaltan
A)	II ve IV	I ve III
B)	I ve II	III ve IV
C)	I ve IV	II ve III
D)	II ve III	I ve IV
E)	III ve IV	I ve II

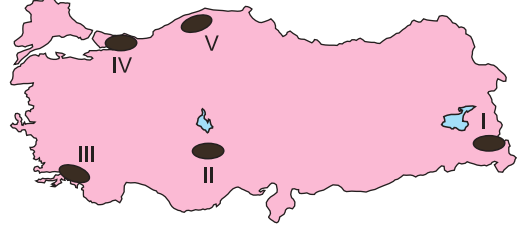
18.



Yukarıdaki haritada gösterilen bölgelerle ilgili verilen bilgilerden hangisi yanlıştır?

- A) I ve III numaralı alanlar sanayi ürünleri üretim alanlarıdır.
- B) IV numaralı alan enerji kaynakları üretim alanıdır.
- C) V numaralı alan deniz ürünleri üretim alanıdır.
- D) II numaralı alan orman ürünleri üretim alanıdır.
- E) IV numaralı alan önemli pirinç üretim alanıdır.

19.



Haritada gösterilen taralı alanlarda yapılan ekonomik faaliyetlerle ilgili aşağıdaki bilgilerden hangisi yanlıştır?

- A) III numaralı alanda turizm faaliyetleri önem kazanmıştır.
- B) V numaralı alanda madene dayalı endüstri gelişmiştir.
- C) IV numaralı bölgede tüketici nüfusun fazla olması birçok endüstri kolunun gelişmesine neden olmuştur.
- D) I numaralı alanda hayvancılık en önemli geçim kaynağıdır.
- E) II numaralı yörede yoğun olarak su isteği fazla olan endüstriyel bitkiler üretilir.

20. Hindistan'ın tarım alanları ve tarımda çalışan nüfusunun oranı Hollanda'ya göre çok fazla olması- na rağmen tarım gelirlerinin daha az olması;

- I. Ürün çeşidinin azlığı,
- II. Üretimin geleneksel yöntemlerle yapılması,
- III. Tarım alanlarının az olması,
- IV. İç tüketimin fazla olmasından dolayı ihracatın az olması

etkenlerden hangileri ile açıklanabilir?

- A) I ve II                      B) II ve III                      C) I ve IV  
D) II ve IV                      E) I ve III

25. • Verimli toprakların ve su kaynaklarının bulunması bu uygarlığın tarih boyunca istilalara uğramasına neden olmuştur. Bu uygarlıklar Fırat ve Dicle nehirleri arasında kurulmuştur.
- And Dağları'nın yüksek yamaçlarında kurulmuş olan bu uygarlık gök biliminde gelişmiştir.
  - Etrafının çöllerle çevrili olması bu uygarlığın diğer uygarlıklarla etkileşime girmesini engellemiştir. Bu nedenle kendine has özellikler taşır.
  - İndus ve Ganj nehirleri bu medeniyetin kurulmasında etkili olmuştur. Verimli topraklara sahiptir. Kuzeyinde yer alan Himalaya Dağları bu uygarlığı kuzeyden gelecek saldırılara karşı korumuştur.

**Aşağıda verilen medeniyetlerden hangisine yukarıda yer verilmemiştir?**

- A) Mezopotamya      B) Çin      C) İnkalar  
D) Mısır      E) Hint

26. Bir önermeden yeni bir önermeyi elde etmek için iki yöntem uygulanabilir: Tümdengelim ve tümevarım. Tümdengelim, bize tümel olandan tikele, akıl yürütme yolu ile çıkarsamada bulunma olanağı verir. "Bütün insanlar ölümlüdür. / Sokrates insandır. / O hâlde Sokrates de ölümlüdür." tümdengelimine örnek olarak verebiliriz. Tümevarım ise bize tikel örneklerden tümele varma olanağı vermekle birlikte aynı zamanda tümelin bir ön hazırlığıdır. Onun temel öncüllerini sağlar. Bu temel doğrular bulunduktan sonra bilgi tümdengelim yoluyla elde edilir. Tümel bilmek amaç değil, tekili anlamak için bir araçtır. Tümelin bilgisi daha kesin ve güvenilirdir. Tümdengelimde yargının doğru olması için öncüllerin de doğru olması gereklidir.

**Parçaya göre aşağıdaki yargılardan hangisi doğru değildir?**

- A) Akıl yürütme, tümdengelim ve tümevarımdan oluşur.  
B) Tümelin bilgisi kesin ve mutlaktır.  
C) Tümevarım, tekil olandan tümelin bilgisine ulaşmaktır.  
D) Tümdengelimde sonucun doğru olması için öncüllerin doğru olması gerekmez.  
E) Tümevarım, tikeller üzerine yapılan gözlemlerle tümele varmaktır.

27. Aristoteles'e göre, amacına ulaşabilmek için maddenin biçimlenmesine katkıda bulunan nedenler 4 tanedir:

- Bir nesnenin kendinden yapıldığı nedendir.
- Devindiren, değişimi oluşturan etkinliktir. Sonucunun aracılığı ile oluşur.
- Nesnenin tözü ve özüdür. Ortaya çıkan sonucun kavramı, soyut olarak tümelliğidir.
- Oluşumun kendisine yöneldiği amaçtır. Yapılının yapılış amacıdır.

**Parçada tanımları yapılan kavramlar sırasıyla aşağıdakilerden hangisidir?**

- A) Maddi Neden / Etkileyici Neden / Biçimsel Neden / Ereksel Neden  
B) Ereksel Neden / Maddi Neden / Etkileyici Neden / Biçimsel Neden  
C) Biçimsel Neden / Ereksel Neden / Maddi Neden / Etkileyici Neden  
D) Etkileyici Neden / Biçimsel Neden / Ereksel Neden / Maddi Neden  
E) Maddi Neden / Biçimsel Neden / Ereksel Neden / Etkileyici Neden

28. • Sokrates, yaşadığı dönemde sorgulayıcı bir zihin yapısına sahip olduğu için devrin yargıçıları ve halk meclisi tarafından ölüme mahkum edilmiş; baldıran otu zehiri denilen koneion verilerek öldürülmüştür.

- Platon, politika konusunda eserler kaleme almış ve siyasi düşüncelerini yaşadığı dönemde uygulamak istemiş, o devrin hükümdarını kuşkulandırdığı için esir pazarlarında satılmak istenmiştir.

**Parçada verilen iki durum filozofların;**

- I. İrdeleyici olma,  
II. Sistemli düşünme,  
III. Toplumsal kabullere karşı çıkma
- özelliklerinden hangisini doğrular?**

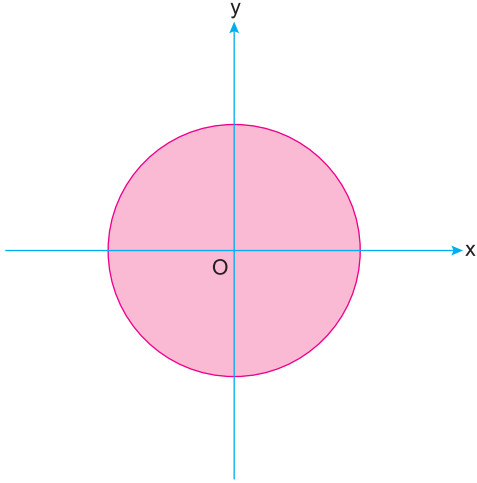
- A) Yalnız I      B) Yalnız II      C) Yalnız III  
D) I ve III      E) II ve III

# MATEMATİK TESTİ



1. Bu testte, Matematik ile ilgili 30 soru vardır.
2. Cevaplarınızı, cevap kâğıdının Matematik Testi için ayrılan kısmına işaretleyiniz.

1.



Şekildeki yarıçapı 4 br olan bir çember üzerinde Ahmet, Burak ve Cemil isimli öğrenciler bir etkinlik yapıyorlar.

**Etkinlikle ilgili;**

- Ahmet ve Burak pozitif yönlü  $30^\circ$  ve  $150^\circ$  lik açılarının çemberin kestiği noktaları A ve B olarak işaretliyorlar.
- Cemil ise negatif yönlü  $90^\circ$  lik açının çemberin kestiği noktayı C olarak işaretliyor.

**Buna göre A, B ve C noktalarının birleştirilmesiyle oluşturulan  $\widehat{ABC}$  üçgeninin çevresi kaç br dir?**

- A) 12    B)  $9\sqrt{3}$     C)  $15\sqrt{3}$     D)  $12\sqrt{3}$     E) 9

2. Birim çember üzerindeki  $A\left(\frac{2}{3}, n\right)$  noktası analitik düzlemde 4. bölgesinde olduğuna göre n kaçtır?

- A)  $\frac{1}{3}$     B)  $\frac{\sqrt{2}}{3}$     C)  $-\frac{\sqrt{5}}{3}$   
D)  $\frac{\sqrt{6}}{3}$     E)  $-\frac{2\sqrt{2}}{3}$

3.

$$Y = \tan 44^\circ$$

$$K = \cot 63^\circ$$

$$S = \cos 105^\circ$$

olduğuna göre Y, K ve S sayılarının sıralaması aşağıdakilerden hangisidir?

- A)  $Y < K < S$     B)  $Y < S < K$   
C)  $K < Y < S$     D)  $S < K < Y$   
E)  $S < Y < K$

4. Ölçüsü  $2021^\circ$  olan açının esas ölçüsü kaç derecedir?

- A) 202    B) 211    C) 217    D) 201    E) 221

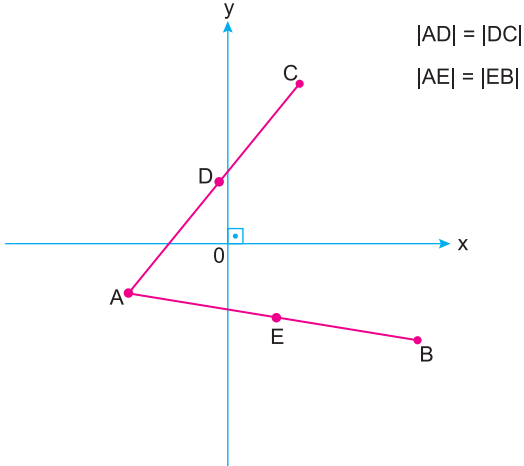


18. 50 kişilik bir sınıfta 30 öğrenci futbol ve 20 öğrenci basketbol oynamaktadır. 6 öğrenci ise bu iki sporu da yapmamaktadır.

Sınıftan rastgele seçilen bir öğrencinin bu sporlardan en az birini yaptığı bilindiğine göre her iki sporuda yapma olasılığı kaçtır?

- A)  $\frac{1}{11}$  B)  $\frac{3}{25}$  C)  $\frac{3}{22}$  D)  $\frac{2}{11}$  E)  $\frac{5}{22}$

19.



[AB] ve [AC] çubukları, dik koordinat sistemine şekil-deki gibi yerleştiriliyor.

**Çubukların orta noktalarının koordinatları**

D(-1, 3) ve E(3, -5)

**olduğuna göre, çubukların B ve C uçları arasındaki uzaklık kaç birimdir?**

- A) 10 B) 12 C)  $4\sqrt{5}$  D)  $6\sqrt{5}$  E)  $8\sqrt{5}$

20. Dik koordinat sisteminin,

II. bölgesinde bir A(a, b) ve

III. bölgesinde bir B(c, d) noktası alınıyor.

Buna göre aşağıdakilerden hangileri daima doğrudur?

I.  $a + d < 0$

II.  $b \cdot c > 0$

III.  $a + b + c < 0$

IV.  $d(c - b) > 0$

V.  $\frac{a + c}{b - d} < 0$

A) I, II ve IV

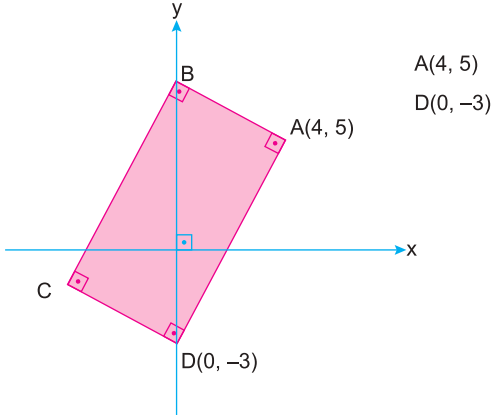
B) II, III ve V

C) I, IV ve V

D) I, II, IV ve V

E) Hepsi

21.



Dik koordinat sisteminde ABCD dikdörtgeninin B ve D köşeleri y eksenindedir.

**Buna göre C köşesinin koordinatları aşağıdakilerden hangisidir?**

- A)  $(-4, -1)$       B)  $(-4, -2)$       C)  $(-3, -1)$   
D)  $(-2, -1)$       E)  $(-5, -1)$

22. Dik koordinat sisteminde

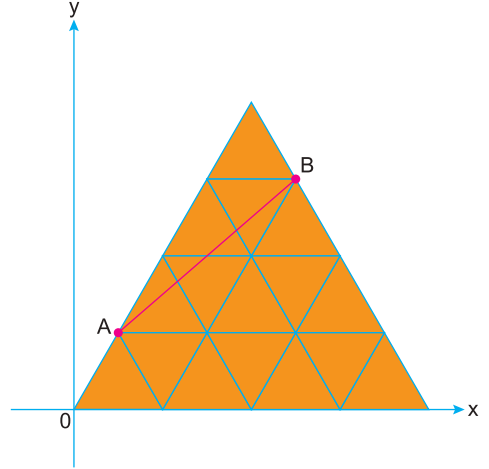
$$x = -3, \quad x = 4$$

$$y = 2, \quad y = 6$$

doğrularının sınırladığı kapalı bölgenin çevresi kaç birimdir?

- A) 11      B) 14      C) 22      D) 24      E) 28

23.




Dik koordinat sisteminde özdeş eşkenar üçgenlerden oluşan bir model verilmiştir.

**Buna göre, A ve B noktalarından geçen doğrunun eğimi kaçtır?**

- A) 1      B)  $\frac{1}{2}$       C)  $\frac{1}{3}$       D)  $\sqrt{3}$       E)  $\frac{\sqrt{3}}{2}$

29.



Şekilde verilen hedef tahtasında;

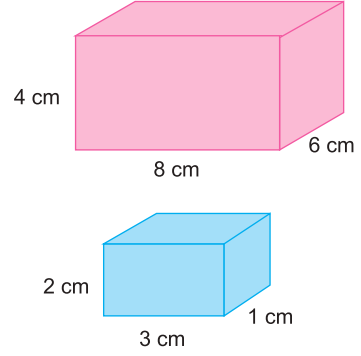
- pembe bölgeye atış yapılınc 3 puan,
- mavi bölgeye atış yapılınc 2 puan,
- yeşil bölgeye atış yapılınc 1 puan alınıyor.

Umut, hedef tahtasına 1 atış yapıyor.

**Atışın tahtaya isabet ettiği bilindiğine göre, Umut'un 2 puan alma olasılığının 1 puan alma olasılığına oranı kaçtır?**

- A)  $\frac{3}{5}$    B)  $\frac{9}{25}$    C)  $\frac{7}{25}$    D)  $\frac{3}{10}$    E)  $\frac{5}{8}$

30.



Ayrıtları 4, 6 ve 8 cm olan bir dikdörtgenler prizması ile, ayrıtları 1, 2 ve 3 cm olan bir dikdörtgenler prizması, birer yüzeyi yapışacak şekilde aşağıda gösterilen 5 farklı biçimde üst üste konuluyor.

**Oluşan yapıya üstten bakıldığında pembe görünen kısmın alanının, mavi görünen kısmın alanına oranı seçeneklerden hangisinde en küçüktür?**

- A)
- B)
- C)
- D)
- E)

**MATEMATİK TESTİ BİTTİ.  
CEVAPLARINIZI KONTROL EDEBİLİRSİNİZ.**