



**AYT**

# TARİH

## Soru Bankası

Konu Anlatım Videolu



Soru Çözüm Videolu



Mikro Konu Testleri



Akıllı Tahtaya Uyumlu



Soru Sayısı: 1466

Sıtkı Çelik





## Ön Söz

### Neden ICEBERG?

**ICEBERG**; okyanuslarda deniz akıntıları ve rüzgârlarla sürüklenerek yüzen büyük buz kütesidir. **ICEBERG**'in suyun üzerinde bulunan %10'luk kısmını destekleyen ve görünmesini sağlayan, suyun altındaki görünmeyen %90'lık kısmıdır. Bu kitabı hazırlarken **ICEBERG**'in görünmeyen kısmının görünen kısma olan bu katkısından biz de etkilendik.

Elinizdeki kitabı; görünen bir soru bankasından öteye taşıyarak konu eksiklerinizi tamamlamanızı sağlayacak detaylı konu anlatım videoları ve çözmekte zorlandığınız soru tiplerinin stratejilerini öğrenebileceğiniz çözüm videolarıyla görünmeyen bir kısım oluşturduk.

Millî Eğitim Bakanlığının uygulamaya koyduğu yeni öğretim programlarına uymakla birlikte ÖSYM'nin son yıllarda sorduğu soruları inceleyerek hazırladığımız kitaplarımızla siz değerli öğrencilerimizin yükünü hafifleterek öğrenmenizi kolaylaştırmayı ve bunu kalıcı hâle getirmeyi amaçladık.

Uzman yazarımız tarafından büyük bir özveriyle hazırlanan **AYT ICEBERG Tarih Soru Bankası** kitabının sizlere yararlı olacağına ve başarı yolunda hızlı ilerlemenizi sağlayacağına gönülden inanıyoruz.

İhtiyaç duyduğunuz her an **Konu Anlatım ve Soru Çözüm Videolarıyla 7/24** yanınızdayız.

Başarılar ve verimli çalışmalar diliyoruz.

**Yayın Yönetmeni**  
**Mehmet Şirin Bulut**

## Yazarın Sana Mesajı Var

### Çok soru çözmek yerine, doğru hazırlanmış sorulardan çözülmelidir...

Kıymetli Öğrencim,

- Elinizde bulunan AYT Tarih Soru Bankası, ÖSYM standartları ve MEB ders kitapları ışığında hazırlanmış en yeni kitaptır.
- Yayın oluşturulurken sayısı her geçen yıl artmakta olan ve "yeni nesil" olarak ifade edilen; okuduğunu anlama, görselden veya grafikten çıkarımlar yapma, gündelik yaşamla ilişkilendirme becerilerini ölçen soruların ölçme - değerlendirme tekniklerine uygun olarak hazırlanmasına özen gösterilmiştir.
- "Yeni Nesil" AYT Soru Bankası olan elinizdeki kitap; soruları çözerken bir taraftan keyif alacağınız, diğer taraftan konu ile ilgili bilgilerinizi pekiştireceğiniz özelliklere sahiptir.
- "Yeni Nesil" sorularda yer alan anlatımlar, genellikle orijinal tarih kaynaklarından derlenmiştir. Bu yönüyle kitap, önümüzdeki sınavda sizlere avantaj sağlayacaktır.

### Gülleri çekerek büyütemeyiz...

Kıymetli Öğrencim,

AYT Tarih alanındaki hazırlıklarınız gelişim kuralları içinde büyür, gelişir, yetişir. Bize düşen görev, bu gelişme sürecinde sizlere destek sağlamaktır. Elinizdeki bu kitap, sizin gelişiminiz ve iyi bir hazırlık dönemi geçirmeniz için bilimsel metotlar çerçevesinde meydana getirilmiş bir eserdir.

### Zorlu hedeflere deneyimli yol göstericilerle yürünür...

İşte, elinizde bulunan AYT Soru Bankası kitabı ile içinde bulunduğunuz yarışta, sizler hedefinize yürürken her adımınıza eşlik etmeyi düşündük. Bunun için; kitapta bulunan sorular, sizlerin ders konularını daha iyi, daha detaylı ve daha kolay öğrenmenize yardımcı olması düşünülmüş hazırlanmıştır.

Sizlere sınavlarınızda ve tüm hayatınızda başarılar dilerim.

**Sıtkı Çelik**

# İÇİNDEKİLER

<b>1. ÜNİTE</b>	<b>TARİH VE ZAMAN</b> ..... 6 - 13
	1. Mikro Konu: Tarih Bilimi ve Tarihin Özellikleri ..... 6
	2. Mikro Konu: Zaman Bilgisi - Tarihe Yardımcı Bilimler ..... 10
<b>2. ÜNİTE</b>	<b>İNSANLIĞIN İLK DÖNEMLERİ</b> ..... 14 - 23
	3. Mikro Konu: İnsanlık Tarihinde Yazı Öncesi ve Sonrası Dönemler - İlk Çağ Medeniyetleri ..... 14
	4. Mikro Konu: Coğrafya ve İklimin Etkileri, Siyasi Gücün ve Hukuk Sisteminin Kaynakları ..... 20
<b>3. ÜNİTE</b>	<b>ORTA ÇAĞ'DA DÜNYA</b> ..... 24 - 31
	5. Mikro Konu: Orta Çağ'da Devlet ve Toplum - Ekonomi - Askerî Organizasyonlar ve Hukuk..... 24
<b>4. ÜNİTE</b>	<b>İLK VE ORTA ÇAĞLARDA TÜRK DÜNYASI</b> ..... 32 - 41
	6. Mikro Konu: Türklerin Tarih Sahnesine Çıkışları - İlk ve Orta Çağlardaki Türk Devletlerinin Güç ve Yönetim Anlayışları ..... 32
	7. Mikro Konu: Asya Hun Devleti - Kavimler Göçü ve Avrupa Hun Devleti - Diğer Türk Devletleri ve Toplulukları ..... 38
<b>5. ÜNİTE</b>	<b>İSLAM MEDENİYETİNİN DOĞUŞU</b> ..... 42 - 51
	8. Mikro Konu: İslam Öncesi Arap Yarımadası - Hazreti Muhammed ve Dört Halife Dönemi ..... 42
	9. Mikro Konu: Emeviler - Abbasiler ve Endülüs Emevileri ..... 48
<b>6. ÜNİTE</b>	<b>TÜRKLERİN İSLAMİYET'İ KABULÜ VE İLK TÜRK İSLAM DEVLETLERİ</b> ..... 52 - 61
	10. Mikro Konu: Türklerin İslamlaşmaları ve İlk Türk İslam Devletleri ..... 52
	11. Mikro Konu: Oğuz Türkleri ve Büyük Selçuklular ..... 58
<b>7. ÜNİTE</b>	<b>YERLEŞME VE DEVLETLEŞME SÜRECİNDE SELÇUKLU TÜRKİYESİ</b> ..... 62 - 69
	12. Mikro Konu: Anadolu Selçuklu Devleti - İlk Türk Beylikleri - Haçlı Seferleri ve Moğol Tehdidi ..... 62
<b>8. ÜNİTE</b>	<b>BEYLİKTE DEVLETE OSMANLI SİYASETİ (1302 - 1453)</b> ..... 70 - 77
	13. Mikro Konu: Osmanlı Devleti'nin Kuruluş Yılları ve Beylikten Devlete Geçiş ..... 70
<b>9. ÜNİTE</b>	<b>DEVLETLEŞME SÜRECİNDE SAVAŞÇILAR VE ASKERLER</b> ..... 78 - 85
	14. Mikro Konu: Devletleşme Sürecinde Askerî Yapı ..... 78
<b>10. ÜNİTE</b>	<b>BEYLİKTE DEVLETE OSMANLI MEDENİYETİ</b> ..... 86 - 93
	15. Mikro Konu: Devletleşme Sürecinde Osmanlı Medeniyeti ..... 86
<b>11. ÜNİTE</b>	<b>DÜNYA GÜCÜ OSMANLI (1453 - 1595)</b> ..... 94 - 103
	16. Mikro Konu: İstanbul'un Fethi - İslam Dünyası Liderliği ..... 94
	17. Mikro Konu: Osmanlı'nın Gücü ve Stratejik Rakipleri - Coğrafi Keşiflerin Etkileri ..... 99
<b>12. ÜNİTE</b>	<b>SULTAN VE OSMANLI MERKEZ TEŞKİLATI</b> ..... 104 - 111
	18. Mikro Konu: Osmanlı Merkez Teşkilatı ..... 104
<b>13. ÜNİTE</b>	<b>KLASİK ÇAĞDA OSMANLI TOPLUM DÜZENİ</b> ..... 112 - 119
	19. Mikro Konu: Klasik Dönemde Osmanlı Toplumunu ..... 112
<b>14. ÜNİTE</b>	<b>DEĞİŞEN DÜNYA DENGELERİ KARŞISINDA OSMANLI SİYASETİ (1595 - 1774)</b> ..... 120 - 127
	20. Mikro Konu: 1595 - 1700 Yılları Arasındaki Siyasi Gelişmeler - Avrupa'da Din Savaşlarından Modern Devlete - Fetihlerden Savunmaya ..... 120
<b>15. ÜNİTE</b>	<b>DEĞİŞİM ÇAĞINDA AVRUPA VE OSMANLI</b> ..... 128 - 135
	21. Mikro Konu: Avrupa'da Değişim Çağı - Osmanlı Devleti'nde Değişim ..... 128
	22. Mikro Konu: Osmanlı Devleti'nde İsyanlar ve Düzeni Koruma Çabaları ..... 134



<b>16. ÜNİTE</b>	<b>ULUSLARARASI İLİŞKİLERDE DENGE STRATEJİSİ</b> ..... 136 - 143
	23. Mikro Konu: XVIII - XX. Yüzyıl Siyasi Gelişmeleri (1774 - 1914), Osmanlı - Rus Rekabeti (1768 - 1914) ..... 136
<b>17. ÜNİTE</b>	<b>DEVİMLER ÇAĞINDA DEĞİŞEN DEVLET - TOPLUM İLİŞKİLERİ</b> ..... 144 - 155
	24. Mikro Konu: İhtilaller Çağı - Osmanlı Devleti'nde Modern Orduya Geçiş ..... 144
	25. Mikro Konu: XIX. Yüzyılda Sosyal Hayattaki Değişimler - Osmanlı Devleti'nde Demokratikleşme Hareketleri ve Darbeler ..... 152
<b>18. ÜNİTE</b>	<b>SERMAYE VE EMEK</b> ..... 156 - 163
	26. Mikro Konu: El Emeğinden Makineleşmeye - Osmanlı'da Sanayileşme ve Ekonomiye Düzeltilme Çabaları ..... 156
<b>19. ÜNİTE</b>	<b>XIX VE XX. YÜZYILDA DEĞİŞEN GÜNDELİK HAYAT</b> ..... 164 - 171
	27. Mikro Konu: Ulus Devlete Giden Süreçte Nüfus - Modern Hayattaki Sosyal Değişim ..... 164
<b>20. ÜNİTE</b>	<b>XX. YÜZYIL BAŞLARINDA OSMANLI DEVLETİ VE DÜNYA</b> ..... 172 - 185
	28. Mikro Konu: Mustafa Kemal'in Hayatı (1881 - 1919) ..... 172
	29. Mikro Konu: XX. Yüzyıl Başlarında Osmanlı Devleti ..... 176
	30. Mikro Konu: I. Dünya Savaşı - Mondros Mütarekesi ve Sonrasındaki Gelişmeler ..... 182
<b>21. ÜNİTE</b>	<b>MİLLÎ MÜCADELE</b> ..... 186 - 199
	31. Mikro Konu: Millî Mücadele'de Örgütlenme Dönemi ve Amasya Genelgesi ..... 186
	32. Mikro Konu: Erzurum, Sivas ve Diğer Kongreler Dönemi, Amasya Görüşmeleri ve Misak-ı Millî.... 192
	33. Mikro Konu: Kurtuluş Savaşı'nda Cepheleler - Sakarya Meydan Muharebesi'nden Lozan Antlaşması'na ..... 194
<b>22. ÜNİTE</b>	<b>ATATÜRKÇÜLÜK VE TÜRK İNKILABI</b> ..... 200 - 213
	34. Mikro Konu: Atatürkçü Düşünce Sistemi ve Atatürk İlkeleri ..... 200
	35. Mikro Konu: Türk İnkılabı ve Siyasi Alanda Yapılan İnkılaplar ..... 205
	36. Mikro Konu: Hukuk, Eğitim, Toplum ve Ekonomi Alanında Yapılan İnkılaplar ..... 209
<b>23. ÜNİTE</b>	<b>İKİ SAVAŞ ARASINDAKİ DÖNEMDE TÜRKİYE VE DÜNYA</b> ..... 214 - 221
	37. Mikro Konu: Atatürk Dönemi Türk Dış Politikası ve Atatürk Sonrası Türkiye ..... 214
<b>24. ÜNİTE</b>	<b>II. DÜNYA SAVAŞI SÜRECİNDE TÜRKİYE VE DÜNYA</b> ..... 222 - 229
	38. Mikro Konu: II. Dünya Savaşı'nın Nedenleri, Yayılması ..... 222
	39. Mikro Konu: II. Dünya Savaşı Yıllarında Türkiye ve Savaşın Sonuçları ..... 227
<b>25. ÜNİTE</b>	<b>II. DÜNYA SAVAŞI SONRASINDA TÜRKİYE VE DÜNYA</b> ..... 230 - 237
	40. Mikro Konu: II. Dünya Savaşı Sonrası Türkiye - İki Kutuplu Dünya ve Türkiye - 1950'li Yıllarda Türkiye ..... 230
<b>26. ÜNİTE</b>	<b>TOPLUMSAL DEVRİM ÇAĞINDA DÜNYA VE TÜRKİYE</b> ..... 238 - 245
	41. Mikro Konu: 1960 Sonrası Dünyadaki Gelişmeler ve Türk Dış Politikasına Etkileri ..... 238
<b>27. ÜNİTE</b>	<b>XXI. YÜZYILIN EŞİĞİNDE TÜRKİYE VE DÜNYA</b> ..... 246 - 252
	42. Mikro Konu: 1990 Sonrası Türkiye ve Dünyadaki Gelişmeler ..... 246
	<b>CEVAP ANAHTARI</b> ..... 253 - 256






# TEST 1

## 1. MİKRO KONU: Tarih Bilimi ve Tarihin Özellikleri

### 1. ÜNİTE: Tarih ve Zaman



1. Eski Çağ yazarlarının bir kısmının Herodot'un objektif tarih yazmadığını ifade etmesi, onunla ilgili günümüze kadar gelen bir yanlış anlamaya kapı açmıştır. O, kulağa hoş gelen hikâyelerden alıntılar yapmakla itham edilmiştir. Aslında her şey Thukydides'in onu rasyonel olmayan sözlü geleneği eleştirmesiyle başlamıştır. Akademik çevrelerin eleştirilerinin Herodot'un eserlerinden kaynaklanmadığı yazdıkları iyi incelendiğinde rahatlıkla görülebilir.



**Buna göre, objektif bir tarih anlayışında olmadığını belirtenlerin Herodot'un;**

- I. doğruluğu ispatlanmayan bilgilerle ilgili yorum yapmaması,
- II. gerçek dışı olayları açıkça reddetmesi,
- III. başkalarının ağzından konuşarak sadece işittiklerini aktardığını belirtmesi

**özelliklerinden hangilerini gözden kaçırdıkları söylenebilir?**

- A) Yalnız I                      B) I ve II                      C) I ve III  
D) II ve III                      E) I, II ve III

2. Tarihî bir olayı inceleyen tarihinin;

- I. insan davranışlarını gözlemleyip ölçme,
- II. kendi bakış açısıyla olayları inceleme,
- III. elde ettiği verileri tasnif ederek değerlendirme

**tutumlarından hangilerinin tarih metodolojisi bakımından doğru olduğu söylenemez?**

- A) Yalnız I                      B) Yalnız II                      C) I ve II  
D) I ve III                      E) II ve III

3. Tarih bilimi geçmişini konu alır. Böylece tarih çok geniş kapsamlı bir bilim hâline gelir.

**Buna göre, tarihçilerin aşağıdaki yöntemlerinden hangisi, tarihin araştırılmasını kolaylaştırıcı bir yöntem olamaz?**

- A) Objektif bir tutum sergilenmesi  
B) Olayların bir kısmının değerlendirilmesi  
C) Konulara göre sınıflandırma yapılması  
D) Olayların belirli dönemlere ayrılması  
E) Bölge tarihlerinin şehir özelinde ele alınması

4. Kadının Mezopotamya'daki siyasi, ekonomik, sosyal ve dinî alanlardaki etkileri üzerine yapılan akademik çalışmalar son dönemlerde artmıştır. Bunun sayesinde gün geçtikçe Mezopotamya kadını hakkında daha fazla bilgiye sahip olmaktadır. Bilhassa Eski Mezopotamya'nın çivi yazılı kaynaklarında zengin bilgilere ulaşılmıştır. Eski kronikler ise bizlere erkek egemen toplumların tabii bir uzantısı olarak aktörlerin neredeyse tamamı erkeklerden oluşan tarihî olayları nakletmiştir.

**Metindeki bilgilerde tarih biliminin aşağıdaki hangi özelliği bulunmamaktadır?**

- A) Belgelere dayanma  
B) Kaynak tenkidi  
C) Yer  
D) Zaman  
E) Sebep - sonuç ilişkisi

5.

#### Tarihî Olayların İncelenmesi

- |      |  |
|------|--|
| I.   | Olayla ilgili izlere ulaşma                |
| II.  | Tarih bilincini geliştirme                 |
| III. | Coğrafi özelliklerin olaya etkisini anlama |

Tarihî olaylar incelenirken olayın gerçekleştiği yerde yapılan araştırmalar çalışmaya önemli değerler katar.

**Bu yöntemin uygulanması yukarıdaki amaçlardan hangilerine yöneliktir?**

- A) Yalnız I                      B) I ve II                      C) I ve III  
D) II ve III                      E) I, II ve III

6. II. Mehmet öncülüğünde, uzun bir hazırlık döneminden sonra 1453 yılında Osmanlılar İstanbul'u ele geçirmiştir. İstanbul'un fethedilmesi sadece Türk tarihinde değil, dünya tarihinde de önemli gelişmelere yol açmış; Orta Çağ'ı kapatıp Yeni Çağ'ı başlatmıştır.

**Tarih biliminin özellikleri dikkate alındığında metindeki bilgilere göre aşağıdaki yargılardan hangisine ulaşılabilir?**

- A) Olayların birbirini etkileme özelliği bulunur.  
B) Tarihçi İstanbul'un fethinin sonuçlarını inceler.  
C) Olaylar arasında sebep - sonuç ilişkisi kurulmalıdır.  
D) Bazı olayların etkileri uzun zaman geçse de sürebilir.  
E) Fetihler insanlık için yeni dönemlerin başlamasına yol açar.




# TEST 1

## 2. MİKRO KONU: Zaman Bilgisi - Tarihe Yardımcı Bilimler

### 1. ÜNİTE: Tarih ve Zaman



1.



Aşağıdakilerden hangisi on iki hayvanlı Türk takviminin özelliklerinden değildir?

- A) Ay Yılı hesabına göre düzenlenmiştir.
- B) Yıllar hayvan isimleri ile gösterilmiştir.
- C) Takvim, Türklerden başka Çinliler ve Tibetliler tarafından da kullanılmıştır.
- D) Takvimde 12 yıl bir devre olarak kabul edilmiştir.
- E) Takvim 365 gün 5 saat olarak planlanmıştır.

2. Toplumların yaşayışlarını, hayat tarzlarını, örf ve âdetlerini inceleyen tarihe yardımcı bilim dalı aşağıdakilerden hangisidir?

- A) Heraldik
- B) Etnografya
- C) Arkeoloji
- D) Nüvizmatik
- E) Epigrafi

3. I. Paleografya  
II. Arkeoloji  
III. Nüvizmatik  
IV. Diplomasi  
V. Filoloji

Yazının bulunmasından önceki dönemler genel olarak "Tarih Öncesi Devirler" olarak adlandırılmıştır.

Tarih öncesi devirlere ait bir buluntuya sahip olan tarihçi yukarıda verilen yardımcı bilim dallarının hangisinden yararlanabilir?

- A) I
- B) II
- C) III
- D) IV
- E) V

4.

#### Türlerine Göre Kaynaklar

- I. Sözlü Kaynak: Şiir
- II. Görsel Kaynak: Resim
- III. İşitsel Kaynak: Ses kasedi
- IV. Tarihi Kalıntı: Ferman
- V. Yazılı Kaynak: Para

Türlerine göre kaynakların ve ilgili örneklerin yer aldığı yukarıdaki listede kaç numaralı maddede yanlışlık yapılmıştır?

- A) I
- B) II
- C) III
- D) IV
- E) V

5. İnsan ırklarının kökenlerini, özelliklerini ve yeryüzüne dağılımlarını inceleyen tarihe yardımcı bilim dalı aşağıdakilerden hangisidir?

- A) Arkeoloji
- B) Coğrafya
- C) Antropoloji
- D) Heraldik
- E) Epigrafi

6.



İstanbul'un Fethi



Matbaanın Bulunması

Yeni Çağ

Tarih öğretmeni öğrencilerine zaman kavramını anlatırken yukarıdaki görselleri tahtaya yansıtmış ve "Yeni Çağ'ın başlangıcı olarak kimi tarihçiler İstanbul'un Fethi'ni kimileri de matbaanın keşfini kabul ederler." demiştir.

Tarih öğretmeni bu durumun sebebini öğrencilerine aşağıdaki cümlelerden hangisi ile ifade etmiş olabilir?

- A) İstanbul'un fethi Avrupa'nın siyasi yapısını değiştirmiştir.
- B) Zamanın sınıflandırılmasında toplumlar kendi tarihlerindeki önemli olayları esas almışlardır.
- C) Matbaa kültürler ve medeniyetler üzerinde çok büyük değişimlere yol açmıştır.
- D) Olayların kolay anlaşılması için tarihî gelişmeler bölümlere ayrılmıştır.
- E) İnsanlık tarihinde etkisi uzun süren gelişmeler yaşanmıştır.





## TEST 5

### 3. MİKRO KONU: İnsanlık Tarihinde Yazı Öncesi ve Sonrası Dönemler - İlk Çağ Medeniyetleri

#### 2. ÜNİTE: İnsanlığın İlk Dönemleri

1. 
- I. Kadeş Savaşı'nın yaşanması
  - II. Lidyalıların parayı kullanması
  - III. Hazreti İsa'nın doğumu
  - IV. Kavimler Göçü'nün gerçekleşmesi
  - V. Mısır güneş takviminin bulunması

Yukarıdaki şekilde yer alan gelişmelerin hangisi tarih öncesi döneme aittir?

- A) I      B) II      C) III      D) IV      E) V

2. Asya Seferi sırasında fethettiği ülkeler hakkında bilgi sahibi olmak için daima yanında coğrafyacı bulundurmıştır. Onun açtığı İskenderiye Kütüphanesinde görev yapan Eratostenes ve İskenderiye'ye yerleşen Hipparkos bu alanda kendilerinden sonra gelen coğrafyalara öncülük etmişlerdir. **Bilimi teşvik ederek coğrafyanın gelişmesinde önemli katkıları olan sözü edilen hükümdar aşağıdakilerden hangisidir?**

- A) Hammurabi      B) İskender      C) Sezar  
D) Tutankhamon      E) Urukagina

3. Temel geçim kaynakları tarım ve hayvancılık olan Sümerler her şeyin tanrılarına ait olduklarını düşünmüşlerdir. Bu sebeple ürünlerini "Ziggurat" adlı tapınaklara teslim etmişlerdir. Üretimin boyutu artınca türlü zorluklarla karşılaşmaya başlamışlardır. **Sümerlerin bu zorlukları aşmak için;**
- I. uluslararası ticareti önemseme,
  - II. yazıyı kullanma,
  - III. kilden yapılmış tabletleri kullanma
- yöntemlerinden hangilerine yöneldikleri söylenebilir?**

- A) Yalnız I      B) I ve II      C) I ve III  
D) II ve III      E) I, II ve III

4.
  - Çorum'un Hattuşaş bölgesinde Kızılırmak çevresinde kurulmuştur.
  - Kral aynı zamanda başkomutan, başyargıç ve başrahiptir.
  - Tavananna adı verilen kraliçe, Pankuş Meclisi üyesidir.
  - Pankuş Meclisinde önemli konular görüşülmüş, alınan kararlar kralların onayıyla yürürlüğe girmiştir.

**Hititlere dair yukarıda yer alan bilgilere göre aşağıdaki yargılardan hangisine ulaşamaz?**

- A) Yerleşimde temel ihtiyaç kaynakları gözetilmiştir.  
B) Kraliçenin siyasi yetkileri bulunmaktadır.  
C) Meclis, danışma kurulu özelliğini taşımaktadır.  
D) Yönetimde teokratik uygulamalar benimsenmiştir.  
E) Kralın yetkisi paylaşılmış, merkezî otorite zayıflamıştır.

5. **Aşağıda verilenlerden hangisinin Anadolu uygarlıklarından olduğu söylenemez?**

- A) Sümerler      B) Hititler      C) İyonlar  
D) Urartular      E) Lidyalılar

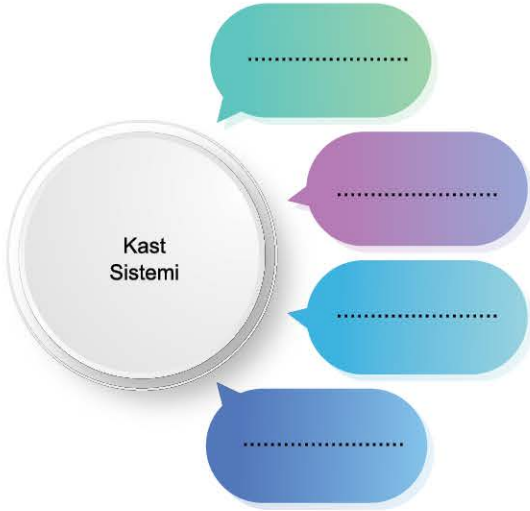
6. 
- I. Sümerlerin yazıyı bulması
  - II. Lidyalıların parayı bulması
  - III. Kadeş Antlaşması
  - IV. Hazreti İsa'nın Doğumu
  - V. Kavimler Göçü

**Yukarıdaki tarih şeridinin doğru olabilmesi için kaç numaralı gelişmeler yer değiştirmelidir?**

- A) I ve II      B) I ve III      C) II ve III  
D) II ve V      E) III ve IV



1.



Tarih öğretmeni dersinde Hint medeniyeti konusunu anlatırken yukarıdaki tabloyu çizmiş ve öğrencilerinden, Hintlerde bulunan sosyal sınıfların isimlerini tabloya yazmalarını istemiştir. **Öğrencilerin tabloda bulunan boşluklara aşağıdakilerden hangisini yazması beklenemez?**

- A) Kşatriyalar      B) Serfler      C) Vaisiyalar  
D) Brahmanlar      E) Sudralar

2. I. Avrupa'da Batı Roma İmparatorluğu en güçlü siyasi yapıdır.  
II. Roma Kilisesi hiyerarşik bir düzene sahiptir.  
III. Barbar Germen kavimleri henüz yerleşik hayata geçmiştir.  
IV. Merkezî devletler en yaygın güç unsurlarındandır.  
V. İktidarın tanrı tarafından Roma Kilisesi'ne verildiğine inanılmaktadır.

**Orta Çağ'da Avrupa'nın siyasi durumu ile ilgili yukarıda verilenlerden hangisinin doğru bir bilgi olduğu söylenemez?**

- A) I      B) II      C) III      D) IV      E) V

3. Avrupa'da Roma İmparatorluğu'nun parçalanmasından sonra güçlü bir yapı kalmamıştır. Doğal ihtiyaçlar ve üretimin sürdürülmesi zorunluluğundan doğan barış ortamında Orta Çağ boyunca yeni yönetim anlayışı etkisini artırmıştır.

**Orta Çağ'da Avrupa'da yönetim alanında etkisini artıran bu anlayış aşağıdakilerden hangisidir?**

- A) Kilise      B) Mutlak monarşi  
C) Feodalite      D) Teokratik yönetim  
E) Merkezî krallık

4. Ticari hayatı canlandıran en önemli konulardan birisi dışarıya açık bir ekonomik yapının oluşturulmasıdır. Yakın şehirler, hatta ülkelerle yapılan ticaret aynı zamanda ekonomide hacmin artmasına katkı sağlar. Orta Çağ'da Avrupa'da bu durumun aksine kapalı ekonomi faaliyetleri gerçekleştirilmiştir.

**Orta Çağ Avrupa'sında böyle bir ekonominin bulunmasında aşağıdakilerden hangisinin etkili olduğu savunulabilir?**

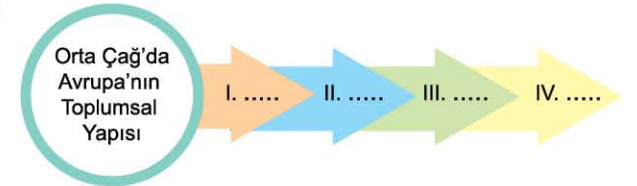
- A) Devlet politikalarının  
B) Feodal yapının  
C) Ticaret yollarının değişmesinin  
D) Merkantilizm anlayışının  
E) Haçlı Seferleri'nin

5. Asya ülkelerinin en önemli panayırları Arabistan Yarımadası'nda kurulmuştur. Güney Aden bu güzergâhtaki önemli panayırlardandı. Ramazan ayının ilk on gününde kurulan buradaki pazarda fil dişi, deve kuşu tüyü, itriya ve pamuk gibi ürünler satılmıştır.

**Bu bölgelerde kurulan panayırların aşağıdaki hangi güzergâh üzerinde yer aldığı söylenebilir?**

- A) Kürk Yolu      B) Anadolu      C) İpek Yolu  
D) Kral Yolu      E) Baharat Yolu

6.



**Görsellerde bulunan sınıfların, toplumdaki önemine göre üst tabakadan başlayarak sıralanışı aşağıdakilerden hangisinde doğru olarak verilmiştir?**

- |    | I     | II        | III       | IV     |
|----|-------|-----------|-----------|--------|
| A) | Köylü | Tüccar    | Din adamı | Asil   |
| B) | Köylü | Din adamı | Tüccar    | Asil   |
| C) | Köylü | Din adamı | Asil      | Tüccar |
| D) | Asil  | Tüccar    | Din adamı | Köylü  |
| E) | Asil  | Din adamı | Tüccar    | Köylü  |



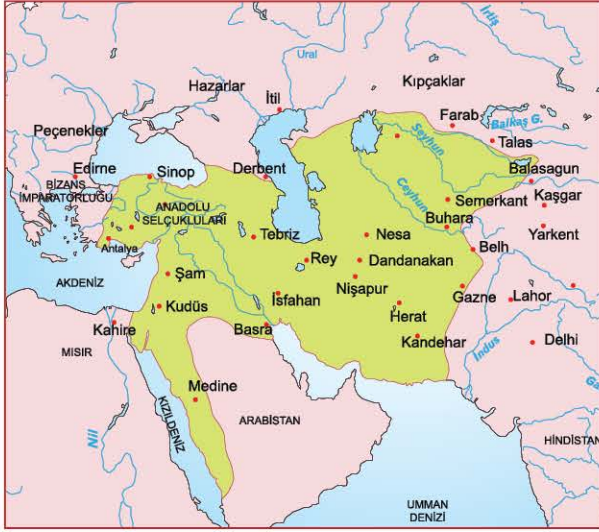


## TEST 3

### 11. MİKRO KONU: Oğuz Türkleri ve Büyük Selçuklular

#### 6. ÜNİTE: Türklerin İslamiyet'i Kabulü ve İlk Türk İslam Devletleri

1.



**Büyük Selçuklu Devleti ile ilgili görseldeki harita ve dönemin gelişmeleri birlikte değerlendirildiğinde aşağıdakilerden hangisine ulaşılabılır?**

- A) Büyük Selçuklu toprakları üç kıtaya yayılmıştır.
- B) İslam âleminin dinî lideri konumuna gelmişlerdir.
- C) Arap Yarımadası'nın tamamına hâkim olmuşlardır.
- D) İslam âleminin koruyuculuğu görevini üstlenmişlerdir.
- E) Anadolu'nun fethini tamamlamışlardır.

2.

Bizans İmparatorluğu Selçukluların Anadolu'ya yapmış oldukları akınları önlemek üzere Doğu seferine karar vermiştir. Malazgirt Ovası'nda her iki ordu karşı karşıya gelmiş ve Selçuklular önemli bir zafer kazanmıştır.

**Aşağıdakilerden hangisinin kazanılan bu zaferin sonuçlarından olduğu söylenemez?**

- A) Anadolu'nun kapılarının Türklere açılması
- B) Selçuklu başkentinin Anadolu'ya taşınması
- C) Anadolu'da ilk Türk beyliklerinin kurulması
- D) Türk İslam dünyası üzerine Haçlı Seferleri'nin başlaması
- E) Türk denizcilik faaliyetlerinin başlaması

3.

**Merkezi Alamut Kalesi olan ve Büyük Selçuklu Devleti'nin yıkılmasında önemli etkileri bulunan unsur aşağıdakilerden hangisidir?**

- A) Batıniler
- B) Fatımiler
- C) Şii Büveyhoğulları
- D) Samanoğulları
- E) Sasaniler

4.

**Aşağıdakilerden hangisinin Büyük Selçuklularda hükümdarlık alametlerinden biri olduğu söylenemez?**

- A) Nevbet
- B) Tuğra
- C) Kilim
- D) Sikke
- E) Sancak

5.

**Aşağıdakilerden hangisi Oğuzların Üçok koluna bağlı olan Büyük Selçukluların kurucu unsurudur?**

- A) Kayılar
- B) Kınıklar
- C) Yazırlar
- D) Avşarlar
- E) Dodurgalar

6.

İslamiyet'in yayılması ile birlikte Türkler toplu olarak Müslümanlığı benimsemiş, böylece Türk İslam devletleri ortaya çıkmıştır.

**Ortaya çıkan ilk Türk İslam devletlerinden;**

- I. Karahanlılar,
- II. Gazneliler,
- III. Büyük Selçuklular

**unsurlarının hangileri çağdaş devletlerdir?**

- A) Yalnız II
- B) I ve II
- C) I ve III
- D) II ve III
- E) I, II ve III

7.



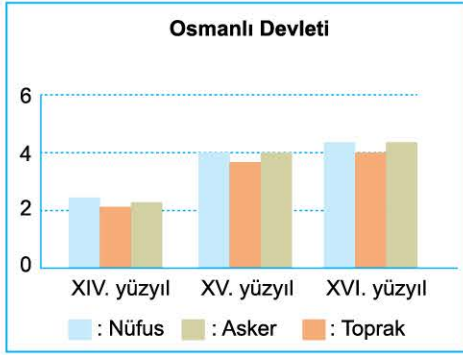
*Tuğrul Bey'in kendi adına bastırdığı para*

**Selçuklu hükümdarı Tuğrul Bey'in kendi adına bastırmış olduğu altın dinar görseline bakılarak aşağıdaki yargılardan hangisine ulaşılamaz?**

- A) Selçuklu, bağımsız bir devlettir.
- B) Devlet ekonomik yönden güçlüdür.
- C) Selçuklular İslam kültürünü benimsemişlerdir.
- D) Adalet kavramı yüceltilmiştir.
- E) Merkezî otorite güçlendirilmek istenmiştir.



1.



Osmanlı Devleti'nin askerî, coğrafi ve demografik yapısının yüzyıllara göre değişimini gösteren grafiğe bakılarak aşağıdakilerden hangisine ulaşamaz?

- A) Fetret Dönemi'nin etkileri giderek artmıştır.
- B) Fetih hareketleri hızlanmıştır.
- C) Hazinesinin vergi gelirleri artmıştır.
- D) Üretim faaliyetleri genişlemiştir.
- E) Devletin yöneticilere olan ihtiyacı artmıştır.

2. Asker yetiştirmek üzere kurulan Acemi Ocaklarının asker ihtiyacını karşılamak için pençik sistemi uygulanmıştır. Bu durum Rumeli'de fetih hareketlerinin başlamasıyla birlikte askere olan ihtiyacın artmasının sonucudur.

Aşağıdakilerden hangisi Pençik sistemini kısaca ifade etmektedir?

- A) Toprağa dayalı askerlik sistemi
- B) Ekonomik program
- C) Savaş esirlerinin askerlikte değerlendirilmesi
- D) Vakıf sistemi
- E) İstimalet politikası

3. Tımar sistemi, görevlilere devlete hizmet etme karşılığında kendilerine belirli bir bölgenin vergi toplama yetkisinin devredilmesi anlamına gelen, karşılıklı yükümlülükler esasına dayalı toprak yönetimidir.

Tımar sisteminin, Osmanlı Devleti'nde;

- I. askerî,
- II. sosyal,
- III. ekonomik

alanlarından hangilerini etkilediği savunulabilir?

- A) Yalnız I
- B) I ve II
- C) I ve III
- D) II ve III
- E) I, II ve III

4. Çandarlı Paşa devlet elinde çok sayıda pençik esiri birikince bunlardan asker yapma fikrini ortaya attı. Bu esirler Bursa civarlarındaki köylere gönderildi. Bunlara Türkçe öğretildi. İslamlaşmaları sağlandı.

Türkçe öğrenerek Müslüman olan bu gençler aşağıdaki hangi yapıda görev almışlardır?

- A) İlimiye teşkilatı
- B) Tımarlı sipahi
- C) İhtisap teşkilatı
- D) Yeniçeri Ocağı
- E) Vakıf sistemi

5. Yaya ve müsellemler Osmanlı Devleti'nde oluşturulan ilk düzenli askerî teşkilattır.

Yaya ve müsellemler teşkilatı aşağıdaki hangi padişah zamanında oluşturulmuştur?

- A) II. Murat
- B) II. Mehmet
- C) Orhan Gazi
- D) I. Murat
- E) I. Bayezit

6. Saruca Çavuş: "Ailemden alındıktan sonra devlet görevlilerine teslim edildim. Müslüman oldum ve bana yeni bir Müslüman adı takılarak mühtedilere mahsus soy künyesi düzenlendi. Geldiğim yer, vaftiz defterlerindeki detayları ile deftere kaydedildim. Yalnız deftere baba adım yazılmadı. Bu künyelerde baba adı, genellikle doğrudan 'Abdullah' olarak kaydedilirdi. Benim de öyle yazıldı. Oradan acemi oğlan ocağına giderek asker oldum."

Bir Osmanlı askerî olan Saruca Çavuş'un söylediklerinden yola çıkarak aşağıdaki hangi askerî sınıfta hizmet ettiği söylenebilir?

- A) Azap
- B) Yeniçeri
- C) Akıncı
- D) Tımarlı sipahi
- E) Yaya ve müsellemler







0F5704A6

1. I. Anadolu'daki bazı Türk beyliklerinin itaat altına alınması  
II. Anadolu'dan geçen ticaret yollarının denetim altına alınması  
III. Anadolu'daki Osmanlı'ya tabi olmayan gayrimüslim unsurların etkisiz hâle getirilmesi

**Yukarıda verilen Fatih Dönemi'ne ait faaliyetlerin genel amacı aşağıdakilerden hangisidir?**

- A) Ekonomik kazanç elde etmek  
B) Anadolu'nun tamamını hâkimiyet altına almak  
C) Batı'ya yapılacak fetih hareketlerinde doğu yönünü kontrol altına almak  
D) Muhtemel isyan hareketlerini engellemek  
E) İstanbul'un fetih hazırlıklarını tamamlamak

2. Osmanlı Devleti aşağıdaki hangi hükümdar zamanında devletten imparatorluğa geçmiştir?

- A) I. Murat                      B) II. Murat                      C) II. Mehmet  
D) I. Selim                      E) I. Süleyman

3. Osmanlı Memlûk münasebetlerinde rekabet yaşanmasının temel sebebi aşağıdakilerden hangisidir?

- A) Osmanlıların, Dulkadiroğullarının iç işlerine karışması  
B) Her iki devletin de İslam dünyasının siyasi liderliğini ele geçirmek istemeleri  
C) Hicaz su yolları meselesinin ortaya çıkması  
D) Sınır anlaşmazlıklarının yaşanması  
E) Baharat Yolu'na hâkim olunmak istenmesi

4. İspanya'da hâkimiyet kuran Katoliklerin baskısından kaçan Yahudiler aşağıdaki hangi padişah döneminde Osmanlı Devleti'nden yardım istemiştir?

- A) II. Murat  
B) Fatih Sultan Mehmet  
C) II. Bayezit  
D) Yavuz Sultan Selim  
E) Kanuni Sultan Süleyman

11. ÜNİTE: Dünya Gücü Osmanlı (1453 - 1595)

5. Karadeniz'deki hâkimiyet alanını genişletmek ve Karadeniz deniz ticaretini ele geçirmek düşüncesiyle Kırım, II. Mehmet Dönemi'nde fethedilmiştir.

**Osmanlılar Kırım'ı aşağıdaki siyasi yapıların hangisinden almıştır?**

- A) İspanya                      B) Lehistan                      C) Portekiz  
D) Ceneviz                      E) Rusya

6. Osmanlıların Balkanlarda etkisinin artması, Akdeniz'e hâkim olmaya çalışması iki devletin Fatih Dönemi'nde savaşmalarına yol açtı. Denizlerde on altı yıl süren savaşlar sonunda Osmanlılar birçok adayı ele geçirdi. Savaşlar anlaşma ile sonuçlandı.

**Osmanlı Devleti'nin Akdeniz'de mücadele ettiği bu devlet aşağıdakilerden hangisidir?**

- A) Venedik                      B) İspanya                      C) Ceneviz  
D) Fransa                      E) Portekiz



**Yukarıda yer alan I. Selim Dönemi'ne ait amaç - faaliyet eşleştirmesi tablosunda, hangi alanda yanlışlık yapılmıştır?**

- A) I                      B) II                      C) III                      D) IV                      E) V



## TEST 7

### 20. MİKRO KONU: 1595 - 1700 Yılları Arasındaki Siyasi Gelişmeler - Avrupa'da Din Savaşlarından Modern Devlete - Fetihlerden Savunmaya

#### 14. ÜNİTE: Değişen Dünya Dengeleri Karşısında Osmanlı Siyaseti (1595 - 1774)

1.

I. Paranın değer kaybetmesi

II. Sık padişah değişikliklerinin yaşanması

III. Saray masraflarının artması

IV. Köyden şehire göçlerin artması

V. Askerî alandaki yeniliklerin takip edilememesi

Osmanlı Devleti'nde görülen yukarıdaki gelişmelerden hangisinin, Anadolu'da yaşanan Celali ayaklanmalarının sonuçlarından olduğu savunulabilir?

- A) I      B) II      C) III      D) IV      E) V

2. Aşağıdakilerden hangisinin XVII. yüzyılda Osmanlı Devleti'nin Akdeniz'deki güvenliğini olumsuz etkilediği söylenebilir?

- A) Girit Adası'nın Venedik'in elinde olması  
B) Kadırgadan kalyon gemilerine geçilmesi  
C) İspanya ve Portekiz'in sömürgecilik faaliyetleri  
D) Fransa'nın Mısır'ı işgal etmesi  
E) Azak Kalesi'nin Rusya'nın eline geçmesi

3. Aşağıdakilerden hangisi Karlofça Antlaşması ile ilgili doğru bir çıkarımdır?

- A) Avrupa'daki Osmanlı varlığı sona ermiştir.  
B) Ulus hareketlerine zemin hazırlanmıştır.  
C) Osmanlı'nın Batı Avrupa hâkimiyeti sonlanmıştır.  
D) Avrupa'da dinî anlaşmazlıklar artmıştır.  
E) Osmanlı Avrupa'daki yaptırım gücünü kaybetmiştir.

4. Osmanlılar doğu sınırında Safevilerle yaptıkları mücadelelerde kalıcı bir sonuca ulaşamamışlardır. Kasrı Şirin Antlaşması ile nihayet Osmanlı - İran sınırı makul bir uzlaşmayla sakinleşebilmiştir.

Aşağıdakilerden hangisi Osmanlıların doğu sınırında mutlak bir sonuç elde edememesinin sebeplerinden olamaz?

- A) Coğrafyanın Safevilerin merkezine yakın olması  
B) Anadolu'da yaşanan Celali İsyanları  
C) Osmanlı'da yaşanan azınlık ayaklanmaları  
D) Bölgedeki Şii halkın İran yanlı tavırları  
E) Avrupa ile devam eden mücadeleler

5. Osmanlı Devleti'nin XVIII. yüzyılda en çok savaştığı devletler aşağıdakilerin hangisinde birlikte verilmiştir?

- A) Rusya - Fransa  
B) İran - Avusturya  
C) Avusturya - Fransa  
D) Rusya - Avusturya  
E) Rusya - Venedik

6.



Yukarıda bulunan XVIII. yüzyıl Osmanlı haritası ve dönemin gelişmeleri birlikte değerlendirildiğinde aşağıdaki yargılardan hangisine ulaşamaz?

- A) Rusya; Lehistan ve Osmanlı aleyhine topraklarını genişletmiştir.  
B) Bu yüzyılda uluslararası ilişkiler ve ittifakların önemi artmıştır.  
C) Fransa'nın Osmanlı politikalarında değişim yaşanmıştır.  
D) Karadeniz Türk gölü olmaktan çıkmıştır.  
E) Osmanlı Devleti eski gücünü koruyabilmiştir.





## TEST 3

1. "Hükümdar adlı kitabımda yazdığım gibi; hükümdarın önünde onu sınırlayacak hiçbir engel olmamalıdır. Buna din ve ahlâk kuralları da dâhil."



Yukarıdaki sözler aşağıda verilen isimlerden hangisine aittir?

- A) Kopernik  
B) Thomas Moore  
C) Jean Jacques Rousseau  
D) Machiavelli  
E) Immanuel Kant

2. Avrupa'da XVII. yüzyıldan itibaren devletlerin ordu sistemlerinde ve savaş yöntemlerinde önemli değişimler yaşanmıştır. Askerî Devrim olarak ifade edilen bu değişimin temeli aşağıdakilerden hangisine dayalıdır?

- A) Askerliğin vatan hizmeti hâline gelmesine  
B) Özel kuvvetlere  
C) Ateşli silahlara  
D) Zorunlu askerlik hizmetine  
E) Ulus devlet anlayışına

3. Osmanlı Devleti'nde III. Mehmet (1595 - 1603) ile II. Mustafa'nın (1695 - 1703) saltanatları arasında denk gelen uzun XVII. yüzyıl, Osmanlı hanedanı ve hükümdarları açısından sıkıntılı ve derin bir siyasî kriz dönemi olarak yaşanmıştır.

Aşağıdakilerden hangisinin bu durumun sebeplerinden olduğu söylenemez?

- A) Saltanat süren on padişahın beşinin farklı sebeplerle tahttan indirilmesi  
B) Habsburglara ve Celalilere karşı eş zamanlı ve zahmetli askerî mücadeleler verilmesi  
C) İstanbul'da sipahi askerlerin ayaklanmalar çıkarması  
D) Önemi kaybeden tımar askerinin yerine Nizam-ı Cedid ordusunun kurulması  
E) Halkın ve yöneticilerin padişahlara kolay ulaşamamaları sebebiyle saraya tepki duyulması

4. Kanuni Sultan Süleyman Dönemi'nin sonlarına kadar disiplinli bir ordu olan tımarlı sipahiler XVI. yüzyılın sonlarından itibaren önemlerini kaybetmişlerdir.

Tımarlı sipahilerin önemlerini kaybetmelerinde;

- I. Avrupa'da ateşli silahların gelişmesi,  
II. tımarların kanunsuz ve rüşvetle verilmeye başlanması,  
III. ilmiye sınıfında görülen yozlaşma

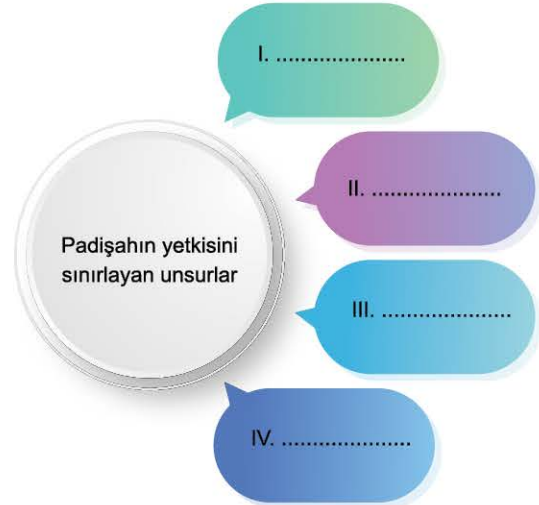
durumlarından hangilerinin etkileri olmuştur?

- A) Yalnız I  
B) I ve II  
C) I ve III  
D) II ve III  
E) I, II ve III

5. Osmanlı'da kapitülasyon: Avrupalı devletlerin haklarını belirleyen ve ayrıcalık anlamına gelen kapitülasyonların süreleri imzası bulunan padişahın dönemiyle sınırlandırılmıştır. Kapitülasyonlar aşağıdaki hangi padişah zamanında sürekli hâle getirilmiştir?

- A) III. Ahmet  
B) IV. Mehmet  
C) I. Mahmut  
D) III. Selim  
E) II. Mahmut

- 6.



Yukarıdaki tabloya padişahların yetkisini sınırlayan unsurlar yazılacak olsa aşağıdakilerin hangisi dışta kalır?

- A) Divân-ı Hümâyün kararları  
B) Saray gelenekleri  
C) Şer'i hukuk sistemi  
D) Hanedan hukuku  
E) Örfi hukuk



## TEST 3

1. Ekonomi, özel mülkiyet ve serbest ticaret sistemine dayanır. Fertler devletin sınırlı koruması altında istedikleri gibi ekonomik faaliyetlerde bulunabilirler.

**Yukarıda özellikleri verilen ideoloji aşağıdakilerden hangisidir?**

- A) Sosyalizm B) Kapitalizm C) Merkantilizm  
D) Marksizm E) Liberalizm

2. Rus Çarıçesi II. Katerina ve Avusturya İmparatoru II. Joseph 1780 yılında Avusturya'da bir araya gelmişler ve birtakım kararlar almışlardır.

**Bu doğrultuda Avusturya ve Rusya'nın Osmanlı Devleti ile ilgili aşağıdaki kararlardan hangisini aldığı söylenebilir?**

- A) Milliyetçi ayaklanmalara son vermek  
B) İmparatorlukları güçlendirmek  
C) Viyana Kongresi kararlarını uygulamak  
D) Osmanlı Devleti'ni Avrupa'dan atmak  
E) Anadolu topraklarını paylaşmak



**Yukarıdaki harita ve II. Balkan Savaşı süreci birlikte değerlendirildiğinde aşağıdaki yargılardan hangisine ulaşılabılır?**

- A) II. Balkan Savaşı'ndan sonra Edirne, Osmanlı Devleti'nde kalmıştır.  
B) Osmanlı Devleti'nin Batı Avrupa hâkimiyeti zayıflamıştır.  
C) Balkan savaşlarının sonunda Yunanistan bağımsızlığını kazanmıştır.  
D) Osmanlı Devleti II. Balkan Savaşı'ndan sonra tüm kayıplarını telafi etmiştir.  
E) Bu savaşla Karadeniz Türk gölü olma özelliğini kaybetmiştir.

4. **Aşağıdakilerden hangisi Kanun-ı Esasi'nin kabulü ile ilgili doğru bir bilgi değildir?**

- A) Âyan Meclisi üyeleri padişah tarafından belirlenmiştir.  
B) İki meclisli bir parlamento oluşturulmuştur.  
C) Mebusan Meclisi üyeleri doğrudan halk tarafından seçilmiştir.  
D) Halk talimatlara uymuş ve seçimler sorunsuz olarak tamamlanmıştır.  
E) Osmanlı Devleti'nde ilk kez seçim yapılmıştır.

5. Osmanlı Devleti XIX. yüzyıl boyunca denge politikası takip etmiştir.

**Aşağıdaki düşüncelerden hangisi Osmanlı Devleti'nin bu politikayı takip etmesindeki temel etkindir?**

- A) Topraklarını genişletmek istemesi  
B) Varlığını sürdürme amacı  
C) Avrupa siyasetinde söz sahibi olma düşüncesi  
D) Avrupa hâkimiyetini güçlendirme isteği  
E) Ekonomisini iyileştirme arzusu

6. **Yunanistan'ın Bağımsızlığını Kazanması**

- |      |                             |
|------|-----------------------------|
| I.   | Fransız İhtilali'nin etkisi |
| II.  | Panslavizm politikası       |
| III. | Şark Meselesi faaliyetleri  |
| IV.  | Berlin Kongresi             |
| V.   | Mora İsyanı                 |

**Yunanistan'ın bağımsızlığını kolaylaştıran sebepler ile ilgili hazırlanan yukarıdaki listede kaç numaralı maddede yanlışlık yapılmıştır?**

- A) I B) II C) III D) IV E) V



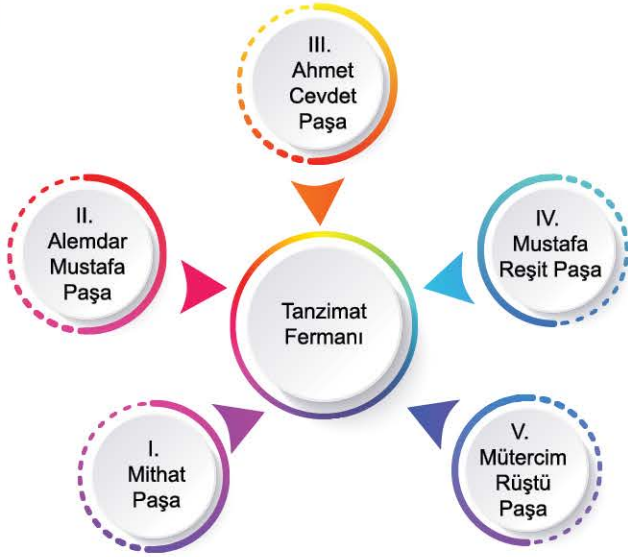


## TEST 3

### 25. MİKRO KONU: XIX. Yüzyılda Sosyal Hayattaki Değişimler - Osmanlı Devleti'nde Demokratikleşme Hareketleri ve Darbeler

#### 17. ÜNİTE: Devrimler Çağında Değişen Devlet - Toplum İlişkileri

1.



Tanzimat Fermanı'nı hazırlayan devlet adamı yukarıda verilenlerden hangisidir?

- A) I B) II C) III D) IV E) V

2. Islahat Fermanı'nın hazırlanmasında;

- I. Osmanlıcılık,  
II. Ümmetçilik,  
III. Türkçülük

fikir akımlarından hangilerinin etkisi olmuştur?

- A) Yalnız I B) I ve II C) I ve III  
D) II ve III E) I, II ve III

3. Günümüzdeki "Yargıtay" kurumunun Osmanlı Devleti'nde ki karşılığı aşağıdakilerden hangisidir?

- A) Encümen-i Dâniş  
B) Meclis-i Âlî-i Tanzimat  
C) Şurây-ı Devlet  
D) Meclis-i Vâlây-ı Ahkâm-ı Adliye  
E) Divan-ı Ahkâm-ı Adliye

4. Osmanlı Devleti'nde gerçekleştirilen;

- I. Sened-i İttifak'ın imzalanması,  
II. Yeniçeri Ocağı'nın kaldırılması,  
III. Islahat Fermanı'nın ilanı

faaliyetlerinden hangilerinde, dış devletlerin müdahalesinden söz edilemez?

- A) Yalnız I B) I ve II C) I ve III  
D) II ve III E) I, II ve III

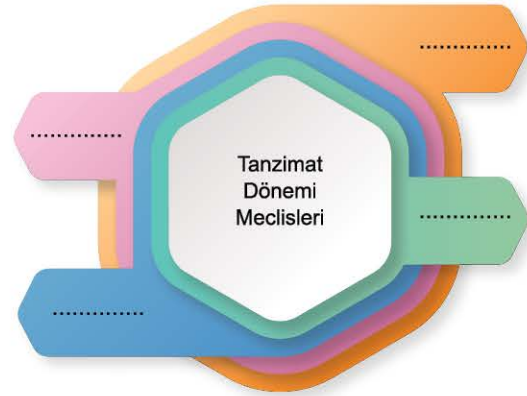
5. Meclis-i Mebusan üyelerinin halkın oylarıyla seçilmesi meclisin;

- I. çok uluslu,  
II. demokratik,  
III. tam yetkili

özelliklerinden hangilerine sahip olduğunun göstergesidir?

- A) Yalnız I B) I ve II C) I ve III  
D) II ve III E) I, II ve III

6.



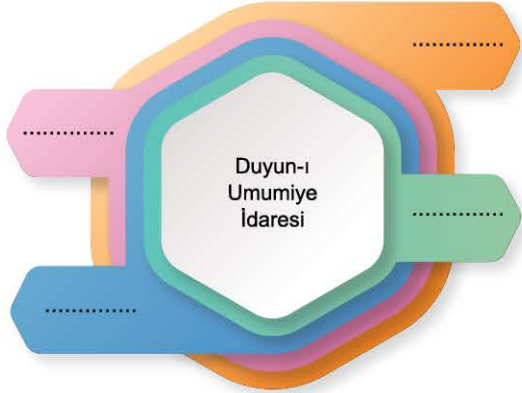
Yukarıdaki tabloya "Tanzimat Dönemi Meclisleri" yazılacak olsa aşağıdakilerden hangisi dışta kalır?

- A) Meclis-i Vâlây-ı Ahkâm-ı Adliye  
B) Şurây-ı Devlet  
C) Encümen-i Dâniş  
D) Meclis-i Âlî-i Tanzimat  
E) Divan-ı Ahkâm-ı Adliye



## TEST 5

1.



Yukarıdaki tabloya Duyun-ı Umumiye İdaresi ile ilgili bilgiler yazılacak olsa aşağıdakilerden hangisi dışta kalır?

- A) Gelirlerin toplanmasından, işletilmesinden ve alacakların ödenmesinden sorumludur.
- B) Vergilerin tamamı Duyun İdaresi tarafından toplanacaktır.
- C) Çok uluslu çalışanlara sahiptir.
- D) Osmanlı Hükümeti her konuda Duyun İdaresi'ne yardımcı olacağını taahhüt etmiştir.
- E) Kurum, sanayide ve ticarete yatırımlar yaparak etkinliğini artırmıştır.

2. Osmanlı iktisadi anlayışı ticarete öngörülemez bazı sıkıntıların oluşmasına sebep olmaktadır.

Bu durumun yaşanmasında aşağıdakilerden hangisinin etkisi olmuştur?

- A) Uzun vadeli stratejilerin oluşturulmaması
- B) Eğitime yeterli önemin verilmemesi
- C) Sanayi hamlelerinin yapılmaması
- D) Tarım üretimi veriminin düşük olması
- E) Yabancı şirketlerin güçlerini artırması

3. Dünyada ilk kez nüfus artışı ile birlikte hayat standartlarında yükseliş bu gelişme ile yaşanmıştır. Bu dönemdeki nüfus artışı ekonomik faaliyetleri sınırlamamıştır.

Yukarıdaki gelişmeyi doğuran olay aşağıdakilerden hangisidir?

- A) Fransız İhtilali
- B) İstanbul'un Fethi
- C) Lale Devri
- D) Sanayi Devrimi
- E) I. Dünya Savaşı

4. Aşağıdaki hangi gelişme ile Osmanlı coğrafyası ticari faaliyetlerde İngiltere'nin âdeta açık pazarı hâline gelmiştir?

- A) Küçük Kaynarca Antlaşması
- B) Lale Devri
- C) Kanun-ı Esasi'nin kabulü
- D) Duyun-ı Umumiye İdaresinin kurulması
- E) Balta Limanı Antlaşması

5. Aşağıda yer alan bilgilerden hangisinin Sanayi Devrimi öncesindeki kırsal toplumların özelliklerinden olduğu söylenebilir?

- A) Yaşam alanları fabrikaların bulunduğu yerlere taşınmıştır.
- B) İnsan emeği, sermaye ve fabrika sahibi olan patronlar tarafından kötüye kullanılmıştır.
- C) Kendilerinden daha fazla ve hızlı üretim beklentisi oluşmuştur.
- D) Kendi ipliklerini kendileri eğirmiş ve kumaşlarını yine kendileri dokumuşlardır.
- E) Kırsal bölgelerde sendikalaşma faaliyetleri hızını artırmıştır.

6. I. Tanzimat Fermanı ile özel mülkiyetimizi güvenceye aldık.  
II. Avrupalı girişimcilerle iş birliğine gittik.  
III. Çalışmalarımızda insan yararını ve sosyal anlayışı ön planda tuttuk.  
IV. Ekonomik hâkimiyet alanımızı artırdık.  
V. Hükümetin para ve ekonomi politikalarını yürütür konuma geldik.



Galatalı Banker Mois de Camondo'nun iş yaşamına dair yukarıda verdiği bilgilerden hangisi gerçeği yansıtmamaktadır?

- A) I
- B) II
- C) III
- D) IV
- E) V





1.



Görselde tasviri yer alan Vestfalya Antlaşması ile ilgili aşağıda verilen bilgilerin hangisi doğru değildir?

- A) Devletler başka devletlerin meşru varlıklarını tanımış ve iç işlerine karışmama garantisi vermiştir.
- B) Devletler karşılıklı ilişkilerde üst bir otoriteyi kabul etmişler, kendi topraklarında mutlak bir şekilde egemen olmuşlardır.
- C) Vestfalya Antlaşması ile nüfus sayımı süreci başlamış, halkların iradeleri meşrutiyet meclislerine doğrudan yansımıştır.
- D) Vestfalya Antlaşması Fransız İhtilali'ne giden yolu açmış, bu devrimin getirdiği ulusal egemenlik anlayışı mahalli ayrıcalıkları yok etmiştir.
- E) Vestfalya Barışı ile yeni devletler ortaya çıkmış, ulus kavramı tarihî süreç içerisinde günümüzdeki şeklini almıştır.

2. Aşağıdakilerden hangisi Sanayi Devrimi'nden sonra köklü değişimlerin yaşandığı alanlardan değildir?

- A) Sosyal hayat
- B) Nüfus
- C) Askerî yapı
- D) Kültür
- E) Din

3. Osmanlı'da modernleşmenin yaşanması tüketim alışkanlıklarında değişimleri beraberinde getirmiştir.

**Bu değişimin bir sonucu olarak Avrupa kökenli eşyaların ilk olarak aşağıdaki hangi dönemde kullanıldığı bilinmektedir?**

- A) Kanuni Sultan Süleyman Dönemi
- B) Lale Devri
- C) III. Selim Dönemi
- D) II. Mahmut Dönemi
- E) Tanzimat Dönemi

4. İlk kez 1741 yılında "halkın düşüncesi" anlamında İngilizler tarafından kullanılan kavram aşağıdakilerden hangisidir?

- A) Demokrasi
- B) Ulusal bilinç
- C) Ulusal egemenlik
- D) Kamuoyu
- E) Millî irade

5. Osmanlı Devleti'nde sosyal alandaki Batılılaşmanın izleri XIX. yüzyılda daha belirgin hâle gelmiştir.

**Aşağıdakilerden hangisi Osmanlı toplumundaki Batılılaşma hareketinin bu yüzyıldaki idari adımlarındandır?**

- A) Sanayi Devrimi'nin benimsenmesi
- B) Islah-ı Sanayi Komisyonunun kurulması
- C) Millî İktisat Politikası'nın uygulanması
- D) II. Meşrutiyet'in ilan edilmesi
- E) Islahat Fermanı'nın hazırlanması

6.

I. Nüfus artışının yaşanması

II. Gayrimüslimlerin yaşadığı mahallelerin oluşması

III. Kâgir binalar ve geometrik caddelerin yapılması

IV. Şehircilik anlayışında değişimin görülmesi

V. Şehir yoğunluğunun bankalar ve şirketlerin etrafında oluşması

**Yukarıda yer alan gelişmelerden hangisinin, XIX. yüzyılda İstanbul'un modern dünyadaki değişimden etkilendiğinin göstergelerinden olduğu söylenemez?**

- A) I
- B) II
- C) III
- D) IV
- E) V



# TEST 1

30. MİKRO KONU: I. Dünya Savaşı - Mondros Mütarekesi ve Sonrasındaki Gelişmeler

20. ÜNİTE: XX. Yüzyıl Başlarında Osmanlı Devleti ve Dünya



1. • Ekonomik, demografik ve siyasi açıdan küçülmüştür.  
• Topraklarında Çekoslovakya, Macaristan ve Yugoslavya gibi yeni devletler kurulmuştur.

Yukarıda I. Dünya Savaşı sonunda imzalanan bir antlaşmanın maddeleri yer almaktadır.

**İtilaf Devletlerinin bu antlaşmayı aşağıdaki hangi devlet ile imzaladığı söylenebilir?**

- A) Avusturya      B) Almanya      C) Macaristan  
D) Bulgaristan      E) Osmanlı Devleti

2. • Dünyada silahlanma yarışının başlaması  
• Almanya ve İtalya'nın sömürgecilik faaliyetleri  
• Balkanlardaki Rus yayılcılığı

**Birinci Dünya Savaşı öncesinde yukarıda yaşanan bu gelişmelerin;**

- I. devletler arasında kutuplaşma,  
II. Osmanlı Devleti'nin baskı altına alınması,  
III. azınlıklara inanç özgürlüğünün tanınması

**durumlarından hangilerine yol açtığı savunulabilir?**

- A) Yalnız I      B) I ve II      C) I ve III  
D) II ve III      E) I, II ve III

3. **Rusya'nın Kaygıları**

- I. Doğuda ek bir cephe açılması  
II. Boğazların kapanma ihtimalinin bulunması  
III. Bolşevik İhtilali'nin başlaması

**Rusya'nın, Osmanlı Devleti'nin I. Dünya Savaşı'na girmesi ile ilgili yukarıdaki kaygılardan hangilerini taşıdığı söylenebilir?**

- A) Yalnız I      B) I ve II      C) I ve III  
D) II ve III      E) I, II ve III



**Yukarıda verilen I. Dünya Savaşı sonunda imzalanan devlet - barış antlaşması eşleştirmelerinden hangisinde yanlışlık yapılmıştır?**

- A) I      B) II      C) III      D) IV      E) V

5. "1916 senesinde Meis'in karşısında Bayındır Burnu'nda görev yaparken büyük bir gemi gördüm. Üzerinde tayyareler bulunuyordu. Bu fırsatı kaçıramazdım. Atış emri verdim ve gemiyi batırdık. Sonra öğrendim ki bu bir tayyare gemisiymiş!"



**Yüzbaşı Mustafa Ertuğrul'un batırmış olduğu uçak gemisi aşağıdaki hangi devlete aittir?**

- A) Fransa      B) ABD      C) Rusya  
D) İngiltere      E) İtalya

6. **Osmanlı Devleti'nin Mondros Ateşkes Antlaşması'nı imzalarak I. Dünya Savaşı'ndan çekilmesinde;**

- I. Almanya'nın yenilmesi,  
II. Wilson İlkeleri'nin yayımlanması,  
III. Rusya'da rejim değişikliğinin yaşanması

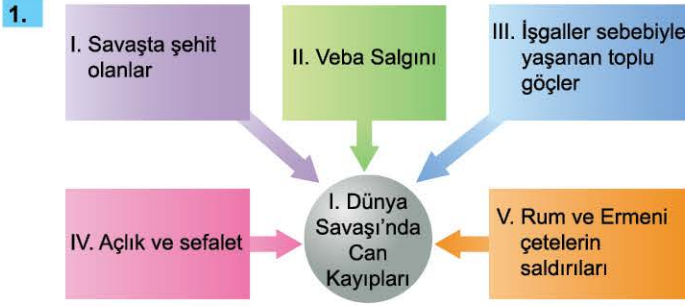
**durumlarından hangilerinin etkili olduğu savunulabilir?**

- A) Yalnız I      B) I ve II      C) I ve III  
D) II ve III      E) I, II ve III





## TEST 3



I. Dünya Savaşı sırasında Anadolu'da yaşanan can kayıplarının sebeplerinin yer aldığı yukarıdaki tabloda kaç numaralı alanda yanlışlık yapılmıştır?

- A) I      B) II      C) III      D) IV      E) V

2.

"Harp gemilerine, mükemmel silahlanmış kuvvetlerine, toplanına rağmen bir avuç yerel direnişçi halkın karşısında aciz bir durumda olan işgal güçleri sadece Derne şehrinde, o da harp gemilerinin korumasında barınabilmişlerdir. Yerel kıyafetlerle halkı organize eden birkaç Türk subayı kendilerini sevdirmiş, Türk, Arap, Berberi, küçük, büyük herkesin dostu olmuşlardı. Bu sevgi iledir ki bir avuç insan, gayret ve fedakârlığın en üstününü göstermiş, hiçbir zorluktan kaçmamış, koca koca düşman kuvvetlerini deniz kıyısına hapsedmiştir."

**Kaynak: Prof. Dr. Ayhan Songar, Pederimin Hatıraları**

Hatıradaki sözü edilen savaşın cephesi aşağıdakilerden hangisidir?

- A) Suriye - Filistin      B) Irak      C) Trablusgarp  
D) Hicaz      E) Kafkasya

3. Birinci Dünya Savaşı sonunda mağlup devletlerle barış görüşmeleri yapmak üzere Paris'te bir araya gelinmiştir. **Savaş sonrası barış esaslarının görüşüldüğü Paris Konferansı'nda aşağıdaki hangi devlet ile antlaşma imzalanması kararlaştırılmamıştır?**

- A) Almanya      B) Avusturya      C) Macaristan  
D) Bulgaristan      E) Osmanlı Devleti

4. "Artık memleket için azami derecede fedakârlık gösterme zamanının geldiğini iyice anlamıştım. Sonradan Reddi İlhak Heyeti teşkilatının başkanlığına tayin edilerek aşağıdaki talimatnameyi kaleme aldım:



- Göç yasaktır.
- Arazi ve emlak, ancak Müslümanlara satılacak ve Ermenilerle Hristiyanların araziye sahip olmalarına meydan verilmeyecektir.
- Köylerde ve nahiyelerde yardım sandıkları oluşturmak, millî maksatlar için çalışan şahıslara ve ailelerine yardım etmek gibi tedbirlere başvurulmalıdır.
- Gayrimüslim unsurlar hakkında sıkı bir boykot tatbik olunarak alışveriş sadece Müslümanlar arasında yapılacaktır."

**Millî Mücadele kahramanlarından Tekelioğlu Sinan Bey'in hatıratından nakledilen yukarıdaki bilgilerle ilgili aşağıdaki yargılardan hangisine ulaşılabilir?**

- A) Mondros Ateşkesi'nden sonra halk örgütlenmesine başlanmıştır.
- B) Tekelioğlu Sinan Bey faaliyetlerini İzmir'de sürdürmektedir.
- C) Anadolu'nun asli nüfus yapısının korunmasına yönelik tedbirler alınmak istenmiştir.
- D) Wilson İlkeleri ve Avrupa kamuoyu dikkate alınarak hareket edilmiştir.
- E) İşgalcilerle iş birliği yapan Ermenilerin tehcir edilmesi için zemin oluşturulmak istenmiştir.

5.

I.	Toros Tüneli, İtilaf Devletleri tarafından işgal edilecek
II.	İtilaf Devletleri güvenliklerini tehdit eden bir durum karşısında, herhangi bir stratejik noktayı işgal hakkına sahip olacak
III.	Hükümet haberleşmesi dışındaki iletişim hatları İtilaf Devletlerine devredilecek
IV.	Kömür, akaryakıt ve benzer kaynaklarda, ülkenin ihtiyaçları karşılandıktan sonra, İtilaf Devletlerine satın alma kolaylığı sağlanacak
V.	Tüm liman ve tersaneler İtilaf Devletlerinin kontrolünde olacak

Mustafa Kemal Paşa Mondros Ateşkes Antlaşması'nın hükümlerini okuyunca bazı maddelerin yanlış anlaşılmasına müsait olduğunu görerek Sadrazam Ahmet İzzet Paşa'yı uyarmıştır.

**Mustafa Kemal'in dikkat çektiği madde, yukarıda verilenlerden hangisi olabilir?**

- A) I      B) II      C) III      D) IV      E) V



1. Aşağıdakilerden hangisi Osmanlı Devleti'nin Birinci Dünya Savaşı öncesi teşebbüs ettiği girişimlerden biri değildir?

- A) Savaşta tarafsızlığın duyurulması
- B) Milletler Cemiyetine üye olunması
- C) Kapitülasyonların tek tarafı olarak kaldırılması
- D) Fransa ile gizli ittifak teşebbüsünde bulunulması
- E) İttifak yapma talebinin İngiltere'ye iletilmesi

2. İngiltere Önasya'da Hint deniz yolunu güvence altına almak istiyordu. Ayrıca güçlü bir kara ve deniz ordusuna sahip bir devletin Afrika ve Uzak Doğu'da kendisiyle denizcilikte ve sömürgecilikte rekabete girişmesi karşısında bu ülkeyi tehlike olmaktan çıkarmak düşüncesi I. Dünya Savaşı'nın en önemli nedenlerinden biri olmuştur.

I. Dünya Savaşı öncesi İngiltere'nin tehlike olarak gördüğü bu devlet aşağıdakilerden hangisidir?

- A) Osmanlı Devleti
- B) Fransa
- C) Rusya
- D) Avusturya
- E) Almanya

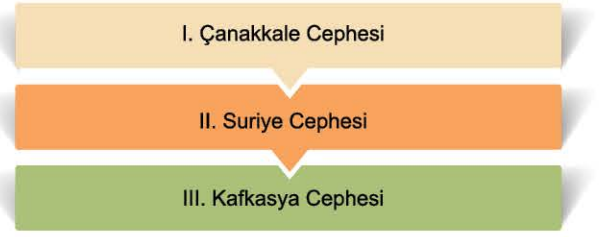
3.



Tabloda yer alanlardan hangisi, I. Dünya Savaşı sonrasında 1918 yılında Barış Antlaşması imzalanan yenik devletlerden değildir?

- A) I
- B) II
- C) III
- D) IV
- E) V

4.



Yukarıda verilen cephelerin hangilerinde Mustafa Kemal'in Osmanlı Devleti'nin elinden çıkan topraklarını geri aldığı söylenebilir?

- A) Yalnız I
- B) Yalnız II
- C) Yalnız III
- D) I ve III
- E) II ve III

5. Birinci Dünya Savaşı'ndan sonra Avusturya ile İtilaf Devletleri arasında Sen Jermen Antlaşması imzalanmıştır.

Aşağıdakilerden hangisinin bu antlaşmanın sonuçlarından olduğu söylenemez?

- A) Avusturya zorunlu askerliği kaldıracaktır.
- B) Avusturya savaş tazminatı ödeyecektir.
- C) Bosna - Hersek ve Hırvatistan Yugoslavya'ya bırakılacaktır.
- D) Avusturya'nın toprak bütünlüğü korunacaktır.
- E) Avusturya demografik ve ekonomik yönden küçülecektir.

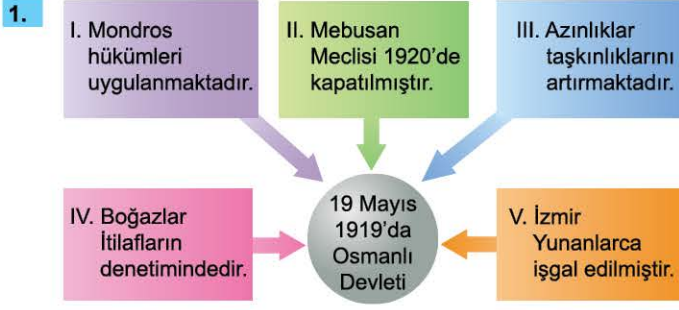
6. Aşağıdakilerden hangisi Anadolu'nun işgaline zemin hazırlayan hukuki bir belgedir?

- A) Amiral Bristol Raporu
- B) Wilson İlkeleri
- C) Monroe Doktrini
- D) Mudanya Ateşkesi
- E) Mondros Ateşkesi





02320A0C



Mustafa Kemal'in Samsun'a çıktığı dönemdeki ülkenin durumunun yer aldığı yukarıdaki tabloda hangi alanda yanlışlık yapılmıştır?

- A) I B) II C) III D) IV E) V

2. İtilaf Devletleri İstanbul'u işgal ettiklerinde, işgallerin geçici olduğunu, direnişin olması hâlinde İstanbul'un Türklerin elinden alınacağını bildirmişlerdir.

İtilaf Devletlerinin bu duyuru ile amacının aşağıdakilerden hangisi olduğu savunulabilir?

- A) Halkı direnişçilere karşı kışkırtmak  
B) İstanbul'u ele geçirmek  
C) Bizans İmparatorluğu'nu yeniden canlandırmak  
D) Yunan işgallerini belirli bir alan içinde tutmak  
E) İstanbul'da manda rejimi oluşturmak

3. Balkanlardan gelen Türkler Anadolu'nun farklı bölgelerinde iskân edilmişlerdir. Bu iskân çalışmaları belirli plan ve amaçlar çerçevesinde gerçekleştirilmiştir.

Muhacirlerin iskân faaliyetleri ile ilgili aşağıdaki bilgilerden hangisi gerçekleri yansıtmaz?

- A) Boş topraklar değerlendirilmiştir.  
B) Kullanılmayan araziler tarıma açılmıştır.  
C) İskân planlamasında Doğu Anadolu'daki etnik denge gözetilmiştir.  
D) İstanbul muhacirler için geçici kabul merkezi olmuştur.  
E) Muhacirlerle iskân edildikleri bölge ahalisi arasında birtakım sorunlar yaşanmıştır.

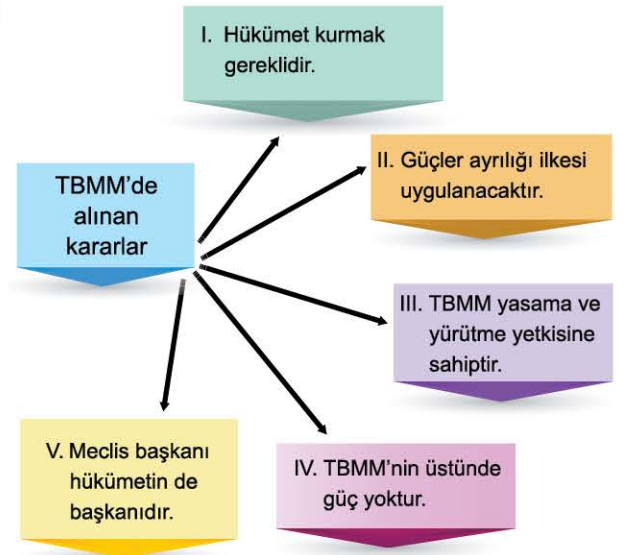
4. Aşağıda yer alanlardan hangisinin Sevr Antlaşması ile ilgili bir durum olduğu söylenemez?

- A) Anadolu'da yeni devletlerin kurulmak istenmesi  
B) Osmanlı Devleti'nin bağımsızlığının ortadan kaldırılması  
C) Antlaşma'nın TBMM'de oy birliği ile reddedilmesi  
D) Boğazların yönetiminin uluslararası bir komisyona bırakılması  
E) Osmanlı Devleti'nin azınlıklar üzerindeki tüm tasarruflarını kaybetmesi

5. İlk olarak İttihat ve Terakki Cemiyetine karşı kurulan, sonradan Millî Mücadele hareketi aleyhine çalışan ve iç ayaklanmalara destek veren millî varlığa düşman olan cemiyet aşağıdakilerden hangisidir?

- A) Wilson Prensipleri Cemiyeti  
B) Alyans İsrailit ve Makabi Cemiyeti  
C) İslam Teali Cemiyeti  
D) Hürriyet ve İtilaf Fırkası  
E) Mavri Mira Cemiyeti

6.



TBMM'nin açılmasıyla mecliste alınan kararların yer aldığı yukarıdaki tabloda hangi alanda yanlışlık yapılmıştır?

- A) I B) II C) III D) IV E) V



1.	Cumhuriyet Halk Fırkası
I.	Millî egemenliğin halk tarafından ve halk için yapılmasına önderlik etmek
II.	Tek partili bir sistem ile demokrasi anlayışını yerleştirmek
III.	Türkiye'yi modern bir devlet hâline getirmek
IV.	Kanun önünde herkesi eşit kılmak
V.	İmtiyazsız ve sınıfsız halk oluşturmak

Mustafa Kemal Atatürk ve arkadaşları tarafından kurulan Cumhuriyet Halk Fırkasının parti programında, yukarıda verilenlerden hangisinin yer alması beklenemez?

- A) I      B) II      C) III      D) IV      E) V

2. Atatürk gerek Balkanları gerekse Orta Doğu'yu dikkatle takip etmiş, kontrol altında tutmak istemiştir.

**Atatürk'ün bu tutumunda;**

- I. imparatorluğun mirasına sahip olma düşüncesi,
  - II. Türkiye'nin jeopolitiğinin hassas olması,
  - III. ülkenin güvenliği için tedbirli davranılması
- düşüncelerinden hangilerinin etkisi olmuştur?**

- A) Yalnız I      B) I ve II      C) I ve III  
D) II ve III      E) I, II ve III

3. Türkiye 17 Aralık 1925 tarihli Türk Sovyet Dostluk ve Saldırmazlık Anlaşması'nı imzalamıştır. Üç yıl için geçerli olacak anlaşmaya göre taraflardan birine bir saldırı olursa diğeri tarafsız kalacak, taraflar birbirlerine saldırmayacakları gibi aleyhlerine kurulmuş olan ittifaklara da katılmayacaklardı. Bu anlaşma birtakım yeniliklerle 1945 yılına kadar sürmüştür.

**Türkiye'yi Rusya'yla antlaşma yapmak durumunda bırakan sebep aşağıdakilerden hangisidir?**

- A) Rusya'nın Millî Mücadele zamanında Ankara'yı desteklemesi
- B) Ortak tarihî mirasın varlığı
- C) Türk dünyasının yalnız bırakılmak istenmemesi
- D) Türkiye'nin Musul Meselesi'nde Batı dünyasında yalnız kalması
- E) Rusya'nın Batı'ya karşı güçlü bir müttefik olması

4. Lozan Barış'ından önce Türkiye ile İngiltere arasında;

- I. Boğazlar,
- II. Hatay,
- III. Musul

**konularından hangileri üzerinde anlaşmazlık yaşanmıştır?**

- A) Yalnız I      B) I ve II      C) I ve III  
D) II ve III      E) I, II ve III

5. "Muhterem vatandaşlarım, Cumhuriyet Halk Fırkasının müstakar (karar kılınan) umumi siyasetini şu kısa cümlele açıkça ifadeye kâfidir zannedirim: Yurtta sulh, cihanda sulh için çalışıyoruz."

**Mustafa Kemal Atatürk'ün seçim beyannamesinde yer alan "yurtta sulh, cihanda sulh" sözünün aşağıdaki hangi düşünce ile ilgisinden sözü edilemez?**



- A) Ne olursa olsun barış içerisinde olunması
- B) Güvenlik tedbirleri kapsamında bölgesel antlaşmaların yapılması
- C) Barışın teminatı ve caydırıcı bir unsur olarak güçlü bir orduya sahip olunması
- D) Uluslararası ilişkilerde barışın merkeze alınması
- E) Lozan'da alınamayan hakların barış içerisinde gerçekleştirilmesi

6.	Boğazlar Meselesi
I.	İngiltere
II.	Fransa
III.	Rusya
IV.	İtalya
V.	ABD

Lozan Antlaşması Görüşmeleri'nde Boğazlardan savaş gemilerinin serbest geçiş hakkına sahip olması konusu tartışmalara sebep olmuştur.

**Yukarıda verilen devletlerden hangisinin savaş öncesi statüsü istediği, savaş gemilerine serbest geçiş hakkı verilmesine şiddetle karşı çıktığı söylenebilir?**

- A) I      B) II      C) III      D) IV      E) V





## TEST 5

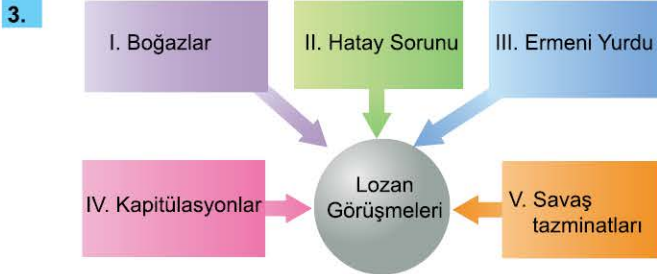
1. Lozan Barış Görüşmeleri sırasında kurulması kararlaştırılan Karma Komisyon nüfus mübadelesi konusunda çalışmalar yapmıştır.

**Bu komisyonun çalışma alanı aşağıdaki hangi iki devlet ile ilgilidir?**

- A) Türkiye - Yunanistan
- B) Almanya - İngiltere
- C) İngiltere - Rusya
- D) Fransa - Türkiye
- E) Almanya - Fransa

2. Aşağıdakilerden hangisinin, Türkiye'nin Montrö Boğazlar Sözleşmesi'nin imzalanmasıyla birlikte elde ettiği kazanımlardan olduğu söylenemez?

- A) Boğazlarda tam egemenlik hakkının tanınması
- B) Boğazlar üzerindeki haklarını sınırlayıcı hükümler kaldırılması
- C) Doğu Akdeniz'de stratejik öneminin artması
- D) Yaklaşan II. Dünya Savaşı öncesi ülke güvenliğinin sağlanması
- E) Sınırların komşu devletlerle karşılıklı olarak güvenceye alınması



Türkiye Lozan Barış Görüşmeleri'ne, bazı konularda yaşanan anlaşmazlıklar sebebi ile ara vermek durumunda kalmıştır.

**Yukarıda yer alanlardan hangisinin bu konular arasında olduğu söylenemez?**

- A) I
- B) II
- C) III
- D) IV
- E) V

4. "Dış siyasetimizde dürüstlük, memleketimizin güvenliğine ve gelişiminin korunmasına dikkat, hareket tarzımıza kılavuz olmaktadır. Esaslı düzenleme ve gelişim içinde bulunan bir memleketin, hem kendisinde hem çevresinde barış ve huzuru ciddi olarak arzu etmesinden daha kolay açıklanabilecek bir nitelik olamaz. Bu samimi arzudan esinlenen dış siyasetimizde memleketin dokunulmazlığını, güvenliğini, vatandaşların haklarını herhangi bir saldırıya karşı kendisi savunabilmek kudreti de, özellikle gözde tuttuğumuz noktadır."



**Aşağıdakilerden hangisinin Mustafa Kemal Atatürk'ün me-tinde yer alan sözlerine uygun bir gelişme olduğu savunulabilir?**

- A) Sevr Antlaşması'nın imzalanması
- B) Türkiye Büyük Millet Meclisinin açılması
- C) Saltanatın kaldırılması
- D) Türkiye'nin Milletler Cemiyetine üye olması
- E) Hatay'ın ana vatana katılması

5. Türkiye'nin iç sorunlar sebebiyle güçlü bir dış politika izleyememesinde;
- I. Hatay Sorunu,
  - II. Musul Meselesi,
  - III. Şeyh Sait Ayaklanması
- gelişmelerinden hangilerinin etkisinin bulunduğu söyle-nebilir?**

- A) Yalnız I
- B) Yalnız II
- C) Yalnız III
- D) I ve II
- E) I ve III

6. Yeni kurulan Türk Devleti;

- I. Hatay,
- II. Musul,
- III. Yabancı Okullar

**konularından hangilerini ülkenin iç meselesi sayarak gö-rüşme konusu yapmamıştır?**

- A) Yalnız I
- B) Yalnız II
- C) Yalnız III
- D) I ve II
- E) I ve III



09710EFC

Türkiye - Fransa İlişkileri	
I.	Musul
II.	Borçlar
III.	Hatay
IV.	Yabancı Okullar
V.	Kapitülasyonlar

Yukarıda bulunan konuların hangisi Türkiye ile Fransa arasında tartışma yaşanmasına neden olmamıştır?

- A) I      B) II      C) III      D) IV      E) V

2. Lozan Antlaşması'nda;

- I. Musul,  
II. Boğazlar,  
III. Hatay

sorunlarından hangileri Türkiye'nin çıkarları doğrultusunda bir çözüme kavuşturulamamıştır?

- A) Yalnız I      B) I ve II      C) I ve III  
D) II ve III      E) I, II ve III

3. Türkiye ile Yunanistan'ın anlaşmazlık yaşadıkları konular, iki ülkenin neredeyse Lozan öncesi duruma dönmesine yol açmıştır.

Aşağıdakilerden hangisinin bu konulardan biri olduğu söylenemez?

- A) Mübadele sırasında Yunanistan'ın daha çok Rum'u İstanbul'da bırakmak istemesi  
B) İstanbul'daki Ortodoks Rum Patrikliğinin sorun oluşturması  
C) Müslüman Türk azınlığın Batı Trakya'daki mal varlığına el konulması  
D) Balkanlarda yaşanan "Kiliseler Sorunu"  
E) Türk Hükümetinin Rum mallarına el koyarak misillemede bulunması

4. Milletler Cemiyetinin İngiliz çıkarları doğrultusunda Türkiye - Irak sınırını belirlemesi Türkiye'nin aleyhinde bir gelişme olmuştur. Dönemin jeologları Irak'ın çok zengin petrol yataklarına sahip olduğunu bildirmişlerdir.

Buna göre Milletler Cemiyetinin aldığı bu kararın aşağıdakilerden hangisi ile ilgili olduğu söylenebilir?

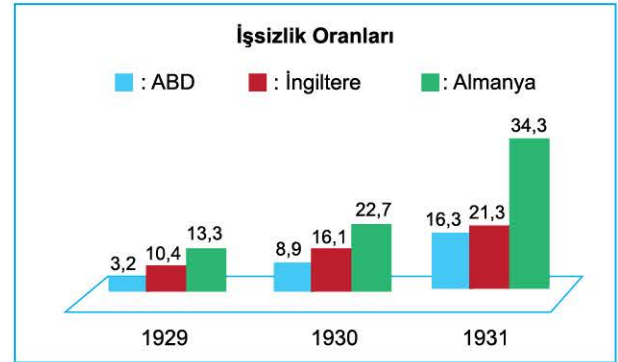
- A) Hatay  
B) Etabli  
C) Musul  
D) Türkiye - Suriye sınırı  
E) Kapitülasyonlar

5. Milletler Cemiyetinin barışı sürdürme ve silahlanmayı önleme çabalarına destek olmak amacıyla 1925'te Locarno Antlaşması imzalanmıştır.

Aşağıdaki devletlerden hangisinin Locarno Antlaşması'nda imzası yoktur?

- A) Çekoslovakya      B) Rusya      C) İtalya  
D) Belçika      E) Polonya

6.



Yukarıda verilen grafikteki 1929 yılından itibaren işsizlik oranlarında görülen değişimin sebebinin aşağıdakilerden hangisi olduğu savunulabilir?

- A) Doğal afetler  
B) I. Dünya Savaşı'nın etkileri  
C) İthalatın sınırlandırılması  
D) Dünya ekonomik krizi  
E) Dünyada yaşanan nüfus artışı





# TEST 7

1. Aşağıdakilerden hangisi 1929 Dünya Ekonomik Bunalımı öncesinde görülen durumlardan değildir?

- A) I. Dünya Savaşı'nın olumsuz etkileri
- B) Ağır savaş maliyetleri
- C) Enflasyon hareketleri
- D) Avrupa ülkelerinin borç yüklerinin artması
- E) Tüketimde artışların yaşanması

2. ABD savaşın önlenmesi için imzalanan antlaşmaya katılmaları için, aralarında Türkiye'nin de bulunduğu elli kadar ülkeye davet mektubu göndermiştir. Bu davet üzerine Dışişleri Bakanı Tevfik Rüştü Bey, müzakerenin başarıyla sonuçlanmasından Türkiye'nin memnuniyet duyduğunu ve ülke olarak bu antlaşmaya katılmak istediklerini belirtmiştir.

**Türkiye'nin sonradan katılma iradesini belirttiği, metinde sözü edilen antlaşma aşağıdakilerden hangisidir?**

- A) Briand Kellog B) Locarno C) Versay
- D) Paris E) Londra

3.



Yukarıda verilen siyasi ve ekonomik gelişmelere ait kronolojinin doğru olabilmesi için kaç numaralı alanlar yer değiştirmelidir?

- A) I ve III B) II ve III C) II ve IV
- D) II ve V E) III ve IV

4. Kapitülasyonlar kesin olarak aşağıdaki hangi gelişme ile kaldırılmıştır?

- A) TBMM'nin açılması
- B) Montrö Sözleşmesi'nin imzalanması
- C) Lozan Antlaşması'nın imzalanması
- D) Milletler Cemiyetine üye olunması
- E) Ankara Antlaşması'nın yapılması

5. Millî Mücadele Dönemi'nde Yunanistan'a destek veren ve Türkiye'nin rakibi olan İngiltere ile, II. Dünya Savaşı öncesine kadar ilişkilerin zayıf olmasına sebep olan temel konu aşağıdakilerden hangisidir?

- A) İngilizlerin Lozan'da Yunanistan'dan yana tavır alması
- B) Hatay Sorunu
- C) Türkiye'nin Almanya ile yakınlaşması
- D) Batı Trakya Türk azınlığı meselesi
- E) Musul Sorunu

6.

Balkan Antantı	
I.	Arnavutluk
II.	Yunanistan
III.	Bulgaristan
IV.	Yugoslavya
V.	Romanya

Yukarıda yer alan devletlerden hangisi, daha sonra Alman yanlısı bir politika izleyerek Balkan Antantı'ndan kopmuştur?

- A) I B) II C) III D) IV E) V



0035003D

1. Aşağıda verilenlerden hangisi Atatürk'ün ölümünden sonra yaşanan siyasi gelişmelerdendir?

- A) Hatay'ın Türkiye'ye katılması
- B) Montrö Boğazlar Sözleşmesi'nin imzalanması
- C) Sadabat Paktı'nın kurulması
- D) Milletler Cemiyetine üye olunması
- E) Musul'un İngiliz mandası olan Irak'a bırakılması

2. Milletler arası barışı korumak düşüncesiyle temelleri atılan ve Türkiye'nin de dünya barışına katkı sağlamak düşüncesiyle üye olduğu Milletler Cemiyeti, aşağıdaki hangi durum sebebiyle kuruluş amaçlarından sapmıştır?

- A) Birinci Dünya Savaşı'nın yaşanması
- B) ABD'nin tarafsız bir politika izleme kararını alması
- C) Sömürgeci devletlerin çıkarıcı tutumlar sergilemesi
- D) İstenilen üye sayısına ulaşılamaması
- E) Sovyet Rusya'nın cemiyet üzerinde baskı oluşturması



Yukarıda bulunan Atatürk Dönemi'nde yaşanan sorunlar - muhatap devlet eşleştirmelerinin hangisi yanlıştır?

- A) I
- B) II
- C) III
- D) IV
- E) V

4.



Atatürk, Cumhuriyet'in yedinci yıl kutlamaları kapsamında TBMM'deki programdan çıkarken.

Yukarıdaki fotoğrafın çekildiği zamanda Türkiye'deki yaşanan gelişmeler hakkında aşağıdakilerden hangisi ifade edilebilir?

- A) Hatay Anavatan'a katılmıştır.
- B) Milletler Cemiyetine üye olunmuştur.
- C) Cumhuriyet Halk Fırkası kurulmuştur.
- D) Balkan Antantı imzalanmıştır.
- E) Montrö Boğazlar Sözleşmesi imzalanmıştır.

5. Mustafa Kemal Atatürk'ün 10 Kasım 1938'de ölümünden sonra cumhurbaşkanı seçilen isim aşağıdakilerin hangisidir?

- A) İsmet İnönü
- B) Fevzi Çakmak
- C) Celal Bayar
- D) Kazım Karabekir
- E) Fahri Korutürk

6. Ulaştırma alanında, Adana - Mersin demir yolunun millileştirilmesi sırasında bazı sorunlar yaşanmıştır. Yabancı bir şirket tarafından işletilen demir yolu satın alınmak istenmiş ancak şirketin ait olduğu devletin itirazları ile karşılaşmıştır. Bütün bu itirazlara rağmen 1929'da Adana - Mersin demir yolu, Türkiye tarafından satın alınmıştır.

Adana - Mersin demir yolunun millileştirilmek istenmesi konusunda anlaşmazlık yaşanan bu devlet aşağıdakilerden hangisidir?

- A) İngiltere
- B) Almanya
- C) İtalya
- D) Sovyet Rusya
- E) Fransa





053205C2

1.	Almanya'nın yayılma politikası
I.	Çekoslovakya
II.	Avusturya
III.	Fransa
IV.	Polonya
V.	Yunanistan

Hitler Batı'ya yönelirken Sovyetler ile 1939'da Saldırmazlık Paketi imzalamıştır. Rusya'nın saldırmayacağından emin olduktan sonra "Yıldırım Harekâtı" ile işgallere başlamıştır.

**Hitler'in "Yıldırım Harekâtı" ile işgal ettiği ilk ülke yukarıdakilerden hangisidir?**

- A) I      B) II      C) III      D) IV      E) V

**2.** İkinci Dünya Savaşı'nın başlarında hem müttefik hem de mihver devletlerin savaşa çekmek istedikleri Türkiye "aktif tarafsızlık" ilkesi ile kendini bu tehlikeden kurtarmıştır.

**Türkiye'nin bu stratejiyi uygularken;**

- I. askerî yönden yetersizlikler bulunması,
- II. ekonominin kötü hâlde olması,
- III. ülkenin ilk Dünya Savaşı'nın etkisinden kurtulamamış olması

**gerekçelerinden hangilerini öne sürdüğü söylenebilir?**

- A) Yalnız I      B) I ve II      C) I ve III  
D) II ve III      E) I, II ve III

**3.** İkinci Dünya Savaşı'nda Almanya ve İtalya'nın Avrupa dışında;

- I. Kuzey Afrika,
- II. Uzak Asya,
- III. Güney Amerika

**cephelerinden hangilerini açtıkları söylenebilir?**

- A) Yalnız I      B) I ve II      C) I ve III  
D) II ve III      E) I, II ve III

**4.** İkinci Dünya Savaşı'nı bitiren askerî gelişme aşağıdakilerden hangisi olmuştur?

- A) 21 Numaralı Emir
- B) Yıldırım Harekâtı
- C) Pearl Harbour Baskını
- D) Normandiya Çıkarması
- E) Stalingrad Kuşatması

**5.** Almanya İkinci Dünya Savaşı'nda;


- I. Avrupa,
- II. Balkanlar,
- III. Sovyet Rusya

**coğrafyalarının hangilerinde saldırgan bir politika sürdürmüştür?**

- A) Yalnız I      B) I ve II      C) I ve III  
D) II ve III      E) I, II ve III

**6.** Japonya Savaş Bakanı Sadao

Araki, New York Times gazetesinin 3 Haziran 1933 tarihli nüshasına, "Japonya'nın cihandaki rolü" hakkında şu demeci vermiştir: "Diğer ırklar gibi Japonlar da bu dünyada kendilerine bir cennet aramak hakkına sahiptirler. Biz fazla nüfusumuz için Mongolya'da bir şey temin etmek niyetinde değiliz. Bize, serbestçe açılacak ve fenni bir tarzda geliştirebileceğimiz bir saha lazımdır."



**Japonya'nın serbestçe açılmayı düşünerek 1937 yılında işgal etmeye başladığı saha aşağıdakilerden hangisidir?**

- A) Endonezya      B) Çin      C) Filipinler  
D) Hindistan      E) Tayland



## TEST 3

1.
  - I. Washington Antlaşması'nı imzalaması
  - II. Batı'dan Çin ile ilişkilerini kesmelerini istemesi
  - III. Mançurya'yı işgal etmesi
  - IV. Milletler Cemiyetinden çekilmesi
  - V. "Asya Asyalılarındır" politikasını benimsemesi

Yukarıdaki gelişmelerden hangisinin Japonya'nın yayılmacı politikalarının bir sonucu olduğu söylenemez?

- A) I      B) II      C) III      D) IV      E) V

2. İkinci Dünya Savaşı'nda mihver devletlerin şartsız olarak teslim olması teklifi Japonlar tarafından reddedilmiştir. Aşağıdaki gelişmelerden hangisi bu durumun sonuçlarındandır?

- A) Savaşın uzaması  
B) Japonya'nın Çin'den çekilmesi  
C) Pearl Harbour Baskını'nın yaşanması  
D) Japonya'ya atom bombası atılması  
E) Normandiya Çıkarması'nın yapılması

3. Amerika Birleşik Devletleri'nin II. Dünya Savaşı'na girmesi savaşlarda dengeyi sağlamıştı. Ancak savaşın yükünü çeken Rusya'ya acil olarak yardım edilmesi gerekiyordu. Bu sebeple Tahran'da bir araya gelen Stalin, Roosevelt ve Churchill konuyu tartıştılar ve Kahire Konferansı'nın düzenlenmesine karar verdiler. **Müttefik devletlerin, Sovyet Rusya'nın düştüğü durumdan kurtulması için getirdiği çözüm önerisi aşağıdakilerden hangisidir?**

- A) Atom bombasının kullanılması  
B) İtalya üzerinden harekete geçilmesi  
C) Boğazların savaş gemilerine kapatılması  
D) Almanya'ya hava harekâtı düzenlenmesi  
E) Türkiye üzerinden yeni bir cephe açılması

## 38. MİKRO KONU: II. Dünya Savaşı'nın Nedenleri, Yayılması

### 24. ÜNİTE: II. Dünya Savaşı Sürecinde Türkiye ve Dünya

4. Berlin yakınlarında 1945 yılında gerçekleştirilen, barışın nasıl sağlanacağı konulu toplantının adı aşağıdakilerden hangisidir?

- A) Balfour Deklarasyonu  
B) Briand - Kellog Paktı  
C) Yalta Konferansı  
D) Potsdam Konferansı  
E) Londra Konferansı

5. Aşağıdakilerden hangisi İkinci Dünya Savaşı'nda ittifak oluşturan mihver devletlerden değildir?

- A) Almanya      B) İtalya      C) Norveç  
D) Romanya      E) Japonya

- 6.



"Fransa Avrupa'nın ABD, Çin ve Rusya'dan korunmak için kendi ordusunu kurmasını öneriyor. Hâlbuki Fransızlar yıllar önce Paris'te Almanca öğrenmeye başlıyorlardı."

**Amerika Birleşik Devletleri'nin kırk beşinci Başkanı Donald Trump'ın, metindeki sözleri ile aşağıdakilerden hangisini hatırlatmak istediği düşünülebilir?**

- A) Fransa'nın bir dönem Alman kültürünün etkisinde kaldığını  
B) Almanya'nın Avrupa'nın önemli bir gücü olduğunu  
C) Almanya'nın Avrupa'nın ekonomik ve askerî yönden lider konumunda bulunduğunu  
D) Avrupa'nın kendi ordusunu kuracak düzeyde olmadığını  
E) II. Dünya Savaşı'nda Almanya'nın Fransa'yı işgal ettiğini





064509D6

1. I. Savaş, Almanya'da Adolf Hitler ve İtalya'da Benito Mussolini'nin iktidara gelmeleriyle benimsedikleri yayılcı politika ve buna bağlı işgal planları sonucunda başlamıştır.

II. Almanya'nın savaşa girmesindeki en belirgin siyasal sebep, Versay Antlaşması ve onun getirdiği ağır yükümlülükler olmuştur.

III. İtalya Akdeniz'i bir Roma gölü hâline getirerek Roma İmparatorluğu'nu diriltme düşüncesi ile harekete geçmiştir.

IV. Savaş başlamadan önce İngiltere ve Fransa, Almanya ile İtalya'yı caydırıcı askerî tedbirlerle baskı altına almışlardır.

V. Bu dönem Türkiye'nin Hatay Sorunu'nu çözmeye çalıştığı ve Boğazlar'ın statüsünü kendi lehine çevirmek adına girişimlerde bulunduğu bir dönemdir.

İkinci Dünya Savaşı öncesine ait olarak verilen yukarıdaki gelişmelerden hangisi doğru değildir?

- A) I      B) II      C) III      D) IV      E) V

2. II. Dünya Savaşı sonrasında barışı temin etmek üzere oluşturulan kurum aşağıdakilerden hangisidir?

- A) NATO  
B) Birleşmiş Milletler  
C) Milletler Cemiyeti  
D) Avrupa Konseyi  
E) Avrupa Birliği

3. II. Dünya Savaşı'nda Amerika;

- I. Nagasaki,  
II. Tokyo,  
III. Hiroşima

gibi Japon şehirlerinden hangilerine atom bombası atmıştır?

- A) Yalnız I      B) I ve II      C) I ve III  
D) II ve III      E) I, II ve III

4. Almanya'nın II. Dünya Savaşı öncesindeki;

- I. Cenevre Silahsızlanma Konferansı'ndan ayrılması,  
II. Versay Antlaşması'na rağmen zorunlu askerlik sistemini yeniden uygulamaya koyması,  
III. 1936 yılından itibaren Ren Bölgesi'nin askersizleştirilmesini tanımadığını açıklaması

faaliyetlerinden hangilerinin yeni bir savaşın habercilerinden olduğu savunulabilir?

- A) Yalnız I      B) I ve II      C) I ve III  
D) II ve III      E) I, II ve III

5. Almanya'nın II. Dünya Savaşı'nda yalnız hava harekâtı düzenleyerek teslim olmaya zorladığı devlet aşağıdakilerden hangisidir?

- A) Sovyet Rusya      B) Fransa      C) İngiltere  
D) Yugoslavya      E) Polonya

6.



Potsdam Konferansı'nda bir araya gelen ABD, İngiltere ve Sovyet Rusya liderleri savaş sonrası durumu konuşmuşlardır. Ancak devletlerin yaşadığı anlaşmazlıklar burada su yüzüne çıkmıştır.

Bu anlaşmazlıkların yol açtığı gelişme aşağıdakilerden hangisidir?

- A) İki kutuplu dünya düzeninin başlaması  
B) Almanya'nın ikiye bölünmesi  
C) Sovyet Rusya'nın Japonya'ya savaş ilan etmesi  
D) Japonya'ya atom bombasının atılması  
E) ABD'nin Avrupa siyasetinden çekilmesi



## TEST 5

1.



Pearl Harbour Baskını II. Dünya Savaşı'nın önemli olaylarından biridir. Amerika Birleşik Devletleri bu olayın ardından önce Japonya'ya, ardından da Almanya'ya savaş ilan etmiştir.

**Pearl Harbour Baskını aşağıda verilen bölgelerin hangisinde yaşanmıştır?**

- A) Kuzey Afrika      B) Pasifik      C) Japonya  
D) Baltık Denizi      E) Çin

2. İkinci Dünya Savaşı ile ilgili aşağıda verilen bilgilerden hangisi doğru değildir?

- A) Savaş sonunda Almanya ile çok ağır şartlar içeren Versay Antlaşması imzalanmıştır.  
B) İtalya, Roma İmparatorluğu'nu diriltmek ve Akdeniz'i bir Roma gölü hâline getirmek düşüncesi ile hareket etmiştir.  
C) Müttefiklerin savaşta galip konuma gelmesi Türkiye'nin Boğazlar konusunda Sovyet Rusya endişelerini artırmıştır.  
D) Müttefikler savaş döneminde Türkiye'yi savaşa girmesi için baskı altına almışlardır.  
E) İkinci Dünya Savaşı, Almanya'da Adolf Hitler ve İtalya'da Benito Mussolini'nin iktidara gelmeleri, yayılmacı politikalar izlemeleri sebebiyle başlamıştır.

3. II. Dünya Savaşı'nda Almanya Polonya'yı işgal ettikten sonra Yıldırım Savaşları adı verilen askerî operasyonu başlatmıştır. **Yıldırım Savaşları Harekâtı'nın hedefi aşağıdakilerin hangisidir?**

- A) Pasifik Okyanusu      B) Avrupa  
C) Kuzey Afrika      D) Sovyet Rusya  
E) Asya

## 38. MİKRO KONU: II. Dünya Savaşı'nın Nedenleri, Yayılması

### 24. ÜNİTE: II. Dünya Savaşı Sürecinde Türkiye ve Dünya

4. ABD Başkanı Roosevelt'e atom bombası fikrini vererek bu iş için çokça çaba harcanması gerektiğini söyleyen bilim insanı aşağıdakilerden hangisidir?

- A) Thomas Edison  
B) Nicola Tesla  
C) Albert Einstein  
D) Charles Darwin  
E) Robert Schrieffer

5. İkinci Dünya Savaşı devam ederken barışın kalıcı olarak sağlanması düşüncesi ile bir oluşuma gidilmesi konusunda fikir birliği oluşmuştur.

**Bu düşünceyle 1945 yılında kurulan teşkilat aşağıdakilerin hangisidir?**

- A) Milletler Cemiyeti  
B) Sadabat Paktı  
C) Balkan Antantı  
D) Birleşmiş Milletler Teşkilatı  
E) Avrupa Ekonomik Topluluğu

6.

- I. Polonya'nın işgal edilmesi  
II. Fransa'nın işgal edilmesi  
III. Rusya'ya saldırılması  
IV. İngiltere'ye hava harekâtı düzenlenmesi  
V. Müttefiklerin Normandiya'ya çıkarma yapması

**Yukarıda verilen II. Dünya Savaşı'na ait kronolojinin doğru olabilmesi için kaç numaralı alanlar yer değiştirmelidir?**

- A) I ve III      B) II ve III      C) II ve IV  
D) II ve V      E) III ve IV





1.



"Atatürk'ün ölümünden kısa bir süre sonra ---- gelişti. Atatürk'ün bıraktığı Cumhuriyet, bünyesinde ve anlayışında o kadar sağlam işledi ki, altı sene süren bu hadise, birçok devleti felakete götürdüğü hâlde Türkiye bu hengameden sağlam çıktı." İsmet İnönü'nün yukarıda yer alan sözlerindeki boşluğa aşağıdakilerden hangisi getirilmelidir?

- A) Dünya ekonomik krizi
- B) Salgın hastalıklar süreci
- C) II. Dünya Savaşı
- D) Doğal afetler ve kıtlık
- E) Emperyalizm anlayışı

2. Filistin'de İsrail Devleti'nin kurulmasıyla sonuçlanan girişim aşağıdakilerden hangisidir?

- A) Washington Sözleşmesi
- B) Monreo Doktrini
- C) Yalta Konferansı
- D) Balfour Deklarasyonu
- E) Locarno Antlaşması

3. Yahudilerin İsrail Devleti'nin kuruluşu öncesi dünya kamuoyunun desteğini almasında aşağıdaki gelişmelerden hangisinin etkisi olmuştur?

- A) Milliyetçilik hareketlerinin
- B) II. Dünya Savaşı'nın bitmesinin
- C) Müttefik devletlere destek vermelerinin
- D) Avrupa'da gördükleri zulüm ve baskıların
- E) Araplarla mücadele hâlinde olmalarının

4. İkinci Dünya Savaşı'ndan sonra kurulacak düzene yeni şeklin verileceği ve Birleşmiş Milletlerin kurulacağı San Francisco Konferansı'na İngiltere ve ABD, Türkiye'nin davet edilmesinden yana bir tavır sergilerken Sovyetler önce buna karşı çıkmış, sonra Türkiye'nin şartlı olarak davet edilmesini önermiştir. **Sovyet Rusya'nın Türkiye'nin Konferans'a davet edilmesi için öne sürdüğü şart aşağıdakilerden hangisidir?**

- A) Yenilen Almanya'ya savaş açması
- B) Boğazlar'ın statüsünün tartışmaya açılması
- C) Japonya ile ilişkilerini kesmesi
- D) Mihver devletlere desteğin kesilmesi
- E) Müttefik devletlere askerî yardımda bulunulması

5. İngiltere I. Dünya Savaşı'ndan sonra Filistin'de manda yönetimi kurmuştur. Bu bölgede ilerleyen zamanlarda Arap - Yahudi çatışmaları yaşanmaya başlamıştır.

**Arap - Yahudi çatışmasına zemin hazırlayan gelişme aşağıdakilerden hangisidir?**

- A) Filistinlilerin manda yönetimini reddetmesi
- B) İngiltere'nin Yahudi nüfusunun ve toprak mülkiyetinin genişlemesine izin vermesi
- C) İkinci Dünya Savaşı'nın başlaması
- D) Filistin'in Mihver devletlerin yanında yer alması
- E) Milletler Cemiyetinin manda yönetimleri reddetmesi

6.



II. Dünya Savaşı'nın sonuçlarının yer aldığı yukarıdaki tabloda kaç numaralı alanda **yanlışlık** yapılmıştır?

- A) I
- B) II
- C) III
- D) IV
- E) V



1. "Büyük vazife günleri, Millet Meclisi için önemli fırsatlardır. Şanlı ordumuzu daima hazır bulundurmamız, bugün her zamandan fazla gereklidir. Savaş girmiş gibi yoklukları göze alacak ve bütün milletçe zahmet ve nimette birliğimizi ve beraberliğimizi gösterecek zamandayız. Büyük Meclisin ve her vatandaşın, devletine yardım etmesi gerekmektedir. Tarihte büyük meseleleri çözmüş milletin evlatlarıyız. Kendimize, milletimize güvenimiz, her vaziyette en doğru tedbirleri alacağımıza güvenimiz, her zamandan fazla ve kuvvetlidir."



**Aşağıdakilerden hangisi İsmet İnönü'nün 1 Kasım 1942'de mecliste yaptığı yukarıdaki konuşma zamanında Türkiye'de yaşanan gelişmelerden değildir?**

- A) II. Dünya Savaşı yıllarının yaşanmakta olması
- B) Olağanüstü savaş döneminden oluşan yüksek kârların vergilendirilmesi
- C) Ülkede ekonomik sıkıntıların baş göstermesi
- D) Ekonomik tedbirlerin açıklanması
- E) Türkiye'nin Almanya'ya karşı savaşa girmesi

2. 1948 yılında Mısır, Suriye, Irak, Lübnan ve Ürdün orduları İsrail'e karşı saldırıya geçti. ABD başta olmak üzere Avrupalı devletlerin desteğini alan İsrail, Araplara karşı askerî üstünlük sağladı.

**1948 Arap - İsrail Savaşı'nın sebebi aşağıdakilerden hangisidir?**

- A) Petrol kaynaklarının paylaşımında anlaşmazlık yaşanması
- B) İsrail Devleti'nin resmen kurulması
- C) Su kaynakları paylaşımı meselesi
- D) Deniz yetki alanı anlaşmazlığı
- E) Kudüs'ün Müslümanların elinde olması

3. **Aşağıdaki bilgilerden hangisi, tarihimizde "harp zenginleri" olarak nitelendirilen grup ile ilgilidir?**

- A) İkinci Dünya Savaşı'nda ekonomide fırsatçılık ve karaborsacılıkla mal varlıklarını artıranlar
- B) I. Dünya Savaşı'nda stokçuluk, karaborsacılık yapanlar
- C) Filistin'de sahip oldukları toprakları Yahudilere satan Araplar
- D) Almanya'daki Yahudilerin mal varlıklarına el koyanlar
- E) II. Dünya Savaşı'nda silah ticareti yapanlar

4. Amerika Boğazların statüsünün tekrar görüşülmesini isteyen Sovyet Rusya'ya yumuşak davranıyordu. Ancak daha sonra Başkan Truman bu politikadan vazgeçmekle kalmadı, karşı önlem almak için harekete geçti.

**Truman'ın tutumunda yaşanan bu değişimin sebebi aşağıdakilerden hangisidir?**

- A) Rusya'nın işgal ettiği İran'dan çekilmek istememesi
- B) Türkiye'ye baskı yaparak yayılma eğiliminde olması
- C) Türkiye'nin jeopolitik konumunun vazgeçilmez olması
- D) Rusya'nın isteklerinin anlaşılabilir olmaması
- E) Güçlü bir Rusya'nın varlığının Akdeniz'de istenilmemesi

5. II. Dünya Savaşı başında Almanya'nın Ankara Büyükelçisi Von Papan aracılığıyla Türkiye'den bazı istekleri olmuştu.

**Aşağıdakilerden hangisinin Almanya'nın istekleri arasında olması beklenemez?**

- A) Türkiye'nin Almanya safında savaşa girmesi
- B) Türkiye'nin savaşa girmediği takdirde tarafsız kalması
- C) Türkiye'nin Adana Konferansı'na katılması
- D) İngiltere ile ortak politikalar geliştirilmemesi
- E) Boğazlar'dan geçecek Alman gemilerine kolaylık gösterilmesi

6. "Büyük savaş zamanıydı.

Çok sayıda devletin harpte olduğunu duyuyorduk. İstanbul'da yokluk ve kıtlık kol geziyordu. Ancak bazı yeni zenginler türemişti.



Bunlar savaş fırsatçılığı yapıp karaborsadan, insanların mülklerini yok pahasına ele geçirenlerden başkası değildi. Ne var ki bu fırsatçıların yüzünden bizler zarar gördük. Akrabalarımızdan bazıları Aşkale'ye karlı yolları temizleme işinde çalışmaya gitmişlerdir."

**Türkiye Cumhuriyeti vatandaşı Madam Dora'nın yukarıdaki hatıralarından yola çıkılarak sözü edilen dönem ile ilgili aşağıdakilerden hangisine ulaşamaz?**

- A) II. Dünya Savaşı dönemi anlatılmaktadır.
- B) "Harp zenginleri" hakkında bilgi verilmektedir.
- C) Varlık Vergisi düzenlemesi yapılmıştır.
- D) Türkiye'nin askerî yönden önemli kayıpları olmuştur.
- E) Türkiye'de ekonomik kriz yaşanmaktadır.





097103E8

1. II. Dünya Savaşı sırasında Almanya'nın 1939'da Çekoslovakya'yı işgal ederek Romanya'ya zorla bir ticaret antlaşması imzalatması ve bu ülkeyi ekonomik hâkimiyet altına almaya çalışması, ayrıca 7 Nisan 1939 tarihinde Arnavutluk'u işgal ederek Balkanlarda yayılmak isteyen İtalya'yı desteklemesi Türkiye'nin Almanya'dan uzaklaşmasına neden olmuştur. Çünkü Almanlar müttefikleri İtalyanlarla birlikte Türkiye'nin güvenlik bölgesi olarak gördüğü Balkanlara yönelmiştir.

**Almanya ve İtalya'nın faaliyetleri;**

- I. Balkan Antantı'nın önemini kaybetmesi,
- II. savaşın geniş alanlara yayılması,
- III. Türkiye'nin İngiltere ile yakınlaşması

**gelişmelerinden hangilerinin yaşanmasına sebep olmuştur?**

- A) Yalnız I                      B) I ve II                      C) I ve III  
D) II ve III                      E) I, II ve III

2. II. Dünya Savaşı'nın sürdüğü zamanlarda Türkiye'de yayımlanan gazetelerde bazı ülkelerin lehlerinde ve aleyhlerinde makaleler ve haberler çıkmıştır.

**Savaşın ilerleyen zamanlarında aşağıdaki ülkelerden hangisinin hakkında olumsuz haberlerin artması beklenebilir?**

- A) Almanya                      B) İngiltere                      C) Rusya  
D) Fransa                      E) Yunanistan

3. 19 Mart 1945 tarihinde Sovyet Dış İşleri Bakanı Molotov, Moskova'da bulunan Türk Büyükelçisi Selim Sarper'e, 1921 yılında imzalanan Moskova Antlaşması'nın Sovyetlerin zayıf olduğu bir döneme rastladığını ve bu şekilde arazi değişiklikleri meydana geldiğini belirterek bu meselelerin tamir edilmesi gerektiğini belirtmiştir.



**II. Dünya Savaşı sırasında, Sovyet dış siyaseti hakkında ipuçları da veren Molotov'un, ifade ettiği sözlerle kast ettiği konu aşağıdakilerden hangisidir?**

- A) Boğazlar Meselesi  
B) Batı Trakya Sorunu  
C) Hatay Sorunu  
D) Kars ve Ardahan'ın Türkiye'de kalması  
E) Musul Meselesi

4. Almanya, vaktiyle Türkiye'nin Musul Meselesi'nde yalnız bırakılmasına hiç ses çıkartmazken, II. Dünya Savaşı'nda Musul'un Türkiye'ye ait olması gerektiğini ifade etmeye başlamıştır.

**Almanya'nın politika değişikliğinde;**

- I. Türkiye'nin stratejik durumundan yararlanma,
- II. Irak petrolerine sahip olma,
- III. Türkiye'nin İngiltere ile arasını açma

**amaçlarından hangilerinin etkili olduğu savunulabilir?**

- A) Yalnız I                      B) I ve II                      C) I ve III  
D) II ve III                      E) I, II ve III

5. 1938 yılında İngiltere'nin Türkiye'ye %6 faizle toplam 16 milyon sterlin kredi açması üzerine Almanya 16 Ocak 1939 tarihinde yapılan anlaşma ile Türkiye'ye %5 faizle 150 milyon mark kredi açmayı kabul etmiştir.

**Aşağıdakilerden hangisi Almanya'nın izlediği bu politika-nın sebeplerinden olamaz?**

- A) Türkiye'nin sahip olduğu Boğazlar  
B) Almanya'nın ham maddeye olan ihtiyacı  
C) Almanya'nın krom ithalatının yarısına yakını Türkiye'den yapması  
D) Türkiye'nin müttefikler safında savaşa girme ihtimali  
E) Almanya'nın silah ithalatında Türkiye'ye olan bağımlılığı

6. Potsdam Konferansı'nda Sovyetler Birliği, I değişiklik teklifini bir kez daha gündeme getirmiştir. İngiltere ve ABD de değişen şartlar doğrultusunda II değişikliğe gidilebileceğini ancak bunun uluslararası müzakerelerle gerçekleştirilebileceğini bildirdiler. Sonunda konferans bu konuda bir karar alınmadan dağıldı.

**Metinde yer alan boşluklara aşağıdakilerden hangileri getirilmelidir?**

- |    | I                      | II        |
|----|------------------------|-----------|
| A) | kapitülasyonlarda      | Lozan'da  |
| B) | Boğazlar'ın statüsünde | Montrö'de |
| C) | dış borçlarda          | Lozan'da  |
| D) | Boğazlar'ın statüsünde | Lozan'da  |
| E) | kapitülasyonlarda      | Montrö'de |



# TEST 1



1. Refik Koraltan, Çiftçi Topraklandırma Kanunu tasarısını "Ali'nin malını alıp Veli'ye vermek" şeklinde eleştirmiştir. Emin Sazak, "Ekonomik işler şakaya gelmez. Herkes kafasını yormalı, yoksa şefim böyle istedi diye buraya gelmemeli. Bugün bizdeki görünüş, varlık düşmanlığıdır. Bunun memleket için zararlı olduğu kanısındayım. Sanat ve ticaret alanını da özel teşebbüse bırakmadık. Bu gidilen yolda yürünemez." diyerek hükümete güvenmeyeceğini ilan etmiştir. Nihayet muhalefet düşüncelerini CHP Meclis Grup Başkanlığına "Dörtlü Takrir" başlığı altında sunmuştur.

**Mecliste yaşanan bu olaylar aşağıdaki hangi gelişmeye zemin hazırlamıştır?**

- A) Seçimlerin yenilenmesine
- B) Demokrat Partinin kurulmasına
- C) Parti içi muhalefetin susturulmasına
- D) Kanun tasarısının geri çekilmesine
- E) Yeni seçim kanununun hazırlanmasına

2. Bazı CHP milletvekillerinin imzalarını taşıyan bu önergede, parti içinde demokrasinin gerçekleşmesi için gerekli görülen tedbirlerin alınması istenmiştir.

**Dörtlü Takrir olarak bilinen bu önergede aşağıdakilerden hangisinin ismi yoktur?**

- A) Celal Bayar
- B) Adnan Menderes
- C) Fuat Köprülü
- D) Refik Koraltan
- E) Kazım Karabekir

3. Sovyet yayılcılığına karşı dünya barışını sağlamak amacıyla kurulan örgüt aşağıdakilerden hangisidir?

- A) Milletler Cemiyeti
- B) Avrupa Konseyi
- C) NATO
- D) Birleşmiş Milletler
- E) Varşova Pakti

4. Çok partili sisteme geçildikten sonra gerçekleştirilen belediye seçimlerine Demokrat Parti katılmamıştır.

**Demokrat Partinin belediye seçimlerine katılmamasında;**

- I. seçimler için hazırlık yapılamaması,
- II. demokratikleşme adımlarının atılmamasını gerekçe göstermesi,
- III. oylamanın açık oy gizli tasnif usulü ile yapılmasına itiraz etmesi

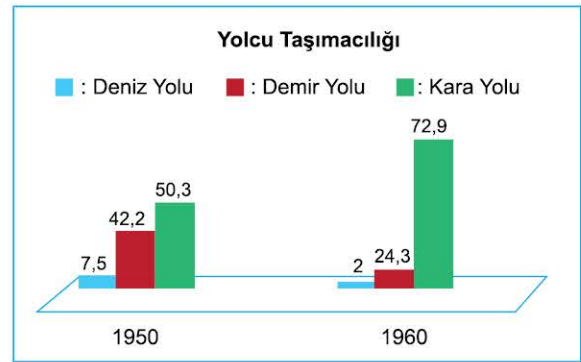
**gerekçelerinden hangilerinin etkisinden söz edilebilir?**

- A) Yalnız I
- B) I ve II
- C) I ve III
- D) II ve III
- E) I, II ve III

5. Türkiye'nin NATO'ya üyeliğinde aşağıdaki hangi gelişmenin etkisi olmuştur?

- A) Kore'ye asker gönderilmesi
- B) Çok partili rejime geçilmesi
- C) II. Dünya Savaşı'nda tarafsız davranılması
- D) İçte ve dışta barışçı bir politika takip edilmesi
- E) Avrupa kıtasında toprağının bulunması

6.




**1950 - 1960 yılları arasında Türkiye'ye ait yolcu taşımacılığını gösteren grafik incelendiğinde yaşanan bu değişimin sebebinin aşağıdakilerden hangisi olduğu söylenebilir?**


- A) Teknolojinin gelişmesi
- B) İnsanların tercihlerinde görülen değişim
- C) Ekonomik kriz
- D) Kara yolu merkezli bir politika izlenmesi
- E) Yaşanan nüfus artışı








03690666

1.  I. Emel Sayın

 II. Ferdi Tayfur

 III. Ayhan Işık

 IV. Ayten Alpmann

 V. Barış Manço

Yukarıda yer alan isimlerden hangisi ses sanatçılarından değildir?

- A) I B) II C) III D) IV E) V

2. Kıbrıslı Rumların ortaya attığı "Enosis" fikri ile aşağıdakilerden hangisi amaçlanmıştır?

- A) Ada'ya iki uluslu bir çözüm getirmek  
B) Türk ve Rum halkı tek çatı altında toplamak  
C) Kıbrıs'ı Yunanistan'a bağlamak  
D) Ada'yı İngiliz yönetimine bağlamak  
E) Kıbrıs'ın Avrupa Birliği'ne girmesini sağlamak

3. Devalüasyon kavramının açıklaması aşağıdakilerden hangisidir?

- A) Resmî para biriminin değerinin yabancı paralar karşısında devlet tarafından düşürülmesi  
B) Dolaşımdaki para miktarıyla satın alınabilen unsurlar arasındaki farkın büyümesi  
C) Mal ve hizmetlerin fiyatlarının artması  
D) Bir ülkenin para biriminin yabancı paralar karşısındaki değerinin artması  
E) Piyasadaki arz talep dengesinin bozulması

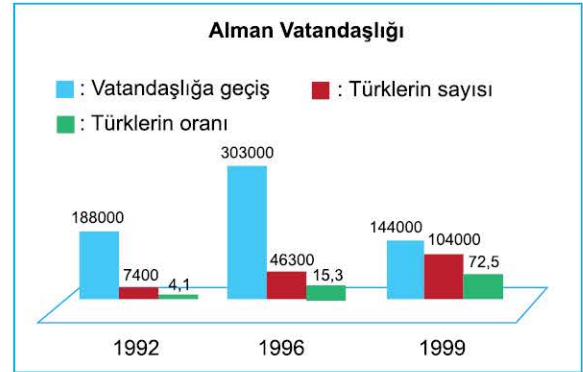
4. İsrail'in aşağıdakilerden hangisinin toprakları üzerinden genişleme faaliyetlerinde bulunduğu söylenemez?

- A) Filistin B) İran C) Ürdün  
D) Suriye E) Mısır

5. Kıbrıs'ı hukuksuz olarak 1915 yılında ülkesine kattığını ilan eden, hâlen bölgede garantör ülke statüsünde bulunan devlet aşağıdakilerin hangisidir?

- A) Fransa B) ABD C) İtalya  
D) Rusya E) İngiltere

6.



Alman vatandaşlığına geçiş ile ilgili verilen grafik ve dönemin gelişmeleri birlikte değerlendirildiğinde aşağıdaki yargılardan hangisine ulaşamaz?

- A) Türkler Almanya'ya misafir işçi statüsünde göç etmişlerdir.  
B) Almanya'da kalıcı olarak yerleşmeye karar verenlerin sayısı zamanla artmıştır.  
C) Ekonomik unsurlar dış göçlerde temel etkindir.  
D) Almanya'nın genç nüfusa olan ihtiyacı vatandaşlık politikalarına etkide bulunmuştur.  
E) Dış göçün ilk yıllarında kadın işçilerin sayısı erkek işçilerden fazla olmuştur.



1.



- I. Hükümetin başbakanı Necmettin Erbakan'dır.
- II. Refah Partisi ve Doğru Yol Partisi koalisyonu kurulmuştur.
- III. İktidara yönelik post - modern darbe olarak adlandırılan 28 Şubat süreci yaşanmıştır.
- IV. Necmettin Erbakan istifa etmiş, hükümet kurma görevi Tansu Çiller'e verilmiştir.
- V. İrtica ile mücadele kapsamında Batı Çalışma Grubu oluşturulmuştur.

**Yukarıda verilenlerden hangisi 1995 - 1997 yılları arasında ülkeyi yöneten Necmettin Erbakan ve Tansu Çiller'in iktidarı dönemine ait gelişmelerden değildir?**

- A) I      B) II      C) III      D) IV      E) V

2.

1999 yılında gerçekleştirilen genel seçimlerde partilerin hiçbiri tek başına iktidar olmaya yetebilecek oy oranına ulaşamamış, ülke 2002 yılına kadar partilerin bir araya gelerek kurdukları koalisyonla yönetilmiştir.

**Bu dönemdeki hükümet koalisyonunda;**

- I. Anavatan Partisi,
- II. Doğru Yol Partisi,
- III. Milliyetçi Hareket Partisi

**unsurlarından hangileri yer almıştır?**

- A) Yalnız I      B) I ve II      C) I ve III  
D) II ve III      E) I, II ve III

3.

Arap Baharı ile başlayan halk hareketleri devletlerde iktidar değişikliklerine yol açmıştır. Irak'ta yaşanan DEAŞ işgalleri, Suriye'deki iç karışıklıklar ve dış müdahaleler sonucunda Türkiye'nin güvenliği tehdit altında kalmış, Türkiye bölgeye askerî olarak müdahale etmek durumunda kalmıştır.

**Suriye ve Irak'ta yaşanan terör olayları ve savaşların aşağıdaki sonuçlarından hangilerinin Avrupa'ya olan etkisinin daha fazla olduğu savunulabilir?**

- A) Finansal krizlerin yaşanması      B) Mülteci göçleri  
C) İnsan kaçakçılığı      D) Terör eylemleri  
E) Salgın hastalıkların ortaya çıkması

4. Türkiye'de farklı zamanlarda ekonomik krizlerin çıkmasında;

- I. yönetimde koalisyon hükümetlerinin bulunması,
  - II. IMF ile yapılan anlaşmaların sonlandırılması,
  - III. ekonomide kısa vadeli tedbirlerin alınması
- durumlarından hangilerinin etkisi olmuştur?**

- A) Yalnız I      B) I ve II      C) I ve III  
D) II ve III      E) I, II ve III

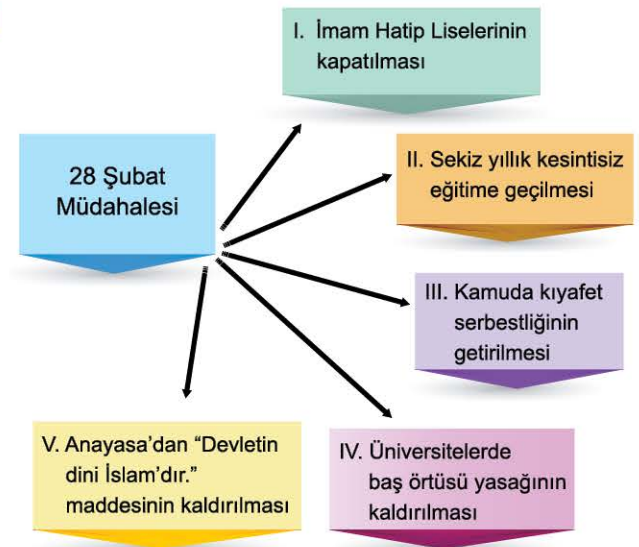
5.

"Cumhuriyetin temel değerlerine sözde değil, özde sahip olan bir kişinin cumhurbaşkanı seçilmesini umut ediyoruz."

**Cumhurbaşkanlığı seçiminin yapılacağı bir dönemde, 2007 yılında yukarıdaki sözlerle sürece dâhil olan ve büyük tartışmaların çıkmasına yol açan dönemin genelkurmay başkanı aşağıdakilerden hangisidir?**

- A) İsmail Hakkı Karadayı      B) Çevik Bir  
C) Hilmi Özkök      D) Yaşar Büyükanıt  
E) Hüseyin Kıvrıkoğlu

6.



**Yukarıda verilenlerden hangisinin 1997'de Türkiye'de yaşanan 28 Şubat Müdahalesi uygulamalarından olduğu söylenebilir?**

- A) I      B) II      C) III      D) IV      E) V