

Akıllı Tahtaya
Uyumlu



CLASSMATE

SORU BANKASI

DİN KÜLTÜRÜ VE AHLAK BİLGİSİ

- Spot Bilgiler
- Kazanım Temelli ve Beceri Temelli Soru Tipleri
- Zorluk Dereceleri Verilmiş Sorular
- Ünite Değerlendirme Soruları

8

SINIF



Video Çözümleri
akilligretim.com'da

Yayım Kurulu Başkanı
Sultan Özkaya

Yayım Kurulu
Nesrin Özkan - Esra Aktürk - Eylem Akdağ Bingöl

ISBN 978 - 605 - 7985 - 63 - 7


Eski Turgut Özal Cad. No: 22 /101 34490
Başakşehir / İSTANBUL
Telefon: (0212) 572 20 00 Fax: (0212) 572 19 49

Yayıncı Sertifika No.: 49697

Baskı - Cilt
Piamat Sanayi Dış Ticaret A.Ş.
Matbaa Sertifika No.: 72135

Bu kitap, Milli Eğitim Bakanlığı ve Talim Terbiye Kurulunca kabul edilen, Tebliğler Dergisi'nde yayımlanan **Din Kültürü ve Ahlak Bilgisi** dersinin müfredat programına uygun olarak hazırlanmıştır.
Kitabın yazımında TDK Yazım Kılavuzu esas alınmıştır.

Bu eserin yayım hakkı; Okyanus Basım Yayın Tic. A.Ş.'ye aittir.
İzinsiz kopya edilemez, çoğaltılamaz,
kısmen de olsa yayımlanamaz.



ÖN SÖZ

Sevgili Öğrenciler!

Eğitim maratonunda sizlere yardımcı olmak amacıyla hazırladığımız soru bankamız, yeni öğretim programına uygun ünitelendirilmiş kazanımlara ayrılmıştır. Her kazanımın başında yer alan “Bunları Bilelim” başlığı altında verilen kısa bilgiler ve örneklerle kazanımı hatırlamanız amaçlanmıştır. Ardından gelen testlerde sorular “1. Dereceden Sorular, 2. Dereceden Sorular ve 3. Dereceden Sorular” olmak üzere kolaydan zora üç farklı zorluk seviyesinde sıralanmıştır. 1. Dereceden Sorular, tamamen kazanımı kavratmaya yönelik en temel bilgilerden oluşan sorulardır. Üç zorluk seviyesi içinde en kolay sorular bu başlıktadır. 2. Dereceden Sorular, kazanımı kavrayıp kavrayamadığınızı ölçmeye yönelik ve çözümünde birkaç aşama planlamanızı gerektiren sorulardır. Üç zorluk seviyesi içinde orta zorluktaki sorular bu başlık altındadır. 3. Dereceden Sorular, üç zorluk seviyesi içinde en zor soruların toplandığı başlıktır. Ünite sonlarında konuyu ne derecede öğrendiğinizi sınavabileceğiniz, ünitenin tamamını kapsayan “Ünite Değerlendirme Soruları” yer almaktadır.

Soru bankamız ile hem 8. sınıf kazanımlarını öğrenmiş olacak, hem de MEB’in uyguladığı Liselere Giriş Sınavı’nda çıkan seçici sorulara ve yayımlanmış örnek sorulara benzer sorular çözme imkânı bulacaksınız. Bu sorular yorum gücü, farklı bakış açısı ve günlük hayatta kullanılan bilgileri de çözüme katmayı gerektiren sorulardır.

Ayrıca, kitabımızda bulunan kare barkodları tablet veya akıllı telefonunuzla okutarak ya da kare barkodların altındaki kodu akilliogretim.com’da aratarak tüm video çözümlerine ulaşabilirsiniz.



Başarı ve mutluluk
dolu yarınlara...

İÇİNDEKİLER

1. ÜNİTE: KADER İNANCI


Kader ve Kaza	8 - 23
Hz. Musa (a.s.) ve Ayet el-Kürsi	24- 25
Ünite Değerlendirme Soruları	26- 35

2. ÜNİTE: ZEKÂT VE SADAKA

Paylaşma ve Yardımlaşma	38 - 43
Zekât İbadeti	44 - 49
Sadaka ve İnfak	50- 55
Hz. Şuayb (a.s.) ve Mâ'ûn Suresi	56 - 57
Ünite Değerlendirme Soruları	58- 65

3. ÜNİTE: DİN VE HAYAT

Din, Birey ve Toplum	68 - 79
Dinin Temel Gayesi	80 - 85
Hz. Yusuf (a.s.) ve Asr Suresi	86 - 87
Ünite Değerlendirme Soruları	88 - 91



İÇİNDEKİLER


4. ÜNİTE: HZ. MUHAMMED'İN (S.A.V.) ÖRNEKLİĞİ

Hz. Muhammed'in (s.a.v.) Özellikleri	94 - 115
Kureyş Suresi	116- 117
Ünite Değerlendirme Soruları	118 - 125

5. ÜNİTE: KUR'AN-I KERİM VE ÖZELLİKLERİ

İslam Dininin Temel Kaynakları	128 - 145
Hz. Nuh'un (a.s.) Hayatı	146 - 147
Ünite Değerlendirme Soruları	148 - 155

CEVAP ANAHTARI	156 - 160
-----------------------------	------------------





KADER İNANCI





BUNLARI BİLELİM

Kainatta bulunan her şey Allah (c.c.) tarafından bir denge ve ölçü içerisinde yaratılmıştır. Allah'ın (c.c.) her şeyi bir ölçü, düzen ve uyum içerisinde programlamasına **kader** denir. **Kaza** ise Yüce Allah (c.c.) tarafından takdir edilen bu olayların zamanı geldiğinde gerçekleşmesidir.

Allah (c.c.) evrenin işleyişini bazı yasalara bağlamıştır. Bu yasalara "**sünnetullah**" veya "**âdetullah**" denir. **Fiziksel, biyolojik ve toplumsal** yasalardır. İnsan iradesi ile kader arasında bir ilişki vardır. Yüce Allah (c.c.), insana akıl ve irade vermiştir. İnsan, aklını kullanarak seçimlerde bulunur.

Tevekkül kelime olarak Allah'a (c.c.) güven duymak ve dayanmaktır.

Dünya üzerinde yaşayan tüm canlıların belirli bir yaşam süresi vardır. Bu süreye **ömür** denir. Canlıların yaşam süresinin bitmesine **ecel** denir. Allah'ın (c.c.) canlılar için yarattığı nimetlerin yaşamını sürdürebilmesi içindir. Bunların tamamı **rızık** olarak adlandırılır.

ÖRNEK

"Allah her şeyi belli bir ölçüye göre yaratmıştır." **ayeti neyi vurgulamaktadır?**

Yaratma ölçüp biçmek, yoktan var etmek, bir şeyden başka bir varlık yapmak anlamına gelir. Allah'ın (c.c.) "yaratma" sıfatı vardır. Allah (c.c.) evrende yarattığı her varlığı belirli bir ölçü içinde, özenle yaratmıştır.

DİKKAT

Evrendeki ölçü ve düzeni yaratan ve yöneten Allah (c.c.) sonsuz ilmi ve kudretiyle her şeyi kuşatmıştır. Buna küllî irade denir. Allah (c.c.) tarafından insana verilen sınırlı özgürlük ve insanın tercih etme kabiliyetine ise cüzi irade denir.



1. DERECEDEN SORULAR

1. Allah (c.c.), evrende yarattığı her canlıya yapacağı işe uygun yapı, biçim, özellik ve yetenek vermiş; onların yaratılışını bir takım amaç ve hikmetlere dayandırmış, boş ve yersiz hiçbir şey yaratmamıştır.

Yukarıdaki bilgilere bakılarak;

- I. Her yaratılanın bir amaca hizmet ettiği,
II. Canlıların yapılarının işlerine uygun olduğu,
III. Evrendeki düzenin zamanla bozulduğu

yargılarından hangisine ya da hangilerine ulaşılabilir?

- A) Yalnız I
B) Yalnız III
C) I ve II
D) II ve III

2. Biyolojik yasa, canlıların doğumu, beslenmesi ve üremesi ile ilgilidir. Bu yasaya, "....." ayeti örnek gösterebilir.

Yukarıda boş bırakılan yere aşağıdaki ayetlerden hangisi getirilirse anlam bütünlüğü sağlanmış olur?

- A) "Şüphesiz biz ona doğru yolu gösterdik. İster şükredici olsun ister nankör."
B) "(Ey insanlar) Biz sizi basit bir sudan yaratmadık mı? İşte o suyu, belli bir süreye kadar sağlam bir yere yerleştirdik, sonra da ona ölçülü bir biçim verdik..."
C) "Onlara bir delil de gecedir ki biz ondan gündüzü sıyrıp çekeriz de birden karanlığa gömülürler. Güneş de akar gider yörüngesinde..."
D) "Her toplumun (belirli) bir eceli vardır. Eceleri geldiğinde onu ne bir an erteleyebilirler ve ne de bir an öne alabilirler."

3. Kur'an-ı Kerim'de Mâide suresi 8. ayette; "Ey inananlar! Allah için adalette şahitlik edenlerden olun. Bir topluluğa duyduğunuz kin, sizi adaletten saptırmaz. Adil davranın, takvaya yakışan budur. Allah'tan korkun, kuşkusuz Allah yaptıklarınızdan haberdardır." **buyurulmaktadır.**

Yukarıda verilen ayete bakılarak aşağıdakilerden hangisi söylenemez?

- A) Allah'ın (c.c.) yapılan işleri bildiği
B) Adalete bağlı kalınmasının öğütlediği
C) İyilik yapanların bütün günahlarının affedileceği
D) İnsanların toplumsal yasalara uyması gerektiği

4. "(Öyle) Bir fitneden sakının ki aranızda yalnız haksızlık edenlere erişmekle kalmaz (Hepinize erişir)..."

Enfâl suresi, 25. ayet

Bu ayet dikkate alındığında ulaşılabilecek yargı aşağıdakilerden hangisidir?

- A) Müminlerin sabretmesi gerektiği
B) İnsanların yapacakları seçimde özgür olduğu
C) İnsanların Allah'a (c.c.) tevekkül etmesi gerektiği
D) Yapılan haksızlığın sadece haksızlık yapanı değil bütün toplumu etkileyeceği

5. Bitkilerde üremeyi sağlayan tozlar rüzgârla bir bitkiden diğer bitkiye taşınırlar ve birbirlerini aşılırlar.

Yukarıda verilen bilgi aşağıdaki yasalardan hangisini örneklemek için kullanılır?

- A) Fiziksel yasalar
B) Biyolojik yasalar
C) Kimyasal yasalar
D) Toplumsal yasalar

6. Evrendeki hiçbir varlık rastgele oluşmamıştır. Her varlık, bir program doğrultusunda varolmuştur. Yer altındaki doğal kaynaklardan yer üstündeki canlılara kadar tüm varlıklar, Allah'ın (c.c.) üstün güç ve sonsuz ilminin eseridir.

Yukarıda verilen bilgilere göre;

- I. Evrende tesadüfen yaratılan hiçbir varlığın olmadığı,
II. Tüm varlıkların, Allah'ın (c.c.) ilim ve kudretiyle oluştuğu,
III. Allah'ın (c.c.) yaratmasının, bir plan ve ölçü doğrultusunda gerçekleştiği

yargılarından hangisi ya da hangileri söylenebilir?

- A) Yalnız I
B) I ve II
C) II ve III
D) I, II ve III

7. "... Ne Güneş Ay'a yetişebilir ne de gece gündüzü geçebilir. Her biri bir yörüngede yüzerler."

Yasin suresi, 40. ayet

Yukarıda verilen ayette üzerinde durulan konu ile aşağıdaki kavramlardan hangisi ilişkilendirilemez?

- A) Tesadüf
B) Plan
C) Denge
D) Ölçü

8. **Aşağıdaki ayetlerden hangisi denge, ölçü ve düzen kavramlarına örnek gösterilebilir?**

- A) "Biz suyu gökten (belirlediğimiz) bir ölçüye göre indiriyor, sonrada onu yeryüzünde tutuyoruz..."
B) "...İnananlar yalnız Allah'a inanıp güvensinler."
C) "Onların mallarında, muhtaç ve yoksullar için bir hak vardır."
D) "Ona iki yolu (iyi ve kötüyü) gösterdik."



1. DERECEDEN SORULAR

1. Günümüzde birçok trafik kazası olmaktadır. Bu kazaların en önemli sebepleri arasında insanların trafik kurallarını ihlal etmesi gelir.

Bu durum karşısında yapılması gerekenlere;

- I. Kurallara uygun araç kullanmak,
- II. Olumsuz durumlar karşısında isyan etmek,
- III. Hataların ortaya çıkardığı olumsuzlukları görmezden gelmek

davranışlardan hangisi ya da hangileri örnek gösterilebilir?

- A) Yalnız I
B) Yalnız II
C) II ve III
D) I, II ve III

2. yasaları bilmek, insanın çevresiyle uyum içerisinde yaşamasını ve insanların birbirlerinin haklarına özen göstermelerini sağlar.

Yukarıda boş bırakılan yere aşağıdakilerden hangisi getirilmelidir?

- A) Hukuki
B) Biyolojik
C) Toplumsal
D) Fiziksel

3. "Gerçekten biz her şeyi bir ölçü ve dengede yaratık."

Kamer suresi, 49. ayet

Yukarıda verilen ayetten yola çıkarak aşağıdaki ifadelerden hangisi söylenemez?

- A) Evren, bir düzene göre yaratılmıştır.
B) Varlıkların sahip olduğu özellikler zaman içinde değişir.
C) Varlıklar bir plan doğrultusunda yaratılmıştır.
D) Varlıkların yaratılışında tesadüf söz konusu değildir.

4. Kur'an-ı Kerim'de İsrâ suresi 15. ayette; "Kim doğru yolu seçerse bunu ancak kendi iyiliği için seçmiş olur. Kim de doğruluktan saparsa kendi zararına sapmış olur..." **buyurulmaktadır.**

Bu ayet dikkate alındığında;

- I. İnsanların özgür iradeye sahip olduğu,
- II. Doğru yolu seçmenin insana fayda sağlama cağı,
- III. İnsanların karar alma sürecinde birbirine baskı kurması gerektiği

yargılarından hangisine ya da hangilerine ulaşılamaz?

- A) Yalnız I
B) Yalnız III
C) I ve II
D) II ve III

5. Canlıların yaşam süresinin bitmesine ★ denir.

Yukarıda ★ sembolü ile gösterilen yere aşağıdakilerden hangisi getirilirse doğru olur?

- A) kader
B) ömür
C) ecel
D) rızık

- 6.



Kar tanelerinin, birbirine çarpmadan aynı hız ve ağırlıkta yüzüne inmesi, Allah'ın (c.c.) evrendeki eşsiz sanatının simgelerinden yalnızca bir tanesidir.

Bu durum aşağıda verilenlerden hangisiyle ilgili değildir?

- A) Ahiret hayatı
B) Evrendeki denge
C) Kainattaki düzen
D) Allah'ın (c.c.) güç ve kudreti

7. Kader ve kazaya inanmak demek, hayır ve şer, iyi ve kötü, acı ve tatlı, canlı ve cansız, faydalı ve faydasız her ne varsa hepsinin Allah'ın (c.c.) bilmesi, dilemesi, kudreti, takdiri ve yaratması ile olduğuna, Allah'tan (c.c.) başka yaratıcı bulunmadığına inanmak demektir. Evrende meydana gelmiş ve gelecek olan her şey Allah'ın (c.c.) ilmi, dilemesi, takdiri ve yaratması ile olur.

Bu bilgiler aşağıdakilerden hangisini kanıtlar niteliktedir?

- A) İnsanların hür iradeye sahip olduğunu
B) Allah'ın (c.c.) iyi işler yapanları ödüllendireceğini
C) Kader inancının insanı sorumluluk almaktan kurtardığını
D) Allah'ın (c.c.) ilmi ve dilemesini kader ve kaza anlayışı içinde yer aldığını

8. Evrendeki cisimler, birbirlerini bir kuvvetle çeker ve iterler. Güneş, bu kuvvetle gezegenleri kendine doğru çeker ve onların yörünge üzerinde kalmalarını sağlar.

Yukarıda verilen bilgileri aşağıdaki ayetlerden hangisi kanıtlar niteliktedir?

- A) "Gökten bir ölçüye göre suyu indiren odur..."
B) "Geceyi ve gündüzü, Güneş'i ve Ay'ı yaratan odur. Her biri bir yörüngede hareket etmektedir."
C) "Onlar, ayakta dururken, otururken, yanları üzerine yatarken Allah'ı anarlar, göklerin ve yerin yaratılışı hakkında derin derin düşünürler."
D) "...Göğü Allah yükseltti ve mizanı (dengeyi) o koydu, sakın dengeyi bozmayın."

9. Yaratılan her varlığın mutlaka bir sonu olacaktır. Her insanın da ömrü bir gün son bulacaktır.

Bu bilgiler aşağıdaki ayetlerden hangisini destekler niteliktedir?

- A) "İnsanlar yalnız Allah'a güvenip dayansınlar."
B) "Güneş de yörüngesinde akıp gitmektedir. Bu, üstün ve bilen Allah'ın kanunudur."
C) "Siz hayır olarak ne harcarsınız Allah onun yerine yenisini verir."
D) "Her canlı ölümü tadacaktır. Sonunda bize döndürüleceksiniz."

10. Zuhuruf suresi, 11. ayette; "Gökten bir ölçüye göre suyu indiren O'dur. Biz onunla (kupkuru), ölü bir memlekete hayat veririz." buyurulmuştur.

Yukarıdaki ayette aşağıdakilerden hangisi vurgulanmıştır?

- A) Yağmurun bir ölçüye göre indiği
B) Doğal dengenin zamanla bozulduğu
C) Evrendeki ilahi yasaların değiştiği
D) Toplumsal yasaların, Allah'ın (c.c.) büyüklüğünün delili olduğu

11. Kur'an-ı Kerim'e göre evrendeki mükemmel yaratılış ve eşsiz düzen Allah'ın (c.c.) birliğinin en önemli kanıtıdır.

Yukarıda verilen bilgiler;

- I. "Biz her şeyi bir ölçüye göre yarattık."
II. "Gökleri yedi kat yaratan O'dur. Rahman'ın yaratmasında bir düzensizlik göremezsin."
III. "Allah, inanıp iyi işler yapanları ödüllendirir."

ayetlerinden hangisini ya da hangilerini destekler niteliktedir?

- A) Yalnız I
B) Yalnız II
C) I ve II
D) II ve III



2. DERECEDEKİ SORULAR

1. Akıl, iyi ile kötü, doğru ile yanlış arasında tercih etme yeteneğidir. İnsan, akıllı ve düşünen bir varlıktır. İnsan, akıl ve düşüncesiyle iyiyi kötüden, doğruyu yanlıştan, faydayı zarardan ayırt eder. İrade ise seçmek, tercih etmek ve karar vermektir. İrade insanın zorunlu bir şekilde hareket etmesini sağlar. İnsanın seçme ve seçtiğini yapma gücünün olması onun kaderidir.

Yukarıda yapılan bilgilendirmedeki yanlışlık aşağıdaki değişikliklerden hangisinin yapılmasıyla giderilebilir?

- A) "zorunlu" ifadesi yerine; "özgür" ifadesi getirilmelidir.
 B) "kaderidir." ifadesi yerine; "başarıdır." ifadesi getirilmelidir.
 C) "yeteneğidir." ifadesi yerine; "görevdir." ifadesi getirilmelidir.
 D) "Akıl" ifadesi yerine; "Sorumluluk" ifadesi getirilmelidir.

2.

"Onlara bir delil de gecedir ki biz ondan gündüzü sıyırıp çekeriz de birden karanlığa gömülürler. Güneş de (bir delildir onlara), akar gider yürüncesinde, işte bu çok güçlü ve her şeyi bilen Allah'ın yaratmasıdır..."

Yasin suresi, 37-40. ayetler

Bu ayetlerden yararlanarak;

- I. Allah'ın (c.c.) üstün kudret sahibi olduğu,
 II. Fiziksel yasalarla ilgili delillerin bulunduğu,
 III. Her şeyin Allah'ın (c.c.) bilgisi dahilinde olduğu

yargılarından hangisi ya da hangileri söylenebilir?

- A) Yalnız I
 B) Yalnız II
 C) II ve III
 D) I, II ve III

3. Her meyve ağacı aynı topraktan, aynı su ve güneş ışınlarından beslendiği hâlde tadı, kokusu ve rengi farklı olan meyveler vermektedir.

Bu bilgiler, aşağıda verilen ayetlerden hangisi ile ilişkilendirilebilir?

- A) "Biz her şeyi bir ölçüye göre yarattık."
 B) "Yeryüzünde bulunan her canlı sonludur."
 C) "Emrolunduğun gibi dosdoğru ol."
 D) "İnananlar yalnız Allah'a dayanıp güvensinler."

4. ▲ Halk arasında gelir dağılımının adil olması
 ★ Hayvanların bir kısmının yumurtlayarak çoğalması
 ■ Evrendeki cisimlerin birbirini bir kuvvetle çekmesi
 ● İhtiyaç sahiplerine yardım edilmesi

Yukarıda sembolendirilerek verilenlerden hangileri toplumsal yasalara örnek gösterilemez?

- A) ★ - ■
 B) ■ - ●
 C) ▲ - ★
 D) ▲ - ●

5.

"...Verdiğiniz sözü yerine getirin. Çünkü verilen söz, sorumluluk gerektirir."

İsrâ suresi, 34. ayet

Yukarıda verilen ayet dikkate alındığında;

- I. İnsanların sözlerinde durmaları gerektiği,
 II. Sorumluluğun gereği olarak verilen sözlerin tutulması gerektiği,
 III. Sorumluluk sahibi olan bireylerin söz vermekten kaçındığı

yargılarından hangisine ya da hangilerine ulaşılabilir?

- A) Yalnız I
 B) Yalnız III
 C) I ve II
 D) I, II ve III

6. • Gece ve gündüzün art arda meydana gelmesi
• Güneş ve Ay'ın belli bir yörüngede hareket etmesi

Yukarıda verilen örnekler aşağıdakilerden hangisini kanıtlar niteliktedir?

- A) Evrende yaratılan en üstün varlığın insan olduğunu
B) Evrendeki varlıkların birbiriyle uyumlu olduğunu
C) İnsanların yaptıklarından sorumlu tutulduğunu
D) İnsanların evrendeki dengeyi bozmaması gerektiğini

7. İnsan hayatında karşılaştığı olumsuzlukları

Yukarıdaki ifadede boş bırakılan yere aşağıdakilerden hangisi getirilirse doğru olur?

- A) isyan ederek görmezden gelmelidir.
B) kadere yüklememelidir.
C) başkalarını suçlayarak çözmelidir.
D) alın yazısının gereği olarak görmelidir.

8. Dinimiz çalışkanlığı övmekte, insanın çalışmadan ve gayret etmeden isteklerine ulaşmasının mümkün olmayacağını ifade etmektedir.

Yukarıda verilen bilgiler ile ilgili aşağıdakilerden hangisi söylenebilir?

- A) Herkesin yaptıklarından sorumlu olacağı
B) Allah'ın (c.c.) insanlara verdiği rızıkların boşa harcanmaması gerektiği
C) İnsanın çalışarak ve çaba göstererek isteklerine kavuşacağı
D) Zorluklar karşısında mücadelecı olunması gerektiği

9. Atmosfer tabakası daha ince olsaydı, atmosferde yanarak parçalanan meteorlar, büyük kitleler hâlinde dünyamıza düşer ve bize zarar verebilirdi.

Yukarıdaki bilgilere verilebilecek en uygun başlık aşağıdakilerden hangisidir?

- A) İnsan İradesi
B) Emek ve Rızık
C) Ömür ve Ecel
D) Evrendeki Denge ve Düzen

10. Kur'an-ı Kerim'de, "Başınıza gelen herhangi musibet kendi ellerinizle işledikleriniz yüzündendir..." buyurulmaktadır.

Bu ayet dikkate alındığında aşağıdakilerden hangisi söylenebilir?

- A) İnsan sahip olduğu nimetlere şükretmelidir.
B) Allah, (c.c.) hiç kimseye gücünü aşan bir sorumluluk yüklemeyiz.
C) İnsanın başına gelen olumsuz durumlar, insanın kendi yaptıklarından dolayı yaşanır.
D) İnsan, hiçbir zorlama olmadan kendi iradesiyle karar verebilir.

11. Tevekkül, bir işi yaparken elinden gelen gayretini göstermekle birlikte kalben Allah'a (c.c.) bağlanıp ona güvenmek, sonucu O'ndan beklemektir.

Yukarıdaki bilgiler aşağıdaki sözlerden hangisi ile ilişkilendirilebilir?

- A) "Başa gelen çekilir."
B) "Kaderde ne varsa o olur."
C) "Çalışsan da boş, olmazsa olmaz."
D) "Tedbir kuldan, takdir Allah'tan."



2. DERECEDEKİ SORULAR

1. • Hangi gün doğacağı
• Hangi okula gideceği
• Hangi şehirde yaşayacağı
• Hangi anne ve babaya sahip olacağı

Yukarıda verilenlerden kaç tanesi, bireyin seçime dayalı davranışlarına örnek gösterilebilir?

- A) 1 B) 2 C) 3 D) 4

2. "Allah'ın izni olmadan hiçbir kişi ölmez. (ölüm) Belirli bir süreye göre yazılmıştır..."
Âl-i İmrân suresi, 145. ayet

Yukarıdaki ayette aşağıdakilerden hangisinin vurgulandığı söylenebilir?

- A) İnsanın yaptıklarından sorumlu tutulacağı
B) Allah'ın (c.c.) her şeyi bir ölçüye göre yaratığı
C) Hayatın ve ölümün Allah'ın (c.c.) elinde olduğu
D) İyi davranışta bulunanların insanlar tarafından sevineceği
3. İnsanlar tarafından genel olarak pek sevilme de kertenkeleler, topraktaki kurtlar ve böceklerle beslendiğinden tarımsal faaliyetler için oldukça faydalıdır.

Yukarıda verilen bu durum aşağıdakilerden hangisiyle doğrudan ilgilidir?

- A) Her canlı doğaya zarar verir.
B) Yalnızca insanoğlu doğal dengeyi korur.
C) Hiçbir varlık boş yere yaratılmamıştır.
D) Varlıkların birbiriyle ilişkisi zamanla bozulur.

4. ▲ "Dinde zorlama yoktur."
■ "Biz her şeyi bir ölçüye (bir düzene, plan göre yarattık."
● "Allah'ın izni olmadan hiçbir kişi ölmez..."
★ "Ölümsüz ve daima diri olan Allah'a güvenip dayan..."

Yukarıda sembolendirilerek verilen ayetlerden hangisi, insanın kendi iradesi ile karar vermesine örnek gösterilebilir?

- A) ▲ B) ■ C) ● D) ★

5. İnsan için sınırsız bir özgürlük yoktur. İnsan iradesinin bir sınırı vardır.

Bu bilgilerde aşağıdaki kavramlardan hangisinden söz edilmiştir?

- A) Cüzi irade B) Külli irade
C) Ömür D) Rızık

6. Ezelde bilinen ve takdir edilen şeyin, zamanı ve yeri geldiğinde Allah (c.c.) tarafından yaratılmasıdır.

Yukarıda açıklaması verilen kavrama aşağıdakilerden hangisi örnek gösterilemez?

- A) Arılar çiçek özlerinden bal yaptı.
B) İlkbahar ayında kiraz ağacı meyve verdi.
C) Deniz seviyesinde bulunan saf su 100 dereceye ulaşarak kaynadı.
D) Denizlerdeki tuz oranı deniz canlılarının hayatlarını sürdürebilmesi için gerekli olduğu kadardır.

7. "Ağılda oğlak doğunca derede otu biter."

Yukarıda verilen söz aşağıdaki kavramlardan hangisini örneklendirmek için kullanılır?

- A) Rızık B) Kaza
C) Kıyamet D) Ecel

8.

Kim kazanmazsa bu dünyada bir ekmek parası
Dostunun yüz karası, düşmanın maskarası

Mehmet Akif ERSOY

Mehmet Akif Ersoy'a ait bu dizelerde aşağıdaki kavramlardan hangisinin önemine dikkat çekilmiştir?

- A) Ömür B) Başarı
C) Sağlık D) Emek

9. Allah (c.c.), insana iyiyi kötüden, doğruyu yanlıştan ayırt etmesi için rehber olarak ilahi kitaplar ve peygamberler göndermiştir. Din seçiminde ise insanı hür bırakmıştır.

Bu bilgilere göre;

- İnsanların din seçme hürriyetinin olduğu,
- Allah'ın (c.c.) insanlara ilahi kitaplar ve peygamberler göndererek doğru yolu gösterdiği,
- İnsanın yerine getirdiği davranışlarda özgür olmadığı,
- Kötü tercih yapanların cezalandırılacağı

yargılarından kaç tanesine ulaşılabilir?

- A) 1 B) 2 C) 3 D) 4

10. "Zengin de olsanız fakir de olsanız, Sultan da olsanız derviş de olsanız sahip olduğunuz hiçbir şey ebedi olmayacaktır. Her şeyin bir sonu vardır."

Armağan Atabek, Sufi Öyküleri

Yukarıdaki ifadeleri içselleştiren bir Müslümanın aşağıdaki öğütlerden hangisini vermesi beklenemez?

- A) Bireyler yaptıklarından sorumlu olduğunu unutmamalıdır.
B) Allah'ın (c.c.) rızası doğrultusunda işler yapılmalıdır.
C) Maddi değerlere daha çok önem verilmelidir.
D) Başkalarının haklarını gaspetmemeye özen gösterilmelidir.

11.

"Kim doğru yolu seçerse bunu ancak kendi iyiliği için seçmiş olur, kim de doğruluktan saparsa kendi zararına sapmış olur. Hiçbir günahkâr, başkasının günah yükünü üstlenmez..."

İsrâ suresi, 15. ayet

Yukarıdaki ayette;

- I. İnsanın tercih özgürlüğünün olduğu,
II. İnsanın yalnızca kendi eylemlerinden sorumlu olduğu,
III. Doğru yolu seçenlerin günahlarının affedileceği

yargılarından hangisine ya da hangilerine değinilmiştir?

- A) Yalnız I B) I ve II
C) II ve III D) I, II ve III



2. DERECEDEKİ SORULAR

1.

"Sizden birbirinizin organını alıp (dağa giderek) bir bağ odun getirip satması... bir şey verip vermeyecekleri belli olmayan kimselerden dilenmesinden daha hayırlıdır."

Hz. Muhammed (s.a.v.)

Yukarıdaki hadis-i şerifte;

- I. Kişi rızkını çalışarak elde etmelidir.
- II. Kişi kazancını helal yollardan sağlamalıdır.
- III. Kişi rızkını başkalarından yardım alarak sağlamalıdır.

yargılarından hangilerinin vurgulandığı söylenebilir?

- A) I ve II B) I ve III
C) II ve III D) I, II ve III

2. "Evrenin kendine ait bir düzeni ve yasaları vardır. Hayatın her alanı yasalarla yönetilir. Hiçbir şey çevreye veya şansa bağlı değildir."

Jack Ensign Addington

Yukarıda verilen ifadeler ile ilgili;

- I. Evrendeki hiçbir şeyin tesadüfi olmadığı,
- II. Evrendeki yasaların yalnızca insan yaşamına dair olduğu,
- III. Evren ile içindeki varlıkların belli bir ölçü ve dengede olduğu

yargılarından hangisi ya da hangileri söylenebilir?

- A) Yalnız I B) I ve III
C) II ve III D) I, II ve III

3. Kur'an-ı Kerim'de insandan meyvelere, ağaçlara, canlılara bakıp ibret alması istenmiştir. Örneğin Yüce Allah (c.c.), tohumların meyvelerine dikkat etmemizi emretmiştir. Çünkü tohumun içindeki bilgiye, oluşturacağı ağacın şeklinin ve yapısının kodları gizlenmiştir. Ayrıca tohumun üreteceği meyvenin hangi nitelikte olacağını da Yüce Allah (c.c.) tohumda gizlemiştir.

Bu bilgilere bakılarak aşağıdakilerden hangisi söylenirse yanlış olur?

- A) Evrende Yüce Allah'ın (c.c.) belirlediği bir denge ve ölçülü bir yaratılış vardır.
B) İnsan, aklını kullanarak bitkilerden ve tohumlardan ibret almalıdır.
C) Yüce Allah (c.c.), hangi tohumun hangi meyveleri vereceğini önceden belirlemiştir.
D) Ekolojik dengenin bozulması, besinlerin özelliklerinin değişmesine neden olmuştur.

4.

"Onlar yeryüzünde gezip kendilerinden öncekilerin sonunun nasıl olduğuna bakmazlar mı?..."

Fâtır suresi , 44. ayet

Yukarıda verilen ayet dikkate alındığında;

- I. İnsanların daha önceki toplumların başına gelenler hakkında düşünmesi gerektiği,
- II. Allah'ın (c.c.) hoşnutluğunu kazanmak için ibadetleri aksatmadan yapmak gerektiği,
- III. İnsanların, geçmişte yaşayan insanlardan ibret alması gerektiği

yargılarından hangisine ya da hangilerine ulaşılabilir?

- A) Yalnız I B) Yalnız II
C) I ve III D) I, II ve III