




**AYT**

# COĞRAFYA

## Soru Bankası

- Konu Anlatım Videolu ✓
- Soru Çözüm Videolu ✓
- Mikro Konu Testleri ✓
- Ünite Uygulama Testleri ✓
- Akıllı Tahtaya Uyumlu ✓
- Soru Sayısı: 1103

Elif Merve Gezer



# İÇİNDEKİLER

<b>ÜNİTE 1</b>	<b>DOĞAL SİSTEMLER</b> .....	<b>7 - 28</b>
	<b>1. BÖLÜM: EKOSİSTEMLERİN ÖZELLİKLERİ VE İŞLEYİŞİ</b>	
	1. Mikro Konu: Biyoçeşitlilik .....	8
	2. Mikro Konu: Ekosistemlerin Unsurları, Enerji Akışı ve Madde Döngüleri .....	12
	3. Mikro Konu: Su Ekosistemlerinin İşleyişi .....	16
	<b>2. BÖLÜM: EKSTREM DOĞA OLAYLARI VE KÜRESEL İKLİM DEĞİŞİMİ</b>	
	4. Mikro Konu: Ekstrem Doğa Olayları .....	22
	5. Mikro Konu: Doğa ve Değişim ile Küresel İklim Değişimi .....	24
<b>ÜNİTE 2</b>	<b>BEŞERİ SİSTEMLER</b> .....	<b>29 - 108</b>
	<b>1. BÖLÜM: NÜFUS POLİTİKALARI</b>	
	6. Mikro Konu: Nüfus Politikaları ve Türkiye'nin Nüfus Projeksiyonları .....	30
	<b>2. BÖLÜM: YERLEŞMELERİN ÖZELLİKLERİ</b>	
	7. Mikro Konu: Şehirlerin Gelişimi, Fonksiyonları ve Etki Alanları .....	38
	8. Mikro Konu: Türkiye'de Yerleşmeler .....	41
	<b>3. BÖLÜM: EKONOMİK FAALİYETLER VE DOĞAL KAYNAKLAR</b>	
	9. Mikro Konu: Üretim, Dağıtım ve Tüketimi Etkileyen Faktörler .....	46
	10. Mikro Konu: Doğal Kaynaklar, Ekonomi ve Türkiye'de Doğal Kaynak - Ekonomi İlişkisi .....	49
	11. Mikro Konu: Geçmişten Geleceğe Şehir ve Ekonomi .....	54
	<b>4. BÖLÜM: TÜRKİYE'DE EKONOMİ</b>	
	12. Mikro Konu: Türkiye'nin Ekonomi Politikaları ve Türkiye Ekonomisinin Sektörel Dağılımı .....	62
	13. Mikro Konu: Türkiye'de Tarım .....	64
	14. Mikro Konu: Türkiye'de Ormanlık, Hayvancılık ve Balıkçılık .....	70
	15. Mikro Konu: Türkiye'de Madenler ve Enerji Kaynakları .....	74
	16. Mikro Konu: Türkiye'de Sanayi .....	80
	<b>5. BÖLÜM: TÜRKİYE'NİN İŞLEVSEL BÖLGELERİ VE KALKINMA PROJELERİ</b>	
	17. Mikro Konu: Türkiye'nin İşlevsel Bölgeleri ve Kalkınma Projeleri .....	86
	<b>6. BÖLÜM: TÜRKİYE'DE HİZMET SEKTÖRÜ</b>	
	18. Mikro Konu: Türkiye'de Ulaşım .....	92
	19. Mikro Konu: Türkiye'de Ticaret .....	95
	20. Mikro Konu: Türkiye'de Turizm .....	99

**ÜNİTE 3 KÜRESEL ORTAM: BÖLGELER VE ÜLKELER ..... 109 - 156**

**1. BÖLÜM: KÜLTÜR BÖLGELERİ**

21. Mikro Konu: İlk Kültür Merkezleri, Kültür Bölgelerinin Oluşumu ve Dağılışı..... 110  
22. Mikro Konu: Türk Kültürü ve Anadolu'nun Kültür Özellikleri ..... 114

**2. BÖLÜM: KÜRESELLEŞEN DÜNYA**

23. Mikro Konu: Uluslararası Ticaret..... 118  
24. Mikro Konu: Uluslararası Turizm..... 122  
25. Mikro Konu: Sanayileşme Süreci: Almanya ve Tarım - Ekonomi İlişkisi..... 125  
26. Mikro Konu: Uluslararası Örgütler..... 129

**3. BÖLÜM: JEOPOLİTİK KONUM**

27. Mikro Konu: Kıtaların, Okyanusların Önemindeki Değişimler ve Ülkelerin Konumunun  
Küresel - Bölgesel Etkileri ..... 136  
28. Mikro Konu: Türkiye'nin Jeopolitik Konumu ve Türk Kültürü Havzası ..... 139

**4. BÖLÜM: ÜLKELER ARASI ETKİLEŞİM**

29. Mikro Konu: Teknolojik Gelişmelerin Kültürel, Ekonomik  
Etkileri ve Ülkelerin Gelişmişlik Düzeyleri ..... 146  
30. Mikro Konu: Ülkelerin Bölgesel ve Küresel Ölçekte Doğal Kaynak  
Potansiyeli ve Çatışma Bölgeleri ..... 150

**ÜNİTE 4 ÇEVRE VE TOPLUM ..... 157 - 184**

**1. BÖLÜM: ÇEVRE SORUNLARI**

31. Mikro Konu: Çevre Sorunları ve Türleri..... 158  
32. Mikro Konu: Madenler ve Enerji Kaynaklarına Ait Kullanımın Çevresel Etkileri ..... 162  
33. Mikro Konu: Doğal Kaynak ve Arazi Kullanımının Çevresel Etkileri ..... 166  
34. Mikro Konu: Küresel Çevre Sorunları ..... 170  
35. Mikro Konu: Doğal Kaynakların Sürdürülebilir Kullanımı ..... 174

**2. BÖLÜM: ÇEVRE SORUNLARININ ÇÖZÜMÜNE YÖNELİK YAKLAŞIMLAR**

36. Mikro Konu: Doğal Çevrenin Sınırlılığı, Doğal Kaynakların Bilinçsiz Kullanımı ve  
Çevre Politikaları..... 180  
37. Mikro Konu: Ülkelerin Çevre Sorunlarına Yaklaşımları, Çevresel Örgütler ve  
Ortak Doğal - Kültürel Mirasın Korunması ..... 182

# ÜNİTE 1

## DOĞAL SİSTEMLER



### MİKRO KONULAR

#### 1. BÖLÜM: EKOSİSTEMLERİN ÖZELLİKLERİ VE İŞLEYİŞİ

1. Mikro Konu: Biyoçeşitlilik
2. Mikro Konu: Ekosistemlerin Unsurları, Enerji Akışı ve Madde Döngüleri
3. Mikro Konu: Su Ekosistemlerinin İşleyişi

#### 2. BÖLÜM: EKSTREM DOĞA OLAYLARI VE KÜRESEL İKLİM DEĞİŞİMİ

4. Mikro Konu: Ekstrem Doğa Olayları
5. Mikro Konu: Doğa ve Değişim ile Küresel İklim Değişimi



# TEST 1

## 1. MİKRO KONU: Biyoçeşitlilik

### 1. ÜNİTE: Doğal Sistemler (Ekosistemlerin Özellikleri ve İşleyişi)



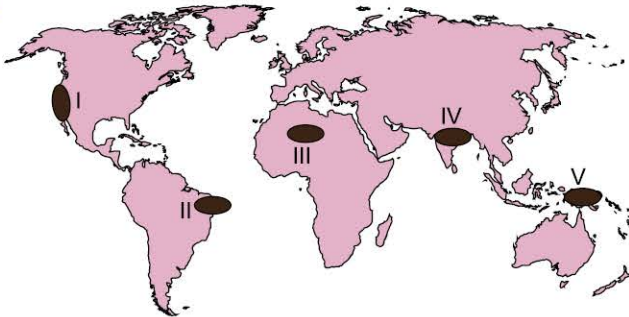
1. Aşağıda biyoçeşitliliği etkileyen unsurlarla ilgili bazı örnekler verilmiştir.

- Tropikal yağmur ormanları biyomundaki biyolojik çeşitliliğin çöl biyomuna göre çok daha fazla olması
- Kuzey Anadolu Dağları'nın güney yamaçları ile kuzey yamaçlarında bulunan bitki topluluklarının sıcaklık ve nem isteklerinin farklılık göstermesi
- Günümüzde bazı bitki ve hayvan türlerinin 50 yıl öncesine göre Kuzey Yarım Küre'den daha kuzeydeki bölgelerde varlık göstermesi

Belirtilen örnek durumların yaşanmasında etkili olan faktörler aşağıdakilerin hangisinde doğru verilmiştir?

	I	II	III
A) İklim		Yer şekilleri	Toprak
B) Yer şekilleri		İklim	Kıtaların kayması
C) Toprak		Su kaynakları	İnsan
D) İklim değişiklikleri		Toprak	Diğer canlılar
E) İklim		Yer şekilleri	İklim değişiklikleri

2.



İklim özellikleri göz önüne alındığında yukarıdaki harita üzerinde numaralanmış alanların hangisinde biyoçeşitliliğin daha az olması beklenir?

- A) I      B) II      C) III      D) IV      E) V

3. Tropikal yağmur ormanları dünyanın en zengin doğal yaşam alanıdır. Yeryüzündeki bitki ve hayvan türlerinin yaklaşık %50 - 70'ini bu ormanların barındırdığı tahmin edilmektedir.

**Buna göre, tropikal yağmur ormanlarının zengin biyoçeşitliliğe sahip olmasında;**

- nem ve yağışın yıl boyunca fazla olması,
- insan faaliyetlerinin kısıtlı olması,
- sıcaklık ortalamalarının yıl boyunca yüksek olması,
- laterit toprakların yaygın olması

**özelliklerinden hangilerinin etkisi daha fazladır?**

- A) I ve II      B) I ve III      C) II ve III  
D) II ve IV      E) III ve IV

4. Aşağıdaki tabloda bazı biyomlarda görülen başlıca hayvan türleri verilmiştir.

Biyom	Hayvan türleri
Savan	Zebra, zürafa, aslan, çita, deve kuşu, timsah, antilop
Çalı	Çakal, koyun, keçi, kurt, tilki, puma, kokarca, geyik, kuş türleri
İğne yapraklı orman	Vizon, vaşak, kunduz, geyik, ayı, tilki, su samuru, kar tavşanı, kurt, porsuk
Tundra	Ren geyiği, tilki, misk öküzü, boz ayı, kutup ayısı, palyaço ördek, karibu

Tablodaki bilgilere dayanılarak aşağıdaki yargılardan hangisine kesin olarak ulaşılabılır?

- Bütün biyomlardaki hayvan popülasyonu aynıdır.
- Çalı biyomunda yıllık yağış miktarı savan biyomundakinden fazladır.
- İğne yapraklı orman biyomu yalnızca yüksek yerlerde görülmektedir.
- Tundra biyomunda yaz mevsimi sıcak ve kurak geçer.
- Bazı hayvan türlerine farklı biyomlarda da rastlanabilmektedir.

5. Aşağıdaki canlı türlerinden hangileri soğuk bölgelere ait biyomlar içerisinde yer almaz?

- A) Ren geyiği      B) Fok balığı      C) Zebra  
D) Palyaço ördek      E) Karibu

1-E

2-C

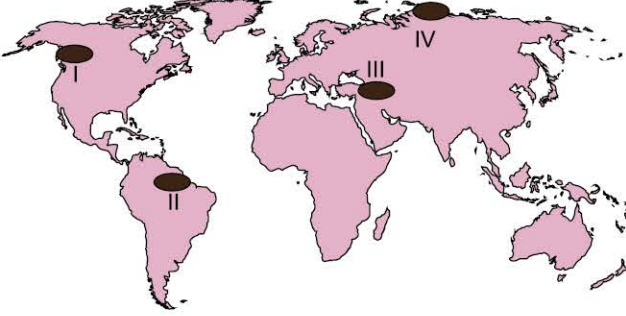
3-B

4-E

5-C



1. Biyoçeşitliliği etkileyen en önemli faktör yağış ve sıcaklık gibi iklim koşullarıdır. Genellikle yağış miktarının fazla ve sıcaklığın yüksek olduğu alanlarda biyoçeşitlilik fazla iken, yağışların az ve sıcaklığın düşük olduğu yerlerde biyoçeşitlilik azdır.



Buna göre, dünya haritası üzerinde numaralanmış alanların iklim özellikleri göz önüne alındığında biyoçeşitliliğin en fazla ve en az olduğu yerler aşağıdakilerin hangisinde doğru verilmiştir?

	En Fazla	En Az
A)	I	II
B)	II	III
C)	II	IV
D)	III	IV
E)	IV	II

2. Sıcaklık ve yağış özelliklerinin elverişli olduğu yerlerde biyoçeşitlilik fazla iken soğuk ve kurak şartların egemen olduğu yerlerde biyoçeşitlilik azdır.

Buna göre, aşağıda verilen alanların hangisinde biyoçeşitliliğin daha az olması beklenir?

- A) Orta Afrika  
B) Amazon Havzası  
C) Kuzey Batı Avrupa  
D) Orta Asya  
E) Güneydoğu Asya kıyıları

3. Tundra biyomu genel olarak 60° - 70° enlemleri arasındaki kalarlarda görülmektedir.

Buna göre, tundra biyomu alanlarında aşağıdaki canlı türlerinden hangisinin görülmesi beklenmez?

- A) Timsah  
B) Misk öküzü  
C) Palyaço ördek  
D) Ren geyiği  
E) Kutup tilkisi

4. Biyoçeşitliliği tehdit eden unsurların başında insan gelmektedir. İnsanların gerçekleştirdikleri çeşitli faaliyetlerle bazı canlı türlerinin yaşam alanlarını tahrip ve işgal etmektedir. Bu durum bazı canlı türlerinin neslinin tükenmesine neden olmaktadır.

Aşağıdaki beşerî faaliyetlerden hangisi sonucunda biyoçeşitliliğe verilen zararın daha az olduğu söylenebilir?

- A) Tarımsal ilaç ve gübre kullanımının  
B) Kömürle çalışan termik santrallerin kurulmasının  
C) Tarımsal faaliyetlerde nadas yönteminin kullanılmasının  
D) Bataklıkların kurutulmasıyla yerleşim alanına dönüştürülmesinin  
E) Kanal ve yol yapım çalışmalarının

5. Karasal biyomlar ile su biyomlarının sınıflandırılmasında göz önünde bulundurulacak temel özellikler aşağıdakilerin hangisinde doğru verilmiştir?

Karasal biyomlar	Su biyomları
A) Bitki toplulukları	Su özellikleri
B) Yükselti	Enlem
C) Dağların uzanışı	Su sıcaklığı
D) Hayvan çeşitleri	Su derinliği
E) Denizden uzaklık	Okyanus akıntıları

6. Genellikle 30° - 40° enlemleri arasında, Akdeniz ülkeleri, Kaliforniya, Afrika'da Kap Bölgesi, Güneybatı Avustralya'da görülür.
- Maki ve garig bitki toplulukları yaygındır. Zeytin, kermes meşesi, zakkum, kocayemiş önemli bitkilerdir.
  - Keçi, tavşan, çakal, kurt, tilki, puma, kokarca, böcek ve kuş türleri vardır.

Bazı özellikleri belirtilen biyom aşağıdakilerden hangisidir?

- A) Tropikal yağmur ormanları biyomu  
B) Savan biyomu  
C) Çalı biyomu  
D) Tundra biyomu  
E) İğne yapraklı ormanlar biyomu



## TEST 3

### 1. MİKRO KONU: Biyoçeşitlilik

#### 1. ÜNİTE: Doğal Sistemler (Ekosistemlerin Özellikleri ve İşleyişi)

1. I. Tayga ormanları  
II. Maki  
III. Bozkır

Belirtilen bitki topluluklarının yaygın olarak görüldüğü biyomlar aşağıdakilerin hangisinde doğru verilmiştir?

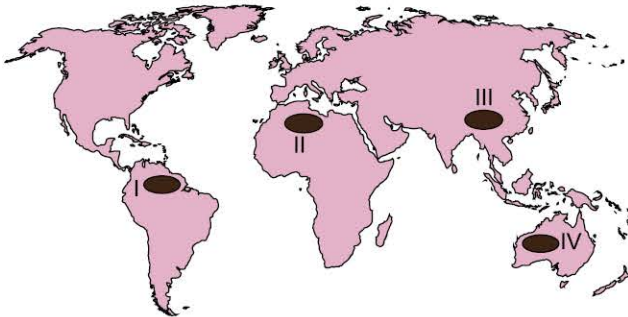
I	II	III
A) İğne yapraklı orman biyomu	Çalı biyomu	Ilıman çayır biyomu
B) Savan biyomu	Tundra biyomu	Çalı biyomu
C) Geniş yapraklı orman biyomu	Çöl biyomu	Kutup biyomu
D) Ekvatorial yağmur ormanları biyomu	Çöl biyomu	Ilıman çayır biyomu
E) Ilıman çayır biyomu	Çalı biyomu	İğne yapraklı orman biyomu

2. Tundra biyomu alanlarında sıcaklık ortalamaları oldukça düşüktür. Bu biyom alanlarında yılın 10 ayında sıcaklık genellikle 0°C'nin altındadır.

Buna göre, aşağıdaki hayvan türlerinden hangisinin tundra biyomu alanlarında görülmesi beklenmez?

- A) Ren geyiği  
B) Misk öküzü  
C) Palyaço ördek  
D) Yabani koyun  
E) Kutup tilkisi

3. Benzer bitki ve hayvan türlerinin görüldüğü alanlar aynı biyom içinde yer alır.



Buna göre, yukarıdaki haritada numaralanmış alanlardan hangilerinin aynı biyom içinde yer aldığı söylenebilir?

- A) I ve II  
B) I ve III  
C) II ve III  
D) II ve IV  
E) III ve IV

4. Aşağıdakilerden hangisi tatlı su biyomlarında görülebilecek canlı türlerinden biri değildir?

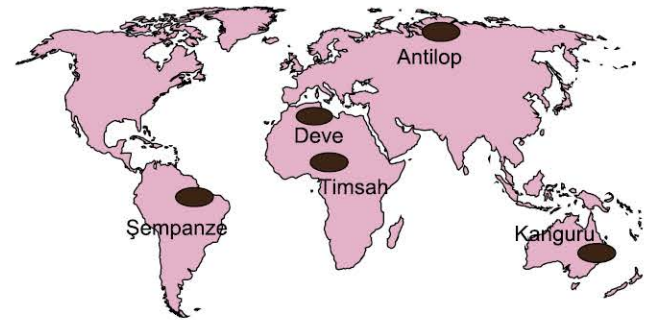
- A) Balina  
B) Nilüfer çiçeği  
C) Yengeç  
D) Su yılanı  
E) Yosun

5. Bitkilerin yaşama ve yayılma alanları birinci derece sıcaklık ve yağış koşullarına bağlıdır.

Buna göre, yıl boyunca sıcaklıkların 20°C'den fazla olduğu düzenli ve bol yağış alan bölgelerde aşağıdaki biyomlardan hangisi bulunur?

- A) Savan biyomu  
B) Tropikal yağmur ormanları biyomu  
C) Çalı biyomu  
D) Ilıman çayır biyomu  
E) Tundra biyomu

6. Aşağıdaki haritada beş ayrı hayvan türünün biyom alanları gösterilmiştir.



Buna göre, yaşam koşulları göz önüne alındığında bu hayvan türlerinden hangisinin biyom alanı yanlış verilmiştir?

- A) Deve  
B) Kanguru  
C) Antilop  
D) Timsah  
E) Şempanze

1-A

2-D

3-D

4-A

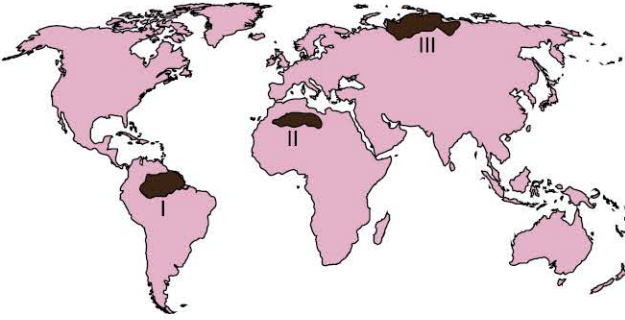
5-B

6-C



OD6001F1

1.



Harita üzerinde numaralanmış alanların dâhil olduğu biyom alanlarıyla ilgili aşağıdaki bilgilerden hangisi yanlıştır?

- A) I numaralı alanda görülen biyomun doğal bitki örtüsü tropikal yağmur ormanlarıdır.
- B) II numaralı alandaki biyomda deve, akrep, akbaba, fare ve yılan gibi hayvan türleri yaygın olarak görülür.
- C) III numaralı alanda tundra biyomu görülür.
- D) III numaralı alandaki biyomda palyaço ördek, ren geyiği ve kutup tilkisi gibi hayvan türleri görülür.
- E) II numaralı alanda ılıman çayır biyomu görülür.

2.

- Genellikle 10° - 20° enlemleri arasında yaygındır.
- Yaz yağışları ile yeşeren uzun boylu ot toplulukları ile seyrek olarak ağaçlar vardır.
- Zebra, zürafa, antilop ve vahşi köpek belirgin hayvan türleridir.

Bazı özellikleri verilen biyom türü aşağıdakilerden hangisidir?

- A) Çöl
- B) Çalı
- C) Savan
- D) Tundra
- E) Çayır

3. Aşağıdakilerden hangisi, canlıların yeryüzüne dağılışı ve yayılması üzerinde etkili olan faktörlerden biri değildir?

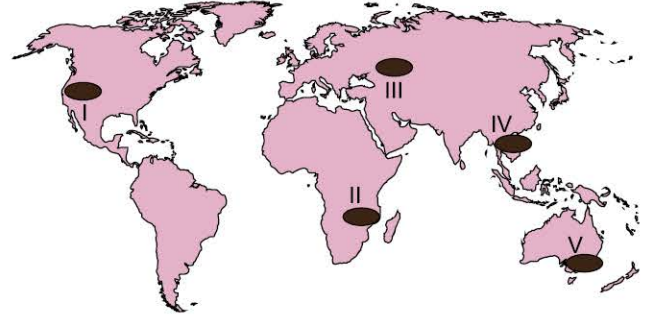
- A) Hint karasının hareket ederek Asya'nın güneyine eklenmesi
- B) Kıtalar arasında gerçekleşen insan göçleri
- C) Buzul dönemlerinden sonra iklimlerde görülen sıcaklık artışı
- D) Panama ve Süveyş kanallarının açılması
- E) Gece ve gündüzün birbirini takip etmesi

4. Aşağıdaki biyom alanlarından hangisinin biyoçeşitlilik açısından daha zengin olduğu söylenebilir?

- A) Çöl biyomu
- B) Tropikal yağmur ormanı biyomu
- C) Tundra biyomu
- D) Çalı biyomu
- E) İğne yapraklı orman biyomu

5.

- Yaz yağışlarıyla büyüyen uzun boylu ot toplulukları yaygındır.
- Zebra, zürafa, antilop, çita, aslan önemli hayvan türleridir.
- Yıllık sıcaklık farkı 10°C'yi geçmez.



Bazı özellikleri belirtilen biyom yukarıdaki harita üzerinde numaralanmış alanların hangisinde görülür?

- A) I
- B) II
- C) III
- D) IV
- E) V

6.

Aşağıdaki tabloda K ve L yörelerinde yaygın olarak görülen başlıca hayvan türleri verilmiştir.

Yöre	Hayvan Türleri
K	Ren geyiği, palyaço ördek, kar tavşanı
L	Böcek türleri, yılan, şempanze, kurbağa

Tablodaki bilgilere dayanılarak K ve L yörelerinin aşağıdaki özelliklerden hangisi bakımından farklı olduğu söylenemez?

- A) Yağışın mevsimlere dağılışı
- B) Sıcaklık ortalamaları
- C) Jeolojik yapı
- D) Doğal bitki örtüsü
- E) Toprak türleri

1-E

2-C

3-E

4-B

5-B

6-C





# TEST 1

## 14. MİKRO KONU: Türkiye'de Ormanlık, Hayvancılık ve Balıkçılık



### 2. ÜNİTE: Beşerî Sistemler (Türkiye'de Ekonomi)

1. Aşağıdaki tabloda çeşitli yıllarda Türkiye'deki bazı hayvan türlerinin sayılarını (milyon baş) gösterilmiştir.

Hayvan türleri	2001	2006	2011	2016
Sığır	10,6	10,9	12,4	14,2
Koyun	26,9	25,6	25,0	30,9
Keçi	6,9	6,6	7,2	10,3

**Yalnızca tablodaki bilgilere dayanılarak aşağıdaki yargılardan hangisine kesin olarak ulaşılabılır?**

- A) Sığırdan elde edilen gelirin en çok olduğu yıl 2006 yılıdır.  
B) Türkiye'deki toplam hayvan sayısı verilen yıllar arasında azalmıştır.  
C) Büyükbaş hayvanlardan elde edilen et ve süt verimi küçükbaş hayvancılıktan fazladır.  
D) 2001 - 2011 yılları arasında koyun sayısında yaşanan azalma tarımda makine kullanımının artmasına bağlıdır.  
E) Küçükbaş hayvanların sayısının toplamı büyükbaş hayvanlardan fazladır.

2. Türkiye'de hayvancılık faaliyetlerinden elde edilen verimin az olmasında aşağıdakilerden hangisinin etkisinden söz edilemez?

- A) Hayvan soylarının verimsiz olması  
B) Mera alanlarının sınırlı olması  
C) Orman alanlarının tarım arazilerine dönüştürülmesi  
D) Yem üretiminin az olması  
E) Erken kesimlerin fazla olması

3. Türkiye'de ormanların bölgelere göre dağılışı incelendiğinde; iç bölgelerde yüksek alanların alçaklara göre orman bakımından daha zengin olduğu görülür.

**İç bölgelerde belirtilen durumun yaşanması aşağıdakilerden hangisi ile daha çok ilgilidir?**

- A) Tarım ürünü çeşitliliğiyle  
B) Nemlilik ve buharlaşmayla  
C) Alçaklarda erozyonun şiddetli olmasıyla  
D) Alçak alanlarda yer altı sularının daha zengin olmasıyla  
E) Yükseklerde yaz yağışlarının az olmasıyla

- 4.



**Yukarıdaki haritada numaralandırılmış alanlarda yaygın olarak yetiştirilen hayvan türleri aşağıdakilerin hangisinde doğru verilmiştir?**

I	II	III
A) Keçi	Koyun	İpek böceği
B) Sığır	İpek böceği	Koyun
C) Sığır	Tiftik keçisi	Koyun
D) Keçi	Koyun	Sığır
E) Keçi	Sığır	Koyun

5. Türkiye'de ilkbahar ve yaz dönemlerinde yağışların bol düştüğü yıllarda hayvancılıktan elde edilen et ve süt miktarı artmakta, ilkbahar ve yazın kurak geçtiği yıllarda ise et ve süt miktarı azalmaktadır.

**Belirtilen durum, Türkiye'deki hayvancılık faaliyetleri ile ilgili aşağıdaki yargılardan hangisini doğrular?**

- A) Yazların kurak geçtiği yıllarda bulaşıcı hayvan hastalıkları yaygındır.  
B) Yazların kurak geçtiği yıllarda mandıracılık gelişme gösterir.  
C) Kuzu ve buzağı kesimleri arttıkça et ve süt miktarında artmaktadır.  
D) Yağışların çok olduğu yıllarda hayvan kesimleri azalır.  
E) Türkiye'de daha çok mera hayvancılığı yapılmaktadır.

6. Türkiye'de mandıracılık faaliyetleri özellikle Marmara ve İç Anadolu bölgelerinde gelişmiştir.

**Mandıracılığın belirtilen bölgelerde gelişmiş olmasında aşağıdakilerden hangisinin etkisi daha fazladır?**

- A) Doğal bitki örtüsü çeşitliliğinin fazla olması  
B) Otlak ve meraların fazla olması  
C) Elverişli iklim koşullarının bulunması  
D) Şehirsel alanların fazla olması  
E) Dokuma sanayisinin gelişmiş olması



1. Türkiye Avrupa'nın en önemli bal üreticileri arasında yer alır.

**Türkiye'de arıcılık faaliyetlerinin gelişmiş olmasında;**

- I. iklim çeşitliliğinin fazla olması,
  - II. bitki ve çiçek çeşitliliğinin fazla olması,
  - III. hastalık ve zararlılarla mücadelenin yetersizliği,
  - IV. arıcılık faaliyetlerinin geleneksel yöntemlerle yapılması
- faktörlerinden hangilerinin etkili olduğu söylenebilir?**

- A) I ve II                      B) I ve III                      C) II ve III  
D) II ve IV                      E) III ve IV

2. Türkiye'de doğal şartlar orman yetişmesine elverişli olmasına rağmen orman arazilerinin tahribi nedeniyle orman alanlarının oranı oldukça düşüktür.

**Türkiye'de orman alanlarının az olmasında aşağıdakilerden hangisinin etkisinden söz edilemez?**

- A) Anadolu'nun birçok savaş ve istilaya maruz kalması
- B) Sıklıkla orman yangınlarının yaşanması
- C) Ege ve Akdeniz bölgelerinde dağların kıyıya paralel uzanması
- D) Orman bölgelerinde keçi türü hayvanların otlatılması
- E) Orman arazilerinin tarım ve yerleşme amacıyla tahrip edilmesi

3. Türkiye'de özellikle 1990 yıllardan sonra ipek böcekçiliği faaliyetlerinde önemli bir gerileme yaşanmaya başlanmıştır.

**İpek böcekçiliği faaliyetlerinde yaşanan gerilemede aşağıdakilerden hangisinin etkisi daha fazla olmuştur?**

- A) İpek fiyatlarında düşüş yaşanması
- B) Suni ipek üretiminin artması
- C) İpekli kumaş tüketiminin azalması
- D) İpek böcekçiliği yapılan alanlarda salgın hastalıkların yaşanma riskinin yüksek olması
- E) İpek böcekçiliğinin yüksek maliyetli olması

4. Türkiye'de Doğu Anadolu Bölgesi büyükbaş hayvancılık faaliyetlerinin en yaygın olarak yapıldığı alanlardan biridir.

**Doğu Anadolu Bölgesi'nde büyükbaş hayvancılığın yaygın olmasında;**

- I. yaz mevsiminin nispeten yağışlı geçmesi,
- II. gür otlakların bulunması,
- III. nüfus yoğunluğunun az olması,
- IV. yer şekillerinin engebeli olması

**özelliklerinden hangilerinin etkisi daha fazladır?**

- A) I ve II                      B) I ve III                      C) II ve III  
D) II ve IV                      E) III ve IV

5. Türkiye'de otlak ve çayır alanlarının daralmasından dolayı hayvancılığın kırsal kesimdeki geçim kaynağı olarak önemi azalmaktadır.

**Türkiye'de hayvancılığın ülke ekonomisine katkısını ve kırsal kesimdeki nüfusun gelir kaynaklarından biri olarak önemini arttırmak için aşağıdakilerden hangisinin yapılması daha doğru olur?**

- A) Hayvan sayısının artırılması
- B) Nöbetleşe ekimin yaygınlaştırılması
- C) Ekili alanların bir kısmının otlak hâline getirilmesi
- D) Mandıracılık ve besiciliğin yaygınlaştırılması
- E) Hayvansal ürün ithalatının artırılması

6. Türkiye'de beslenen hayvan türleri bölgelere göre farklılık göstermektedir.

**Belirtilen durum üzerinde aşağıdakilerden hangisinin etkisi daha fazladır?**

- A) Tüketim talebinin bölgelere göre farklılık göstermesi
- B) Nüfus ve yerleşme özelliklerinin bölgelere göre farklılık göstermesi
- C) İklim özelliklerinin bölgelere göre farklılık göstermesi
- D) Sanayileşme özelliklerinin bölgelere göre farklılık göstermesi
- E) Kırsal alanlarda nüfus özelliklerinin bölgelere göre farklılık göstermesi



## TEST 3

1. Türkiye'deki hayvancılık faaliyetleri ile ilgili aşağıdaki bilgilerin hangisi yanlıştır?

- A) Tüketici nüfusun fazla olduğu yerlerde besi ve ahır hayvancılığı gelişmiştir.
- B) Kümes hayvancılığı ile bitki örtüsü arasındaki ilişki en azdır.
- C) İpek böcekçiliği faaliyetleri sanayinin geliştiği yerlerde daha yaygındır.
- D) Balıkçılık faaliyetlerinin en fazla geliştiği bölge Karadeniz Bölgesi'dir.
- E) Bitki örtüsünün bozkır olduğu yerlerde küçükbaş hayvancılık daha yaygındır.

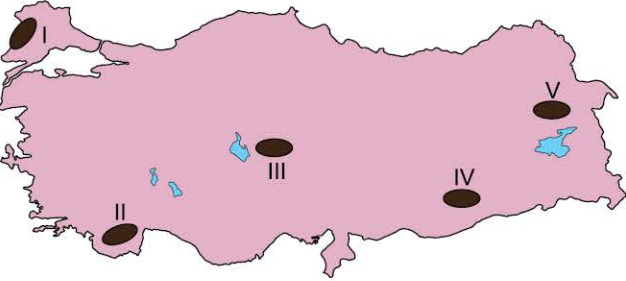
2. İç Anadolu Bölgesi'nde koyun yetiştiriciliğinin yaygın olmasında;

- I. doğal bitki örtüsünün bozkır olması,
- II. yeryüzü şekillerinin sade yapıda olması,
- III. nüfus yoğunluğunun az olması,
- IV. kuru tarım yönteminin yaygın olması

faktörlerinden hangileri etkili olmuştur?

- A) Yalnız I
- B) I ve III
- C) II ve III
- D) II ve IV
- E) III ve IV

3. Türkiye'de ormanların dağılışı iklim koşullarına bağlı olarak bölgelere göre farklılık gösterir. Genellikle nem ve yağışın fazla olduğu bölgeler orman varlığı bakımından daha zengindir.



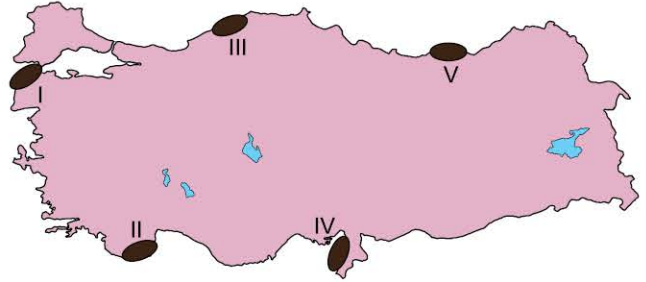
Buna göre, iklim özellikleri göz önüne alındığında yukarıdaki harita üzerinde numaralanmış alanlardan hangisinin orman varlığı bakımından daha zengin olduğu söylenebilir?

- A) I
- B) II
- C) III
- D) IV
- E) V

4. Aşağıdaki yörelerin hangisinde hayvancılığın yöre ekonomisindeki payı daha fazladır?

- A) Adana
- B) Bursa
- C) Kars
- D) Konya
- E) Kırklareli

5. Üç tarafı denizlerle çevrili olan Türkiye'de balıkçılık önemli ekonomik faaliyetlerden biridir. Ancak bu faaliyetlerin yaygınlığı ve ekonomideki etkinliği bölgelere göre farklılık göstermektedir.



Yukarıdaki harita üzerinde numaralanmış alanların hangisinde balıkçılık faaliyetlerin ekonomideki payı daha fazladır?

- A) I
- B) II
- C) III
- D) IV
- E) V

6. Türkiye'de yapılan;

- I. balıkçılık,
- II. arıcılık,
- III. kümes hayvancılığı,
- IV. besi hayvancılığı

faaliyetlerinden hangileri üzerinde iklim koşullarının etkisi daha azdır?

- A) I ve II
- B) I ve III
- C) II ve III
- D) II ve IV
- E) III ve IV



1. Akarsu, tatlı su gölleri ve baraj göllerinde yapılan balıkçılığa tatlı su balıkçılığı denir. Türkiye'de bulunan göller tatlı su balıkçılığının yapıldığı önemli alanlardandır.

**Türkiye'de yer alan aşağıdaki göllerden hangisi tatlı su balıkçılığının yapıldığı yerler arasında gösterilemez?**

- A) Eğirdir Gölü
- B) Beyşehir Gölü
- C) Çıldır Gölü
- D) İznik Gölü
- E) Tuz Gölü

2. Türkiye'de Doğu Karadeniz ve Erzurum - Kars bölümleri sığır yetiştiriciliğinin en yaygın olarak yapıldığı yerlerdir.

**Bu durum üzerinde bu bölümlerin aşağıdaki özelliklerinden hangisinin etkisi daha fazladır?**

- A) Çayır alanlarının geniş yer kaplaması
- B) Tarımsal üretimin az olması
- C) Yer şekillerinin engebeli olması
- D) Hayvancılıktan elde edilen gelirin fazla olması
- E) Pazarlama imkânlarının iyi olması

3. Türkiye'de arıcılık faaliyetlerinin yoğun olarak yapıldığı alanlar arasında aşağıdakilerden hangisi yer almaz?

- A) Hakkâri çevresi
- B) Konya çevresi
- C) Ordu çevresi
- D) Muğla çevresi
- E) Erzincan çevresi

4. Türkiye'de kümes hayvancılığı faaliyetleri nüfus yoğunluğunun fazla olduğu büyük kentler çevresinde yoğunlaşmıştır.

**Buna göre, Türkiye'de kümes hayvancılığının aşağıdaki alanların hangisinde gelişmesi beklenmez?**

- A) Erzincan
- B) Sakarya
- C) Bolu
- D) Bursa
- E) Balıkesir

- 5. I. Sığır
- II. Koyun
- III. Keçi
- IV. Manda

**Türkiye'de yukarıda verilen hayvan türlerinden hangilerinin sayısı daha fazladır?**

- A) I ve II
- B) I ve III
- C) II ve III
- D) II ve IV
- E) III ve IV

6. Türkiye'de hayvan sayısı çok olmasına rağmen verim çok düşüktür. Örneğin bir yerli inek yılda 150 - 500 kg süt verirken Hollanda ve Amerika'daki inekler 4000 - 5000 kg süt vermektedir.

**Türkiye'de hayvancılıktan elde edilen verimin artırılması amacıyla yapılabilecek çalışmalar arasında aşağıdakilerden hangisi yer almaz?**

- A) Hayvan soylarının ıslah edilmesi
- B) Modern yöntemlerle hayvancılık yapılması
- C) Yem üretiminin artırılması
- D) Mera hayvancılığının yaygınlaştırılması
- E) Üreticilere teşvik kredisinin sağlanması

7. Ormancılık faaliyetleri orman varlığı bakımından zengin alanlarda gelişmiştir.

**Buna göre, orman varlığı göz önüne alındığında;**

- I. Karadeniz,
- II. Marmara,
- III. İç Anadolu,
- IV. Güneydoğu Anadolu

**bölgelerinin hangilerinde ormancılık faaliyetlerinin daha fazla gelişme göstermesi beklenir?**

- A) I ve II
- B) I ve III
- C) II ve III
- D) II ve IV
- E) III ve IV



# TEST 1

## 30. MİKRO KONU: Ülkelerin Bölgesel ve Küresel Ölçekte Doğal Kaynak Potansiyeli ve Çatışma Bölgeleri



### 3. ÜNİTE: Küresel Ortam: Bölgeler ve Ülkeler (Ülkeler Arası Etkileşim)

1. Doğal kaynaklar ülkelerin ekonomik gelişiminde büyük rol oynayan unsurlardandır.

**Buna göre, doğal kaynak potansiyelleri göz önüne alındığında aşağıda verilen ülke ve ekonomik kalkınmasında önemli paya sahip olan doğal kaynak eşleştirmelerinden hangisi yanlıştır?**

Ülke	Doğal Kaynak
A) Rusya	Doğal gaz
B) Nijerya	Petrol
C) Fransa	Bor
D) Güney Afrika Cumhuriyeti	Altın
E) Almanya	Taş kömürü

2. I. Meksika  
II. Çin  
III. Suudi Arabistan  
IV. İran

**Yukarıda verilen ülkelerden hangilerinin ekonomik gelişiminde sahip oldukları petrol kaynaklarının etkisi daha fazladır?**

- A) I ve II  
B) I ve III  
C) II ve III  
D) II ve IV  
E) III ve IV

3. Aşağıdaki ülkelerden hangisi doğal gaz kaynakları bakımından zengin rezerve sahip ülkeler arasında yer almaz?

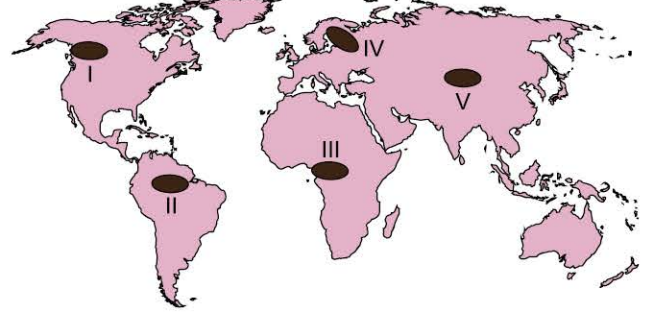
- A) Katar  
B) Türkmenistan  
C) İngiltere  
D) Rusya  
E) ABD

4. Ülkelerin kalkınmasında doğal kaynaklar büyük öneme sahiptir. Ancak doğal kaynaklar bakımından fakir olan bazı ülkeler doğal kaynak ihtiyaçlarını dış alım yoluyla karşılayarak kalkınmalarını sağlamaktadır.

**Aşağıdakilerden hangisi belirtilen özellikteki ülkelere örnek gösterilebilir?**

- A) Rusya  
B) Japonya  
C) Katar  
D) Almanya  
E) Suudi Arabistan

5. Bölgelerin orman kaynakları bakımından sahip oldukları zenginlik üzerinde iklim koşulları doğrudan etkilidir. Nemli iklim koşullarının etkili olduğu alanlar genellikle orman kaynakları bakımından zengin potansiyele sahiptir.



**Buna göre, yukarıdaki harita üzerinde numaralanmış alanlardan hangisi orman kaynakları bakımından zengin alanlar arasında yer almaz?**

- A) I  
B) II  
C) III  
D) IV  
E) V

6. Fosil yakıtların dünya üzerinde dengeli bir yayılış göstermesi ve tükenme noktasına gelmesi sanayileşmiş ülkelerin bu kaynaklara sahip gelişmekte olan ülkelere karşı siyasî ve ekonomik baskı kurmasına neden olmaktadır.

**Buna göre, aşağıdaki ülkelerden hangisinin sahip olduğu doğal kaynaklar nedeniyle sanayileşmiş ülkelerin etkisi altında olduğu söylenemez?**

- A) İran  
B) Nijerya  
C) Venezuela  
D) Moğolistan  
E) Irak

7. Bazı ülkeler ekonomik güçlüklerle boğuştuğu ve sahip olduğu doğal kaynakları işleyecek güce sahip olmadıkları için bu kaynakları ham madde olarak sanayileşmiş ülkelere satmak zorunda kalmaktadır.

**Aşağıdakilerden hangisi belirtilen özellikteki ülkelere örnek gösterilebilir?**

- A) Guyana  
B) Çin  
C) Rusya  
D) Japonya  
E) Kanada



## TEST 2

### 3. ÜNİTE: Küresel Ortam: Bölgeler ve Ülkeler (Ülkeler Arası Etkileşim)

1. Hindistan, Endonezya ve Çin'i deniz yoluyla birbirine bağlayan boğazdan günde ortalama 16 milyon varil petrol Japonya, Çin ve Asya Pasifik ülkelerine ulaşmaktadır. Enerji trafiğini etkileyecek çatışmalara sahne olmasa da yaşanan tanker kazalarının verdiği ekolojik zararlar büyük sorun teşkil etmektedir. Ayrıca boğazdan geçen gemilerin sık sık korsanların saldırılarına uğraması deniz trafiğini aksatmaktadır.

**Bazı özellikleri belirtilen su yolu aşağıdakilerden hangisidir?**

- A) Hürmüz Boğazı
- B) Malakka Boğazı
- C) Çanakkale Boğazı
- D) Bab'ül Mendep Boğazı
- E) Cebelitarık Boğazı

2. • 1956 - 1957 Kanal Krizi ve Altı Gün Savaşı gibi siyasî çatışmaların odağı olan su yolu Orta Doğu ve Mısır'daki politik sorunlara sahne olmaktadır.

- Akdeniz ile Kızıldeniz'i birbirine bağlar.
- Günlük ortalama 5,5 milyon varil petrol taşınmaktadır.

**Bazı özellikleri belirtilen su yolu aşağıdakilerden hangisidir?**

- A) Panama Kanalı
- B) Hürmüz Boğazı
- C) Kiel Kanalı
- D) Süveyş Kanalı
- E) İstanbul Boğazı

3. Hint Okyanusu ile Kızıldeniz'i birbirine bağlayan boğazdan günlük ortalama 5 milyon varil petrol Amerika ve Avrupa pazarına ulaşır. Boğazın Sudan, Somali, Etiyopya, Eritre ve Yemen gibi sıcak çatışma bölgeleri arasında yer alması güvenlik açısından sorun teşkil etmektedir.

**Enerji taşımacılığında önemli paya sahip olan bu boğaz aşağıdakilerden hangisidir?**

- A) Bab'ül Mendep Boğazı
- B) Macellan Boğazı
- C) Malakka Boğazı
- D) Hürmüz Boğazı
- E) İstanbul Boğazı

4. Karadeniz kıyısında yer alan ülkelerin deniz yolu ile gerçekleştirdikleri enerji ithalatı ve ihracatında aşağıdaki su yollarından hangisinin **daha büyük öneme sahip olduğu** söylenebilir?

- A) Panama Kanalı
- B) Süveyş Kanalı
- C) Kiel Kanalı
- D) Bering Boğazı
- E) İstanbul ve Çanakkale boğazları

5. Petrol kaynaklarının boru hatları ile taşınması hem ekonomik hem de politik boyutu olan sistemdir. Özellikle iki ya da daha çok ülkenin sınırlarından geçen ve geçmesi planlanan boru hatları ülkeler arası gerginliklere yol açabilmektedir.

**Boru hatları güzergâhlarının ülkeler arasında gerginliklere neden olmasında aşağıdakilerden hangisinin etkisi daha fazladır?**

- A) Boru hatlarının geçtikleri bölgelerde çevre sorunlarına neden olması
- B) Boru hatları ile enerji taşımacılığının yüksek risk oluşturması
- C) Boru hatları üzerinde yer alan ülkelerin stratejik öneminin artması
- D) Boru hatlarının yüksek maliyet oluşturması
- E) Boru hatlarının geçtiği alanlarda yerleşme ve tarımsal amaçlı arazi kullanımının sınırlandırılması

6. Petrol ve doğal gaz kaynaklarının bulunduğu Asya ve Orta Doğu ile bu kaynaklar için çok büyük bir pazar olan Avrupa Kıtası arasında köprü görevi gören Türkiye, doğu ile batı arasında bir enerji koridoru olma yolundadır.

**Buna göre, aşağıdakilerden hangisi Türkiye'nin enerji koridoru olmasını sağlayan enerji nakil hatları arasında gösterilemez?**

- A) Mavi Akım Doğal Gaz Boru Hattı
- B) Türk Akım Doğal Gaz Boru Hattı Projesi
- C) Trans Anadolu Doğal Gaz Boru Hattı Projesi
- D) Bakü - Tiflis - Ceyhan Petrol Boru Hattı
- E) Yeşil Akım Doğal Gaz Boru Hattı

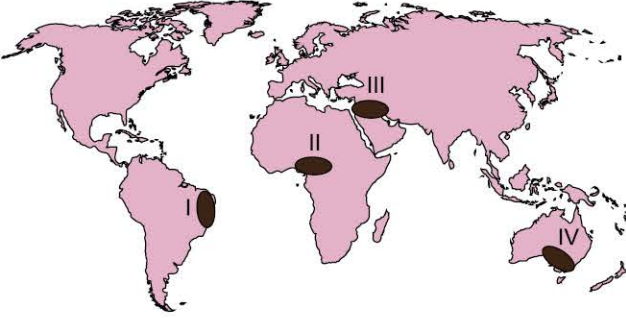


## TEST 3

### 30. MİKRO KONU: Ülkelerin Bölgesel ve Küresel Ölçekte Doğal Kaynak Potansiyeli ve Çatışma Bölgeleri

#### 3. ÜNİTE: Küresel Ortam: Bölgeler ve Ülkeler (Ülkeler Arası Etkileşim)

1. İnsanlık tarihi boyunca ülkeler ve topluluklar arasında yaşanan çatışmalar günümüzde de devam etmektedir.



Yukarıdaki harita üzerinde numaralanmış alanlardan hangileri günümüzde sıcak çatışmaların veya gerginliklerin yaşandığı yerlere örnek gösterilebilir?

- A) I ve II                      B) I ve III                      C) II ve III  
D) II ve IV                      E) III ve IV

2. Günümüzde çeşitli nedenlerle birçok bölgede ve ülkede çeşitli çatışmalar meydana gelmektedir.

**Ülkeler arasında ve ülke içinde yaşanan bu çatışmaların ortaya çıkmasında;**

- I. sınırlı doğal kaynakların paylaşımı,  
II. dinî ve etnik ayrılıklar,  
III. çevre sorunları,  
IV. iş gücünün paylaşımı

**alanlarından hangilerinde yaşanan anlaşmazlıkların etkisi daha fazladır?**

- A) I ve II                      B) I ve III                      C) II ve III  
D) II ve IV                      E) III ve IV

3. ABD, AB ve \_\_\_\_\_ ile Rusya arasında sürmekte olan bir uluslararası güç müdahalesine dönüşmüştür. Rusya'nın Avrupa'ya sattığı doğal gazın %80'lik kısmının \_\_\_\_\_ üzerinden taşınması krizin önemli nedenlerindedir. 2014 yılında Kırım'ın Rusya'ya bağlanması sorunu derinleştirmiştir.

**Parçada boş bırakılan yere aşağıdaki ülkelerden hangisi getirilirse verilen bilgi doğru olur?**

- A) Afganistan                      B) Ukrayna                      C) Venezuela  
D) Irak                                  E) Türkmenistan

4. Günümüzde sıcak çatışmaların yaşandığı ülkelerden biri de Orta Afrika ülkelerinden Nijerya'dır.

**Nijerya'nın çatışmaların merkezi olmasındaki temel neden aşağıdakilerden hangisidir?**

- A) Aden Körfez'ini elinde bulundurması  
B) Ticaret yollarının kavşak noktasında bulunması  
C) Zengin petrol yataklarının kontrol etmek isteyen güçler arasında anlaşmazlıkların yaşanması  
D) Ülkeler arası iklim değişimlerinden kaynaklı sorunların yaşanması  
E) Su kaynaklarının ülkeler arasındaki paylaşımına ilişkin anlaşmazlıkların yaşanması

5. • Orta Doğu'nun en büyük çatışma bölgelerinden biri olmuştur.  
• 1990'da Kuveyt'i işgal etmesi ve sonrasında Körfez Harekâtı, 2003 yılında ABD'nin işgali altına girmesi günümüze kadar devam eden çatışmaları beraberinde getirmiştir.

**Belirtilen özellikler aşağıdaki sıcak çatışma bölgelerinden hangisine aittir?**

- A) Ukrayna                      B) Yemen                      C) Suriye  
D) Irak                                  E) Nijerya

6. Yemen Krizi bazı ülkelerin bu soruna müdahil olması ile uluslararası bir sorun hâline gelmiştir.

**Olaya müdahil olarak Yemen krizinin uluslararası bir sorun hâline gelmesinde büyük paya sahip olan ülkeler aşağıdakilerin hangisinde doğru verilmiştir?**

- A) Suudi Arabistan ve İran  
B) Kuveyt ve Çin  
C) Birleşik Arap Emirlikleri ve Mısır  
D) Bahreyn ve Japonya  
E) İran ve Rusya



1. • Çin'in kuzeybatısında yer alır. Zengin doğal kaynaklara, tarıma elverişli toprakları ve coğrafi konumu itibarıyla jeopolitik bir öneme sahiptir.
- Çin bölgeye Han Çinlilerini sistematik olarak yerleştirip Uygur Türklerini asimile etmek istemiştir. Bu durum bölgeyi bir çatışma merkezi haline getirmiştir.

**Belirtilen durum aşağıdaki uluslararası sorunlardan hangisi ile ilgilidir?**

- A) Filistin - İsrail sorunu  
B) Azerbaycan - Ermenistan sorunu  
C) Doğu Türkistan sorunu  
D) Venezuela sorunu  
E) Nijerya sorunu

2. Kıyısında birçok turistik merkezin yer aldığı Ege Denizi bir taraftan insanların hoşça vakit geçirdiği bir yer iken diğer yandan binlerce mültecinin yaşamını yitirdiği bir zıtlıklar denizidir. Özellikle 2011 yılından sonra Ege Denizi'nde yaşanan mülteci ölümleri büyük oranda artmıştır.

**Buna göre, 2011 yılından sonra Ege Denizi'nde yaşanan mülteci ölümlerinin artmasında aşağıdaki olaylardan hangisinin etkisinin daha fazla olduğu söylenebilir?**

- A) Filistin - İsrail sorunu  
B) Yemen sorunu  
C) Azerbaycan - Ermenistan çatışması  
D) Irak sorunu  
E) Suriye Savaşı

3. I. Hazar ve Orta Asya petrolünün taşınması konusunda stratejik öneme sahip olması  
II. Farklı dönemlerde uluslararası güçlerin işgaline uğraması  
III. Ülkede sanayi faaliyetlerinin gelişmemiş olması  
IV. Su kaynakları bakımından fakir olması

**Afganistan'da iç karışıklıkların yaşanmasında yukarıda belirtilen faktörlerden hangileri etkili olmuştur?**

- A) I ve II  
B) I ve III  
C) II ve III  
D) II ve IV  
E) III ve IV

4. Yemen'de yaşanan sıcak çatışmaların **en önemli nedeni** aşağıdakilerden hangisidir?

- A) Önemli petrol rezervlerini elinde bulundurması  
B) Ülkede ekonomik sorunların yaşanması  
C) Aden Körfezi'nin kontrolünün bu bölgede olması  
D) Sınırlı su kaynaklarına sahip olması  
E) İnsan hak ve özgürlüklerinin sınırlandırılmış olması

5. I. Bakü - Tiflis - Ceyhan Doğal Gaz Boru Hattı  
II. Mavi Akım Doğal Gaz Boru Hattı  
III. Kerkük - Yumurtalık Petrol Boru Hattı  
IV. Soyuz Doğal Gaz Boru Hattı

**Yukarıda verilen boru hatlarından hangileri Türkiye sınırları içinden geçen boru hatları arasında yer almaz?**

- A) Yalnız IV  
B) I ve III  
C) II ve III  
D) II ve IV  
E) III ve IV

6. Yakın gelecekte nüfus yoğunluğunun fazla, su kaynaklarının kıt olduğu bölgelerde su kaynaklarının paylaşımı ve kullanımında bağlı olarak sıcak çatışmaların yaşanacağı yönünde tahminler yapılmaktadır.

**Belirtilen nedenlere bağlı olarak aşağıdaki bölgelerin hangisinde sıcak çatışmaların yaşanma riskinin daha yüksek olduğu söylenebilir?**

- A) Batı Avrupa  
B) Sibiryaya  
C) Güney Amerika  
D) Doğu Afrika  
E) Orta Afrika

7. Orta Doğu'da Filistin ile İsrail arasında yaşanan gerginlik ve çatışmanın temelde aşağıdakilerden hangisi ile ilgili olduğu söylenebilir?

- A) İki toplumun da farklı dinî inançlara sahip olması  
B) İsrail'in Filistin topraklarını işgal etmesi  
C) Petrol kaynaklarının paylaşımına ilişkin anlaşmazlık yaşanması  
D) Filistin'in İsrail'e yönelik terör saldırılarında bulunması  
E) Ülkeler arasında su kaynaklarının paylaşımına ilişkin anlaşmazlıkların yaşanması





# UYGULAMA TESTİ 1

## 3. ÜNİTE: Küresel Ortam: Bölgeler ve Ülkeler (Ülkeler Arası Etkileşim)

1. Doğal kaynaklar bakımından zengin potansiyele sahip bazı ülkeler, sahip oldukları teknolojik imkânlar sayesinde bu kaynaklarından yüksek derecede verim elde ederek hızla gelişmişlerdir.

**Buna göre;**

- I. Brezilya,
- II. Çin,
- III. Peru,
- IV. Kanada

**ülkelerinden hangileri belirtilen özellikteki ülkelere örnek gösterilebilir?**

- A) I ve II                      B) I ve III                      C) II ve III  
D) II ve IV                      E) III ve IV

2. Bazı ülkeler doğal kaynaklar bakımından fakir olmalarına rağmen sahip oldukları teknoloji ve sermaye birikim ile ihtiyaç duydukları doğal kaynakları dışardan temin etmiş ve kendi ülkelerinde bu kaynakları işleyip geliştirmişlerdir.

**Buna göre aşağıdakilerden hangisi belirtilen özellikteki ülkelere örnek gösterilebilir?**

- A) Kanada                      B) Japonya                      C) Rusya  
D) ABD                      E) Venezuela

3. Doğal kaynak ile ekonomik kalkınma arasındaki ilişki incelendiğinde ülkeler;

- I. doğal kaynaklar bakımından fakir ancak ham madde ihtiyacını dış alımla karşılayan sanayileşmiş ülkeler
  - II. doğal kaynaklar bakımından zengin ve bu kaynakları etkin şekilde kullanan sanayileşmiş ülkeler,
  - III. doğal kaynaklar bakımından zengin ve teknolojik altyapı bakımından fakir olan ülkeler,
- olmak üzere başlıca üç gruba ayrılır.

**Belirtilen özellikteki ülkeler aşağıdakilerin hangisinde doğru örneklendirilmiştir?**

- |    | I          | II     | III        |
|----|------------|--------|------------|
| A) | Japonya    | ABD    | Brezilya   |
| B) | Güney Kore | Kanada | Moğolistan |
| C) | Nijerya    | Çad    | Rusya      |
| D) | Rusya      | ABD    | Japonya    |
| E) | Guatemala  | Rusya  | ABD        |

4. Aşağıdakilerden hangisi yeryüzündeki sıcak çatışma veya gerilim bölgeleri arasında yer almaz?

- A) Afganistan                      B) Venezuela                      C) Yemen  
D) Angola                      E) Yunanistan

5. Aşağıdaki bölgelerden hangisinin dünya petrol üretimindeki payı daha yüksektir?

- A) Orta Doğu  
B) Kuzey Amerika  
C) Güneydoğu Asya  
D) Güney Avrupa  
E) Afrika

6. Dünya petrolerinin taşınmasında kullanılan güzergâhlar ekonomik ve stratejik öneme sahiptirler.

**Buna göre, aşağıdaki güzergâhlardan hangisinin enerji taşımacılığı açısından daha büyük önem taşımaktadır?**

- A) Süveyş Kanalı                      B) Panama Kanalı  
C) Malakka Boğazı                      D) Hürmüz Boğazı  
E) İstanbul Boğazı

7. 200 milyondan fazla insanın hayat kaynağı olan Nil Nehri, Mısır'la özdeşleşmiş durumdadır. Afrika'da 1960'lı yıllardan sonra bağımsız devletlerin ortaya çıkması, Mısır'ın bu ayrıcalığı için büyük bir tehdit oluşturmaktadır. Uzmanlar gelecekte su savaşlarının özellikle Nil Nehri'nin sularının paylaşımı nedeniyle olacağını belirtmektedir.

**Buna göre, Nil Nehri'nin sularının paylaşımı konusunda Mısır ile;**

- I. Kongo,
- II. Sudan,
- III. Etiyopya,
- IV. Nijerya

**ülkelerinden hangileri arasında sorunların yaşanması beklenmektedir?**

- A) I ve II                      B) I ve III                      C) II ve III  
D) II ve IV                      E) III ve IV



033B0F69

1. Tankerlerle üretici ve tüketici bölgeler arasında gerçekleşen petrol ve doğal gaz taşımacılığı teknik açıdan büyük farklılıklara sahiptir. Petrol nispeten düşük maliyetle deniz yolu ile taşınabilirken, doğal gazın önce sıvılaştırılması tüketilmeden önce ise gaz hâline getirilmesi gerekmektedir. Bu nedenle doğal gaz taşımacılığında boru hatları daha yaygın olarak kullanılmaktadır.

**Buna göre, doğal gazın taşınmasında boru hatlarının tercih edilmesinde aşağıdakilerden hangisinin etkisinin daha fazla olduğu söylenebilir?**

- A) Çevre kirliliğinin önlemek istenmesi  
B) Taşıma maliyetinin düşürülmek istenmesi  
C) Taşımanın daha güvenli gerçekleştirilmek istenmesi  
D) Taşıma esnasında oluşabilecek kazaların önlenmek istenmesi  
E) Daha hızlı taşımanın gerçekleştirilmek istenmesi

2. Azerbaycan ile Ermenistan arasında yaşanan gerginlik ve çatışmalarının temel nedeni aşağıdakilerden hangisidir?

- A) Azerbaycan toprağı olan Karabağ bölgesinin Ermenistan tarafından işgal edilmesi  
B) Önemli ulaşım yollarının kontrolü ile ilgili anlaşmazlıkların yaşanması  
C) İklim değişimlerinden kaynaklı sorunların yaşanması  
D) Ülkelerin farklı dinî inançlara sahip olması  
E) Su kaynaklarının paylaşımından kaynaklanan anlaşmazlıkların yaşanması

3. I. Macellan Boğazı  
II. Bering Boğazı  
III. Bab'ül Mendep Boğazı  
IV. Malakka Boğazı

**Uluslararası enerji taşımacılığında yukarıda belirtilen su yollarından hangilerinin payı daha yüksektir?**

- A) I ve II  
B) I ve III  
C) II ve III  
D) II ve IV  
E) III ve IV

4. Irak petrolünün Türkiye üzerinden dünya pazarlarına ulaştırılması amacıyla inşa edilmiş boru hattıdır. Irak petrolünü taşıyan iki paralel hattan oluşan bu boru hatlarından birincisinin uzunluğu 986, ikincisinin uzunluğu ise 890 km'dir. uzunluğundadır. 1990 Körfez Krizi nedeni ile kapatılan hatta 1997'de insani amaçlı kullanım izni verilmiştir.

**Bazı özellikleri belirtilen petrol boru hattı aşağıdakilerden hangisidir?**

- A) Bakü - Tiflis - Ceyhan Petrol Boru Hattı  
B) Druzba Petrol Boru Hattı  
C) Kerkük - Yumurtalık Petrol Boru Hattı  
D) CPC Petrol Boru Hattı  
E) Tengiz - Novorossisk Petrol Boru Hattı

5. Dünya genelinde su sıkıntısı çeken 26 ülkeden 14'ü Orta Doğu ülkesidir. Özellikle Türkiye'nin güneyinde bulunan Orta Doğu ülkeleri sıcak ve kurak iklim özellikleri nedeniyle su sıkıntısı çekmektedirler.

**Belirtilen durumun Orta Doğu bölgesinde aşağıdakilerden hangisinin yaşanmasına neden olduğu söylenebilir?**

- A) Mezhep sorunlarının yaşanmasına  
B) Terör sorunlarının yaşanmasına  
C) Dış güçlerin bölgeye müdahalesinin artmasına  
D) Su kaynaklarının paylaşımına ilişkin anlaşmazlıkların yaşanmasına  
E) Siyasal istikrarsızlıkların yaşanmasına

6. Hazar Havzası'nda Rusya ve İran dışında Azerbaycan, Kazakistan, Türkmenistan ve Hazar Denizi'ne kıyısı olmayan Özbekistan yer almaktadır. Petrol ve doğal gaz bakımından zengin olan bu devletler için boru hatları büyük önem taşımaktadır.

**Hazar havzasında yer alan ülkeler için boru hatlarının büyük öneme sahip olmasının ana nedeni aşağıdakilerden hangisidir?**

- A) Aralarında büyük bir dayanışma olması  
B) Türkiye ile iş birliği yapmak istemeleri  
C) Rusya ve İran'la anlaşmaları  
D) Tanker kazalarının çevre kirliliğine yol açması  
E) Açık denizlere kıyıların olmaması



## UYGULAMA TESTİ 3

### 3. ÜNİTE: Küresel Ortam: Bölgeler ve Ülkeler (Ülkeler Arası Etkileşim)

1. Bilgi teknolojilerinin hızlı gelişmesiyle bütün dünyayı saran bir iletişim ağı kurulmuştur. Bu küresel iletişim ağı; birçok alanda önemli değişimlerin yaşanmasına neden olmuştur.

**Belirtilen küresel iletişim ağının;**

- I. ülkeler arası ticari faaliyetlerin gelişmesi,
- II. pazar alanlarının daralması,
- III. kültürel etkileşimin artması,
- IV. ekonomik faaliyetlerdeki çeşitliliğin azalması

**durumlarından hangilerine neden olduğu söylenebilir?**

- A) I ve II                      B) I ve III                      C) II ve III  
D) II ve IV                      E) III ve IV

2. Afrika'da bulunan Botswana, zengin elmas madenlerine sahip bir ülke olmasına rağmen bu doğal kaynaklarının ekonomik karşılığını yeterince alamamaktadır.

**Botswana'nın sahip olduğu doğal kaynaklardan yeterli düzeyde yararlanamamasında aşağıdaki özelliklerinden hangisinin etkili olduğu söylenebilir?**

- A) Yeterli iş gücünün bulunmaması
- B) Ana pazar alanlarına uzak konumda bulunması
- C) İklim koşullarının elverişsiz olması
- D) Doğal kaynakları çıkarıp işleyebilecek teknolojinin yetersiz olması
- E) Ulaşım ağının gelişmemiş olması

3. Dünyadaki gelişmiş ve gelişmekte olan ülkeler arasında ekonomik ve sosyokültürel yönden birtakım farklılıkları vardır.

**Buna göre;**

- I. gelir dağılımının dengeli olması,
- II. nüfus artış hızının düşük olması,
- III. doğal nüfus artış hızının yüksek olması,
- IV. nitelikli iş gücünün az olması

**özelliklerinden hangileri gelişmiş ülkelerin özellikleri arasında yer alır?**

- A) I ve II                      B) I ve III                      C) II ve III  
D) II ve IV                      E) III ve IV

4. Ülkelerin gelişmişlik seviyelerinin belirlenmesinde pek çok kriter göz önünde bulundurulmaktadır.

**Aşağıdakilerden hangisi ülkelerin gelişmişlik düzeylerinin saptanmasında göz önünde bulundurulan kriterler arasında yer almaz?**

- A) İhracata konu olan ürünlerin ekonomik değeri
- B) Bebek ölüm oranı
- C) Sağlık hizmetlerinin yeterliliği
- D) Nüfus miktarı
- E) Şehirleşme oranı

5. Yeryüzündeki aşağıdaki sıcak çatışma bölgelerinden hangisinin Türkiye üzerindeki etkisi **daha azdır?**

- A) Afganistan                      B) Irak                      C) Suriye  
D) Filistin                      E) Nijerya

6. Doğal gaz kaynağına sahip olmayan sanayileşmiş Avrupa ülkeleri bu kaynaklar açısından zengin rezerve sahip bazı ülkelere bağımlıdır.

**Buna göre, Avrupa ülkelerinin doğal gaz kaynakları bakımından aşağıdaki ülkelerden hangisine olan bağımlılığının daha fazla olduğu söylenebilir?**

- A) Rusya Federasyonu
- B) Çin Halk Cumhuriyeti
- C) Amerika Birleşik Devletleri
- D) İngiltere
- E) Yunanistan

7. Enerji kaynaklarına sahip ülkeler ve bu kaynakları işleyen ülkeler küresel ölçekte jeostratejik açıdan önem kazanmaktadır.

**Aşağıdakilerden hangisi belirtilen özellikteki ülkelere örnek gösterilemez?**

- A) İran                      B) Azerbaycan                      C) Rusya  
D) Moğolistan                      E) Libya



# TEST 1

## 33. MİKRO KONU: Doğal Kaynak ve Arazi Kullanımının Çevresel Etkileri

### 4. ÜNİTE: Çevre ve Toplum (Çevre Sorunları)



06350CF8

1. Herhangi bir doğal kaynaktan faydalanma sırasında uygulanan yöntem ve kullanılan teknolojik imkânların çevre şartları ile uyumlu olması;

- doğal kaynakların sürdürülebilir kullanımı,
- doğal kaynak rezervlerinin artması,
- doğal kaynak kullanımının çevre üzerindeki olumsuz etkilerinin azalması

sonuçlarından hangilerine neden olur?

- A) Yalnız II                      B) I ve II                      C) I ve III  
D) II ve III                      E) I, II ve III

2. Ülkelerin arazi kullanımı ve bu kullanımdan elde edilen verim gelişmişlik düzeylerine göre farklılık gösterir.

Buna göre,

- Hollanda,
- Kazakistan,
- İsrail,
- Endonezya

ülkelerinin hangilerinde tarım toprakları sınırlı olduğu halde bu kaynaklardan en üst düzeyde yararlanılmaktadır?

- A) I ve II                      B) I ve III                      C) II ve III  
D) II ve IV                      E) III ve IV

3. Finlandiya yüz ölçümünün %75'i ormanlarla kaplıdır. Ülkenin en önemli doğal kaynaklarından biri olan ormanlardaki ağaçlar, ülkedeki iklim koşullarından dolayı yavaş gelişme göstermektedir. Ülkedeki ormanlar, dünya orman varlığına göre çok azdır. Ancak ülke dünya kâğıt, karton ve kereste üretiminde ilk sıralarda yer almaktadır.

Buna göre, Finlandiya'nın orman varlığının az olduğu halde ormanlarından çok gelir elde etmesinin temel nedeni aşağıdakilerden hangisidir?

- Ormanların tarım alanlarına dönüştürülmesi
- Doğal kaynak kullanım şekillerine özen göstermeleri
- Suni gübre ve kimyasal maddelerin kullanımı
- Orman yangınlarının önlenmesi
- Çevre planlamasına önem verilmesi

4. Asya'da 20. yüzyılın en büyük çevre sorunlarından biri yaşanmaktadır. Bu göl Kazakistan ile Özbekistan arasında yer almaktadır. Fakat Amu Derya ve Siri Derya nehirlerinin sulama kanalının yatağının değiştirilmesi sonucu göl kurumaya başlamış ve zamanla ilerleyerek 3/4'nü kaybetmiştir.

Buna göre, pamuk tarımı için beslenme kaynakları azaltılan ve günümüzde büyük ölçüde kurumuş olan göl aşağıdakilerden hangisidir?

- Aral Gölü
- Hazar Gölü
- Eber Gölü
- Amik Gölü
- Köyceğiz Gölü

5. Endonezya'daki yağmur ormanları birçok bitki ve hayvanın yaşam alanıdır. Bunun yanı sıra bu ormanlar küresel ısınma ile mücadelede de büyük önem taşımaktadır. Ancak günümüzde küresel şirketlerin çeşitli faaliyetleri nedeni ile bu alanlar yok olma tehlikesi altındadır.

Buna göre, Endonezya'daki yağmur ormanlarında yaşanan yok olma tehdidi üzerinde bu ormanlardan aşağıdakilerin hangisinin üretimi amacıyla yapılan tahribatın etkisi daha fazladır?

- A) Kahve                      B) Kakao                      C) Yem bitkileri  
D) Palm yağı                      E) Kereste

6. Ölü Deniz'in güneyinde Ürdün sınırı boyunca su kaynaklarının oldukça sınırlı olduğu Arava Çölü'nde kurduğu modern tarım çiftlikleri ile bölgeyi adeta vahaya çevirmiş durumdadır. 30 bin dönümlük alana kurulu 7 çiftlikte toplam meyve ve sebze ihracatının %66'sını gerçekleştirmektedir. Tarım faaliyetlerine uygun olmayan toprak ve iklim koşullarına rağmen geliştirilen yöntemler ile sadece üst kısmındaki 30 santimetrelik alanda ekim yapılabilmektedir. Bununla birlikte kurulan güneş panelleri sayesinde üretilen elektrik ile tuzlu sular arıtılarak tarımda kullanılabilir hale gelmiştir.

Parçada belirtilen Arava Çölü'nde kurduğu modern tarım çiftlikleri ile bölgeyi adeta vahaya çevirmiş olan ülke aşağıdakilerden hangisidir?

- A) Özbekistan                      B) Kazakistan                      C) Malezya  
D) Brezilya                      E) İsrail

1-C

2-B

3-B

4-A

5-D

6-E



06960F58

1. Endonezya orman varlığı bakımından zengin ülkelerden biridir. Ancak bir ülke orman varlığını etkili kullanmada birtakım sorunlar yaşamaktadır. Bunların başlıcaları;
- tarım alanları açmak için ormanların yok edilmesi,
  - yürürlükte olan kanunlara aykırı şekilde ağaç kesilmesi,
  - hayvanlara otlak açmak için ormanların tahrip edilmesi gibi sorunlardır.

**Buna göre, Endonezya'da yaşanan duruma benzer bir durum aşağıdaki ülkelerin hangisinde yaşanmaktadır?**

- A) İsveç                      B) Finlandiya                      C) Hollanda  
D) Brezilya                      E) İsrail

2. I. Atmosferdeki karbondioksit oranının artması  
II. Asit yağmurlarının oluşması  
III. Ozon tabakasının seyrelmesi  
IV. Atmosferdeki oksijen miktarının azalması  
**Yukarıda verilenlerden hangileri ormanların yok edilmesi sonucu ortaya çıkan çevre sorunları arasında yer almaz?**

- A) I ve II                      B) I ve III                      C) II ve III  
D) II ve IV                      E) III ve IV

3. Türkiye'de yapılan aşağıdaki çalışmalardan hangisi doğru arazi kullanımına örnek gösterilebilir?

- A) Tuz Gölü'nün kuruması  
B) Karadeniz sahil yolunun yapılması  
C) Havzasında tarihî yapıların bulunduğu akarsular üzerine hidroelektrik santrallerinin inşa edilmesi  
D) Avrasya tünelinin yapılması  
E) GAP sonrasında Güneydoğu Anadolu Bölgesi'ndeki ovaların tarımsal amaçlı kullanılması

4. Aşağıdakilerden hangisi Türkiye'de orman işletmeciliği bakımından yaşanan sorunlar arasında yer almaz?

- A) Kasıtlı çıkarılan orman yangınlarının önlenememesi  
B) Ormanların niteliğinin iyileştirilmesi  
C) Orman köylerine sağlanan kalkınma desteğinin yetersizliği  
D) Ormanların korunması için gerekli eğitimlerin yetersizliği  
E) Kaçak ağaç kesimlerinin yaşanması

5. 1968'de alınan karar sonucunda gölün suları, açılan dört drenaj kanalı ile Asi Nehri'ne boşaltılmıştır. Böylece göl tabanı tarım alanına dönüştürülmüştür. Tarım yapılmaya başlayan göl tabanı çevresine göre altı metre daha alçakta bulunmaktadır. Bu nedenle yağışlı dönemlerde bu çanağa dolan su drenaj kanallarının tıkanması sonucunda tarım alanlarını sular altında bırakmaktadır. Bu durum hem ekolojik dengenin bozulmasına hem de tarım alanlarının sıkla zarar görmesine neden olmaktadır.

**Parçada belirtilen şekilde kurutulan ve zaman zaman sular altında kalan göl aşağıdakilerden hangisidir?**

- A) Aral Gölü                      B) Hazar Gölü  
C) Eber Gölü                      D) Amik Gölü  
E) Salda Gölü

6. Türkiye son yıllarda geliştirdiği projeler sayesinde mevcut doğal kaynakların sürdürülebilir şekilde kullanabilmektedir.

- I. Meriç Nehri üzerinde meydana gelen taşkınların önlenmesi amaçlanmaktadır. Yaşanan taşkınlarla Türkiye Yunanistan arasında bulunan Pazarkule sınır kapısı ile bağlantı kesilmekte, tarihi eserlerin yanı sıra Karaağaç mahallesindeki tarım alanları ve meskenler sular altında kalmaktaydı. 2018'de büyük kısmı tamamlanan proje kapsamında Karaağaç mevkinde taşkınlardan korumak için yapılan kanal ile nehir sularının bir kısmı kontrol altına alınmıştır. Böylece tarım alanları taşkınlardan korunarak bölgede yaşayan insanların can ve mal güvenliği sağlanmıştır.
- II. Bölgedeki yer altı sularının aşırı kullanımı sonucu tarım alanları çoraklaşmakta ve yer altındaki boşlukların üstünde bulunan toprağın çökmesiyle obruklar oluşmaktadır. Bu çevre sorunun önlenmesi için hazırlanan proje kapsamında Göksu Nehri'nin bir kısmı ovaya aktarılmış olacaktır. Bu proje ile ova yer altı sularıyla beslenecek ve sulama suyu temin edilecektir. Bölgedeki yerleşmelerin ihtiyacı olan içme kullanma ve sanayide kullanılacak su da temin edilmiş olacaktır.

**Buna göre, belirtilen projeler aşağıdakilerden hangisinde doğru olarak verilmiştir?**

- |    | I                      | II                     |
|----|------------------------|------------------------|
| A) | Kanal Edirne Projesi   | Konya Ovası Projesi    |
| B) | Konya Ovası Projesi    | Kanal Edirne Projesi   |
| C) | ZBK Projesi            | Konya Ovası Projesi    |
| D) | Kanal İstanbul Projesi | ZBK Projesi            |
| E) | Kanal Edirne Projesi   | Kanal İstanbul Projesi |



1. Aşağıdakilerden hangisi arazi planlamasında dikkat edilmesi gereken faktörler arasında yer almaz?

- A) Jeolojik yapı  
B) Bitki örtüsü  
C) İklim koşulları  
D) Tarihî yapı  
E) Halkın eğitimi düzeyi

2. Aşağıdakilerden hangisi yanlış arazi kullanımının başlıca nedenleri arasında yer almaktadır?

- A) Sıklıkla ekonomik krizlerin yaşanması  
B) Biyoçeşitlilikle ilgili araştırmaların yetersiz olması  
C) Arazi planlamasının yapılmaması  
D) Toprak özelliklerinin incelenmesi  
E) Su kaynaklarının tespit edilmesi

3. I. Dil ovasında sanayi kuruluşlarının yoğun olması  
II. Afyonkarahisar'da organize sanayi bölgelerinin şehrin en çok rüzgâr aldığı alana kurulması  
III. Antalya'daki Avlan Gölü'nün kurutulması  
IV. Silifke Deltası'nın tarım amaçlı kullanılması  
Yukarıdakilerden hangileri yanlış arazi kullanımına örnek oluşturmaz?

- A) Yalnız IV  
B) I ve III  
C) II ve III  
D) II ve IV  
E) III ve IV

4. Yanlış arazi kullanımı ülkelerin gelişmişlik düzeyine göre farklılık gösterir.  
Aşağıdaki ülkelerin hangisinde yanlış arazi kullanımından kaynaklanan çevre sorunlarının daha fazla yaşanması beklenir?

- A) Hollanda  
B) Japonya  
C) Kanada  
D) Avustralya  
E) Türkiye

5. Afyonkarahisar'daki tarım alanlarında daha çok tahıl yetiştirilmektedir. Devlet denetiminde üretilen haşhaş ve şeker pancarı burada yetiştirilen başlıca tarım ürünleri arasında yer almaktadır. Bu ürünlerden elde edilen gelir düşüktür. Bu durum tarım arazilerinin amaç dışı kullanımını artırmaktadır.

Belirtilen durum aşağıdakilerden hangisine örnek oluşturmaktadır?

- A) Çevre planlamasına  
B) Arazi planlamasına  
C) Doğal kaynakların yanlış kullanımına  
D) İklim değişimine  
E) Küresel çevre sorunlarına

6. Son yıllarda Türkiye'deki büyük kentlerde sel ve taşkın olaylarında belirgin bir artış gözlenmektedir.

Bu durumun yaşanmasında aşağıdakilerden hangisinin etkisi daha fazladır?

- A) Yerleşme alanlarının genişlemesi  
B) Sanayi tesislerinin kent dışına taşınması  
C) İçme ve kullanma suyu elde etmek amacı ile baraj ve göletlerin oluşturulması  
D) Tarımsal amaçlı arazi kullanımının artması  
E) Maden ocaklarının işletilmesi

7. Hatay'daki Amik Gölü, 1968'de başlatılan ve altı yıl boyunca süren ıslah çalışmaları sonucunda kurutulmuş tarım arazilerine dönüştürülmüştür.

Belirtilen durumun yörede;

- I. sel olaylarının daha sıklıkla yaşanması,  
II. tarımsal üretimin azalması,  
III. iklim koşullarında bazı değişimlerin yaşanması

sonuçlarından hangilerine neden olduğu söylenebilir?

- A) Yalnız I  
B) Yalnız II  
C) I ve II  
D) I ve III  
E) II ve III