

TYT

MASTER

SOSYAL BİLİMLER DENEMLERİ

15 ADET

15x20

TYT Sınavına Tamamen Uygundur

Tamamı Çözüm Videolu

Sitki ÇELİK - Adem ÇELİKSOY - Mesut ERDEMİR - Süleyman BARAN



DENEME - 1

DENEME ANALİZ TABLOSU

Tarih

Doğru | Yanlış

1	Tarihe Yardımcı Bilim Dalları		
2	Orta Asya Kültürü		
3	Türklerin İslamiyet'i Kabulü ve İlk Türk İslam Devletleri		
4	Uluslararası İlişkilerde Denge Stratejisi (1774 - 1914)		
5	İzmir'in İşgali, Kuway-ı Milliye Hareketi		

Felsefe

Doğru | Yanlış

11	Kümülatif olmak		
12	Tümevarım		
13	Thales		
14	Sokrates		
15	Determinizm		

Coğrafya

Doğru | Yanlış

6	Dünya'nın Şekli ve Sonuçları		
7	Coğrafyanın Konusu ve Bölümleri		
8	Türkiye'de Görülen İklim Tipleri		
9	Doğal, Beşerî ve Ekonomik Özelliklere Göre Bölgeler		
10	Doğal Afetler		

Din Kültürü ve Ahlak Bilgisi

Doğru | Yanlış

16	Allah'ın Varlığı ve Birliği		
17	Din ve Ekonomi		
18	İslamda Bilgi Kaynakları		
19	İslam Ahlakında Yerilen Bazı Davranışlar		
20	İman ve İslam İlişkisi		

DOĞRU |

YANLIŞ |

NET |

1. Bu testte 20 soru vardır.

2. Bu testte sırasıyla; Tarih (1 - 5), Coğrafya (6 - 10), Felsefe (11 - 15), Din Kültürü ve Ahlak Bilgisi (16 - 20) dersleri vardır.



1.

I.	Osmanlı Devleti arması	a.	Diplomasi
II.	Orhun Abideleri	b.	Nümizmatik
III.	Orta Asya Türk Bozkır Kültürü	c.	Epigrafi
IV.	Roma altın parası	d.	Arkeoloji
V.	Çatalhöyük kazı alanında bulunan çömlek	e.	Heraldik
IV.	1672 Bucaş Antlaşması	f.	Etnografya

Tabloda verilen tarihî kaynaklar ve onları inceleyen bilim dalı eşleştirmeleri, aşağıdakilerden hangisinde doğru olarak sıralanmıştır?

- A) I - e, II - c, III - a, IV - b, V - d, VI - f
 B) I - e, II - d, III - f, IV - b, V - c, VI - a
 C) I - f, II - c, III - e, IV - b, V - d, VI - a
 D) I - e, II - c, III - f, IV - d, V - b, VI - a
 E) I - e, II - c, III - f, IV - b, V - d, VI - a

2. Yerleşik toplumlar konargöçerlerle giriştikleri askerî mücadelelerde pek etkili olamamışlardır. Konargöçerlere karşı genellikle savunma yapmışlar, sınırlı mücadele yöntemlerine başvurmuşlardır.

Aşağıdakilerden hangisinin sözü edilen mücadele tarzlarından biri olduğu söylenemez?

- A) Konargöçerleri birbirlerine karşı kışkırtmak
 B) Barışçıl yollarla sınır hatlarında federe bölgeler vermek
 C) Stratejik noktalara kaleler yapmak
 D) Meydan savaşlarına girişmek
 E) Atlıların saldırılarına karşı koruyucu hatlar inşa etmek

3. Emeviler Dönemi'nde Türklerle Araplar arasında şiddetli çarpışmalar yaşanmıştır. Emevilere karşı Hazarlar Kafkasya'da, Türgişler Maveraünnehir'de Türk dünyasını savunan topluluklar olmuştur. Emeviler Arap milliyetçiliği ve mevali uygulamaları ile öne çıkmıştır.

Bu durumların aşağıdakilerden hangisini yavaşlattığı savunulabilir?

- A) İslam medeniyetinin Batı'ya doğru genişlemesini
 B) Konargöçer Türklerin yerleşik hayata geçmesini
 C) Türkler arasında İslamiyet'in yayılmasını
 D) Bizans ve Fars kültürü ile etkileşime geçilmesini
 E) Arap Yarımadası'nda siyasi birliğin sağlanmasını

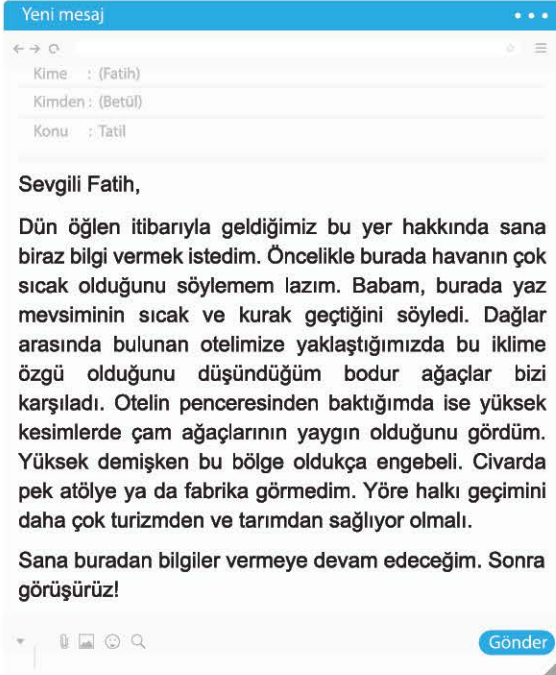
4. Kırım, 1774 Küçük Kaynarca Antlaşması ile birlikte bağımsız hâle gelmiştir. Rusya, Şahin Giray'ın Kırım'ın yeni Hanı olmasını sağlamış, bunun üzerine Osmanlı Devleti savaş hazırlıklarına başlamıştır. İki devlet arasında bu gelişme sonucunda Aynalıkavak Tenkihnamesi hazırlanmıştır (1779). Tenkihname'ye göre;

- Rusya Kırım'dan askerini çekecek,
- Osmanlı Devleti Şahin Giray'ın hanlığını onaylayacaktır.

Verilen bilgilere göre aşağıdaki yargılardan hangisine ulaşılamaz?

- A) Osmanlı Devleti Kırım meselesini oldukça önemsemiştir.
 B) Kırım, Rusya tarafından ilhak edilmiştir.
 C) Rusya, Kırım'ın iç işlerine karışmıştır.
 D) İki devlet arasındaki anlaşmazlık sona erdirilmek istenmiştir.
 E) Rusya, Kırım'ı kendi güdümüne almıştır.

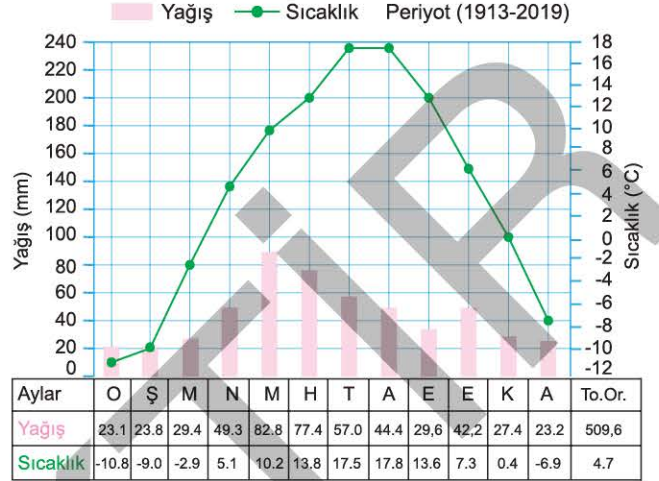
7. Betül, arkadaşı Fatih'e tatilinin ikinci günü aşağıdaki maili atmıştır.



Buna göre, Betül tatil için gittiği bu bölgenin özelliklerini belirlerken aşağıdaki coğrafya alt dallarının hangisinden yararlanmamıştır?

- A) Ekonomik coğrafya
B) Klimatoloji
C) Hidroğrafya
D) Bitki coğrafyası
E) Jeomorfoloji

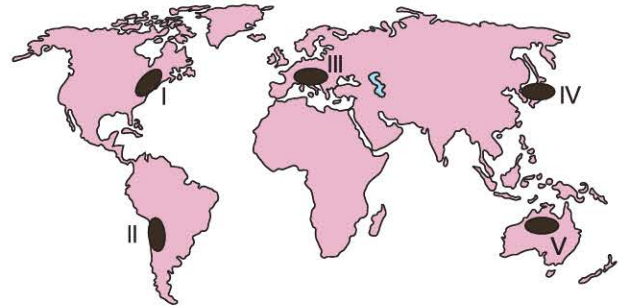
8. Aşağıda, Türkiye'de bir il merkezine ait yıllık ortalama yağış ve sıcaklık grafiği verilmiştir.



Grafikteki bilgiler dikkate alındığında bu il merkezinin aşağıdakilerden hangisi olduğu söylenebilir?

- A) Eskişehir
B) Kars
C) Bursa
D) Muğla
E) Gaziantep

9. Aşağıdaki haritada bazı alanlar numaralandırılarak gösterilmiştir.



Bu alanlardan hangisi dağlık veya sanayi bölgeleri arasında yer almaz?

- A) I
B) II
C) III
D) IV
E) V

10. I. Batı Karadeniz'de 11 Ağustos 2021'de başlayan aşırı yağışlar sonucunda Bartın, Kastamonu ve Sinop'ta meydana gelen sele bağlı olarak 70'ten fazla kişinin hayatını kaybetmesi
- II. Haziran 2019'da Avustralya'da ülke genelinde artan yüksek sıcak hava ve aylarca süren kuraklık nedeniyle 28 kişinin ve 1,1 milyardan fazla hayvanın yaşamını yitirmesi
- III. 30 Ekim 2020'de İzmir'in Seferihisar ilçesi açıklarında meydana gelen 6,9 büyüklüğündeki depremde 117 kişinin hayatını kaybetmesi
- IV. Çin'in Wuhan kentinde ortaya çıkan ve tüm dünyayı etkileyen Covid-19 salgını sonucu yaklaşık 4,5 milyondan fazla insanın yaşamını yitirmesi

Farklı zamanlarda meydana gelen yukarıdaki doğal afetlerden hangilerinin oluşumunda iklimin etkisinden söz edilemez?

- A) I ve II B) I ve III C) II ve III
D) II ve IV E) III ve IV

11. "Felsefi sistemler arasında bir takım düşünsel ilişkiler olduğu ve onların birbirlerinin ortaya çıkışlarını etkiledikleri varsayımını kabul ediyoruz. Buna paralel olarak bir felsefi düşünceyi veya öğretiyi, ondan önce gelen felsefi düşünce veya öğreti ile açıklamanın en makul yol olduğuna inandığımız gibi, bu açıklamanın diğer insani - kültürel faaliyet alanlarından gelen etkilerin mutlak olarak göz önüne alınmaksızın yapılabilmesinin mümkün olduğuna inanıyoruz." **diyen bir düşünürü göre aşağıdakilerden hangisi doğrudur?**

- A) Felsefi düşünce irdeleyicidir.
B) Felsefi düşünce akılcıdır.
C) Felsefi düşünce yöntemlidir.
D) Felsefi düşünce kümülatiftir.
E) Felsefi düşünce sistemlidir.

12. I. Gördüğüm birinci kuğu beyazdı.
Gördüğüm ikinci kuğu beyazdı.
Gördüğüm üçüncü kuğu beyazdı.
O halde bütün kuğular beyazdır.
- II. Her filozof akılcıdır.
Aristoteles bir filozoftur.
O halde Aristoteles akılcıdır.
- III. Mustafa Bey namuslu ve zeki bir kişidir.
Mesut Bey'de namuslu bir kişidir.
O halde Mesut Bey de zekidir.
- IV. Bütün öğrenciler öğrenim harcı öder.
Eda öğrencidir.
Eda da öğrenim harcı öder.
- V. Bütün gezegenlerin atmosferi vardır ve üzerlerinde canlılar yaşar.
Merih'te de atmosfer vardır.
O halde Merih'te de canlılar yaşamaktadır.

Yukarıda verilen akıl yürütme örneklerinden hangisi "tümevarıma" örnek olarak verilebilir?

- A) Yalnız I B) Yalnız II C) II ve III
D) III ve IV E) IV ve V

15. Spinoza'ya göre, ister doğa ve evren, ister Tanrı diyelim, biz onda var olan nedenselliklerle belirlenmiş durumdayız. İnsanın haricî nedenlerden bağımsız olarak kendisini gerçekleştirebileceğini düşünmek yanılgıdan başka bir şey değildir. Biz zorunlu olarak içinde bulunduğumuz doğanın düzenini kabullenmek durumundayız. Spinoza bunu şu şekilde belirtmektedir: Buradan şu sonuç çıkar ki, insan zorunlu olarak daima belirleyici etkilere bağlıdır. İnsan evrenin düzeninin ardından gider ve ona boyun eğer. Onun açısından özgür irade bir yanılsamadan ibarettir; insanın tüm eylemleri kişinin dışındaki etkenler tarafından belirlenir.

Buna göre aşağıdakilerden hangisi insanın özgür olmadığını gösteren bir argümandır?

- A) İnsanlar, toplumsal yaşamda çeşitli eylemler arasında tercihte bulunabilirler.
- B) Hukuk kuralları, insanlara neleri yapıp neleri yapamayacağına bildirir.
- C) Toplum içerisinde insanlar, etki altında kalmadan farklı eylemlerde bulunabilirler.
- D) İnsanın önüne iyiye ve kötüye dair ölçütlerin konulması seçme özgürlüğünün olduğunu gösterir.
- E) Hukuk, insanın eylemlerini seçme imkânının olduğu düşüncesine dayanır.

16. "Şüphesiz göklerin ve yerin yaratılmasında, gece ile gündüzün birbiri peşinden gelmesinde, insanlara fayda veren şeylerle yüklü olarak denizde yüzüp giden gemilerde, Allah'ın gökten indirip de ölü hâldeki toprağı canlandırdığı suda, yeryüzünde her çeşit canlıyı yaymasında, rüzgârları ve yer ile gök arasında emre hazır bekleyen bulutları yönlendirmesinde düşünen bir toplum için birçok deliller vardır." (Bakara, 2 : 164)

Bu ayetle ilgili aşağıdaki yorumlardan hangisi yapılamaz?

- A) Allah'ın kudret sıfatına vurgu yapmaktadır.
- B) İnsanın akıl yürütme becerisini harekete geçirmektedir.
- C) Allah'ın varlığı hakkında akli delillere örnek gösterilebilir.
- D) Evrendeki düzenin, rastgele meydana geldiği belirtilmektedir.
- E) Varlıklar alemindeki örneklerden hareketle Allah'ın varlığına ilişkin insana yol göstermektedir.

17. Hakan Bey, büyük bir aile şirketinin yöneticisidir. Üç kuşaktır ayakta kalmaya devam eden ve her geçen gün kökleşen bu işletmenin ayakta kalma sırrını soran kızına Hakan Bey; "İnsan için ancak çalıştığına karşılığı vardır." (Necm, 53:39) ve "...Yiyin, için fakat israf etmeyin. Çünkü Allah israf edenleri sevmez." (A'raf, 7:31) ayetlerinin dedelerinden bu yana kendileri için en güzel rehber olduğunu ifade etmiştir.

Bu parçada verilen mesaj aşağıdakilerden hangisi ile daha çok ilişkilendirilir?

- A) Din ve ekonomik hayat ilişkisi
- B) Dinin aile kurumuna verdiği önem
- C) İnsanın çevreye karşı sorumlulukları
- D) İslam dini ile sosyal değişim arasındaki ilişki
- E) Yardımlaşma ile sosyal adalet arasındaki bağ

18. • Sadık haber, Allah'ın melekleri aracılığı ile peygamberlerine, peygamberlerin de insanlara ilettiği ilahi mesajlardır.
- Selim akıl, insanın doğru karar vermesini sağlayan, herhangi bir olumsuzluktan veya ortamın kötülüğünden etkilenmeyen, yaratılışındaki temizliğini ve safiyetini koruyan akıldır.
- Salim duyular, herhangi bir etkenle kendisine ait özelliğini kaybetmemiş olan işitme, görme, koku alma, tatma ve dokunma duyularıdır.

Buna göre aşağıdaki ayetlerden hangisinde salim duylara değinilmiştir?

- A) "Kral dedi ki: "Rüyamda yedi arık ineğin yedi semiz ineği yediğini gördüm. Ayrıca yedi yeşil ve bir o kadar da kuru başak gördüm. Efendiler! Eğer rüya yorumluyorsanız, bu rüyamı da bana yorumlayın." (Yûsuf, 12:43)
- B) "Allah'ın yarattığı herhangi bir şeyi görmediler mi? Onun gölgeleri, küçülerek ve Allah'a secde ederek sağa sola döner." (Nahl, 16:48)
- C) "De ki: Hiç bilenlerle bilmeyenler bir olur mu? Doğrusu ancak akıl sahipleri bunları hakkıyla düşünür." (Zümer, 39:9)
- D) "Allah şöyle dedi: "İki ilah edinmeyin. O, ancak tek ilahdır. O halde yalnız benden korkun." (Nahl, 16:51)
- E) "Bunlar sana vahiy yoluyla bildirmekte olduğumuz gayb haberlerindedir..." (Âl-i İmrân, 3:44)

19. • "Ey iman edenler! Allah'a karşı gelmekten sakının ve doğru söz söyleyin." (Ahzâb, 33:70)
- "Müslüman, diğer Müslümanların elinden ve dilinden güvende olduğu kimsedir. Mümin de insanların can ve malları konusunda kendisinden emin oldukları kimsedir." (Hadis-i Şerif)

Aşağıdaki öğütlerden hangisine bu ayet ve hadiste yer verildiği söylenebilir?

- A) Suizandan uzak durulmalıdır.
- B) Mazlumlara merhametli davranılmalıdır.
- C) Düşmana karşı cesur ve kararlı olunmalıdır.
- D) Yalandan sakınılmalıdır.
- E) Adalete önem verilmelidir.

20. İslam âlimlerine göre iman ile İslam birbiriyle yakından ilişkili kavramlardır. İmanın İslam'dan, İslam'ın da imandan ayrı düşünülmemeyeceği bir gerçektir. Dışta ve görünürde olana İslam, içte ve kalpte olana iman denilebilir. İman kalbin tasdik etmesi, İslam ise amel ve pratiklerle bu tasdik eyleme taşınarak görünür kılınmasıdır.

Bu parçadan hareketle aşağıdaki yorumlardan hangisine ulaşamaz?

- A) İslam, imandan önce gelir.
- B) İman İslam'a göre daha soyut bir anlam taşır.
- C) İman ile İslam, birbirini tamamlayan iki farklı durumdur.
- D) İman, inanılacak hususların içsel bir onaydan geçirilmesini ifade eder.
- E) Dinin uygulamaya dönük boyutu daha çok İslam kavramı kapsamında yer alır.