

MASTER

15  
-DENEME-

TÜRKÇE

! PISA VE MANTIK MUHAKEME DESTEKLİ

- 13 Sarmal Deneme → Kazanım Odaklı Yeni Nesil Sorular
- 2 Genel Deneme → Gerçeğe Yakın Sınav Deneyimi

!SORULARIN ZORLUK DEREJESİNDE  
MEB ÖRNEK SORULARI VE LGS DİKKATE ALINMIŞTIR

Ramazan DAĞLI

7  
SINIF



Tüm Soruların  
Video Çözümü  
akillioretim.com'da

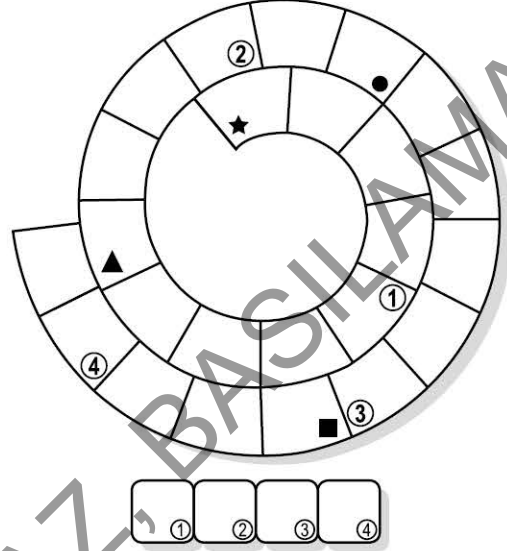


1. Bu testte 20 soru vardır.
2. Sınav süresi 30 dakikadır.
3. 3 yanlış 1 doğruyu götürcektir.
4. Cevaplarınızı optikte kutucukların dışına taşırmadan ve kurşun kalemle işaretleyiniz.

1. Başkalarının bizim karakterimiz hakkında ne düşünüp ne söylediğinden çoğumuz etkileniriz. Sosyal konumumuzu her zaman merak eder, sosyal hayatta itibarımızı artırmak için çabalarız. Uzmanlar, sosyal medya araçlarının böylesine yaygın kullanılmasının altında bu durumun yattığını iddia ediyor.

Bu metindeki bazı sözcüklerin anlamları aşağıda simgelerle belirtilmiştir. Bu sözcükleri metinden bularak bulmacaya yerleştiriniz.

- ★ Bir bireyin kendine özgü yapısı, üstün ana özelliği
- ▲ Bir kimsenin veya bir şeyin bir yerdeki durumu veya duruş biçimi
- Saygı görme, değerli ve güvenilir olma durumu veya duruş biçimi, saygınlık
- Belli bir işte, belli bir konuda bilgi, görüş ve becerisi çok olan kimse



Buna göre, numaralanmış kutularda yer alan harfler “ANAHTAR SÖZCÜK” bölümüne yerleştirildiğinde aşağıdakilerden hangisi oluşur?

- A) K A B A
- C) K U R A

- B) K U R U
- D) T U R A

2. Aşağıdaki metinlerden hangisine “Yenilenebilir Enerjinin Önemi” başlığının verilmesi en uygundur?

- A) Yenilenebilir enerji, güneş, rüzgâr ya da su gibi doğal kaynaklardan elde edilen ve sürdürülebilir niteliğe sahip olan enerjidir. Toplamların sanayileşmeye ağırlık vermesiyle birlikte ortaya çıkan enerji kaynağı arayışının sonucunda fosil yakıt kullanımı yaygınlaşmıştır. Fosil yakıtların çevreye verdiği zararın yeryüzünde yaşamı tehdit etmeye başlamasıyla yenilenebilir enerji ön plana çıkmıştır.
- B) Küresel ısınma, çağımızın en büyük çevre sorunlarından biri hâline geldi. Bu sorunun kaynağında ise fosil yakıt kullanımı yatıyor. Bütün dünyayı ilgilendiren küresel ısınma sorununun çözülebilmesi için fosil yakıt kullanımının sınırlandırılması hatta tamamen bırakılması gerekiyor. Yenilenebilir enerji kaynaklarının fosil yakıtların işlevini yerine getirebileceği biliniyor.
- C) Yenilenebilir enerji bakımından çok zengin bir coğrafyada yaşıyoruz. Yılın dört mevsiminde güneş enerjisinden, rüzgârdan ve akarsulardan faydalanma imkânına sahibiz. Ne var ki bu kaynakları henüz yeterince kullanmıyoruz. Özellikle güneş enerjisi kullanımında Avrupa ülkelerinden çok daha gerideyiz. Üstelik enerjiye bu ülkelerin birçoğundan daha fazla para harcıyoruz.
- D) Enerji üretiminde fosil yakıt kullanımı dünyanın doğal dengesini bozdu. Bozulan dengenin eski hâline getirilebilmesi için yenilenebilir enerji kullanımının yaygınlaştırılması gerekiyor. Güneş, rüzgâr, dalga gibi yenilenebilir kaynakların kullanılması hava, su ve toprağın kirlenmemesi anlamına geliyor. Dolayısıyla yenilenebilir enerji kullanımı canlılar için hayati bir rol oynuyor.

3. Bir şifreleme sisteminde “A, Ç, I, K, R” harflerinin her biri; “1, 2, 3, 4, 5” rakamlarından biriyle kodlanmıştır. Bu sistemde oluşturulan anlamlı ve farklı iki isim aşağıda verilmiştir.

3 1 2 4 5

5 4 3 1 2

Buna göre aşağıdaki kodlamalardan hangisi anlamlı bir sözcük oluşturmaz?

A) 5 1 2 4 3


B) 5 4 2 1 3

C) 5 1 3 2 4

D) 5 1 3 4 2

4. Aşağıdaki metinlerden hangisi “İnsanların bağışıklık sisteminin güçlü ya da zayıf olmasını neler etkilemektedir?” sorusuna cevap vermektedir?

- A) Bağışıklık sistemi; canlıların hastalıklarla savaşmasını sağlayan ve vücudu zararlı maddelerden korumaya çalışan, karmaşık bir sistemdir. Başka bir deyişle bağışıklık sistemi, canlıların savunma kalkanıdır. Vücuda giren her türlü madde, bağışıklık sistemi tarafından kontrol edildikten sonra zararlı ya da zararsız olarak ayrıştırılır ve sistem, zararlı maddelerle savaşmaya başlar.
- B) İnsan vücudunun savunma mekanizması olarak bilinen bağışıklık sistemi, yaşlılık döneminde oldukça zayıflar. Bağışıklık sistemini oluşturan bazı hücreler, yaşlılık döneminde kendi görevlerini yürütemez hâle gelir; bazıları ise yanlış davranmaya başlar. Neticede vücut, kolay atlatılabilecek birtakım hastalıklar karşısında bile savunmasız duruma düşer.
- C) Bağışıklık sisteminin gücü her bireyde farklıdır. İnsanların genetik özellikleri bu farklılığın sebeplerinden biridir. Bununla birlikte beslenme alışkanlıkları da bağışıklık sisteminin gücünde belirleyici bir role sahiptir. Sağlıklı beslenen ve spor yapan insanların bağışıklık sistemleri daha güçlüyken sağlığa zararlı maddeler kullanan insanların bağışıklık sistemleri daha zayıftır.
- D) İnsanların bağışıklık sistemi zayıfladığında hastalıklara yakalanma riskleri artar. Zayıf bir bağışıklık sistemi, hastalıklarla savaşamayacağı için vücutta enfeksiyonlar gelişir. Bu enfeksiyonlar, bağışıklık sisteminin daha da zayıflamasına sebep olur. Basit hastalıklar için antibiyotik kullanmak gerekir ve bir süre sonra antibiyotikler de işe yaramayabilir.

5. 
- I. Anlamca tamamlanmış cümlelerin sonunda kullanılır.
- II. Bir yazının maddelerini gösteren rakam veya harflerden sonra kullanılır.
- III. Tarihlerin yazılışında gün, ay, yıl gösteren sayıları birbirinden ayırmak için konur.
- IV. Sayılardan sonra sıra bildirmek için kullanılır.

Büyük Türkçe Sözlük, ilk kez 1945'te basılmıştır. Sözlüğü sürekli geliştirerek 2011 yılında sözlüğün güncellenmiş 11. baskısını yapan TDK, son baskıda 122.000 civarında sözcüğe yer vermiştir. Ayrıca [www.tdk.gov.tr](http://www.tdk.gov.tr) adresinde bulunan sözlük üzerinde sürekli güncelleme yapmaktadır.

Bu metinde nokta, numaralanmış işlevlerinden hangileriyle kullanılmıştır?

A) I ve III.

B) I ve IV.

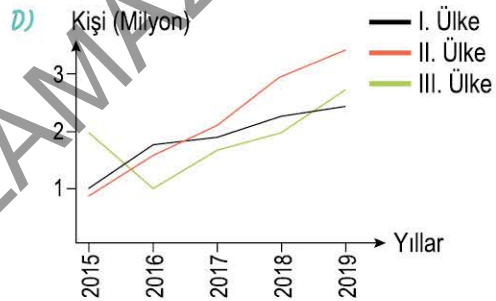
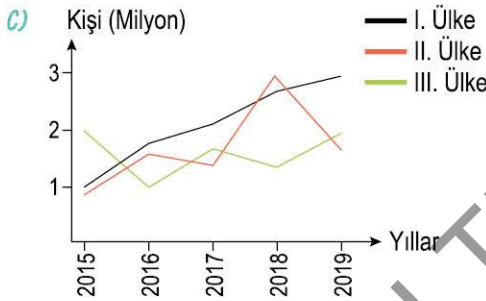
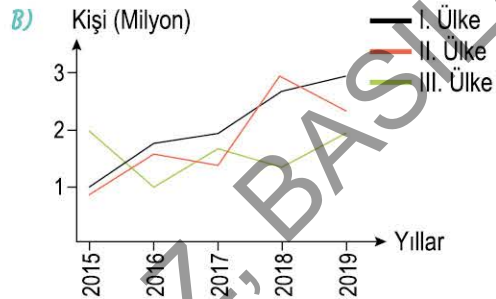
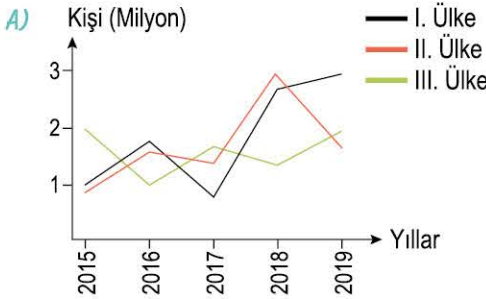
C) II ve III.

D) II ve IV.

6. 2015-2019 yılları arasında üç farklı ülkeye gelen yabancı turist sayıları incelendiğinde şu sonuçlara ulaşılmıştır:

- I. ülkeye gelen turist sayısında her yıl artış gözlemlenirken II ve III. ülkede durum inişli çıkışlı seyretilmiştir.
- I. ülkeye gelen turist sayısının sadece bir yıl III. ülkeye gelen turist sayısından düşük olduğu gözlemlenmiştir.
- II. ülkeye gelen turist sayısı, III. ülkeye gelen turist sayısının sadece iki yıl üstüne çıkabilmiştir.

Buna göre 2015-2019 yılları arasında üç ülkeye gelen yabancı turist sayılarını gösteren grafik aşağıdakilerden hangisidir?



7. Zeynep Öğretmen, öğrencilerine deyim kartları hazırlamıştır. Kartların ön yüzüne bir deyim ve bu deyim kullanıldığı bir örnek cümle, arka yüzüne ise bu deyim anlamını yazmıştır. Zeynep Öğretmen'in hazırladığı kartlardan bazılarının ön yüzleri aşağıda verilmiştir.

**Buluttan nem kapmak**

Onun buluttan nem kap-  
tığını bildiğim için hep dik-  
katli konuştum.

**Eteğindeki taşı dökmek**

Adam, eteğindeki taşı dö-  
künce olayın üstündeki sır  
perdesi kalkmıştı.

**Pabucu dama atılmak**

Takıma yeni bir golcü ge-  
lince kısa sürede onun pa-  
bucu dama atıldı.

**Akıntıya kürek çekmek**

Başaracağına öyle inan-  
mıştı ki akıntıya kürek çek-  
tiğinin farkında değildi.

Buna göre aşağıdakilerden hangisi, verilen kartlardan birinin arka yüzü olamaz?

A) Kendinden üstün  
birinin çıkmasıyla  
gözden düşmek

B) En küçük bir şey-  
den alınmak, çok  
alınan olmak

C) Gücünün çok üs-  
tünde olan işlere  
kalkışmak

D) Bir konuyla ilgili bü-  
tün bildiklerini açık-  
lamak

8.

## TÜRK EDEBİYATININ USTA KALEMİ: YAŞAR KEMAL

Gerçek adı Kemal Sadık Gökçeli olan yazar, Osmaniye'de doğdu ve babasını küçük yaşta kaybetti.



Geçim sıkıntısı nedeniyle ortaokuldan ayrılan yazarın ilk şiiri 1939 yılında bir dergide yayımlandı.

İstanbul'a taşınan yazar, bir gazetede Yaşar Kemal adıyla fıkra ve röportajlar yayımladı.



İngilizce, Fransızca ve İspanyolcaya eşi tarafından çevrilen eserleriyle Avrupa'da tanındı.

Nobel Ödülü'ne aday gösterilen ilk Türk yazar olan Yaşar Kemal, İnce Memed romanıyla edebiyatımızda iz bırakmıştır.



**Bu metinden Yaşar Kemal ile ilgili,**

- I. Edebiyatta farklı türlere örnek gösterilebilecek eserler vermiştir.
- II. Çocukluk ve gençlik yıllarını Osmaniye'de geçirmiştir.
- III. Avrupa'da tanınmasında eşinin yaptığı çeviriler etkili olmuştur.
- IV. Nobel Ödülü alan ilk Türk yazar unvanını kazanmıştır.

**yargılarından hangilerine ulaşılabilir?**

A) I ve III.

B) I ve IV.

C) II ve III.

D) II ve IV.

9. Akıllı şehirler, teknolojik cihazlar ve gösterişli alışveriş merkezleri... Modern yaşam, insana pek çok imkân sunuyor gibi gözükse de aslında onu doğadan uzaklaştırıyor. Doğanın güzelliğinden, saflığından uzaklaşan ve yapay bir dünyaya hapsolan insan, psikolojik olarak çökmeye ve yaşamdan zevk almamaya başlıyor. Kendini hapsediği yapay dünyadan kurtulup doğayla kucaklaşabilmesinin mutluluk için yeterli olacağını göremiyor.

**Bu metinde vurgulanmak istenen asıl düşünce aşağıdakilerden hangisidir?**

- A) Modern yaşama hapsedilmiş insanlar doğanın güzelliklerini keşfedemez.
- B) İnsanlar teknolojinin gelişmesi için çabalarken doğadan gittikçe uzaklaşıyor.
- C) Modern yaşama ayak uydurma çabası insanın psikolojisine zarar verir.
- D) Doğaya dönüp modern yaşamın yapaylığından kurtulan insan mutlu olur.

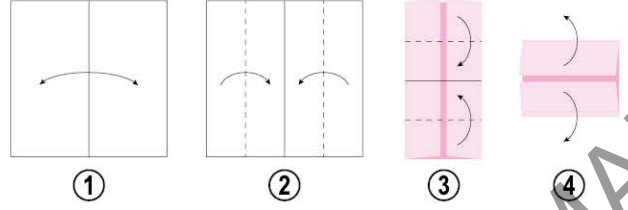
10. Avustralya'nın bazı bölgelerindeki ağaçlarda yüksek düzeyde altın olduğu tespit edildi. - - - ağaçlarda tespit edilen altının yer altındaki rezervlerle bağlantılı olup olmadığı henüz bilinmiyor. - - - okaliptus ağaçları uzmanlar tarafından incelemeye alındı - - - okaliptuslarda diğer ağaçlardan daha fazla altına rastlandı.

**Bu metinde boş bırakılan yerlere aşağıdakilerin hangisinde verilenler sırasıyla getirilebilir?**

- A) Ancak - üstelik - zira
- B) Ne var ki - özellikle - çünkü
- C) Fakat - bilhassa - örneğin
- D) Başka bir deyişle - ayrıca - ama

11. Aşağıda kâğıttan rüzgârgülü yapımının ilk dört aşamasının anlatımı görselleriyle birlikte verilmiştir.

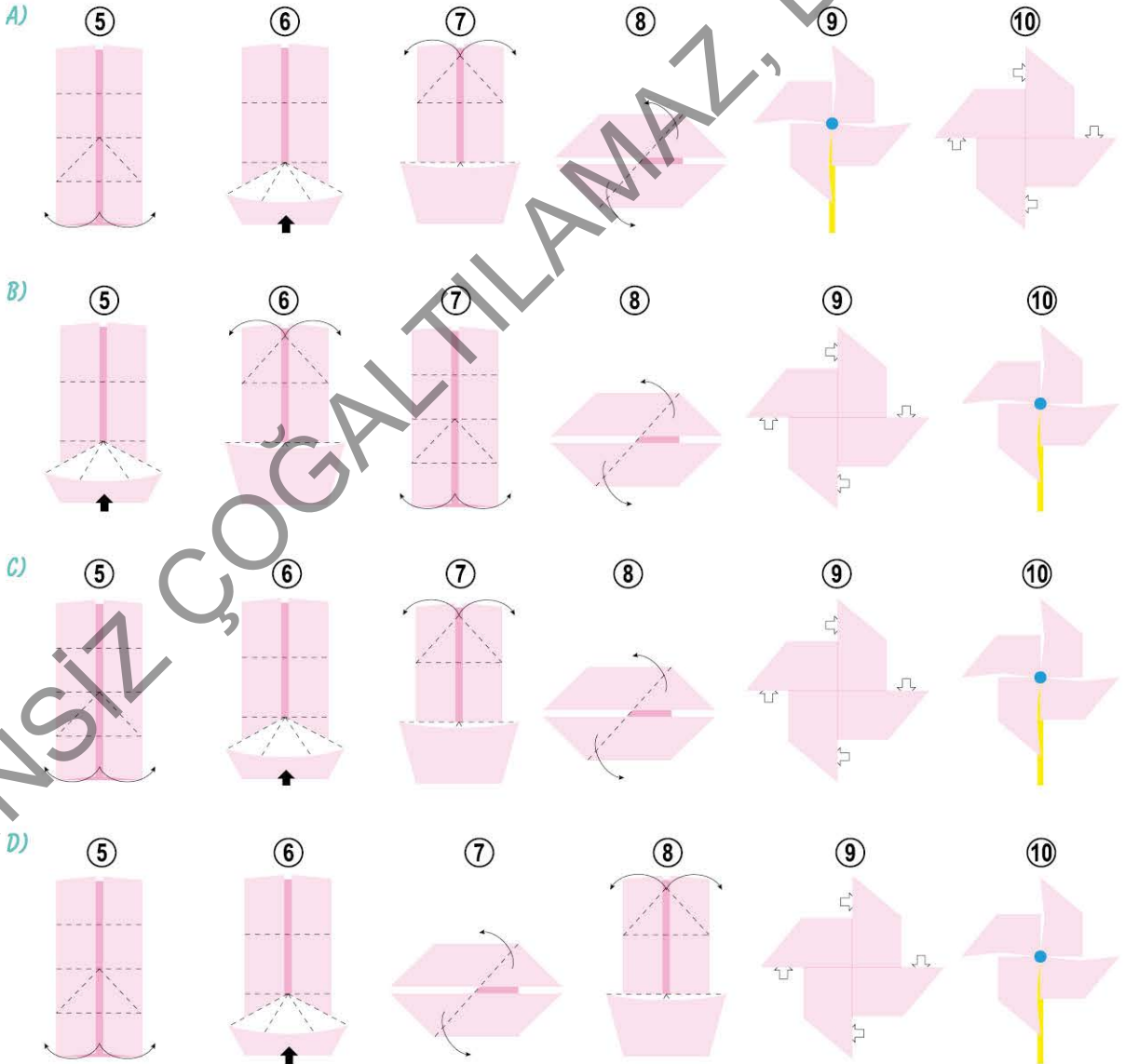
Ön yüzü beyaz, arka yüzü pembe olan kare şeklinde bir kâğıt, iki kenarı üst üste gelecek şekilde katlanıp açılır ve bir orta çizgi elde edilir. Daha sonra aynı kenarlar orta çizgiye gelecek şekilde katlanır. Dikdörtgen biçimini alan kâğıdın kısa kenarları ortada birleşecek şekilde tekrar katlanır ve açılır.



Sonraki aşamalar şu şekildedir:

Yeniden iki kat şeklinde dikdörtgen biçimini alan kâğıtta sekiz kare oluşur. Kâğıdın en altında oluşan iki karenin üst katları yukarı doğru çekilerek dikdörtgenin alt kenarı kâğıdın orta çizgisine doğru katlanır. Böylece kâğıdın alt kısmında gemiye benzeyen bir şekil oluşur. Kâğıdın en üstündeki iki karenin üst katları da aşağı doğru çekilerek aynı şekilde ters bir gemi şekli oluşturulur. Daha sonra bu gemilerin iki zıt ucu kâğıdın ortasına doğru katlanarak rüzgârgülü oluşturulur ve bir çubuğa raptiye ile tam ortadan tutturulur.

Buna göre, rüzgârgülü yapımının sonraki aşamalarını içeren görseller aşağıdakilerin hangisinde verilmiştir?



12. Teknolojik araçlardaki uygulamalar kendi yazılımlarıyla çalışır. Bu yazılımlar uygulamaya göre yüz binlerce satırı bulan kodlardan oluşabilir. Bazı teknolojik araçlar için gereken kodlar ise tam olarak tanımlanamaz. Böyle durumlarda yapay zekâ devreye girer. Uygulama yazılımında kodlanmamış bir durumla karşılaştığında yapay zekâ bazı verileri kullanarak görevi tamamlar. Bu nedenle yapay zekâ, teknolojik araçların daha verimli kullanılmasını sağlar. Yapay zekânın pek çok mesleğin yerini alacağına düşünülmesinin temelinde onun insanlar gibi karar alabilme becerisine sahip olması yatar.

**Bu metinden,**

- I. Teknolojik araçlarda kullanılan her uygulama için ayrı bir yazılım üretilir.
- II. Yapay zekâ, kullanıldığı teknolojik araca uygun yazılım kodları yazabilir.
- III. Yapay zekâ, yazılımda kodlanmamış bazı görevleri yerine getirebilir.
- IV. Yapay zekâ, karar alabilme becerisiyle teknolojik araçları daha verimli kılar.

**yargılarından hangisi ya da hangileri çıkarılamaz?**

- A) Yalnız I.                      B) Yalnız II.                      C) II ve III.                      D) III ve IV.

13. Yüz körlüğü olarak bilinen prosopagnozi, beyin hasarı sonucu ortaya çıkan bir hastalıktır. İnsan yüzünü özel ve benzersiz kılan özellikleri algılayamama durumu olan yüz körlüğünün ilk vakaları, ileri yaşlarda felç ya da beyin travması sonucu belirlenmiştir. Doğuştan yüz körlüğü yaşayanların yakınlarından en az birinde daha bu durumun görülmesi ise hastalığın genetik bir niteliğe sahip olduğunu göstermiştir. Bu hastalığa yakalanan kişiler; aile fertlerini, akrabalarını ya da iş arkadaşlarını yüzlerinden tanıyamamaktadır. Onları ses tonu, konuşma biçimi veya saç şekliyle ayırt edebilmektedir.

**Bu metinde yüz körlüğü ile ilgili,**

- I. Genellikle ileri yaşlarda görülen bir hastalık olduğu
- II. İnsan yüzündeki farklılıkları ayırt etmeyi engellediği
- III. İnsanlarda doğuştan ya da sonradan ortaya çıkabildiği
- IV. Kişinin çevresindekilerin kimliklerini unutmalarına yol açtığı

**bilgilerinden hangisi ya da hangilerine değinilmemiştir?**

- A) Yalnız I.                      B) I ve IV.                      C) II ve III.                      D) II ve IV.

14. Aşağıda büyük harflerin kullanıldığı yerlerle ilgili bazı kurallar verilmiştir:

- Kişi adlarından önce ve sonra gelen unvanlar, saygı sözleri, rütbe adları ve lakaplar büyük harfle başlar.
- Akrabalık adı olup lakap veya unvan olarak kullanılan sözcükler büyük harfle başlar.

**UYARI:** Akrabalık bildiren sözcükler küçük harfle başlar.

- Gezegen ve yıldız adları büyük harfle başlar.

**Bu kurallara göre,**

- I. Askerler Yüzbaşı Cevdet'i görünce susup hizaya geçmişlerdi.
- II. Kemal Bey, bize ay tutulmasının nasıl gerçekleştiğini anlattı.
- III. Her yıl yaz tatilinde Cemil dayımın Köyceğiz'deki evine giderdik.
- IV. Dede Korkut'ta geçen hikâyelerden biri de Boğaç han ile ilgilidir.

**cümlelerinin hangilerinde yazım yanlışı yapılmıştır?**

- A) I ve III.                      B) I ve IV.                      C) II ve III.                      D) II ve IV.

15. Gülce, sosyal medya hesabında bazı arkadaşlarının paylaştığı dizeleri görmüş ve bu paylaşımlara şiirlerin ana duygusunu ifade edecek yorumlar yapmıştır.

Buna göre Gülce, aşağıdakilerin hangisinde verilen dizelerin ana duygusunu yanlış belirlemiştir?

A)



**Fatma**

4 saat önce

Ömrüm rüzgâr misali hızla geçerken  
Dostlarım kaybolmuş hep çevremden.  
İşte böyle bir başımayım ben şimdi,  
Okyanusta unutulmuş bir ada gibi...

1 Yorum



Beğen



Yorum Yap



**Gülce** Bazen insanın içine yalnızlık çöküyor,  
seni anlıyorum.

Beğen Yanıt Ver

B)



**Eliz**

4 saat önce

Çocukluğum, ömrümün en güzel yılları  
Gözümde tütüyor şimdi sokak oyunları.  
Bir gün hiç bitmeyen bir uykuya dalsam,  
Hiç olmazsa rüyamda hep çocuk olsam.

1 Yorum



Beğen



Yorum Yap



**Gülce** İnsan büyüdükçe en çok çocukluğuna  
özlem duyuyor.

Beğen Yanıt Ver

C)



**Betül**

4 saat önce

Keşke yüzü gülse bütün çocukların,  
Keşke sonu gelse tüm düşmanlıkların.  
Dünyada herkesin yüzü koşulsuz gülse,  
Sevginin kıymetini artık her insan bilse!

1 Yorum



Beğen



Yorum Yap



**Gülce** Her insanın geçmişe dair pişmanlık-  
ları vardır.

Beğen Yanıt Ver

D)



**Funda**

4 saat önce

Üzülme arkadaş, karanlık çöktü diye  
Aydınlığa gebedir en uzun gece bile.  
Sen gözünü ayırma sakın ufuktan,  
Parlak bir güneştir bu sabrına hediye.

1 Yorum



Beğen



Yorum Yap



**Gülce** Hayat ne kadar anlamsız olurdu umu-  
dumuz olmasa.

Beğen Yanıt Ver

16. Kişileştirme, insana özgü bir niteliğin insan dışı bir varlığa aktarılmasıdır.

Buna göre aşağıdakilerin hangisinde kişileştirmeye başvurulmamıştır?

- A) Yalın ayak koşup avlunun diğer ucundaki kapının arkasında durdu. Mavi boyaları yer yer dökülmüş ancak yerinde durup vazifesini gururla yapan demir kapının kolunu tuttu. Kapı inleyerek açılırken uzun boylu, yüzüne bir tebessüm kondurmuş asker görüldü.
- B) Gözlerini boş kâğıda dikmiş, bir süredir düşünüyordu. Duvardaki guguklu saatin sesiyle birdenbire irkildi. Gözlüğünü çıkardı ve sandalyeden kalkıp pencerenin önüne yürüdü. Gözlerini şehrin üstüne dikmiş kapkara bulutlara bakıp baharın gelemeşiğine hayıflandı.
- C) Çocukluğumdan beri yaşıyorum bu mahallede. Önce ağaçların sayısı azaldı; gözümüz, yeşile daha az rastlamaya başladı. Sonra kaşları çatık, somurtkan binaların sayısı gitgide arttı. Eskiden kuşların neşe içinde öttüğünü duyardım ama şimdi o seslere hasrettim.
- D) Toprağa gün boyu kazma sallamaktan elleri nasır tutmuştu. Daha gün tam tepeye ulaşmamıştı ama onun çalışacak dermanı kalmamıştı. Tarlanın öbür ucundaki kavak ağaçlarının altına gidip oturdu, heybesinden çıkardığı ekmek, peynir ve domatesi yedi.



17. Kılış fiilleri, hareket bildirir ve bir nesne üzerinde etkili olur. Durum fiilleri ise öznenin içinde bulunduğu durumu bildirir ve bir nesne üzerinde etkili olmaz. Örneğin "Çocuk, bardağı kırdı." cümlesinde "kırmak" fiili, hareket bildirir ve "bardak" üzerinde etkili olmuştur. Ancak "Çocuk, tek başına oturuyordu." cümlesinde "oturmak" fiili durum bildirir ve bir nesne üzerinde etkili değildir.

**Buna göre,**

- I. O kitabı lise yıllarımda bir arkadaşımın tavsiyesi üzerine okumuştum.
- II. Evin bahçeye bakan iki odasını onun en çok sevdiği renge boyamıştı.
- III. Nasrettin Hoca fıkralarının bulunduğu kitabı okurken çok güldüm.
- IV. Bütün gün bahçe işleriyle uğraştığı için akşam erkenden uyumuştum.

**cümlelerinin hangilerinde kılış fiiline yer verilmiştir?**

- A) I ve II.                      B) I ve III.                      C) II ve IV.                      D) III ve IV.

18. - - - Her çocuk ailesi için çok değerlidir ancak çocukları bu anlayışla yetiştirmek onların kendilerini herkesten üstün görmesine sebep oluyor. Çocuklar her şeyi yapma ya da başkalarının hakkına saygı duymama eğilimi göstermeye başlıyor. Ailesinin ona benimsettiği en değerli varlık olmanın tadını başkalarının haklarını hiçe sayarak çıkarıyor. Bencil, başkalarını önemsemeyen ve kibirli bireyler yetiştiren aileler ise bu vahim tablonun hâlâ farkına varamıyor.

**Bu metnin başına düşüncenin akışına uygun olarak aşağıdakilerden hangisi getirilmelidir?**

- A) Sosyal hayatta bazı günlük görevleri tek başına yerine getiremeyen çocuklar yetiştiriyoruz.
- B) Günümüzde bazı çocuklar aileleri tarafından dünyanın en değerli varlığıymış gibi yetiştiriliyor.
- C) Birçok anne ve baba, çocuklarını yetiştirirken onların gelişim süreçlerini dikkate almıyor.
- D) Yetişkinlerin birçoğu, her çocuğu kendi becerileri ile değerlendirmeyi maalesef başaramıyor.

19. Öznenin iradesi dışında kendiliğinden gerçekleşen fiillere "oluş fiilleri" denir. "Kasadaki elmalar çürümüş." cümlesindeki "çürümek" fiili öznenin iradesi dışında gerçekleştiği için oluş bildirmektedir.

**Bu açıklamaya göre aşağıdakilerin hangisinde oluş bildiren bir fiil vardır?**

- A) Yıldızları seyrederken köydeki güzel günlerini düşünüyordu.
- B) Dedemle diktiğimiz ağaç birkaç yıl içinde oldukça büyümüştü.
- C) Asmadaki üzüm salkımlarını elindeki makasla dikkatlice kesti.
- D) Cep telefonumla bu güzel manzaranın fotoğrafını çekeceğim.

20. I. insanların kas kaybının tedavisinde  
II. kışı uyuyarak geçirmelerine rağmen  
III. bilim insanlarına yol göstermiştir.  
IV. Kuzey Amerika'da yaşayan bozayılar  
V. vücutlarında hiç kas kaybetmedikleri için

**Numaralanmış sözler anlamlı ve kurallı bir cümle oluşturacak biçimde sıralandığında hangisi sondan ikinci olur?**

- A) I.                      B) II.                      C) IV.                      D) V.

<input type="text"/>	
A B C D	A B C D
1 <input type="radio"/> <input type="radio"/> <input type="radio"/> <input type="radio"/>	11 <input type="radio"/> <input type="radio"/> <input type="radio"/> <input type="radio"/>
2 <input type="radio"/> <input type="radio"/> <input type="radio"/> <input type="radio"/>	12 <input type="radio"/> <input type="radio"/> <input type="radio"/> <input type="radio"/>
3 <input type="radio"/> <input type="radio"/> <input type="radio"/> <input type="radio"/>	13 <input type="radio"/> <input type="radio"/> <input type="radio"/> <input type="radio"/>
4 <input type="radio"/> <input type="radio"/> <input type="radio"/> <input type="radio"/>	14 <input type="radio"/> <input type="radio"/> <input type="radio"/> <input type="radio"/>
5 <input type="radio"/> <input type="radio"/> <input type="radio"/> <input type="radio"/>	15 <input type="radio"/> <input type="radio"/> <input type="radio"/> <input type="radio"/>
6 <input type="radio"/> <input type="radio"/> <input type="radio"/> <input type="radio"/>	16 <input type="radio"/> <input type="radio"/> <input type="radio"/> <input type="radio"/>
7 <input type="radio"/> <input type="radio"/> <input type="radio"/> <input type="radio"/>	17 <input type="radio"/> <input type="radio"/> <input type="radio"/> <input type="radio"/>
8 <input type="radio"/> <input type="radio"/> <input type="radio"/> <input type="radio"/>	18 <input type="radio"/> <input type="radio"/> <input type="radio"/> <input type="radio"/>
9 <input type="radio"/> <input type="radio"/> <input type="radio"/> <input type="radio"/>	19 <input type="radio"/> <input type="radio"/> <input type="radio"/> <input type="radio"/>
10 <input type="radio"/> <input type="radio"/> <input type="radio"/> <input type="radio"/>	20 <input type="radio"/> <input type="radio"/> <input type="radio"/> <input type="radio"/>
TEST ID <input type="radio"/> <input type="radio"/> <input type="radio"/> <input type="radio"/> <input type="radio"/> <input type="radio"/> <input type="radio"/> <input type="radio"/> <input type="radio"/> <input type="radio"/>	
3390 <input type="radio"/> <input type="radio"/> <input type="radio"/> <input type="radio"/> <input type="radio"/> <input type="radio"/> <input type="radio"/> <input type="radio"/> <input type="radio"/> <input type="radio"/>	

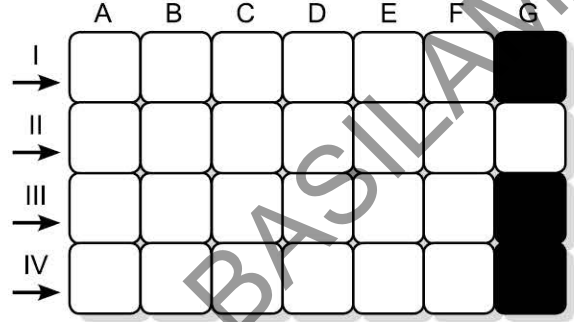


1. Bu testte 20 soru vardır.
2. Sınav süresi 30 dakikadır.
3. 3 yanlış 1 doğruyu götürmektedir.
4. Cevaplarınızı optikte kutucukların dışına taşırmadan ve kurşun kalemle işaretleyiniz.

1. Bolu'nun doğusunda bir tabiat harikası olarak seyyahların ve dalış tutkunlarının ilgisini çeken Sülüklü Göl, bundan üç yüz yıl önce gerçekleşen bir heyelanın ardından oluşan çukurun kaynak sularıyla dolması sonucu ortaya çıkmıştır.

Bu cümledeki bazı sözcüklerin anlamları aşağıda karışık olarak verilmiştir. Bu sözcükleri metinden bularak bulmacaya yerleştiriniz.

- I. Gezmek, tanımak, görmek, dinlenmek amacıyla geziye çıkan (kimse)
- II. Yağışlarla toprağın alt tabakalarının gevşeyerek üst tabakasının hareket etmesi
- III. Bir suyun kaynarak çıktığı yer, pınar
- IV. İnsan eliyle büyük değişikliğe uğramamış, doğal yapısını koruyan çevre



Buna göre, sözcükler bulmacaya yerleştirildiğinde "D" sütununda aşağıdakilerden hangisi oluşur?

A) S  
E  
R  
İ

B) S  
İ  
M  
A

C) Y  
İ  
N  
E

D) Y  
E  
N  
İ

2. Öznel anlatım, kişisel düşünceler içerir. Nesnel anlatım ise kişisel düşünce içermez, kanıtlanabilir yargılarla oluşturulur.

Bu açıklamaya göre, aşağıdaki medya metinlerinin hangisinde öznel anlatıma başvurulmuştur?

- A) ABD'nin Hawaii eyaletinde bulunan bir gözlemevine kurulan Güneş teleskobuyla Güneş'in yeni ve daha ayrıntılı bir görüntüsü elde edildi. Fotoğrafta Güneş'in yüzeyinde altın rengini çağrıştıran tane-cikler gözlemlendi. Taneciklerin parlaklık farkının sıcaklık farkından kaynaklandığı anlaşıldı.
- B) Bitkisel yağlar ya da mikroorganizmalar gibi yenilenebilir kaynaklardan elde edilen biyoplastikler, petrol içermediği için doğaya zarar vermiyor. İzmir Teknoloji Üniversitesinde peynir altı suyundan üretilen ilginç bir biyoplastik ise "yenilebilir" olmasıyla fark yaratacak gibi görünüyor.
- C) Bilim insanları, denizanalarının yüzmesine ve yaşamını sürdürmesine engel olmayan bir takip ci-hazı tasarladı. Okyanusların derinliklerine inebilen denizanalarına takılacak bu cihaz aracılığıyla okyanusların derinliklerindeki asit, tuz ve oksijen miktarı ya da sıcaklık düzeyi ölçülebilecek.
- D) Denizli'de bir orman mühendisi tarafından fotoğraflanan ve rindera türünün bir üyesi olduğu düşü-nülen bitki hakkında Ege Üniversitesinde bir makale yazıldı. Makalenin uluslararası düzeyde kabul görmesiyle bitkiye orman mühendisinin soyadından hareketle "cetineri" adı verildi.

3. Aşağıdaki metinlerin hangisinde “sabunun virüsleri nasıl etkisiz hâle getirdiğinden” söz edilmektedir?

- A) Günlük yaşamın en önemli temizlik araçlarından biri olan sabun, virüslerin genetik materyalini koruyan zar tabakasındaki yağ moleküllerini çözer ve zarın yapısı bozulur. Böylece virüsler enfeksiyona yol açabilecek özelliklerini kaybeder ve insan sağlığı üzerinde bir gücü kalmaz.
- B) Virüslere karşı bizi koruyan ve ellerimizin temizliğini sağlayan sabun, bitkisel ve hayvansal yağların tuzlarından elde edilir. İçeriğindeki maddelerin yağ ve kir parçacıklarını sarabilme özelliği sayesinde temizleyici bir etkiye sahip olan sabun, bulaşıcı hastalıkların yayılmasını önler.
- C) Salgın hastalıkların daha sık görüldüğü günümüz dünyasında sabunun önemi bir kez daha gündeme geldi. Uzmanlar, bulaşıcı hastalıklardan korunmanın en temel koşulunun elleri su ve sabunla yıkamak olduğunu dile getiriyor. Zira sabun, virüsleri etkisiz hâle getirebiliyor.
- D) Sabun, sert su ile kullanılınca köpürme özelliğini yitirir. Köpürme özelliğini yitiren sabun ise virüslere karşı etkisiz hâle gelir. Bu nedenle köpürme, sabun kullanımında büyük bir önem taşır. Virüslerden korunabilmek ve ellerin temizliğini sağlamak için sabunun köpürmesine dikkat edilmelidir.

4. Tolstoy'un “İnsan Ne İle Yaşar” adlı kitabında bir çiftçinin hikâyesi anlatılır. Kendi hâlinde bir çiftçi olan Pahom, topraklarının yetersiz olduğunu düşünmektedir. Uzaklarda cömert bir adamın karşılıksız toprak verdiğini duyar. Hemen oraya gider. - - - - Adam, ona güneş batmadan geri dönmek koşuluyla sabah güneşin doğuşundan batışına kadar yürüyeceği bütün toprakları kendisine vereceğini söyler. Pahom, ertesi gün güneşin doğuşuyla yola çıkar. - - - - Gözü doymaz, gördüğü güzel yerlerin tümünü alabilmek için yolu uzattıkça uzatır. Başladığı yere ulaşmak üzereyken hâlsizlikten yere yığılıp ölür. Cömert adam, işçilerine daha önce pek çok kişiye yaptığı gibi hemen oracıkta bir mezar kazdırır ve mezarın başında şöyle der: “ - - - - ”

**Bu metinde boş bırakılan yerlerden birine mantık akışına göre aşağıdakilerden hangisi getirilemez?**

- A) Verimli tarlalardan, bahçelerden geçip saatlerce yürür.
- B) İnsan, her şeyden vazgeçerek hedefine ulaşabilir.
- C) Topraklarının yetersiz olduğunu söyleyip toprak ister.
- D) Bir insana işte sadece bu kadar toprak yeter.

5. Ağaç halkalarına bakılarak yapılan araştırmalar 536-550 yıllarının yeryüzünün en soğuk yılları olduğunu gösterdi. Ağaç halkalarının bu yıllarda daha dar oluşu, mevsimlerin normalden çok daha soğuk geçtiğini ortaya koydu. Söz konusu yılların bu kadar soğuk olmasında ise o yıllarda patlayan iki yanardağın etkisi olduğu anlaşıldı. Şiddetli patlamalar sonucu gökyüzünü kaplayan küller Güneş'ten gelen ışınların etkisini azalttığı için sıcaklıklar düştü. O yıllara dair tarihî belgeler incelendiğinde bu durumun Asya'dan Avrupa'ya büyük kıtlıklara sebep olduğu belirlendi.

**Bu metinde aşağıdakilerden hangisine değinilmemiştir?**

- A) Yeryüzünün en soğuk yıllarının ağaç halkaları ile tespit edildiğine
- B) Yanardağların patlamasının küresel hava sıcaklığını etkilediğine
- C) Güneş ışınlarının etkisinin azalmasının kıtlığa sebep olduğuna
- D) Tarihî belgelerde hava durumuna ilişkin bilgilere yer verildiğine

6. Aşağıdaki metinlerin hangisinde “Sağlıklı bir yaşamın sırrı, doğal gıdalarla beslenmektir.” düşüncesi vurgulanmaktadır?

- A) Obezite, çağımızın en büyük sağlık sorunlarından biri olarak biliniyor. Obezitenin temelinde ise sağlıksız beslenme yatıyor. Hazır gıdaların tüketilmesi ve hareketsiz bir yaşam biçimi, obezitenin ortaya çıkmasında en önemli etkenler olarak görülüyor. Ayrıca obezite, diğer sağlık sorunlarına da kapı aralıyor.
- B) İşlenmiş gıdaların, hazır yiyeceklerin işgal ettiği dünyada sağlıklı bir yaşam sürmek gittikçe zorlaşıyor. Teknolojik araçlar insanları gittikçe tembelleştirip hareketsizliğe mahkûm ediyor. Modern yaşamın kısıkcına düşen insan, şehir hayatının stresiyle sağlığını günden güne kaybediyor.
- C) Günümüzde pek çok insan, kendini spor salonlarına kapatarak sağlıklı yaşayabileceğini düşünüyor. Oysa sağlıklı yaşamak, koşu bandında koşarak değil; orman yolunda ya da sahilde koşarak mümkündür. Doğanın sunduğu temiz hava, kuş sesleri ve görsel şölen içinde spor yapmak; sağlıklı yaşamın formülüdür.
- D) İnsanlar, tarlalarda üretilen ürünleri değil; laboratuvarlarda üretilen ürünleri yemeye başladı. Nitekim sağlığını kaybetti ve sağlığını geri kazanmanın yollarını aradı. Oysa yaşam boyu sağlıklı kalmanın en kestirme yolu, tükettiğimiz gıdaların tamamen doğanın elinden çıkmış olmasıdır.

7. Durum fiilleri, öznenin içinde bulunduğu durumu bildirir ve bir nesne üzerinde etkili olmaz. “Kadın iyice şaşırmişti.” cümlesinde “şaşırmak” fiili durum bildirir ve bir nesne üzerinde etkili değildir.

Buna göre,

Yaşlı adam, postacının uzattığı zarfı aldı. Zarfın içinden çıkan ve üstünde karmaşık yazılar bulunan kâğıda bir süre baktı. Yüzünde bir gülümseme belirirken arkasındaki duvara dayandı. Postacıya bahşiş verdikten sonra onu kapıya kadar uğurladı.

metninde numaralanmış fiillerden hangileri durum bildirmektedir?

- A) I ve II. B) I ve III. C) II ve III. D) II ve IV.

8. Köyün biraz dışında, yıllar önce yapılmış, defalarca el değiştirmiş ve köhnemiş olduğu için ucuz bir bağ evi satın almıştı. Evi yenilemek için epey para harcadı. Astarı yüzünden pahalıya gelmişti ama o köhne bağ evi; sevimli, şirin bir yuvaya dönüşmüştü. Evin bahçesini düzenleyebilmek için köylülere bel bağlamıştı ancak köylüler sürekli ipe un sererek bahçe işinde ona yardım etmediler.

Aşağıdakilerden hangisi bu metinde altı çizili deyimlerden birinin anlamı değildir?

- A) Birini kandırmak amacıyla duygularını, düşüncelerini olduğundan farklı göstermek
- B) Birinin kendisine yardımcı olacağına inanmak, ona güvenmek
- C) Bir şeyin kullanımı veya mülkiyeti bir kimseden başka bir kimseye geçmek
- D) Bir işin ayrıntılarına harcanan para veya emek, elde edilen sonucun değerini aşmak

9. Hikâye edici metinlerde olayların geçtiği çevre ya da mekâna “yer” adı verilir.

**Bu bilgiye göre aşağıdakilerin hangisinde yer unsuru belirgin değildir?**

- A) Yağmur ince ince yağarken koyunlar bayırdan aşağı iniyordu. Elindeki değnekle koyunlara yön vermeye çalışan Çoban Mustafa, telaşlıydı ancak yağmur şiddetini artırmadan köye varabilmenin sevincini duyuyordu içten içe. Önden koşup ağılin kapısını açtı ve koyunları içeri aldı.
- B) Şehrin gürültüsünde, koşuşturmacasında rahat edemem ben, dedi. Şehre gitmek istemediğini ilk kez bu kadar açıkça söylemişti. Aslında hiçbiri gitmek istemiyordu şehre ancak kurak geçen seneler yüzünden ellerinde avuçlarında bir şey kalmamış, üstelik borca girmişlerdi.
- C) Pencereden dışarı bakınca hayatın her şeye rağmen devam ettiğini gördü. Dışarıda onun şu basık ve ilaç kokan hastane odasında haftalardır neler çektiğinden habersiz bir sürü insan, hayatına devam ediyordu. Belki bir zamanlar ona da böyle hastane penceresinden bakmışlardı.
- D) Küçük tencerede kaynayan yemek taşınca ocağın üstü berbat olmuştu. Bunca işin arasında bir de ocağı temizlemek zorunda kalınca bir an sinirlendi fakat sabahtan beri mutfakta oluşunun sebebini hatırlayınca sakinleşti. Bugün çok mutluydu, kızı ve torunları gelecekti.

10. • Tanımlamaya başvurulmuştur.  
• Karşılaştırmaya yer verilmiştir.  
• Benzetmeden yararlanılmıştır.

**Aşağıdaki metinlerden hangisi bu anlatım özelliklerine uygun olarak kurgulanmıştır?**

- A) Bir astronot, koruyucu kıyafeti olmadan uzay boşluğuna çıkarsa kolları ve bacakları donmaya başlar. Bir süre sonra astronotun kolları ve bacakları porselen bir tabak gibi kırılır. Uzaya gönderilecek insan ya da makineler için en önemli şey uzayın soğuk ortamıyla baş edebilmektir.
- B) Ormanlar, ağaçlarla örtülü geniş alanlardır. Amerika kıtasında diğer kıtalardan daha fazla olan bu alanlar, dünyanın akciğeri gibidir zira akciğerlerimiz nasıl oksijen alıp karbondioksit salıyorsa ormanlar da buna benzer bir işlevi yerine getirir. Ayrıca ormanlar tozları süzen bir süzgeçtir.
- C) Kara delik; yakınındaki nesnelere kaçıp kurtulmasına izin vermeyecek kadar yüksek çekim kuvvetine sahip, çok yoğun bir kütle oluşturduğu uzay bölgesidir. Dünya'ya en yakın durumda olan ve daha birkaç ay önce keşfedilen bir kara delik, 1000 ışık yılı uzaklıkta bulunuyor.
- D) Kuşların gözleri bir çeşit yol bulma cihazı gibi çalışıyor. Göç zamanlarında yönlerini bulmak için manyetik alanları takip ettikleri bilinen kuşlar, bu alanları gözlerindeki bir protein sayesinde bulabiliyor. Uzmanlar, bu özelliğin göç etmeyen kuşlarda da bulunduğunu söylüyor.

11. Ezgi, Sezen, Şebnem, Ufuk ve Taner; seçmeli ders olarak bilim uygulamaları ya da zekâ oyunları derslerini seçmişlerdir. Bu kişiler ve seçtikleri dersler ile ilgili bilinenler şunlardır:

- Her bir kişi sadece bir dersi seçmiştir.
- Kişilerden üçünün seçtiği ders, bilim uygulamalarıdır.
- Ezgi ve Ufuk, aynı dersi seçmişlerdir.
- Sezen ve Taner'in seçtikleri dersler farklıdır.

**Buna göre aşağıdaki öğrencilerden hangisi zekâ oyunları dersini seçmiş olamaz?**

A) Ezgi

B) Sezen

C) Şebnem

D) Taner